

北興國民中學一〇三學年度第一學期第二次段考
一、題組(每題兩分，共二十分)

(一)今年上半年最令人感動的國片《KANO》入圍2014年金馬獎六個獎項，其中「不要想著贏，要想不能輸」這句台詞更成為時下的流行語。請問：

1.() 近來，國片蓬勃發展，而政府亦透過設置獎項、提供補助金等方式，鼓勵人民從事此類文化事業的發展。上述政府鼓勵民眾從事某項行為的做法符合哪一個概念？

- (A)內部效益 (B)內部成本
(C)外部效益 (D)外部成本。

2.() 拍電影經常會向店家商借取景，因此使得該店家聲名大噪，顧客絡繹不絕，但卻也產生干擾附近店家生意的負面效果。請問：對附近店家而言，上述效果應指何者？

- (A)內部效益 (B)內部成本
(C)外部效益 (D)外部成本。

3.() 「對於文化產業創作者來說，保護他們的作品免於非法侵害，才能讓他們繼續保有創作的動力。」關於上述說法，應有賴於政府發揮哪一項經濟功能？

- (A)保障私有財產 (B)維持經濟秩序
(C)提供公共財 (D)改善所得分配。

(二)李大仁將過去一年全家所繳交的稅款整理如附表。請問：

所得稅	45,000 元	使用牌照稅	10,000 元
營業稅	20,000 元	地價稅	25,000 元
娛樂稅	5,000 元	房屋稅	15,000 元
關稅	15,000 元	貨物稅	20,000 元
遺產稅	25,000 元	贈與稅	5,000 元

4.() 若以市場上的買賣行為為課稅對象，陳家所繳交的稅款有多少？

- (A) 50,000 元 (B) 55,000 元
(C) 60,000 元 (D) 65,000 元。

5.() 若將表中稅款按課徵的對象來分，財產稅所繳交的稅款有多少？

- (A) 75,000 元 (B) 80,000 元
(C) 90,000 元 (D) 95,000 元。

(三)請在空格內填入適當的代號：

- (A)社會服務 (B)安全衛生
(C)教育文化 (D)經濟建設

6.() 高雄市衛生局印製有關登革熱的宣導海報。

7.() 嘉義縣政府舉辦各種藝文活動，並維護縣內古蹟。

8.() 輔導身心障礙者職業技能訓練，協助其就業

9.() 苗栗縣推動「苗栗縣觀光景點沿線道路環境整頓大執法」計畫，以促進觀光。

10.() 羅東鎮為減少竊盜案的發生，要求轄區員警加強夜間巡邏。

公民科 二年級 班 號 姓名：_____

二、選擇題(每題兩分，共八十分)

11.() 公共財是指可以共享且無法排除他人使用的物品或勞務。請判斷下列哪一項屬於公共財？

- (A)海洋公園 (B)西螺大橋
(C)貓空纜車 (D)台灣高鐵。

12.() 附圖為北興村兩位村民的對話。請問：政府可以發揮何種經濟功能，以解決兩人對話內容中所提及的問題？

- (A)處理外部效果
(B)保障私有財產
(C)提供公共財
(D)維持經濟秩序

如果村裡有路燈，就不怕晚上行動時造成危險了。

問題是大家都不願意花錢裝設。



13.() 社會福利是指政府運用制度化的政策，以滿足民眾生存的基本需求，進而達到全民均富的目標，例如十九世紀末德國創設的社會保險制度，即在保障工人的最低生活水準，促進社會穩定與和諧發展。但部分學者則提出質疑，認為政府以金錢給付的福利服務，形成所謂的「福利貨幣」，亦即在不需付出勞動代價的情形下，民眾仍可獲得酬勞。因此，當福利貨幣擴大時容易產生通貨膨脹，而其縮小時則可能影響經濟生產。上述「福利貨幣」，隱含下列何種經濟學的概念？

- (A)資本 (B)公共財
(C)稀少性 (D)供需均衡。

14.() 附表為我國國道收費表的部分內容，根據此表內容判斷，我國國道收費應是依據下列哪一項原則來收取？

路段	里程數	過路費
基隆-八堵	1.2 公里	1.4 元
基隆-大華系統	4.0 公里	4.7 元
基隆-五堵	5.8 公里	6.8 元

- (A)外部效益 (B)外部成本
(C)受益原則 (D)負擔能力原則。

15.() 關於我國課稅原則的敘述，何者正確？

- (A)所得稅是以受益原則來課稅
(B)累進稅率強調以受益原則來課稅
(C)使用牌照稅是以負擔能力原則來徵稅
(D)所得愈高繳的稅愈多是負擔能力原則

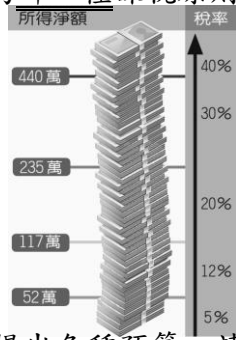
16.() 行政部門提出預算後，應由哪一機關負責審查？哪一機關負責監督各項經費是否確實執行？

- (A)行政機關；立法機關 (B)審計機關；立法機關
(C)立法機關；審計機關
(D)司法機關；監察機關

17.() 我國的所得稅課徵是依據附圖的原則方

式課徵。請問：此為哪一種課稅原則？

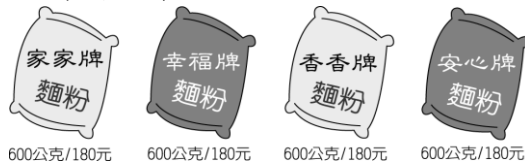
- (A) 受益原則
- (B) 負擔能力原則
- (C) 平均分配原則
- (D) 外部效益原則



18. () 我國是由政府部門提出各種預算，請問下列機關何者不能提出預算？

- (A) 太保市公所 (B) 金門縣政府
- (C) 臺南市政府 (D) 行政院

19. () 麵粉原本 600 克包裝為 35 元，政府接獲消費者反映近兩個月麵粉價格均調漲，因此至各大賣場調查各家廠商麵粉售價的實際狀況（如附圖所示），再決定處置方式。請問：此應為政府所發揮的何項經濟功能？



- (A) 改善所得分配 (B) 保障私有財產
- (C) 處理外部效果 (D) 維持經濟秩序

20. () 附圖中母女兩人談論的內容，應與政府的哪一項收入來源有關？

- (A) 公營事業盈餘收入
- (B) 舉債收入
- (C) 規費
- (D) 租稅



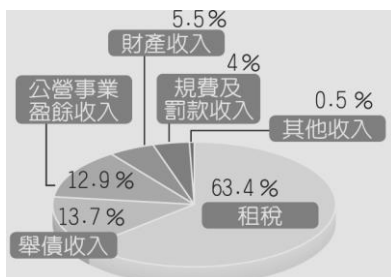
21. () 如下為某一團體在網站上的宣傳資料。請問：此團體代表哪一方面的力量監督政府施政？

『要求公平稅制！拒絕債留子孫！
結合民間力量，以民主為理念基礎』

公平稅改聯盟

- (A) 人民團體 (B) 傳播媒體
- (C) 政治團體 (D) 職業團體

22. () 附圖為中央政府收入比例圖，根據此圖，下列敘述何者正確？



- (A) 政府的負債佔 13.7% (B) 公營事業盈

餘收入所佔比例最高 (C) 財產收入是政府最主要的財政收入 (D) 租稅收入比例為歷年來最高。

23. () 如下為公司四位同事正在閒聊自己的近況。請問：四位同事的情形中，哪一個人的行為可讓國家的「規費」增加？

阿鳳：「我上週儲值了 3000 元高速公路通行費，因為我明天要開車到臺中喝喜酒。」

阿瑄：「昨天我們全家開車上合歡山賞雪，被警察開了一張違規停車的罰單。」

阿建：「我打算租用國有土地，投資民宿的經營」

阿邦：「我為了要辦遺產稅，花兩天找相關文件」

- (A) 阿鳳 (B) 阿瑄 (C) 阿建 (D) 阿邦

24. () 我國中央與地方政府的分權方式，依照我國《憲法》規定採均權制度，也就是以何者為標準來畫分事權？

- (A) 事務所需的經費多寡 (B) 事務的急迫性
- (C) 事務的難易度 (D) 事務的性質

25. () 根據附圖中兩人的對話，應是認同下列何者所產生的作用？

多虧電視臺不斷的追蹤，不然公款就被虧空了。

對啊，幸好有這些新聞工作者替我們監督政府。



- (A) 公益團體 (B) 教育機構
- (C) 傳播媒體 (D) 職業團體

26. () 志中特地向公司請假一天，首先帶大女兒去「施打新生兒疫苗」，接著再去「申辦房屋登記」，回家後發現家中遭小偷，於是他趕緊「報案」。請問：志中應該去哪些機關來完成這些事務？

- (A) 衛生所、地政事務所、派出所
- (B) 衛生所、戶政事務所、派出所
- (C) 社會課、稅捐稽徵處、派出所
- (D) 清潔隊、社會課、地政事務所

27. () 一般而言，地方政府經費來源主要有三個部分，包括地方稅收、中央補助和自行籌措。以下配對何者正確？

- (A) 桃園縣政府徵收房屋稅→中央補助
- (B) 台東縣政府為了要維修橋梁，向交通部申請補助→自行籌措之公共造產
- (C) 高雄市政府舉辦萬年祭→自行籌措之觀光活動
- (D) 嘉義市東區停車場收取的停車費→地方稅收

28. () 思蕙在一個歐洲國家報紙上看到如下這則新聞。請問此一國家在經濟功能上應留意什麼問題？

第 3 頁，共 4 頁

徵收對象	一般民眾	商家
舉例	土地增值稅、娛樂稅	營業稅、貨物稅

- (A)舉例 (B)主管機關
(C)徵收對象 (D)徵收機關。

39.()下列是喬德家的地址，當中屬於我國地方自治團體的部分有哪些？

地址：屏東縣 枋寮鄉 枋寮村 中興路10號
(甲) (乙) (丙) (丁)

- (A)甲乙 (B)乙丙
(C)甲乙丙 (D)甲乙丙丁。

40.()我國全面實施地方自治後，地方首長及民意代表均由人民直選，地方人民也可透過里民大會等途徑表達意見，關心地方事務發展。這是地方自治推展的哪一項成果？
(A)提升國人的就業機會 (B)滿足地方的財政需求 (C)有效推動中央的政務 (D)培養人民參與公共事務。

41.()地方財政的自主性是地方自治的基石，因此在財源籌措上，地方政府應該如何處理才較正確？

- (A)中央畢竟是決策機關，因此財源也需要仰賴中央政府，地方職權小什麼事都不能做
(B)應擺脫依賴中央的心態，除了主動開闢財源外，地方財政的制度化、透明化更是重要
(C)地方財政靠地方自己想辦法，因此可以增訂稅法，以開闢地方財源
(D)地方財政因為所操控的金額很小，因此在運作上不須依法，可以彈性處理。

42.()今年暑假媽媽帶即將就讀國一的小帆從臺北坐火車環島旅行。下列是他們所到的景點，請問：他們所到之處何者屬於同一層級的地方政府？(甲)臺中市—科學博物館(乙)臺南市—赤崁樓(丙)嘉義市—交趾陶館(丁)高雄市—凱旋夜市(戊)宜蘭市—甲子蘭酒文物館

- (A)甲乙丁 (B)甲乙戊
(C)甲丁戊 (D)丙丁戊。

43.()下列哪些為地方自治的選舉？(甲)縣長選舉(乙)鄉民代表選舉(丙)市長選舉(丁)立法委員選舉(戊)市議員選舉
(A)甲乙丙丁 (B)乙丙丁戊
(C)甲乙丙戊 (D)甲乙丁戊。

44.()公民老師讀到一篇報導內容為：「高雄氣爆事件的災情慘重。也引發中央跟地方管線管理權責的爭議……。」此爭議應由哪個單位解決？

- (A)立法院 (B)總統府
(C)行政院 (D)中央地方首長聯合會議

45.()附圖中的電話內容，顯示政府哪一項經

濟功能的發揮？

- (A)提供公共財
(B)維持經濟秩序
(C)保障私有財產
(D)改善所得分配



46.()附圖是淑妮為公民報告所準備的圖片，請問：她報告的主題應與下列何項最相關？

- (A)縣市合併
(B)觀光建設
(C)租稅制度
(D)公共造產



47.()附圖為智賢在部落格新發表的一篇文章，根據內容，他所參加的活動，應屬於地方政府增加經費收入的哪一項來源？

- (A)地方稅收
(B)自行籌措
(C)中央補助
(D)公益捐款。



48.()附圖中，兩人談話中所提及的租稅，應是下列哪一項？

- (A)所得稅 (B)贈與稅
(C)地價稅 (D)營業稅。



49.()誠實納稅是每個國民應盡的義務，下列哪一個人所繳交的稅目屬於地方稅？

- (A) 我有兩棟房子，總共要繳43000元的房屋稅。
(B) 依照收入，我今年的所得稅是15000元。
(C) 生意愈來愈好，因此營業稅比去年多繳了3成。
(D) 我從國外買了一臺音響，付了8000元的關稅。



50.()自民國99年開始，納稅義務人繳納國稅，除採信用卡繳稅外，其餘繳稅方式，均由政府編列經費負擔手續費，民眾免付手續費。請問：下列哪些屬於國稅？

- (甲)遺產稅(乙)地價稅(丙)娛樂稅
(丁)所得稅(戊)關稅
(A)甲丙丁 (B)甲丁戊
(C)甲乙丙 (D)丙丁戊。