

北興國中 103 學年度第一學期第二次段考

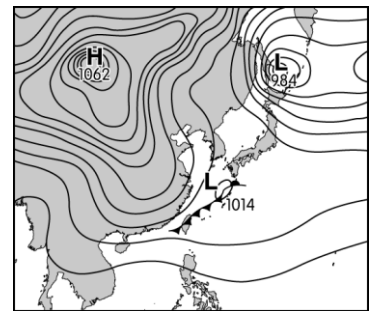
國二地理科試卷

一、 單選題（每題 2 分，共 50 題） \_\_\_\_\_班 \_\_\_\_\_號 姓名 \_\_\_\_\_

- 常見的氣溫統計有均溫 and 溫差兩種，請問「年溫差」是如何求得？  
(A) 3 月均溫 and 9 月均溫的溫差 (B) 一年內測得的最高氣溫 and 最低氣溫的差 (C) 一年內最高日均溫 and 最低日均溫的差 (D) 一年內最高月均溫 and 最低月均溫的差。
- 以下為中國某個被形容為「生命禁區」的地區描述：「天上無飛鳥，地上不長草，風吹石頭跑，氧氣吃不飽，一步三喘氣，六月下大雪，四季穿棉襖。」以上敘述中，影響該地氣候的主要影響因素是：(A) 緯度 (B) 海陸分布 (C) 地形 (D) 距海遠近。
- 下表是中國某都市 1982 ~ 2010 年幼年人口與老年人口分別占總人口比例的變遷。影響該都市 2000 年後老年人口比變遷的原因，與下列哪種現象關係最密切？  
(A) 人口政策強調晚婚與晚育 (B) 人口成長出現少子化現象 (C) 人口素質較低 (D) 鄉村人口大量移入至都市地區。

	1982 年	1990 年	2000 年	2010 年
幼年人口比(%)	18.2	18.2	12.3	8.6
老年人口比(%)	7.4	9.4	11.5	10.1

- 「2005 年 1 月 6 日 0 點 2 分，中國第 13 億個公民在醫院出生，這一天也成為『中國 13 億人口日』。身為世界上人口最多的開發中國家，因此中國人口問題格外受關注。」請問下列四位同學上網搜尋中國人口成長的相關資料，何者正確？  
(A) 小林：中國人口基數大，每年增加人口數量仍然很大 (B) 小周：中國人口呈現零成長 (C) 小潘：中國人口基數大，每年人口減少 (D) 小杰：中國人口成長率逐年增加。
- 「洞庭湖與鄱陽湖是中國著名的淡水湖，可提供農業灌溉、發展養殖漁業及休閒觀光，還具有調節河川水位的功能。」請問：洞庭湖與鄱陽湖可調節下列哪條河川的水位？  
(A) 黃河 (B) 長江 (C) 珠江 (D) 雅魯藏布江。
- 右圖為中國於某個季節的天氣圖，請問：該季節影響中國天氣的主要因素為何？  
(A) 夏威夷高壓 (B) 蒙古高壓 (C) 大陸低壓 (D) 南海低壓。
- 承上題，當時上海地區的天氣具有何種特徵？  
(A) 氣溫驟降 (B) 氣壓先升高再降低 (C) 降水暫歇後，出現溫暖、晴朗的天氣型態 (D) 風力強勁、大雨滂沱。
- 承上題，當時大陸氣象局最『不可能』發布何種天氣預報？  
(A) 塵霾特報 (B) 下雪特報 (C) 颱風特報 (D) 寒流特報。
- 中國實施「一胎化」政策後，對其近代人口結構影響很大，下列統計資料哪些是直接受此政策所影響？(甲) 人口由 12 億減為 10 億 (乙) 出生率由 34 ‰ 降為 17 ‰ (丙) 性別比由 98 : 100 升為 127 : 100 (丁) 人口密度由 58 人 / km<sup>2</sup> 升為 128 人 / km<sup>2</sup> (戊) 死亡率由 20 ‰ 降為 10 ‰。  
(A) (甲)(乙) (B) (乙)(丁) (C) (乙)(丙) (D) (丙)(戊)。
- 下列哪一個最可能為 1980 年至 2010 年中國政府推廣的人口政策口號？  
(A) 兒孫滿堂，幸福天堂 (B) 一個不嫌少，兩個恰恰好 (C) 養兒防老 (D) 關愛女孩就是關注民族的未來。
- 承上題，中國官方提出的文宣，主要是為了解決那一項人口問題？  
(A) 性別比失衡 (B) 人口素質低 (C) 高齡化問題 (D) 盲流。
- 承上題，造成以上人口結構失衡的主因是：  
(A) 鄉村欠缺工作機會，人口大量移出 (B) 出生率過低、嬰兒死亡率上升 (C) 一胎化、重男輕女 (D) 醫療衛生進步，死亡率大降。
- 中國計劃生育政策，還造成社會近年來哪一項變化？  
(A) 全球總人數大量減少 (B) 中國數千萬光棍找不到老婆 (C) 老年人口數量越來越少，造成『家有一老；如有一寶』 (D) 中國適婚女性較男性多，在國內無男可嫁，只好嫁到海外。



14. 對於右圖中甲~丁四條中國河川的敘述，何者正確？

- (A)皆屬於印度洋外流區 (B)『丙河川』流經過季風、乾燥與高地三大氣候區 (C)水源主要來自高山積雪融化(D)流域內湖泊多為「鹹水湖」



15. 中國西部地區的民族，為適應「逐水草而居」的游牧生活，當地居民產生何種傳統居住型態？

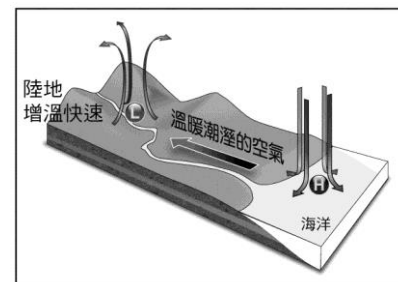
- (A) 高腳屋 (B) 小木屋 (C) 騎樓 (D) 蒙古包。

16. 中國氣候可分為三大類型，其中乾燥和季風兩種氣候的分界線為何？

- (A)最冷月  $18^{\circ}\text{C}$  等溫線 (B)最暖月  $20^{\circ}\text{C}$  等溫線 (C)年雨量 500 mm 等雨量線 (D)3,000 公尺等高線。

17. 右圖為季風亞洲某一季節的季風成因示意圖。由圖中高低氣壓的分布位置，以及季風的吹拂風向研判，此季節最可能為何？

- (A)春季 (B)夏季 (C)秋季 (D)冬季。



18. 遠從中國西南嫁到台灣的小雪，準備為自己新生的女兒準備故鄉的服飾，家鄉的親人也送來象徵富有與避邪的銀飾，請問小雪最可能是哪一族人？

- (A)哈薩克族 (B)苗族 (C)回族 (D)蒙古族。

19. 承上題，小雪嫁到台灣後，認識許多同樣來自中國西南的大陸新娘，雖然他們來自同一個省，卻屬於不同族群，在大陸時從未往來，請問造成小雪與同鄉交流不易的最主要原因是：

- (A)當地地形崎嶇，交通不便(B)當地氣候乾燥，沙漠阻擋(C)當地宗教不同，禁止往來(D)當地氣候嚴寒，地廣人稀。

20. 右圖為中國內陸地區和沿海地區資源與人口間供需關係的示意圖，下列關於該圖的描述何者正確？

- (A)內陸地區糧食產量多(B)沿海地區自然資源產量較小(C)沿海地區環境負載力較高(D)沿海地區資源總消耗量較小



21. 在中國西安城南小雁塔附近，有個武家坡，上有一個破舊的窯洞，據說這裡就是唐朝王寶釧苦等丈夫薛平貴十八年的故事所在地。這裡建有一座祠廟，廟柱上題有一首詞：「十八年古井無波，為從來烈婦貞媛，別開生面；千餘歲寒窯向日，看此處曲江流水，想見冰心。」請問：王寶釧所住的窯洞位於何處？

- (A)雲貴高原 (B)蒙古高原 (C)青藏高原 (D)黃土高原。

22. 承上題，廟柱詞上所提的「曲江流水」，指的是哪條河流？

- (A)黑龍江 (B)黃河 (C)長江 (D)珠江

23. 王寶釧所住的窯洞(右圖)採光雖不佳，但屋子冬暖夏涼且造價便宜，為了避免冬季寒風一直灌入家門內，在鑿洞時，最好連窯洞的方位也考慮在內，請問此處門口應朝向哪個方位，最能避免冬季寒風進入？

- (A)西北方 (B)北方 (C)東北方 (D)東南方



24. 臺灣除了土質不適合外，還包含下列哪項因素，故沒辦法建造窯洞？

- (A)地形崎嶇 (B)降水豐沛 (C)人口稠密 (D)面積狹小

25. 「每年農曆春節前後，中國有數億離鄉工作的人口，往返於家鄉與工作地點間，龐大人潮常造成運輸系統的壅塞，也使得政府運輸部門如臨大敵，此即為『春運現象』。」請問從故鄉新疆到北京上班的大陸民工小紅，最『不』可能選擇下列哪一種交通工具返鄉？

- (A)鐵路運輸 (B)公路運輸 (C)空運運輸 (D)水運運輸

26. 小紅家鄉新疆的「塔里木盆地是乾燥氣候區」，以降水特性而言，上文主要在強調塔里木盆地的哪一項降水特色？

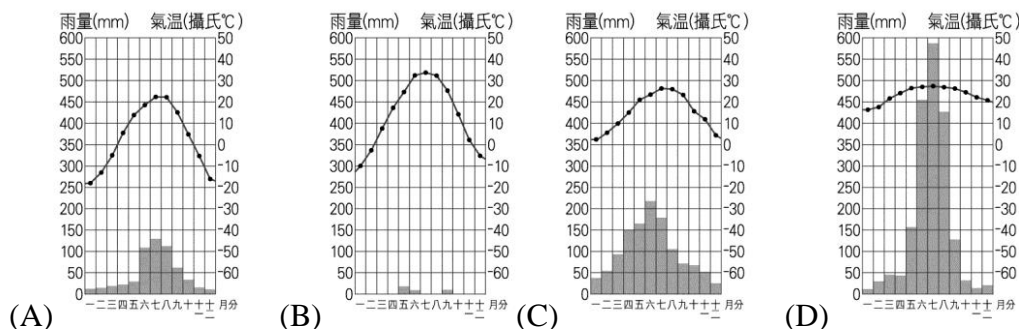
- (A)降水量(B)降水強度(C)降水變率(D)季節分布。

27. 承上題，新疆位於右圖何處？

- (A)甲 (B)乙 (C)丙 (D)丁。



28. 小紅正在繪製新疆的氣候圖。若根據當地的氣候特性，下列何者最可能是她繪製的結果？



29. 塔里木盆地中最大的河川——塔里木河近年來已從逕流量縮減終至逐漸完全枯竭，在不考慮全球暖化影響的前提下，除了流域內居民過度截水取用之外，當地尚有何種導致河川逕流縮減的自然因素？


(A)終年降水大於蒸發 (B)高山降雪量逐年減少 (C)東南季風逐年減弱 (D)東北季風過於強勁。

30. 塔里木盆地大部分地區渺無人煙，部分人口聚居一處形成集村，過去各村落間多以駱駝隊商互通有無。請問此種人口分布型態，與下列何者關係最密切？

(A)交通 (B)地形 (C)治安 (D)水源

31. 右圖為東南亞鄉村傳統的高架式住屋形式。這種建築優點是可以通風、防潮，下層可以圈養家畜。請問：在中國的哪一地區可以見到類似的建築形式？

(A)西北地區 (B)東北平原 (C)華北平原 (D)華南珠江流域。



32. 承上題，此類建築主要分布的地區，具有下列何種氣候特徵？

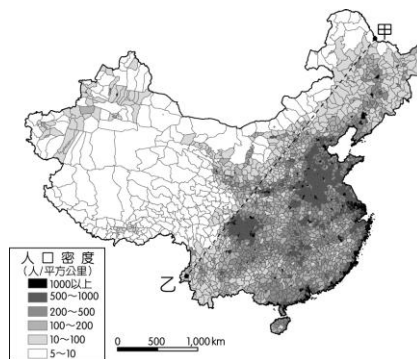
(A)潮溼多雨 (B)溫差大 (C)冬暖夏涼 (D)終年嚴寒。

33. 中國勞動力約是美國、歐盟、日本勞工總和的兩倍，因此中國成為世界工廠。但過去幾年外商開始抱怨勞力短缺、工資上漲過快。請問中國 20 ~ 29 歲的勞動力已由 1990 年的 2.33 億減到 2005 年的 1.65 億。這最主要是因為下列哪種人口現象的影響所致？

(A)人口老化 (B)人口移出 (C)出生率下降 (D)死亡率提高。

34. 右圖為中國人口分布概況，由圖中可知若由甲至乙畫一條直線，則東半部人口較為密集，而西半部則人口稀疏。請問中國東、西兩個區域人口差異性極大的原因，下列何者為「錯誤」？

項目	(A)氣候	(B)地形	(C)區位	(D)產業活動
東半部	季風氣候	平原、盆地、丘陵為主	交通便利	農、牧、工、礦業為主
西半部	乾燥氣候	盆地、高原、山地為主	深居內陸	工、商業發達



35. 中國人數最多的民族是下列何族？

(A)壯族 (B)藏族 (C)蒙古族 (D)漢族。

36. 對於中國『人口高齡化』問題，下列敘述何者『錯誤』？

(A)表示中國 65 歲以上人口大於 7%(B)中國醫療衛生進步也會助長高齡化現象(C)因為老年人口是勞動人口，所以將加重經濟負擔(D)中國需要規劃完整老人福利政策。

37. 下表是中國 1953 ~ 2000 年人口普查的資料。根據下表資料，請判斷下列敘述何者正確？

(A)自然增加率逐年下降 (B)受撫養人口增加 (C)性別比皆大於 100 (D)人口高齡化。

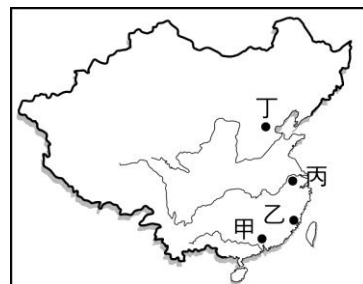
年分	1953 年	1964 年	1982 年	1990 年	2000 年
總人口 (萬人)	59,435	69,458	100,818	113,368	126,583
男性 (萬人)	30,799	35,652	51,944	58,495	65,355
女性 (萬人)	28,636	33,806	48,874	54,873	61,228

※中國西部地區某村民道：「雖是多放羊、多種了地，但是開放前多生了的娃兒，如今年年鬧著分房、分地，大夥還是一個勁地窮。臘月天、新春頭，暖炕的煤球還不行痛快地買，大鍋灶只好挪動牛糞和禾稈對付著，這麼著開春撒田的大肥也就更稀鬆了，土不肥收成就不會好到哪去，如今糧不夠也不作興搞運動，去開那石頭沙子地了，那可是折騰人哪；還有牛羊總不能餓著，屋角的株稈明擺著就是不夠，想捱到草苗透青怕是沒指望了，總不成到時任著羊兒扒雪嚙根？這可是咱們的命根哪！」請回答下列問題：

38. 由文中敘述可知，中國在改革開放前主要的人口問題為下列何者？  
(A)貧富不均 (B)出生率高 (C)死亡率高 (D)人口分布不均。
39. 承上題，中國政府為減緩此人口問題所帶來的衝擊，乃推行下列何種政策？  
(A)西北大開發政策 (B)發動戰爭 (C)一胎化政策 (D)人口城鄉分隔政策。
40. 文中敘述：「……還有牛羊總不能餓著，屋角的株稈明擺著就是不夠……。」可以下列哪一個名詞解釋？ (A)環境負載力 (B)推拉理論 (C)扶養比 (D)性別比。

※右圖為中國四個都市位置圖，請根據右圖回答下列各題：

41. 台商小新於 2001 年計畫到中國發展。因中國有句順口溜：「來到□□才知官小」，因為□□是中國行政中心，中央各級重要長官匯聚於此，小新想說官多，也許生意也多，因而選擇到此設立公司。請問：□□指的是右圖中哪一個都市？



- (A)甲 (B)乙 (C)丙 (D)丁。
42. 小新公司因該地區附近具有豐富且便宜的泡麵原料(中國稱為方便麵)，於是選擇在此區的郊區設立第一家泡麵工廠，逐步將市場擴及全中國，但今年該地區附近降水減少，造成農作收成大減，原物料價格上漲，壓縮台商小新的利潤。請問：此地區具有生產泡麵的哪種重要原料？  
(A)小麥 (B)茶 (C)甘蔗 (D)稻米。
43. 小新公司泡麵銷售量屢創新高，顯示中國產業發展對外資企業具有何種吸引力？  
(A)勞力充足 (B)市場廣大 (C)動力充沛 (D)技術領先。
44. 2014 年小新想繼續擴大事業版圖，適逢 APEC 即將在總公司附近舉辦，因而決定開一家「90℃咖啡」分店，請問：下列哪種景象可能是小新所遇到的問題？  
(A)黃河水源富足，方便使用，沒有缺水問題 (B)沙塵漫天、空氣品質不佳 (C)夏季經常颱風來襲，造成店面受損 (D)因為人口大量外流，生意慘澹。

※右表是中國四個都市氣候資料，請問：

45. 秦嶺、淮河為中國境內重要的地理分界線，素有「南船北馬」及「南稻北麥」的分布特色。請問：秦嶺、淮河分界線大致與下列何者較相符？(A) 七月 0℃、年雨量 500 mm (B) 七月 18℃、年雨量 750 mm (C) 一月 0℃、年雨量 500 mm (D) 一月 0℃、年雨量 750 mm。

都市	七月月均溫(℃)	一月月均溫(℃)	年雨量(mm)
甲	28	6.2	1184
乙	23.9	-12.5	312
丙	28.2	18.3	2130
丁	10.5	-5.3	676

46. 青藏高原的僧侶服飾，夏季午間常將外袍的袖子繫在腰間，袒出右臂或雙臂，如下圖所示。請問：從這種穿著方式，可以反映出當地夏季具有下列哪一項氣候特色？



- (A)雨量稀少 (B)日溫差大 (C)風力強勁 (D)空氣稀薄
47. 承上題，甲~丁四地，何者最可能是位於青藏高原？  
(A)甲 (B)乙 (C)丙 (D)丁
48. 哪一個都市的氣候類型和上海市最接近？  
(A)甲 (B)乙 (C)丙 (D)丁
49. 哪一個都市的緯度最高？  
(A)甲 (B)乙 (C)丙 (D)丁
50. 「丙」為何種氣候類型？(A)高地氣候 (B)溫帶沙漠 (C)溫帶季風 (D)熱帶季風