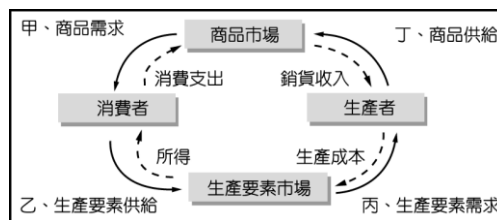


嘉義市立北興國民中學103學年度第一學期第二次段考三年級公民科試卷

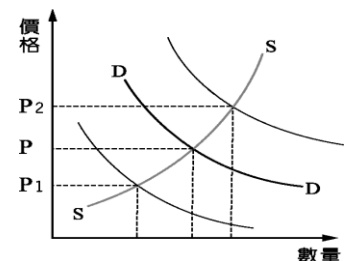
一、單一選擇題（每題2分，共70分）

- ()小玉的公司為了照顧員工，在公司內部設立了員工餐廳、網球場，並定期舉辦員工旅遊活動，讓員工更有向心力。上述作法顯示出這家企業具備哪一項條件？
(A)善盡社會責任 (B)了解市場需求 (C)評估創業風險 (D)進行企業合作。
- ()公民課時，老師請同學上臺介紹父母的工作，曉雄提到：「我爸爸服務的單位負責發行貨幣、管理國內金融機構、並維持物價水準的穩定……。」請問：曉雄的爸爸服務的單位應該是下列何者？
(A)財政部 (B)內政部 (C)臺灣銀行 (D)中央銀行。
- ()每次颱風過境後，蔬菜的價格常會上揚，其原因主要為下列何者？
(A)菜農的生產成本增加 (B)消費者的需求量因颱風侵襲而增加 (C)供給量減少，供不應求 (D)農民的生產意願降低。
- ()小楷和表妹相約去看電影，兩人各自(甲)花費220元。之後他們去逛書店，小楷本來想(乙)以現金300元買該電影原聲帶，表妹則建議他(丙)以刷卡方式購買，既有優惠又可先享受後付款。小楷認為這樣可以(丁)省下一點錢來儲蓄，於是接受了此項建議。依據上述內容，下列關於貨幣功能的對應關係，何者最正確？
(A)(甲)具有交易媒介性質 (B)(乙)屬價值儲存的方式 (C)(丙)可以衡量商品價值 (D)(丁)展現延期償債特性。
- ()某電子科技公司，為了提高產品的品質，不但成立了研發部門，每年還花錢送員工到國外進修，學習新的技術。請問：企業這樣的行為稱為什麼？
(A)創業 (B)生產 (C)投資 (D)選擇。
- ()在自由經濟制度國家中，市場價格通常是由「看不見的手」所影響的，而這裡所謂「看不見的手」，指的是下列何者？(A)經濟專家 (B)政府 (C)市場機能 (D)生產者。
- ()政府制訂《環境教育法》後，規定學生每年都要參加4小時以上環境教育課程。某大學為了因應這項政策，將「環境永續與生活」列為全校學生必修的素養課程。從上述課程的安排可了解現在環境保育的觀念有什麼樣的改變？
(A)由消極的「汙染控制」，朝向積極的「永續利用」發展 (B)從以前到現在一直都是以「永續利用」為主軸 (C)從以前到現在一直都是以「汙染控制」為主軸 (D)由消極的「永續利用」，朝向積極的「汙染控制」發展。
- ()小統食品公司發現在商品製造過程中出現差錯，但問題商品已上架，甚至有些消費者已經買回家使用。請問：當遭消費者投訴後，該企業應該如何應對才算盡到社會責任？
(A)撤下瑕疵商品，賠償消費者損失 (B)息事寧人，先設法降低企業損失 (C)隱瞞事實，將瑕疵品盡快銷售完 (D)不論對錯，均採取法律途徑解決糾紛。
- ()大愛科技公司的產品均為寶特瓶或咖啡渣回收再製的產品，例如：外套、圍巾、保暖帽、兒童衣襪、擦拭巾等數十種產品。請問：當科技公司將這些產品販賣給消費者時，將於下列經濟活動循環簡圖中的哪一環進行？(A)甲 (B)乙 (C)丙 (D)丁。

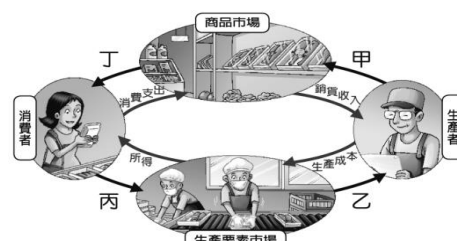
```
graph TD
    A[商品需求] --> B[甲、商品市場]
    B --> C[商品供給]
    C --> D[乙、生產者]
    D --> E[生產成本]
    E --> F[丙、生產要素市場]
    F --> G[生產要素供給]
    G --> H[丁、消費者]
    H --> I[消費支出]
    I --> B
```
- ()當一家企業想要提高員工工作效率時，可以透過工作績效考核的方式，給員工警惕及獎勵，請問這樣的方式是企業在經營時採用什麼原則以達到目的？
(A)良好的管理制度 (B)擴大投資 (C)評估風險 (D)與其他企業結合。
- ()隨著時代的改變，大家出門越來越不喜歡攜帶現金，所以目前使用「信用卡」的人數也日趨增多。針對這樣的現象，下列相關敘述，何者錯誤？
(A)使用信用卡償還債務時，對方不得拒絕 (B)信用卡卡費若未按期繳交，會產生利息 (C)信用卡是屬於「先享受後付款」，所以使用者不可過度消費 (D)並不是所有的交易，都可以使用信用卡交易，商店可以拒收。
- ()有關「貨幣」的敘述，下列何者正確？
(A)貨幣可以改善人民生活，所以政府應該要多印製紙鈔 (B)在貨幣的功能之中，不包括價值衡量的功能 (C)貨幣可以促進交易的便利性 (D)刷卡可以支付商品，所以信用卡也是貨幣的一種。
- ()某食品業者為了擴大營業，並維持品質穩定，除了增加連鎖據點之外，還設置了中央廚房來統一生產產品。請問：老闆投資在中央廚房的設備是屬於下列經濟活動循環簡圖中的哪一環？



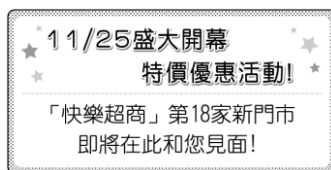
- (A)甲 (B)乙 (C)丙 (D)丁。
14. ()下列有關「經濟活動循環圖」的敘述，何者正確？(甲)生產者的生產成本就是消費者的所得(乙)消費者必須提供生產成本購買商品(丙)消費者的消費支出就是生產者的生產成本(丁)消費者的消費支出就是生產者的銷貨收入 (A)乙丙 (B)丙丁 (C)甲乙 (D)甲丁。
15. ()政府遷台之後的某一天，阿翔在麵店吃了一碗定價 100 元的陽春麵，隔天又到同一家店，卻發現同樣一碗麵，每碗定價已變成 500 元。請問：當時的社會可能正面臨何種經濟問題？
(A)生產過剩 (B)資金短缺 (C)惡性競爭 (D)通貨膨脹。
16. ()小雯很喜歡喝咖啡，所以自己想開一家小咖啡廳，但是爸爸跟他說：「這條街上已經有 5 家咖啡廳，競爭非常激烈，雖然每一家店都推出促銷活動，但客人購買的量畢竟有限，因此幾乎沒有利潤。」請問：爸爸的話顯示咖啡廳在這條街的市場上呈現什麼狀況？
(A)價格居高不下 (B)品質維持穩定 (C)供不應求 (D)供過於求。
17. ()在混合式的經濟制度下，通常有一隻「看不見的手」，在影響商品價格，但是有時另一隻「看得見的手」也會干預商品價格或數量。請問：上述「看不見的手」及「看得見的手」各為何者？
(A)前者為「市場」，後者為「政府」 (B)前者為「政府」，後者為「市場」 (C)前者為「生產者」，後者為「消費者」 (D)前者為「消費者」，後者為「生產者」。
18. ()小朱看到新聞報導：「中央銀行總裁提出警告，應對通貨膨脹風險保持高度警惕……。」請問：中央銀行若是要降低通貨膨脹風險，下列何項政策應該比較有效？
(A)增加新台幣發行量 (B)多開放貸款給企業 (C)強制控制物價 (D)避免過度發行新台幣。
19. ()現代企業依法除了應該保障員工的權益之外，企業對於員工，還需要負哪些社會責任？(甲)提供安全健康、平等的工作環境(乙)幫助員工做教育訓練(丙)協助員工生涯發展(丁)規定嚴格的請假程序
(A)甲乙丙 (B)乙丙丁 (C)甲乙丁 (D)甲丙丁。
20. ()阿宏為了要買喜歡的遊戲軟體，將存了很久的小豬撲滿打破，他將這些銅板算一算總共有兩千多元，於是阿宏拿了一千元的硬幣到店裡付錢，雖然都是零錢，但老闆還是願意收下的主要原因是什麼？
(A)硬幣本身的價值很高 (B)硬幣可以儲存起來變成古董 (C)硬幣設計精美，討人喜愛 (D)硬幣也是法定貨幣，不得拒絕顧客支付。
21. ()附圖是台灣地區豬肉的供給曲線 SS 和需求曲線 DD。近日發生嚴重的油品混油風暴之後，消費者紛紛到市場購買豬油自己炸豬油來食用。根據上述內容判斷，在其他條件不變的情況下，此時豬肉的價格 P 最可能發生何種變化？



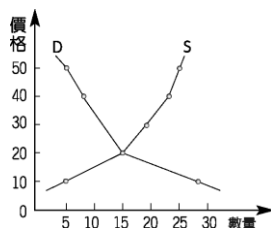
- (A)移往 P_1 方向 (B)移往 P_2 方向 (C)維持在 P (D)無法預測。
22. ()近年來，環保議題日漸受到重視，身為國中生其實也能為地球盡一分心力，下列哪些做法可以達到節能減碳的目的？(甲)不使用電器時，隨手關掉電源開關(乙)多吃國外進口的水果(丙)吃去用餐時，自行攜帶環保餐具(丁)多爬樓梯、少搭電梯(戊)購買包裝精緻的產品。
(A)甲乙丙 (B)乙丙丁 (C)甲丙丁 (D)甲乙丁。
23. ()最近柳丁大豐收，因此今年的柳丁又甜又便宜。阿雲利用假日去探視種柳丁的爺爺，她在街上不會看到下列何種情形？
(A)沿路好多柳丁攤販 (B)果園旁的告示牌寫著「歡迎觀光採果，敬請內洽」 (C)柳丁掉落一地無人採收 (D)到處張貼應徵採柳丁的臨時工人。
24. ()下列哪些工作為中央銀行的職權？(甲)提供民眾存款(乙)發行新臺幣(丙)保管國家黃金(丁)控制商品價格
(A)甲乙 (B)丙丁 (C)甲丁 (D)乙丙。
25. ()小花星期天為了要參加好友的婚禮，到美容院去做了頭髮，請問她到美容院做頭髮的行為，應屬於附圖中的哪一部分？(A)甲 (B)乙 (C)丙 (D)丁。



26. ()在現代的經濟社會，為了讓交易的進行更加便利而發明了貨幣，現代人透過使用貨幣，可以達到一些經濟目的，下列對貨幣功能的敘述，何者是正確的？
 (A)聖文用信用卡刷卡購買鑽戒送給太太伊珊，以延遲付款的時間，這是貨幣價值儲存的功能 (B)百貨公司的液晶電視標價2萬元，這是貨幣作為交易媒介的功能 (C)王媽媽在銀行開立儲蓄帳戶，作為未來養老的基金，這是貨幣價值衡量的功能 (D)小新不小心摔壞妮妮的水壺，小新媽媽以200元賠償妮妮，這是貨幣清償債務的功能。
27. ()許多的婆婆媽媽比較喜歡逛傳統市場的原因，除了菜看起來比較新鮮、有人情味之外，另外還有一個重要因素，就是可以享受殺價與比價的樂趣。由上述可知，傳統市場的商品價格是由誰決定的？
 (A)生產者 (B)消費者 (C)商品數量 (D)市場機能。
28. ()當一個國家在追求經濟的發展之時，常會或多或少的對環境造成一些破壞，尤其是進行工程時若未將生態因素考慮在內，更常造成不必要及無法挽回的傷害。依照上述，當經濟發展與環保議題面臨衝突時，政府與企業應該以下列何者為目標？
 (A)尋找尚未開發的區域來發展經濟活動 (B)取得經濟發展與環境保護之間的平衡 (C)發展經濟能夠改善生活，因此優先考量 (D)完全放棄經濟發展，致力於環保政策。
29. ()生產者將金錢用來購買或改善生產要素的行為，稱之為「投資」，任何投資都需要資金，不論是自有的或向他人借貸的資金，都來自於人們的儲蓄，請問，生產者投資的目的為何？
 (A)提高成本 (B)增進生產 (C)縮小規模 (D)籌措資金
30. ()索隆和喬巴趁著暑假期間，到辛巴威自助旅行，當他們拿了一張面額1000萬元的辛巴威幣想到麵包店購買兩個麵包當午餐時，老闆竟然告訴他們，這些錢是不夠的，可見此時的辛巴威可能正面臨何種經濟問題？
 (A)生產過剩 (B)惡性競爭 (C)通貨膨脹 (D)資金短缺。
31. ()最近又到了許多百貨公司週年慶的時期，許多信用卡業者因此搭配百貨公司，推出各項促銷折扣活動，希望趁這波買氣，鼓勵民眾多刷多買。請問：信用卡是屬於下列何者？
 (A)外匯 (B)塑膠貨幣 (C)法定貨幣 (D)商品貨幣。
32. ()附圖為小華家附近的社區公布欄上所貼出的海報，根據海報內容判斷，該業者的這項投資行為，主要目的應為下列何者？



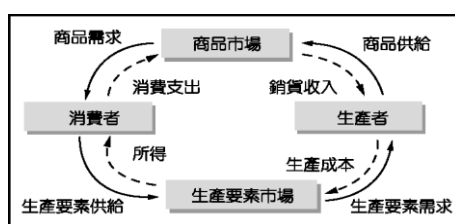
- (A)提高生產利潤 (B)降低生產成本 (C)提升產品品質 (D)縮小營運規模。
33. ()邱小姐所開的餐廳，以食材天然有機作為號召，吸引許多重視養生的消費者，也讓她的生意蒸蒸日上。根據經濟活動循環運作情形，下列敘述何者正確？
 (A)邱小姐是生產要素市場的供給者 (B)用餐的客人是生產要素市場的需求者 (C)邱小姐購買食材所支付的錢稱為銷貨收入 (D)餐廳的客人用餐所付的錢稱為消費支出。
34. ()阿莉和家人利用假日一起到遊樂園去玩，看到門口貼著「遊樂園入園票大優待，一人只要600元。」請問：這則公告的內容顯示出貨幣的哪一項功能？
 (A)交易媒介 (B)價值衡量 (C)債務清償 (D)價值儲存。
35. ()下面是某麵包店所販售的巧克力麵包的供給與需求曲線圖，由下圖來判斷，巧克力麵包的價格定在多少錢時，會最符合市場的需求？



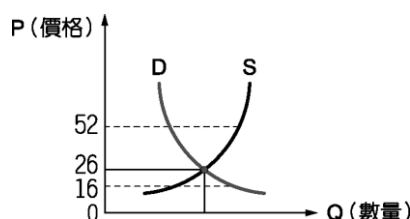
(A)10元 (B)20元 (C)30元 (D)40元。

二、題組（每題2分，共30分）

1. 附圖是經濟活動循環圖，圖中的箭頭代表貨幣與商品和生產要素的流通情形。請問：



- () (36)關於「消費者」在經濟活動循環中扮演的角色，下列敘述何者正確？
 (A)僅扮演需求者的角色 (B)是生產要素市場中的供給者 (C)在生產要素市場中是需求者 (D)生產者支付的生產成本全都是消費者的所得。
- () (37)建安開了一間安親班，對建安而言，聘僱老師的行為，是屬於經濟活動循環圖中的哪一項？
 (A)商品需求 (B)商品供給 (C)生產要素需求 (D)生產要素供給。
- () (38)「104 人力銀行」近年來成為個人求職與廠商徵才的重要管道。請問：這樣的人力銀行在經濟活動循環圖中，扮演何種角色？
 (A)生產者 (B)消費者 (C)生產要素市場 (D)商品市場。
- () (39)剩蚊買禮物送給女友，建安聘請老師的行為，分別必須在什麼地方完成交易？
 (A)人力資源市場、商品市場 (B)生產要素市場、商品市場 (C)商品市場、生產要素市場 (D)國營市場、人力資源市場。
- () (40)消費者做任何的消費行為都必須支付代價，依題意所述，剩蚊購買禮物所付出的代價稱為什麼？
 (A)消費支出 (B)銷貨收入 (C)生產成本 (D)利潤。
2. 附圖是某一地區的果菜市場在自由競爭的情況下，其高麗菜價格的波動與市場的需求量。請問：



- () (41)下列何者最可能是該圖的名稱？
 (A)機會成本圖 (B)比較利益圖 (C)市場供需曲線圖 (D)所得與儲蓄關係圖。
- () (42)附圖中，高麗菜的成交價格為多少元？
 (A)26 (B)80 (C)130 (D)260。
- () (43)如果政府為了某些理由干預高麗菜的價格，將價格定在每顆52 元時，市場上可能會出現什麼狀況？
 (A)供過於求 (B)供不應求 (C)市場均衡 (D)市場失衡。
3. 通貨膨脹有可能對人民生活造成劇烈衝擊，因此各國政府無不儘量避免其所帶來的不利影響。請問：
- () (44)假使通貨膨脹狀況嚴重，對領固定薪水的人來說，有何影響？
 (A)日常開銷減少 (B)儲蓄金額增加 (C)生活水準降低 (D)購買能力增強。
- () (45)為減緩通貨膨脹的發生，有賴於我國哪一個單位在貨幣發行量的控管？
 (A)中央銀行 (B)總統府 (C)財政部 (D)外交部。
4. 大華在外地求學，獨自租屋在學校附近。請參考下列「生活碳足跡」的計算公式，回答問題：
- *食用肉品的 CO₂ 排放量＝公斤數×13
 *製造垃圾的 CO₂ 排放量＝公斤數×2.06
- () (46)大華一個月食用肉品約 5 公斤，其排碳量約為多少？
 (A)5 公斤 (B)65 公斤 (C)39 公斤 (D)10.30 公斤。
- () (47)大華一個月製造垃圾約 10 公斤，其排碳量約為多少？
 (A)12 公斤 (B)10 公斤 (C)13 公斤 (D)20.6 公斤。
- () (48)一棵 30 年樹齡的冷杉樹，一年能吸收 111 公斤的二氧化碳，若要吸收大華一個月食用肉品和製造垃圾所產生的排碳量，至少需要幾棵冷杉樹？
 (A)7 棵 (B)10 棵 (C)13 棵 (D)30 棵。
5. 近來台灣爆發了嚴重的食品風暴，不肖業者以劣質油品充當食用油，販售給不知情的業者做成食品，欺騙食用的消費者。請問：
- () (49)有民眾表示，已經開始對食品上的標籤產生懷疑，不確定上面寫的是否與內容物相符。請問：民眾的反應與業者未盡到何種社會責任有關？
 (A)重視生產過程對環境造成的影響 (B)提供完整且正確的產品資訊 (C)保障員工安全的工作場所 (D)明白揭示消費者售後服務訊息。
- () (50)某家生產食品的廠商在發現其商品中用到了問題油品後，立即發表書面聲明道歉，亦將商品全面下架，負起全部的責任。請問：關於上述，下列說明何者正確？
 (A)為降低生產成本，商家自利立場應放第一 (B)為維持低廉價格，無法保證商品品質 (C)販售商品應以追求經營者最大利益為主 (D)商家在獲取利潤同時，應顧及消費者權益。