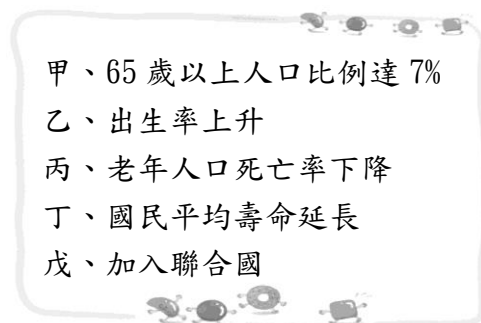


一、選擇題

- () <冰雪奇緣>影片中的麗莎和安娜姊妹倆是屬於何種親屬關係？ (A)姻親 (B)直系血親 (C)旁系血親 (D)法定血親。
- () 縣市政府為了防範家庭暴力的發生，並為受害者提供諮詢和援助，成立婦幼保護專線。此專線號碼為下列何者？ (A)119 (B)117 (C)113 (D)105。
- () 家庭中有工作能力的成員，需要去工作賺錢，以支付家庭開銷，這是家庭中的哪一項功能？ (A)生育 (B)教育 (C)經濟 (D)保護與照顧。
- () 小柯和小琪是一對新婚夫婦，婚後兩人與小柯的姐姐同住。請問：小琪與小柯的姐姐之間的親屬關係，與下列何者相同？ (A)小柯與父母 (B)小柯與姐姐 (C)小柯的姐姐與小琪的弟弟 (D)小琪與公婆。
- () 魯夫的爸爸因工作而住在新竹，魯夫和媽媽則住在嘉義，只有在假日時，魯夫的爸爸才能回嘉義全家團聚。請問：以上是屬於哪一種家庭型態？ (A)兩地家庭 (B)單親家庭 (C)繼親家庭 (D)新移民家庭。
- () 夫妻雙方結婚以後都有工作，但是不想生育孩子，只想過著兩人世界的生活時，會出現下列哪一種家庭型態？ (A)頂客家庭 (B)重組家庭 (C)隔代教養家庭 (D)單身家戶。
- () 課堂上，老師請小玉選出哪個人與自己是「直系血親」的關係，則小玉應該選擇下列何者？ (A)爺爺 (B)伯伯 (C)舅舅 (D)堂哥。
- () 根據主計總處統計，民國 92 年台灣的小學生人數有 191.3 萬人，到了 102 年只剩下 129.7 萬人，短短 10 年就減少了 61 萬名學生。請問：以上所述顯示現代家庭哪一問題的嚴重性？ (A)教育程度下降 (B)家庭經濟困難 (C)家庭衝突增加 (D)少子化現象。
- () 新聞報導：「少女長期受母親言語虐待，母親遭判停止親權。」下列關於「親權」的敘述，何者正確？ (A)此限制主要是根據《刑法》規定 (B)對於配偶間的施暴行為也可以停止親權 (C)需被害人自行提出，才可以停止 (D)父母對於子女的懲戒權也屬於親權的內涵。
- () 「家庭」是由下列哪些關係所構成的？ (A)婚姻、血緣、信仰 (B)婚姻、血緣、結拜 (C)婚姻、血緣、收養 (D)信仰、結拜、收養。
- () 俗話說：「3 歲看大，7 歲看老。」這話有一定的科學道理。萬丈高樓平地起，幼兒時期是身心發展的重要階段，孩子的個性雖屬雛形，但對以後的心理發展卻具有深遠的影響。由此可知，下列何者是塑造個人人格最重要的場所？ (A)醫院 (B)家庭 (C)學校 (D)社區。
- () 小小兵的爸爸帶他參觀故宮博物院「大觀—北宋書畫特展」，除了為他支付入場券費用，還為他導覽解說中國書畫藝術的發展與精髓。小小兵參觀後，大呼過癮，覺得獲益良多，不虛此行。根據上文判

斷，小小兵這一趟參觀故宮，爸爸發揮了家庭的哪些功能？(甲)經濟 (乙)教育 (丙)生育 (丁)宗教
(A)甲乙 (B)乙丁 (C)丙丁 (D)乙丙丁。

- () 附圖中哪些因素會促使一個國家或地區進入「高齡化社會」？ (A)甲乙 (B)乙戊 (C)甲丙丁 (D)乙丙戊。



- () 喜憨兒烘焙屋訓練喜憨兒們烘烤麵包、蛋糕、餅乾的技術，培養他們自力更生的能力與自信，進一步減輕他們家人的負擔。喜憨兒烘焙屋的設立，對喜憨兒們的家庭發揮何種實質助益？ (A)化解家庭衝突，減少家庭暴力 (B)適應變遷後多元的家庭型態 (C)適應現代社會家人互動模式 (D)補強家庭的經濟與照顧功能。
- () 基於家庭倫理及優生學的考量，我國《民法》規定具有近親關係的血親及姻親間不得結婚。根據上述內容判斷，下列何種組合若登記結婚，其婚姻最可能是有效的？ (A)愛美與哥哥的養子 (B)英俊與姑姑的女兒 (C)小華與伯父的兒子 (D)大明與大嫂的妹妹。
- () 隨著社會變遷，家庭的功能也隨之改變，其中家庭的哪項功能和其他社會機構較無法取代的？ (A)生育 (B)經濟 (C)教育 (D)保護與照顧。
- () 附表是快樂大樓的住戶名單，其中哪層樓的住戶屬於折衷家庭？ (A)1 樓 (B)2 樓 (C)3 樓 (D)4 樓。

1 樓	錢小姐、公司同事
2 樓	董先生夫婦與兩個孩子
3 樓	張爺爺、張先生夫婦與張小弟
4 樓	王先生夫婦與王太太弟弟

- () 新聞報導：「南投縣外籍配偶人數已突破 8 千人，為了協助眾多離鄉背井來臺的外籍配偶及早融入臺灣社會，南投家扶中心規畫生活適應輔導班。」上述報導凸顯出下列何種社會現象？ (A)離婚比例逐年上升 (B)外出工作人數增加 (C)跨國婚姻現象頻繁 (D)生育子女人數減少。
- () 家庭暴力受害者可以向下列哪些單位求助？ (甲)法院 (乙)縣市家庭暴力暨性侵害防治中心 (丙)婦幼保護專線(丁)環保局 (A)甲乙 (B)乙丙(C)乙丙丁 (D)甲乙丙。

20. () 到外地工作的小辣椒在假日回家時，發現兒子說話愈來愈大沒小，但是祖母認為孩子還小，不用在意。請問：造成此婆媳爭執的主因為何？ (A)學校教育問題 (B)人口老化問題 (C)隔代教養問題 (D)人口就業問題。
21. () 根據我國法律規定，姻親分為三類，其中若以女婿的角度來看岳父母，則岳父母對這位女婿而言，是屬於哪一類的姻親？ (A)配偶的血親 (B)血親的配偶 (C) 配偶的血親的配偶 (D)以上皆非。
22. () 喬琪和喬恩姐妹倆長期受到父親阿標凌虐，以下哪一個機關可以運用公權力停止父親的親權？ (A)警察局 (B)社會局 (C)家庭暴力暨性侵害防治中心 (D)地方法院。
23. () 小家庭已成為現代普遍的家庭型態，因應高齡化社會的來臨，對於老人居住的安排，近年來頗推荐老人家與子女「隔鄰而居」的模式，住同一棟建築的不同樓層，或者是同一社區裡。這種新興的家庭型態，稱為下列何者？ (A)三代同鄰 (B)三代同堂 (C)聯合家庭 (D)兩地家庭。
24. () 以下是智雄和爸爸的對話——
智雄：「爸爸，同學都用新款的智慧型手機，既可拍照，又可以上網，我也要。」
爸爸：「一支手機不便宜，能夠通話就好，你知不知道父母工作賺錢有多辛苦？」
上述對話顯示哪一種類型的家庭衝突？ (A)家務分工 (B)生活習慣 (C)性別差異 (D)經濟事務。
25. () 四名同學課餘討論我國社會「家庭暴力」問題，下列何者說法正確？ (A)甲：「被害人依法可向地方法院聲請保護令。」 (B)乙：「家醜不可外揚，忍一時風平浪靜。」 (C)丙：「不會發生在高級知識分子家裡。」 (D)丁：「家暴僅指肉體及生理上受到傷害。」
26. () 民國 100 年，台灣的生育率為 1.07 人，較世界平均的 2.6 人低，此一現象所造成的影響不包含下列何者？ (A)勞動人口比例下降 (B)幼年人口比例減少 (C)年輕人扶養老人的負擔增加 (D)隔代教養家庭增加。

二、題組

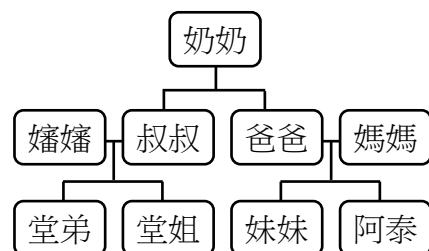
1. 附圖是一篇文章的部分內容。請根據內容，回答下列問題：

臺灣人晚婚與不婚的比例愈來愈高，連離婚率也不斷攀升。上述現象可能是由於社會價值觀念的轉變所造成，也凸顯目前臺灣大部分的婦女已能經濟獨立，並對自己的未來有較多的選擇權，不必迫於「現實」，在可能不幸福的婚姻中忍耐求生。

- () 27. 根據上述內容判斷，離婚率不斷攀升，最可能使何種家庭型態的數量增加？ (A)大家庭 (B)單親家庭 (C)雙薪家庭 (D)新移民家庭。
- () 28. 當夫妻離婚時，彼此之間的何種親屬關係隨即消失？ (A)姻親 (B)配偶 (C)法定血親 (D)旁系血親。
- () 29. 若女方帶著孩子與他人再婚，其所組成的家庭型態，稱為下列何者？ (A)單親家庭 (B)頂客家庭

(C)重組家庭 (D)隔代教養家庭。

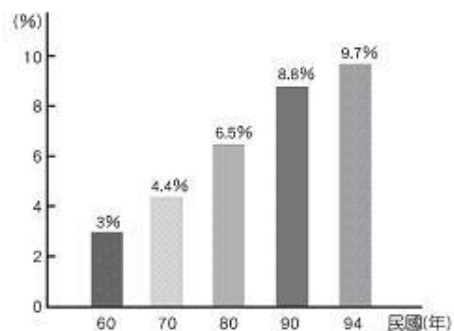
2. 小丸子是國中一年級的學生，每天放學後，只見其他同學們匆匆忙忙地到補習班報到。但是，小丸子覺得下課後，是她最幸福的時候了，因為爺爺奶奶與小丸子同住在一起。在父母下班前，奶奶總會準備可口的小點心給小丸子吃。等到七點鐘父母下班，五個人再一起享受甜蜜的晚餐。請回答下列問題：
- () 30. 小丸子的家庭型態屬於下列何者？ (A)大家庭 (B)小家庭 (C)折衷家庭 (D)單親家庭。
- () 31. 祖父母在小丸子雙親下班前負起照顧小丸子的責任，這是發揮家庭的哪一功能？ (A)生育 (B)教育 (C)經濟 (D)保護與照顧。
- () 32. 小丸子父親常會利用全家人看電視的機會，向小丸子說明最近社會發生的問題，藉此溝通彼此觀念，這是充分發揮家庭中的何種功能？ (A)生育 (B)教育 (C)經濟 (D)保護與照顧。
- () 33. 小丸子的父母都是上班族，這是發揮了家庭的哪一種功能？ (A)生育 (B)教育 (C)經濟 (D)保護與照顧。
3. 宋家三姐妹宋藹齡、宋慶齡、宋美齡，對中國現代史的影響深遠。她們的父親宋耀如是孫中山的摯友，大姐宋藹齡嫁給地方望族——當時中國第一大銀行家孔祥熙，二姐宋慶齡嫁給孫中山，小妹宋美齡則嫁給蔣中正。然而，蔣經國是蔣中正和其元配毛夫人所生。請回答下列問題：
- () 34. 根據上述，孫中山和蔣中正是何種親屬關係？ (A)姑嫂 (B)甥舅 (C)妯娌 (D)連襟。
- () 35. 對宋慶齡而言，蔣中正與她的親屬關係屬於下列何者？ (A)血親的配偶 (B)旁系血親 (C)血親的配偶的血親 (D)配偶的血親的配偶。
- () 36. 根據我國《民法》規定，宋藹齡和蔣經國在法律上屬於何種親屬關係？ (A)擬制血親 (B)直系姻親 (C)旁系姻親 (D)沒有親屬關係。
4. 附圖為阿泰的家族樹狀圖，呈現其家庭成員間的關係。請根據圖中資料，回答下列問題：



- () 37. 阿泰和奶奶之間，屬於哪一類的親屬關係？ (甲)旁系血親 (乙)直系血親 (丙)法定血親 (丁)自然血親 (A)甲乙 (B)甲丁 (C)乙丙 (D)乙丁。
- () 38. 阿泰和堂姐、堂弟之間，是屬於哪一類的親屬關係？ (甲)旁系血親 (乙)直系血親 (丙)法定血親 (丁)自然血親 (A)甲乙 (B)甲丁 (C)乙丙 (D)乙丁。
- () 39. 媽媽和嬸嬸之間，是屬於哪一種姻親關係？ (A)旁系血親 (B)血親的配偶 (C)配偶的血親 (D)配偶血親的配偶。
5. 兒福聯盟表示高風險家庭救援服務的需求正在快速成長，其特性通常是家庭中的家長面對經濟困頓、卡債、失業、自身情感問題或是健康狀況不佳，而將壓力發洩在孩子身上，造成孩子身心受創，或是疏忽教育，讓孩子無法在健全的家庭中成長。請回答下列問題：

- () 40. 上述高風險家庭中將壓力發洩在孩子身上，造成孩子身心受創，顯示何種家庭功能未能發揮？ (A)生育 (B)經濟 (C)教育 (D)保護與照顧。
- () 41. 上述高風險家庭中的家長因經濟困頓、卡債、失業等因素，無法讓孩子在健全的家庭中成長，顯示何種家庭功能未能發揮？ (A)生育 (B)經濟 (C)教育 (D)保護與照顧。
- () 42. 隨著家庭結構的變遷，帶來了各種家庭問題，下列因應措施何者正確？ (A)家人間互相關懷照顧 (B)全由學校老師輔導 (C)都由社會福利機構處理 (D)訴諸法律，對簿公堂。
- () 49. 根據上文判斷，家庭衝突的主要原因為何？ (A)家務分工的衝突 (B)經濟的衝突 (C)生活習慣的衝突 (D)價值觀的衝突。
- () 50. 針對高齡化社會的來臨，政府應該制定何種政策因應？ (A)鼓勵生育 (B)老人福利 (C)就業輔導 (D)家庭教育。

6. 附圖為臺灣老年(65 歲以上)人口比例，請回答下列問題：



- () 43. 臺灣老年人口有逐漸增加的趨勢，民國六十年代 65 歲以上的老年人口比率為 3%，至民國九十年代已增加為 8.8%，這顯示臺灣早已經邁入下列何種社會？ (A)現代化社會 (B)數字化社會 (C)高齡化社會 (D)制度化社會。
- () 44. 承上題，依據聯合國世界衛生組織的定義，該社會的老年人口占總人口數的比例至少應為多少以上？ (A)5% (B)7% (C)10% (D)14%。

7. 志雄自從上了國中後，(甲)時常為了零用錢的事和爸媽鬧得很不愉快，父母一再責怪他亂花錢。某天，爸媽之間也(乙)為了誰該下廚吵了起來，令在一旁的志雄不知如何是好，只好打電話向住在鄰近的外祖父母求救。請回答下列問題：

- () 45. 上述「甲」是屬於家庭中常見的何種衝突？ (A)升學方面 (B)經濟事務 (C)交友方面 (D)家務分工。
- () 46. 會發生「乙」是因為雙方對哪方面意見不同？ (A)經濟事務 (B)家務分工 (C)教育方式 (D)生活習慣。
- () 47. 志雄求救的對象與他的親屬關係為何？ (A)姻親 (B)旁系血親 (C)直系血親 (D)血親的配偶。

8. 隨著景氣不佳，失業率攀升，生活壓力加大，除了離婚率逐漸上升外，也造成許多家庭的人倫悲劇。例如：一對感情失和的夫妻，因為收入不穩定發生爭執，丈夫在一氣之下，將小孩丟到滾沸的熱水中；一位老奶奶將全部家產留給兒子後遭到遺棄，親生女兒則以未分到家產為由，不肯照顧年邁的母親。根據上述短文內容，回答下列問題：

- () 48. 上文這位爸爸對待孩子的方式，觸及了什麼法律？ (A)《性侵害犯罪防治法》 (B)《家庭暴力防治法》 (C)《性別工作平等法》 (D)《性騷擾防治法》。