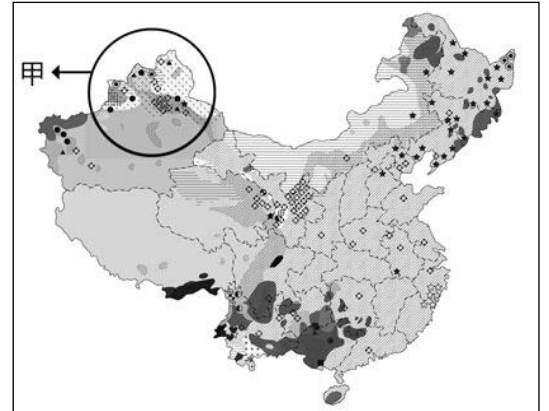


嘉義市立北興國民中學 104 學年度第一學期第二次段考二年級地理科題目卷

一、單選題 (五十題，共 100 分)

- 下列何者為中國少數民族族系分布最多的地區？ (A)東北平原 (B)雲貴高原 (C)黃土高原 (D)長江三角洲平原。
- 跟文盲比例為 0% 的日本比起來，印度國內的文盲比例占總人口的 25%，約 2 億多人，中國也不遑多讓，以 5 千多萬屈居亞軍寶座。請問：如果想要降低中國的文盲人口比例，提高人民的識字率，政府採取下列哪項方法較有效？ (A)經濟 (B)交通 (C)環境 (D)教育。
- 環境負載力是指一地能提供多少資源和容受污染物的能力。請問：下列何處的環境負載力較低？ (A)四川盆地 (B)華北平原 (C)青藏高原 (D)東南丘陵。
- 下列關於中國行政區與主要民族的搭配，何者正確？
(A)廣西——回族 (B)西藏——滿族 (C)寧夏——藏族 (D)新疆——維吾爾族。
- 右圖為中國民族分布圖，每一圖例代表一種民族。下列何者是造成圖中西半部甲地族群複雜的主要原因？ (A)地形 (B)氣候 (C)產業 (D)位置。
- 每逢春節前後，中國大都市的車站、碼頭便擠滿返鄉的人潮，返鄉困難，衝擊交通和城市，形成「春運現象」。此種人口流動的現象，和下列何者關係最密切？
(A)經濟的發展 (B)地形的複雜 (C)氣候的變遷 (D)民族的多元。
- 中國境內北方的少數民族多以游牧為主要生活方式，這主要是受到下列哪一項因素的影響？
(A)土壤特性 (B)氣溫高低 (C)降雨多寡 (D)地形起伏。
- 秦嶺、淮河是中國重要的地理分界，下列何者「並非」其所代表的界線？
(A)南稻北麥 (B)南船北馬 (C)500 毫米等雨量線 (D)一月 0°C 等溫線。
- 中國人口眾多，造成糧食不足、就業機會少等問題，但人多也會帶來一些優點。
(甲)人力素質高 (乙)廉價的勞工 (丙)廣大的市場 (丁)民主的政治
以上哪些是中國吸引跨國企業投資設廠的原因？(A)甲乙 (B)乙丙 (C)丙丁 (D)甲丁。
- 中國古裝電視劇《蘭陵王》因收視率攀高，預計趁勝追擊於北京拍攝續集，請問：若劇組選擇在冬春兩季進行拍攝，應嚴防北京地區何種季風所帶來的強風與沙塵暴威脅？
(A)西北風 (B)西南風 (C)東北風 (D)東南風。
- 中國西半部人口稀疏，造成此現象的原因「不」包括下列何者？
(A)氣候乾燥 (B)地勢高聳 (C)交通不便 (D)資源缺乏。
- 人口分布點圖可了解一地區人口空間分布的情形。請問：在繪製中國人口分布點圖時，下列哪個地形區的點會最為密集？(A)準噶爾盆地 (B)內蒙古高原 (C)東北平原 (D)珠江三角洲。
- 高齡化社會通常出現在經濟發展程度高的國家，如日本、瑞典。但中國在西元 2000 年時經濟正在發展，卻已達到高齡化社會的標準，其成因與下列何者最有關係？(A)經濟成長率高速增加 (B)勞動人口大量流入鄰近國家 (C)社會資源多偏向老人福利 (D)實行嚴厲的計畫生育政策。
- 中國的鄉村人口大量移往沿海地區，人數多到足以造成都市問題。此一現象的發生，主要是因為沿海都市具有何種優勢？(A)交通便利 (B)地形平坦 (C)氣候溫暖 (D)經濟發達。
- 中國人口分布不均，影響中國人口分布最主要的自然因素是下列何者？
(A)氣候、土壤 (B)地形、土壤 (C)水文、土壤 (D)地形、氣候。



※ 計劃生育是中華人民共和國的人口控制政策。現行計劃生育政策以控制中國人口數量為目的，提倡晚婚晚育，限制生育。2015 年以前，中國大陸計劃生育以獨生子女政策為基礎，農村夫妻只有一個女孩、夫妻雙方至少一方為獨生子女、自治區和一些省的少數民族（壯族除外）等幾種情況可以生育兩個子女。新疆少數民族農牧民、青海少數民族牧民可以生育三個子女。西藏自治區對藏族（幹部除外）實行自願計劃生育政策，提倡已有三個孩子的夫婦不再生育。

近年來，中國人口的結構問題凸顯，總和生育率接近世界最低水平。計劃生育的目標和理論依據都受到質疑。中共因而在中共中央十八屆五中全會宣布全面二胎化，在中國大陸實行 35 年多的一胎化正式走入歷史。

16. 根據文中內容，中國政府為了推動此政策，在許多地方設置標語口號，不論是城市的高速公路邊、縣鎮的護欄電杆上、鄉村的頹牆矮壩旁，醒目的大字讓人印象深刻。「寧添十座墳，不添一個人」、「少生孩子多種樹，少生孩子多養豬」、「該紮不紮，見了就抓」等標語，請問此政策是為了改善中國哪一項人口問題？(A)人口總數過多 (B)人口性別比失衡 (C)人口素質偏低 (D)人口高齡化。
17. 中國過去施行一胎化政策。然而實施後該國總人口增加數仍高，最主要的原因為何？(A)人口數多 (B)經濟發展 (C)國外移民 (D)糧食充足。
18. 十一月十一日「光棍節」的宅經濟繳出驚人成績，每年「光棍節」的網路消費總創新高，不少人認為此本是單身的傷感，但卻成為以單身之名推動瘋狂購物的特別日子，乾脆可以改成「淘寶節」了。針對此現象，地理老師要同學上台發展看法，請問下列何人的看法有誤？(A)小育：中國的消費力仍成長中 (B)小霖：與中國人口性別比有關 (C)小宸：此受中國推動的計畫生育政策極大 (D)小珩：造成城鄉人口流動加劇。
19. 周家為世居江蘇的大家族，人口眾多，為四代同堂的大家庭。輩分最小的小慈發現她的曾祖父母共有十個兄妹，祖父母那一代也有四個兄弟姊妹，但小慈的父母皆為獨生子女，小慈自己更是這一代唯一的小孩。上述現象將形成下列何種人口問題？(A)扶養比提高、負擔漸重 (B)性別比不均、重男輕女 (C)人口素質降低、結構不佳 (D)幼年人口增加、勞力不足。
20. 中國國家衛生計生委新聞發言人、宣傳司司長毛群安(2013 年)11 月 11 日表示，40 多年來，中國由於計劃生育累計少生了 4 億多人，計劃生育使中國人口的過快增長得到有效控制。請問該計畫生育對中國造成許多影響，但不包含下列何項？(A)老年人口比例上升 (B)添增不少黑戶人口 (C)人口素質偏低 (D)「小皇帝」的出現。

※ 中國面積廣大，形成多樣性的氣候分布特色。附圖為中國境內某六個城市的氣候分布圖，請問：

21. 哈爾濱因冬季嚴寒漫長，夏季涼爽短促，而有「冰城」之稱，由此氣候特徵可以判別如附圖中何處？

(A)丙 (B)丁 (C)戊 (D)己。

22. 緯度也是影響中國氣候的重要因素，若以位置判斷，附圖中何者距離赤道最近？(A)甲 (B)丙 (C)丁 (D)戊。

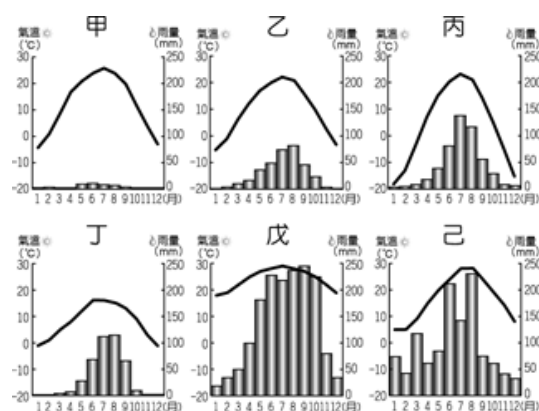
23. 附圖中何處氣候乾燥，可以看到駱駝在沙漠中的景觀？

(A)甲 (B)乙 (C)丙 (D)丁。

24. 從上列四個地區的氣候分布圖判斷，哪一個地區的緯度可能最高？

(A)甲 (B)乙 (C)丙 (D)丁

25. 影響中國氣候的因素包含了緯度位置、距海遠近及地形起伏等。請問：附圖中何者受到地形起伏的影響最大？(A)甲 (B)乙 (C)丙 (D)丁。



※ 附圖為中國某季節的氣壓與季風風向圖。請問：

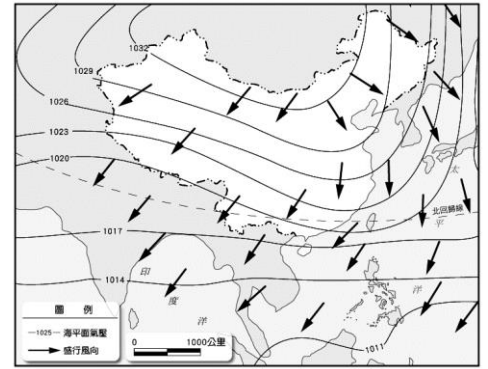
26. 圖中圓滑曲線上的數值，其單位應為何？

- (A)°C (B)mm (C)hpa (D)公尺/秒。

27. 由圖中的風向判斷，此時最可能是哪個季節？

- (A)春季 (B)夏季 (C)秋季 (D)冬季。

28. 圖中箭頭方向是由陸地往海洋前進，主要是受哪個因素的影響？(A)地形 (B)氣壓 (C)雨量 (D)緯度。



※ 附圖為中國內、外流區分布圖。請問：

29. 關於上圖中甲、乙、丙、丁的配對何者正確？

- (A)甲－內流區 (B)乙－北極海外流區 (C)丙－印度洋內流區 (D)丁－太平洋外流區。

30. 中國內、外流河的分布地區受到下列哪一個因素的影響最大？(A)緯度高低 (B)植被類型 (C)地勢高低 (D)氣候類型。

31. 中國南部區域河川流量穩定，如位於華南地區的珠江，是中國四大河川中，水位變化最小的河川。造成這種現象的主因為何？(A)支流多 (B)融雪的供應 (C)雨季長雨量豐 (D)蒸發量少。

32. 丁區面積廣大和下列何者關係最密切？

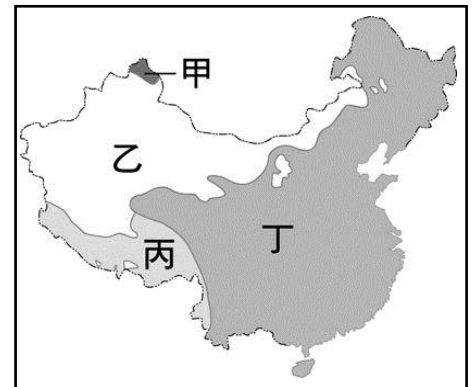
- (A)氣壓高低 (B)水源多寡 (C)緯度高低 (D)地勢高低。

33. 中國湖泊可分為淡水湖及鹹水湖兩大類，其中鹹水湖主要分布於圖中何處？(A)甲 (B)乙 (C)丙 (D)丁。

34. 哪個區域的降雨來源深受印度洋西南季風的影響？(A)甲 (B)乙 (C)丙 (D)丁。

35. 哪個區域河川的水源主要來自高山融化的雪水？(A)甲 (B)乙 (C)丙 (D)丁。

36. 根據上圖中的位置分布特色判斷，「甲」水文區的河川多流入哪一個海洋為主？(A)太平洋 (B)印度洋 (C)北極海 (D)大西洋。



※ 中國的氣候類型多元複雜，並且影響中國各地人文產業的活動。附圖為中國氣候類型分布圖，請問：

37. 中國的疆域面積相當廣大，因此各地區的氣候亦不相同，主要形成季風、乾燥、高地等三種氣候類型。請問：其主要分類條件中，不包括下列何者？(A)降雨多寡 (B)氣溫高低 (C)地形高度 (D)面積大小。

38. 影響中國氣候的因素有：(甲)緯度 (乙)太陽輻射 (丙)季風 (丁)地形 (戊)距海遠近。右圖中，乙區為乾燥氣候，年雨量稀少。請問：造成乙區年雨量稀少的因素有哪些？

- (A)甲乙丙 (B)乙丙丁 (C)丙丁戊 (D)甲丁戊。

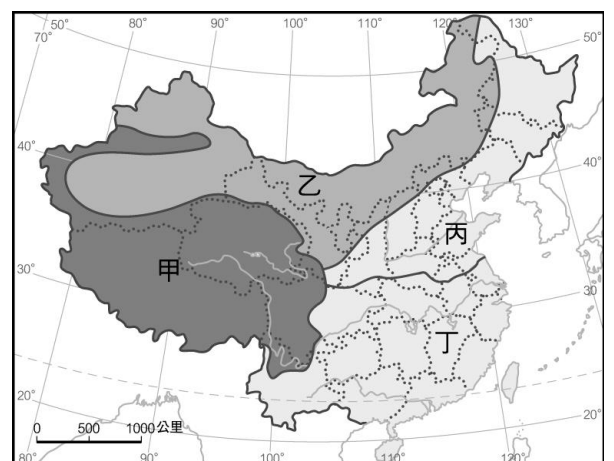
39. 有關甲區的氣候特徵，下列何者正確？

- (A)氣候溫和濕潤 (B)氣壓垂直分布 (C)年日溫差均大 (D)受太平洋季風影響。

40. 丙區為何種氣候類型？(A)溫帶草原 (B)溫帶沙漠 (C)溫帶季風 (D)副熱帶季風。

41. 丙區和丁區的分界最有可能是下列哪座山脈為分界？

- (A)巫山 (B)秦嶺 (C)太行山 (D)大興安嶺。



42. 承上題，以此山脈為分界的原因為何？

- (A)年雨量 250 mm (B)年雨量 500 mm (C)最冷月均溫 18°C (D)最冷月均溫 0°C。

43. 乙區和丙區的分界最有可能是以下何者？

- (A)年雨量 750 mm (B)年雨量 500 mm (C)年雨量 250 mm (D)最冷月均溫 0°C。

44. 附表是中國境內某四個城市的氣候資料。請問哪一個城市是位於圖中的甲區？

	一月均溫 (°C)	七月均溫 (°C)	年降水量 (mm)
A	-18	22	518
B	-12	14	720
C	19	30	1689
D	4	28	1110



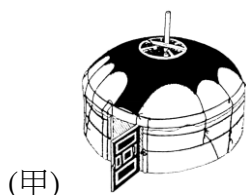
45. 青藏高原的年溫差小，但日溫差大，形成此種氣候特徵的主要原因為何？

- (A)季風影響 (B)位居內陸 (C)氣候乾燥 (D)地勢高聳。

46. 小花利用數據資料，將某地區分成沙漠及草原兩種氣候類型。下列何者最可能是她分類的依據？

- (A)地形高度 (B)年降水量 (C)最冷月月均溫 (D)盛行風向。

※ 下列各圖是中國具有地方特色的建築形式。請問：



47. 建築型式多半因地制宜，受當地自然環境影響有所不同，請問乙丙兩種建築型式所在的氣候類型有何共同特色？(A)乾燥少雨 (B)氣候乾冷 (C)高溫多雨 (D)日溫差大。

48. 中國有句諺語：「人家半鑿山腰住，車馬多從頭頂過。」用以形容丁建築的生活景觀，當地居民就地取材，形成一種特別的居住特色。請問：丁建築分布在中國哪個地區？

- (A)黃土高原 (B)內蒙古高原 (C)雲貴高原 (D)青藏高原。

49. 甲建築為便於拆卸、攜帶的住屋。請問：甲建築出現在中國哪一種氣候區？

- (A)高地氣候 (B)溫帶季風 (C)副熱帶季風 (D)溫帶沙漠。

50. 中國傳統建築有「坐北朝南」的習慣，這種現象最主要是為適應下列哪項自然環境因素？

- (A)避開寒冷強風 (B)避開強烈日照 (C)避開夏季暴雨 (D)避開東北方颱風。