

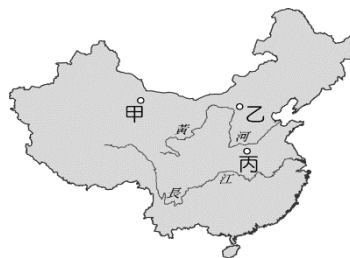
〈試題卷〉

一、選擇題（一題 2 分，共 100 分）

1. ( ) 魏晉以來，政治舞台長期被世族所佔據，並世代壟斷官職，直到哪一制度實施，世族逐漸沒落，平民才獲入仕機會？(A)九品官人法 (B)察舉制度 (C)書院制度 (D)科舉制度。
2. ( ) 老師要同學報告三國史事，下列哪一個同學的報告有誤？(A)阿寶：蜀漢最早被滅亡 (B)阿甘：曹魏建國者為曹操 (C)阿達：曹魏被司馬炎所滅 (D)阿肥：孫吳最後被滅。
3. ( ) 中國歷史上有位皇帝篤信佛教，曾三次捨身同泰寺，出家為僧，並於全國各地廣建佛寺。請問：這位皇帝為下列何人？(A)北魏道武帝 (B)南朝梁武帝 (C)漢武帝 (D)周武王。
4. ( ) 西元八世紀中期，唐朝發生了一件「亂事」，由於兩大忠臣張巡、許遠死守睢陽城，使得富庶的江淮地區得以保全，但唐朝國勢卻也由盛轉衰。請問此「亂事」所指為何？(A)黃巾之亂 (B)黃巢之亂 (C)八王之亂 (D)安史之亂。
5. ( ) 大仁寒假時隨著父母至日本的平安京旅遊，據導遊的介紹得知，原來平安京是仿照中國隋朝長安城所興建的一座城市。以下有關「長安城」的敘述何者正確？(A)長安城具有坊市分離的特色，「坊」指的是商業區，「市」指的是住宅區 (B)長安城是隋文帝為了方便征伐高麗而興建的 (C)坊門無固定的開關時間，夜市非常熱鬧 (D)長安城為一棋盤式的建築，規劃方正。
6. ( ) 唐太宗是中國歷史上著名的君主，被當時的西北部族尊為「天可汗」。請問：唐太宗是因下列哪一項政績而得到「天可汗」的尊號？(A)降服邊疆強敵 (B)加強東西文化交流 (C)促進胡漢融合 (D)掌握海上霸權。
7. ( ) 隋代開鑿運河從北方的涿郡到達南方的餘杭，成為很重要的水運大動脈，甚至對中國以後的歷史也產生深遠的影響。請問：附圖（一）中隋代修築甲運河的目的為何？(A)為了加速南方的開發 (B)為了養活江南地區的百姓 (C)便於發動征伐高麗的戰爭 (D)便於隋煬帝到江南遊樂。



附圖（一）



附圖（二）

8. ( ) 附圖（二）是中國三大石窟地理位置圖。請問：三大石窟的位置配對，下列何者正確？(A)甲—雲岡石窟，乙—龍門石窟，丙—莫高窟 (B)甲—莫高窟，乙—雲岡石窟，丙—龍門石窟 (C)甲—龍門石窟，乙—莫高窟，丙—雲岡石窟 (D)甲—莫高窟，乙—龍門石窟，丙—雲岡石窟。
9. ( ) 愛好歷史的景太，某日研讀有關西周「管蔡之亂」與西晉「八王之亂」的資料，赫然發現此兩件史事都具有相同的性質。請問應是下列何者？(A)外患入侵 (B)外戚亂政 (C)宗室之亂 (D)宦官之禍。
10. ( ) 東漢末年群雄割據北方出現了一位「梟雄」，竟把當時東漢某位皇帝挾持了。請問文中這位挾持天子的「人物」是誰？被挾持的天子又是哪一位「皇帝」？(A)曹丕、漢靈帝 (B)曹操、漢元帝 (C)曹丕、漢桓帝 (D)曹操、漢獻帝。
11. ( ) 小恩為了對道教使有更深一層的認識，所以到圖書館借閱一本《道教史》。請問，書中內容不會出現下列哪一項資料？(A)張陵創「太平道」，張角創「五斗米道」，為早期道教代表 (B)道教信仰源自中國本土 (C)道教一度曾為北魏國教 (D)道教以符水咒語替人治病降魔，深得一般民眾信仰。

12. ( ) 下列哪一場戰爭奠定了魏、蜀、吳三國鼎立的局面？ (A)官渡之戰 (B)赤壁之戰 (C)淝水之戰 (D)牧野之戰。
13. ( ) 造紙術西傳後對歐洲文明產生重大影響，請問：這是哪一國家將中國造紙術西傳？ (A)日本 (B)天竺 (C)大秦 (D)大食。
14. ( ) 2011 年，洛陽被聯合國授予「世界文化名城」稱號。自夏朝開始，有 13 個中國正統朝代定都於此，歷史文化遺產豐富。請問：下列哪些朝代皆曾定都於洛陽？(甲)西漢(乙)東漢(丙)北魏(丁)西晉(戊)隋朝 (A)甲丙丁 (B)甲丁戊 (C)乙丙丁 (D)乙丁戊。
15. ( ) 唐憲宗時期，為方便貨幣攜帶與使用，所以發展出一種匯兌制度。請問是下列何者？ (A)紙幣 (B)交子 (C)飛錢 (D)會子。
16. ( ) 曾有財是一名官宦世家的纨绔子弟，不但無人品與才能，卻能受封高官並享用厚祿。請問這是因為有何種制度的緣故？ (A)察舉制度 (B)九品官人法 (C)科舉考試 (D)宗法制度。
17. ( ) 附圖(三)為日本文字與中國漢字的關係示意圖。請問：日本文字的「片假名」是採取漢字哪一種字體的偏旁而來？ (A)楷書 (B)隸書 (C)篆書 (D)草書。

八 ハ	奈 ナ	多 タ	加 カ	阿 ア	片假名
利 リ	比 ヒ	仁 ニ	千 チ	伊 イ	
波 ハ	奈 ナ	太 タ	加 カ	安 ア	平假名
利 リ	比 ヒ	仁 ニ	知 チ	以 イ	

附圖(三)



附圖(四)

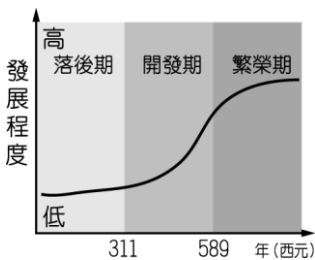
18. ( ) 附圖(四)是某一時期士人常聚於竹林、喜好飲酒的生活型態圖。根據圖中所示，這應該是描述哪一時期的圖畫？ (A)春秋戰國時期 (B)秦漢時期 (C)魏晉南北朝時期 (D)隋朝時期。
19. ( ) 承上題在此時期讀書人為逃避現實政治的黑暗興起清談之風談論的內容以何者為主？(甲)《孟子》(乙)《莊子》(丙)《易經》(丁)《老子》 (A)甲乙丙 (B)乙丙丁 (C)甲丙丁 (D)甲乙丁
20. ( ) 拓跋榮是一位北魏孝文帝時期的鮮卑族男子，在他的日常生活中會遇到下列哪些情形？(甲)隨政府從洛陽遷居到平城 (乙)改說漢語 (丙)取漢人女子為妻 (丁)改姓劉氏 (A)甲乙 (B)乙丙 (C)甲丁 (D)乙丁
21. ( ) 關於五代十國的敘述，下列何者錯誤？ (A)五代是先後出現 (B)十國有時是同時並立 (C)五代立國以長江流域為範圍 (D)是唐末藩鎮割據的延續。
22. ( ) 「詩」是唐朝文學的主流，請問：「詩聖」與「詩仙」各指何人？ (A)杜甫、王維 (B)李白、吳道子 (C)杜甫、李白 (D)顏真卿、柳公權。
23. ( ) 中國三大石窟藝術反映出魏晉南北朝哪一種宗教的盛行？ (A)道教 (B)景教 (C)回教 (D)佛教。
24. ( ) 《三國演義》一書中道出了中國歷史發展趨勢：「天下大勢分久必合，合久必分」請問：下列何人未曾結束亂世統一中國？ (A)秦始皇 (B)司馬炎 (C)楊堅 (D)曹丕。
25. ( ) 隋文帝即位後自奉甚儉，勤政愛民，使隋朝很快到達國富民安的境界。請問：此時正當哪一個盛世？ (A)開元之治 (B)開皇之治 (C)貞觀之治 (D)文景之治。
26. ( ) 紅極一時的古裝劇《蘭陵王》，是以1千4百多年前的南北朝時代為背景，敘述北齊蘭陵

王高長恭與天女楊雪舞的淒美愛情故事。下列有關南北朝的敘述，何者有誤？（A）北周憑藉富庶的江南經濟實力，消滅南朝，統一天下（B）北魏孝文帝推行漢化，引發內部不滿，導致對立分裂（C）佛教廣為流傳，山西大同雲岡石窟建於此時（D）鮮卑族建立的北魏結束五胡十六國混亂局面。

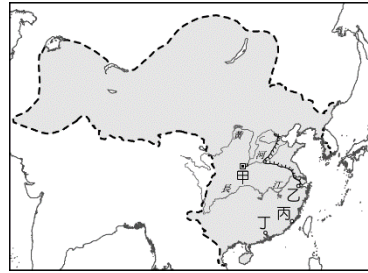
27.（ ）唐末發生了哪一場「動亂」，使江南經濟遭受到嚴重的破壞，更間接造成唐朝的滅亡？

（A）黃巾之亂（B）黃巢之亂（C）安史之亂（D）靖難之變。

28.（ ）附圖（五）是中國歷史上南方經濟發展示意圖。請問：圖中的開發期階段，發展程度大幅提高的原因為何？（A）張騫出使西域（B）周公東征（C）六朝的經營（D）黃巾之亂。



附圖（五）



附圖（六）

29.（ ）唐朝是一個文化承前啓後，大放異彩的全盛時期。其文化騰達和威力遠被，與當時西方世界的混亂和分裂形成了強烈的對比，以致在文明發展史上遙遙領先。附圖（六）是唐代盛世時期的疆域圖，請問：唐代對外貿易發達，下列何處是唐代海外貿易主要的港口？

（A）甲（B）乙（C）丙（D）丁。

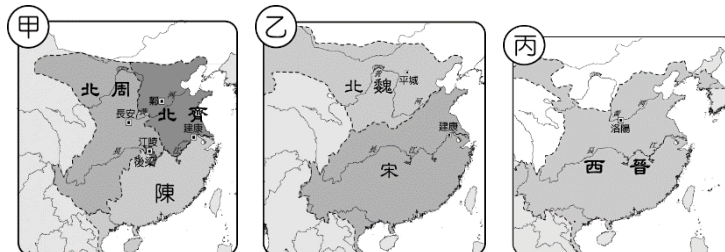
30.（ ）隋唐時代，最仰慕中國文化的是哪個國家，甚至有「君子國」的稱號？（A）大食（B）新羅（C）吐蕃（D）天竺。

31.（ ）唐三彩是中國唐代的藝術精華，有些唐三彩女俑身著窄袖的胡服，與寬袖的漢服，其藝術造型反映了當時唐朝社會何種風貌與時代特徵？（A）男女平等的開放社會（B）上品無寒門，下品無世族（C）女子需遵從三從四德（D）中外文化兼容並蓄。

32.（ ）（甲）安史之亂（乙）武則天稱帝（丙）朱溫篡唐建梁（丁）黃巢之亂（戊）平定東突厥  
上述唐代史事依發生先後順序排列，下列何者正確？（A）甲乙丙丁戊（B）乙丙丁戊甲（C）乙戊甲丙丁（D）戊乙甲丁丙。

33.（ ）史學家柏楊著有《秦隋論》，提出秦、隋二個短暫的王朝，有很多相似的地方。請問：秦、隋在當時均被視為暴政的原因為何？（A）焚書坑儒（B）征伐高麗（C）役使民力過度（D）遊幸江南。

34.（ ）下列附圖是魏晉南北朝時期疆域的變化圖，請問：其先後順序應為下列何者？（A）甲—乙—丙（B）乙—丙—甲（C）丙—乙—甲（D）丙—甲—乙。



35.（ ）關於西晉末年發生的「永嘉之禍」，下列何者敘述正確？（A）亂平後，天下再度統一（B）為宗室之亂（C）導致儒學大盛（D）形成天下分裂的局面。

36.（ ）隋代的建設事業中，對隋唐及後世經濟影響最大的是哪一項？（A）開鑿運河（B）營建大興城（C）廣設糧倉（D）營建洛陽城。

37. ( ) (甲)藩鎮割據(乙)外戚專權(丙)宦官亂政(丁)黃巢之亂。上述哪些項目是安史之亂後促成唐代衰亡的原因？ (A)甲乙丁 (B)甲乙丙 (C)甲丙丁 (D)乙丙丁。
38. ( ) 今日世界的三大宗教：基督教、伊斯蘭教、佛教，傳入中國最早的是何者？ (A)基督教 (B)佛教 (C)伊斯蘭教 (D)三者均在唐代傳入中國。
39. ( ) 中國歷史上所稱的「六朝」，下列何者為非？ (A)東晉 (B)孫吳 (C)南朝宋 (D)西晉
40. ( ) 圖(一)與圖(二)是中國魏晉南北朝某兩個時期的疆域圖。請問：疆域從圖(一)演變為圖(二)的關鍵，是因為發生了下列何事？ (A)管蔡之亂 (B)八王之亂 (C)黃巾之亂 (D)永嘉之禍。



圖(一)



圖(二)

41. ( ) 承上題，此事件對中國歷史的發展造成了何種影響？ (A)北方進入五胡十六國的局面 (B)南方為鮮卑人所統一 (C)晉武帝派兵南下，統一中國 (D)各諸侯國紛紛僭號稱王。
42. ( ) 下列唐朝佛教的發展特點，何者錯誤？ (A)佛教發展達於鼎盛 (B)佛教宗派林立，以「禪宗」最具代表性 (C)唐太宗時，法顯前往印度取經，回國致力翻譯佛經，貢獻極大 (D)「禪宗」廣泛獲得士大夫階層的信仰。
43. ( ) 唐太宗時，「吐蕃」領袖松贊干布向唐室求婚，唐朝以文成公主下嫁至「吐蕃」，請問「吐蕃」即今日何地？ (A)新疆 (B)西藏 (C)雲南 (D)天竺。
44. ( ) 「大化」在日語中的意思是偉大的變化，大化革新在日本歷史上帶來了巨大的變革，下列關於大化革新的敘述，何者正確？ (A)日本孝仁天皇在位時所推行 (B)是一個唐化運動 (C)目的在學習中國的文化和道教 (D)因大化革新而有「君子國」之稱。
45. ( ) 承 29 題，唐朝政府在「此地」設立何種機關以管理海陸貿易？ (A)洋行 (B)巡檢司 (C)市舶司 (D)驛站。
46. ( ) 北宋司馬光撰寫《資治通鑑》，在魏晉南北朝的歷史中，以「六朝」作為正統編年紀事，後人將此六個朝代並稱六朝。請問：有關「六朝」的敘述，下列何者正確？ (A)六朝皆定都於今杭州 (B)北方世族南遷後，帶來大量的人口，對南方的經濟形成很大的負擔 (C)皆對江南的開發有所貢獻 (D)六朝是指曹魏、西晉、宋、齊、梁、陳。
47. ( ) 如果到中國旅遊，要參觀中國第一座佛教寺廟—白馬寺，應到何處？ (A)洛陽 (B)西安 (C)南京 (D)大同。
48. ( ) 中國南京有一名為「胭脂井」的古蹟，是當年南朝陳後主見敵軍入侵，情急之下，帶著兩位貴妃躲藏之處。因為貴妃被拉上井時，臉上的胭脂染紅了井的欄杆，故因此名為「胭脂井」。請問：當初的「敵軍」為何人所派？ (A)晉武帝司馬炎 (B)晉元帝司馬睿 (C)北魏孝文帝 (D)隋文帝楊堅。
49. ( ) 下列歷史人物：(甲)曹丕(乙)司馬炎(丙)劉裕(丁)王莽。皆以篡位方式奪取政權，依先後順序排列，應是何者？ (A)甲乙丙丁 (B)丁甲乙丙 (C)丙丁甲乙 (D)甲丙丁乙。
50. ( ) 玄奘大師即是民間傳說中所稱的「唐三藏」，關於其「成就」，下列何者正確？ (A)唐

玄宗時西行至天竺求法 (B)在洛陽興建中國第一座佛寺 (C)回國後獨創景教宗派  
(D)自西方攜回大批佛經，並致力於翻譯工作。