

一、選擇題 (每題 2 分)

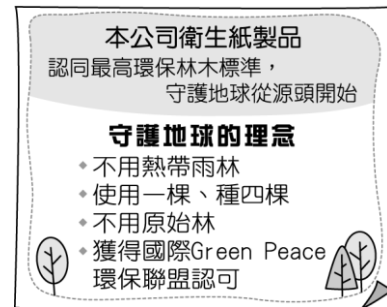
1. () 阿兩為賺取高職學費並累積工作經驗，利用暑假到工地打工。上述阿兩的打工行為，屬於經濟活動循環中的何項角色？ (A)生產要素市場的供給者 (B)生產要素市場的需求者 (C)商品市場的需求者 (D)商品市場的供給者。
2. () 小虎在傳統市場賣有機蔬菜，同時也在購物網接受網友下訂單購買蔬菜。上述小虎的交易場所依序為何？ (A)有形的市場、人力資源市場 (B)無形的市場、有形市場 (C)生產要素市場、無形的市場 (D)有形的市場、無形的市場。
3. () 在我國，負責發行新臺幣的政府機構為下列何者？ (A)臺灣銀行 (B)財政部 (C)合作金庫 (D)中央銀行。
4. () 每逢情人節，玫瑰花價格一路飆漲，主要原因是什麼？ (A)商人提高售價，藉以減少消費者需求 (B)考驗消費者經濟能力 (C)玫瑰花供給量減少 (D)玫瑰花需求量大增。
5. () 淙瑋到書店選購文具和課外讀物，總共花了 800 元。上述淙瑋購買學習用品，屬於經濟活動循環中的何者？ (A)生產成本 (B)所得 (C)消費支出 (D)銷貨收入。
6. () 每當颱風過境後，青蔥的價格立刻飆漲，主要的原因為何？ (A)消費者的需求數量，因颱風侵襲而增加 (B)青蔥的生產成本，因颱風過境而增加 (C)農人生產青蔥的意願降低 (D)青蔥供給量減少。
7. () 下列何者是「由兩人以上共同出資經營，共同享有事業經營的權利，並共同承擔營運責任與風險的企業經營型態」？ (A)合作社 (B)股份有限公司 (C)獨資公司 (D)合夥企業。
8. () 在市場經濟中，常見的企業經營型態有三種，下列何者最為重要？ (A)合夥企業 (B)股份有限公司 (C)無限公司 (D)獨資企業。
9. () 志傑到樂利國旅行的時候，樂利國的當地人士告訴他說：「我國的一切資源分配都由政府主導。」由此可知，樂利國應是實行何種經濟體制？ (A)市場經濟 (B)自由經濟 (C)計畫經濟 (D)獨立經濟。
10. () 近年來國際原油價格不斷上漲。造成油價上漲最可能的因素為何？ (A)需求量不變 (B)需求量減少 (C)供給量減少 (D)供給量增加。
11. () 「金車公司」在爆發中國毒奶粉事件後，自動清查、送檢自家原物料，結果一查出有三聚氰胺，馬上作出一連串措施，包括：通報衛生署、回收在市面的產品、清查庫存，並予封存，設立專線接受消費者申訴，如有健康受害並願負責賠償。「金車」的作為獲得各界的肯定與讚賞，因為它善盡了企業的何種責任？ (A)政治責任 (B)社會責任 (C)行政責任 (D)法律責任。
12. () 當柚子盛產季節，供應量大於需求量時，價格會有什麼變化？ (A)上漲 (B)下跌 (C)不變 (D)無從判斷。
13. () 「節能減碳」是當前大家共同努力的方向。下列有關「節能減碳」的敘述，何者錯誤？ (A)冷氣控溫不外洩，讓室內保持恆溫 20℃ (B)檢討採光需求，提升照明績效，減少多餘燈管數 (C)選購環保標章、節能標章、省水標章的商品 (D)多搭乘公共運輸工具，減少開車、騎機車次數。
14. () 阿峰看到百貨公司的廣告：「高級瓷器碗盤一組 4,000 元」，有點心動想要購買。請問：上述廣告顯現出貨幣的哪一項功能？ (A)交易媒介 (B)價值衡量 (C)債務清償 (D)價值儲存。
15. () 新聞報導：「食安風暴席捲全臺，義美食品在此次事件中未受波及，廠內斥資六千萬元打造的食品安全研究室功不可沒。該公司協理表示，所有原料都必須經過食品安全研究室檢測，確定無害後，才會進入生產線。」由內容判斷，義美食品的做法，最符合下列何種企業社會責任？ (A)重視員工福利 (B)重視環境保護 (C)遵守政府法令 (D)重視消費者的權益。
16. () 常見的企業經營型態中，下列何者是最為單純的？ (A)合夥企業 (B)股份有限公司 (C)

無限公司 (D)獨資企業。

17. () 在經濟活動循環過程裡，消費者的消費支出，就是下列何者？ (A)生產者的生產成本 (B)生產者的銷貨收入 (C)消費者的所得 (D)生產者的利潤。
18. () 小蓮今天在 (甲)好厝邊雜貨店買了一瓶礦泉水，和朋友宜均到 (乙)高水準書店買了一張電影海報，並在 (丙)路邊攤買蔥抓餅解饞，回家後，又在 (丁)電視購物上買了一件衣服，算一算今天總共花費了 3,000 元。上述小蓮的消費行為，何者是在無形市場完成交易？ (A)甲 (B)乙 (C)丙 (D)丁。
19. () 對於員工，現代企業依照法律應該保障員工哪些權利？(甲)工作時數(乙)基本工資(丙)免費的員工旅遊(丁)組織工會的權利 (A)甲乙丙 (B)甲乙丁 (C)甲丙丁 (D)乙丙丁。
20. () 下列哪種情況即反映出「供不應求」的現象？ (A)盛產的柳丁價格滑落 (B)服飾店的衣服打五折大出清 (C)新鮮果汁熱賣，鳳梨、芒果缺貨 (D)家電產品在廠商的倉庫裡堆積如山。。
21. () 近日由於國際原物料價格不斷飆漲，加深國人對通貨膨脹的隱憂。請問：「通貨膨脹」會造成何種現象？ (A)貨幣升值、物價上漲 (B)國民整體儲蓄率提高 (C)公務人員所得固定，生活水準將降低 (D)同樣的錢能購買的商品數量較以往多。
22. () 近年來，政府與企業為了維護環境的永續發展，積極推動節能減碳的工作。其實，身為國中生也能為地球盡一分心力，下列哪些做法可以達到節能減碳的目的？(甲)不使用電器時，隨手關掉電源開關(乙)少吃肉(丙)購買包裝少的產品(丁)多爬樓梯、少搭電梯 (A)甲乙丙丁 (B)乙丙丁 (C)甲丙丁 (D)甲乙丁。
23. () 生產者透過向銀行借款或以自己的存款，來從事購買新機器設備或擴充廠房等行為，我們稱為什麼？ (A)管理 (B)生產 (C)消費 (D)投資。
24. () 北興公司為了照顧員工，在公司內設員工餐廳、網球場，並定期舉辦員工旅遊活動，以維持員工的向心力。上述提及企業應具備哪一項

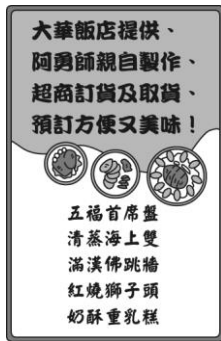
條件？ (A)善盡社會責任 (B)了解市場需求 (C)評估創業風險 (D)進行企業合作。

25. () 附圖為某衛生紙包裝上的部分產品介紹，根據此圖，該衛生紙製造商盡到了哪一項社會責任？ (A)製造高品質的產品 (B)提供完整且正確的產品資訊 (C)提供消費者服務訊息 (D)重視生產過程中對環境造成的影響。

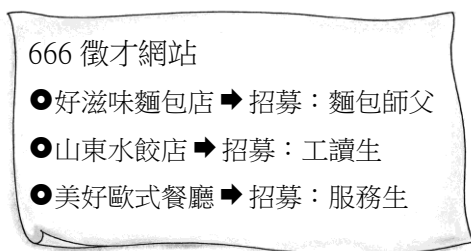


26. () 「在董氏基金會及終身義工的見證下，義美食品宣布，義美所有門市的菸品下架停止販售。義美更進一步說明原因：一是有感近日國內空氣品質太差，想盡分心力；二是肯定董氏基金會推廣菸害防制的用心；三是響應許多家長對義美的期待。」由上述新聞可以看出企業何種影響力？ (A)了解市場需求 (B)善盡社會責任 (C)評估創業風險 (D)進行企業合作。
27. () 政府在發展經濟的同時，須減少對環境所造成的衝擊，應注意下列何者？(甲)制定完善的產業發展計畫(乙)立即停止所有的經濟開發(丙)建立明確的環保法令(丁)尋找尚未開發的地區重新規畫 (A)甲乙 (B)丙丁 (C)甲丙 (D)乙丁。
28. () 關於經濟發展與環保議題常常面臨互相衝突的情況，下列何者是我國政府與企業想要達成的目標？ (A)經濟發展與環境保護的衝突先擱置不管 (B)注重環境保護，全面放棄經濟開發 (C)經濟發展優先於環境保護 (D)取得經濟發展與環境保護的平衡。
29. () 臺灣光復初期，發生嚴重的通貨膨脹，為穩定當時的政經局面，政府於民國 38 年改革幣制，規定以舊臺幣 4 萬元兌換新臺幣 1 元。若有人拿舊臺幣 200 萬元去兌換，可拿到新臺幣多少錢？ (A)25 元 (B)50 元 (C)50 萬元 (D)800 萬元。

30. () 年節到了，爸爸從超商拿了一張年菜預購目錄，從目錄上可判斷超商此項勞務屬於哪一種企業經營方式？ (A)人事管理 (B)風險管理 (C)設計研發 (D)企業合作。



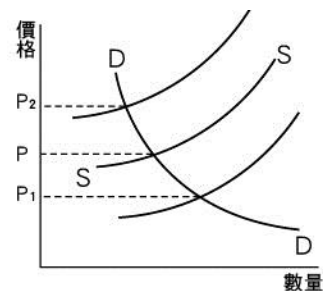
31. () 下列對於「信用卡」的敘述何者正確？ (A)屬於貨幣 (B)具有價值儲存的功能 (C)可用來衡量商品價值 (D)具有延期償債特性。
32. () 新聞報導：「颱風過後，蔬菜短缺，高麗菜在市場上供不應求，大家轉而購買其他較便宜的食品，使得馬鈴薯被搶購一空而缺貨，而豬肉價格仍居高不下，雞蛋價格則維持平穩。」請問：上述何者達到「市場均衡」的狀態？ (A)高麗菜 (B)馬鈴薯 (C)豬肉 (D)雞蛋。
33. () 附圖是小由在網路上看到的徵才廣告。下列相關敘述何者正確？ (A)666 徵才網站屬於商品市場 (B)好滋味麵包店屬於生產要素市場 (C)山東水餃店是有形市場 (D)美好歐式餐廳屬於無形市場。



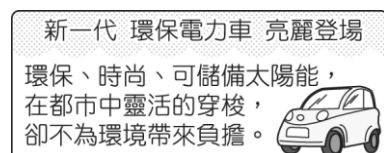
34. () 阿珠在夏天時開了一家高檔泳裝專賣店，她發現相同的產品在不同的價格下，消費者願意購買的數量有所不同(如附表所示)。根據表中資料，供需雙方願意接受的均衡價格是多少？ (A)2,500 元 (B)2,000 元 (C)1,500 元 (D)1,000 元。

價格(元)	供給量(件)	需求量(件)
2,500	5	1
2,000	4	2
1,500	3	3
1,000	1	5

35. () 百貨公司經常在季末舉辦換季大拍賣，以超低的價格吸引消費者購買。請問：下列何者是商品價格的決定者？ (A)政府 (B)百貨公司業者 (C)消費者 (D)市場機能。
36. () 財富國最近無限制的大量發行貨幣，使市場上流通的貨幣不斷增加，但商品並沒有相對增加。此一情形最可能會導致下列何種結果？ (A)商品價格下降 (B)物價維持穩定 (C)發生通貨膨脹 (D)民眾消費能力增加。
37. () 下圖中，DD 為魚蝦的需求曲線，SS 為魚蝦的供給曲線。寒流來襲，凍斃大量魚蝦，使得魚蝦供應量大減，假設其他條件不變，此時魚蝦的價格會做何變化？ (A) $P \rightarrow P_1$ (B) $P \rightarrow P_2$ (C) $P_2 \rightarrow P_1$ (D)不變。



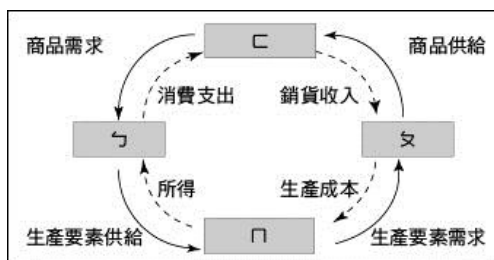
38. () 每年的 7、8 月學校放暑假，正是旅遊的旺季，如果選擇此時出國旅遊，機票價格則較平常貴。請問：旺季時機票的供需為何？ (A)供給量小於需求量 (B)供給量大於需求量 (C)供給量等於需求量 (D)無法判斷。
39. () 附圖為一家車商所推出的廣告內容，根據此廣告，顯示車商重視何種觀念？ (A)永續發展 (B)投資風險 (C)企業合作 (D)內部管理。



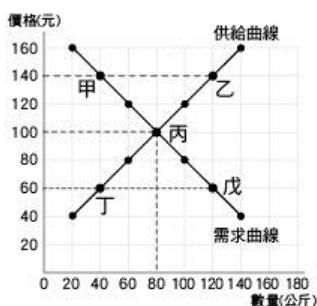
40. () 在一個國家中，貨幣價值的高低，是以哪項標準來衡量？ (A)國民所得的高低 (B)國民存款金額的多寡 (C)貨幣的製作成本 (D)貨幣所能購買的商品數量。
41. () 下列何者為商品貨幣，因其本身就是商品，具有價值？ (A)儲值卡 (B)紙鈔 (C)黃金 (D)信用卡。
42. () 「紙鈔」能作為當前通行的貨幣，最主要的原因為何？ (A)政府以法令賦予其價值 (B)攜帶方便 (C)能清償債務 (D)具有延遲支付功能。

二、題組(每題 2 分)

1. 以下是經濟活動循環簡圖，圖中的箭頭代表貨幣和商品的流動。請依此圖回答下列問題：



- () (43) 陳媽媽到便利超商購買報紙，則陳媽媽在經濟循環圖中，屬於下列何者？ (A)ㄅ (B)ㄆ (C)ㄇ (D)ㄊ。
- () (44) 印刷廠為了增加設備，購買了一部多功能影印機。上述交易的場所屬於經濟活動循環圖中的哪一位置？ (A)ㄅ (B)ㄆ (C)ㄇ (D)ㄊ。
- () (45) 便利超商在經濟循環圖中，屬於下列何者？ (A)ㄅ (B)ㄆ (C)ㄇ (D)ㄊ。
2. 請根據右列勝利國木瓜的供需狀況圖形，回答下列問題：



- () (46) 當木瓜價格達到每公斤多少元時，市場呈現供需均衡狀況？ (A)60 (B)80 (C)100 (D)120。
- () (47) 若木瓜價格為 60 元，市場會出現下列何種現象？ (A)供過於求 (B)供不應求 (C)供需均衡 (D)無法判斷。
3. 每年到了夏季，擁有豐富海洋資源的澎湖，就成了國民旅遊最熱門的路線之一，已經連續舉辦數屆的澎湖海上花火節，更是澎湖夏季最大盛事。每逢此時，澎湖的機位往往一票難求，飯店與民宿的訂房率也相當高。請回答下列問題：
- () (48) 當澎湖的機位出現「一票難求」的情況時，顯示機票的供需市場出現何種現象？ (A)供不應求 (B)供過於求 (C)市場均衡 (D)供需平衡。
- () (49) 若依交易的對象和內容區分，飯店應屬於下列何種市場？ (A)有形市場 (B)無形市場 (C)生產要素市場 (D)商品市場。
- () (50) 澎湖在夏季成為熱門旅遊路線，消費者對於機位與住宿的需求量大為增加，則此時機位與住宿的價格應會呈現何種現象？ (A)上升 (B)下降 (C)不變 (D)難以預測。