


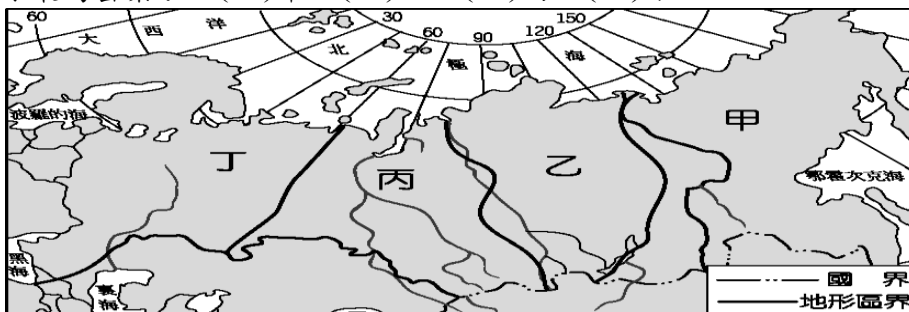
嘉義市立北興國中一〇四學年度第1學期地理科三年級第2次段考

一、單一選擇題：每題2分，共46分

1. () 附圖的氣溫雨量圖中，東歐的氣候特色最接近下列何者？ (A)甲 (B)乙 (C)丙 (D)丁。



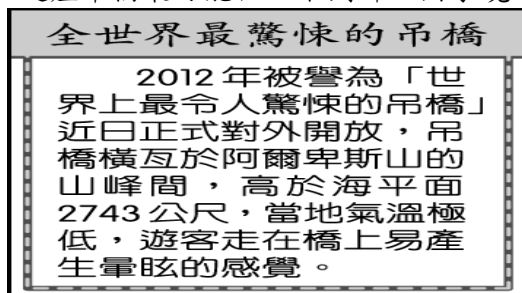
2. () 俄羅斯為世界面積最大的國家，然而境內的人口分布卻相當不均。請問：該國若以點子圖方式來繪製人口分布狀況，附圖中哪一個地區的點子最為密集？ (A)甲 (B)乙 (C)丙 (D)丁。



3. () 美國在面臨金融風暴之時，曾要求歐洲某國的銀行業配合調查，以了解美國企業是否有掏空公司資產的行為，但這個以銀行業及鐘錶、旅遊業為主的國家卻斷然拒絕交出秘密帳戶的企業名單。請問：上文中所指的某國最可能為下列何者？ (A)法國 (B)德國 (C)瑞士 (D)盧森堡。
4. () 盧森堡的金融業相當發達，吸引了世界各國的資金投資。請問：該國有利發展金融業的主要原因為何？ (A)世界重要證券市場 (B)歐洲聯盟總部所在 (C)低稅率的金融政策 (D)港口轉口貿易發達。
5. () 奧地利多次舉辦「滑雪障礙世界盃」賽事，利用當地的地形環境來進行，增加比賽的難度。前往奧地利參賽的滑雪選手必須克服哪一地形的障礙？ (A)平原 (B)高原 (C)盆地 (D)山地。
6. () 澳洲、紐西蘭位於遙遠的太平洋上，而加拿大與英國也相隔整個大西洋，然而這些國家的元首都是英國女皇，並為同一個國際組織的會員國。請問：形成該組織的緣由為下列何者？ (A)世界大戰 (B)語言相同 (C)殖民歷史 (D)宗教信仰。
7. () 小懋到歐洲旅行，在某國家發現居民喜歡穿木鞋防水，他拍了一張當地傳統穿著的照片，如附圖。請問：該照片所呈現的應該為哪一個國家的特色？ (A)德國 (B)法國 (C)英國 (D)荷蘭。



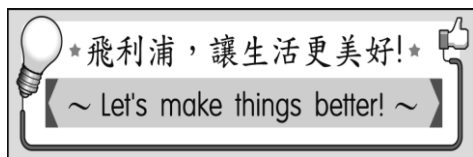
8. () 法國的葡萄酒相當著名，成為當地的文化特色，果園酒莊更成為觀光景點。請問：下列有關該國葡萄酒的相關敘述，何者最為正確？ (A)生長於溫帶地中海型氣候區 (B)以大規模機械化方式經營 (C)以物美價廉的方式行銷全球 (D)為附加價值低的精緻農業。
9. () 若臺灣官員欲參考歐洲國家的社會福利制度，應該到下列何處進行考察？ (A)南歐 (B)西歐 (C)北歐 (D)東歐。
10. () 英國為工業革命的先驅，初期是從紡織工業的改良開始，但由於英國當地氣候不利於棉花的種植，因此由美國南部的殖民地進口棉花來加工製造。請問：當時棉花的運送會經過哪一海域？ (A)太平洋 (B)大西洋 (C)印度洋 (D)地中海。
11. () 附圖為一則旅遊新聞，由內容判斷，這座吊橋最可能位於下列哪一國家境內？ (A)丹麥 (B)瑞典 (C)盧森堡 (D)瑞士。



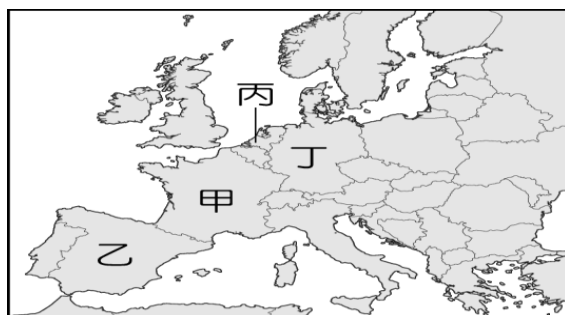
12. () 「時尚與工藝的結合在該國充分呈現，引領世界的設計與高科技的航空工業、高速鐵路，造就了強勁的經濟實力。」請問：上述中指的為下列哪一個國家？ (A)日本 (B)英國 (C)法國 (D)德國。
13. () 歐洲哪一個國家有 1/4 國土低於海平面？ (A)德國 (B)法國 (C)英國 (D)荷蘭。
14. () 俄羅斯的陸運運輸以鐵路為主，此與俄羅斯哪項特色最相關？ (A)面積廣大 (B)地形複雜 (C)多位於高緯度 (D)國土兩面環海。
15. () 德國的便捷河運對於工業活動幫助甚大，其主要河川的入海口多位於下列何處？ (A)黑海沿岸 (B)地中海沿岸 (C)北海沿岸 (D)波羅的海沿岸。
16. () 歐洲的萊因河流域跨越多國的工業重心，而成為重要的工業地帶。請問：該河川從附圖中哪一個國家注入海洋，帶動該國港口的發展？ (A)甲 (B)乙 (C)丙 (D)丁。



17. () 交通的發展帶動世界經濟活動的興盛，如 16 世紀時由於何種交通路線的發展，使得當時歐洲國家能到達世界各洲快速累積資金及技術？ (A) 鐵路 (B) 海運 (C) 公路 (D) 網路。
18. () 德國境內的河川水運相當發達，如主要河川多瑙河是流入哪一個海洋？(A) 地中海 (B) 北海 (C) 黑海 (D) 波羅的海。
19. () 圖(一)中的廣告點出該公司的發展宗旨，該公司的產品一直都深受消費者的青睞。請問：該公司應是來自於圖(二)中的哪一個國家？ (A) 甲 (B) 乙 (C) 丙 (D) 丁。

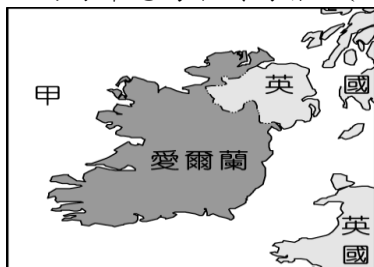


▲圖(一)

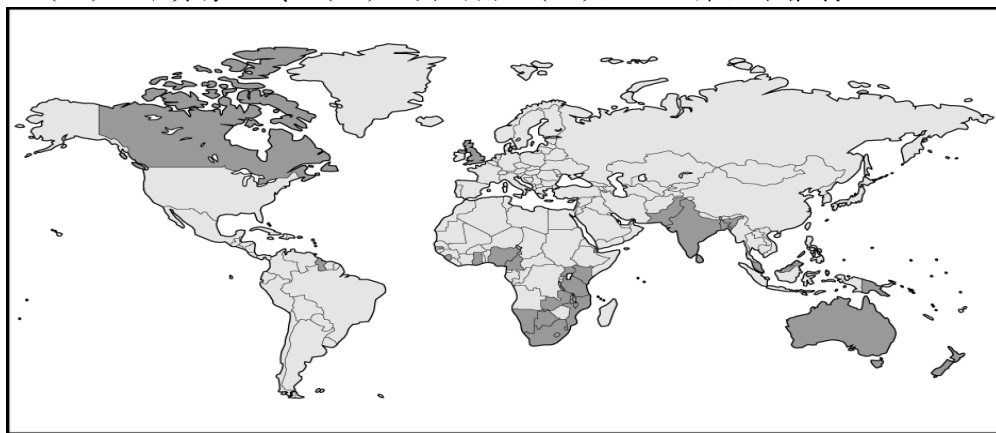


▲圖(二)

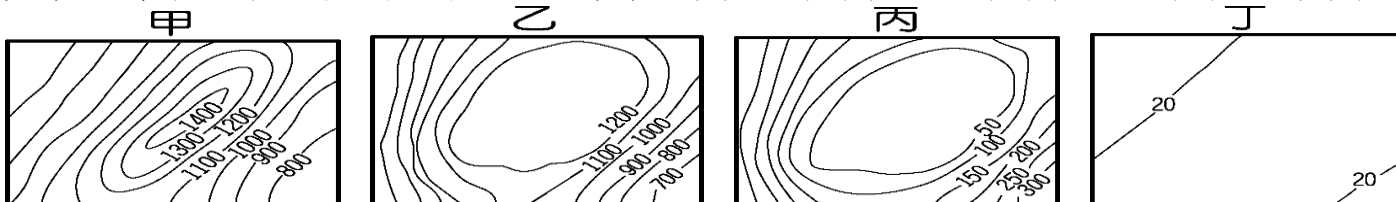
20. () 地理條件優越有利於區域發展，歐洲各地區中，哪一個在地形、氣候、海洋和港灣四方面皆最具優越性？ (A) 東歐 (B) 西歐 (C) 南歐 (D) 北歐。
21. () 附圖為愛爾蘭位置示意圖，請問：圖中甲地的海洋應為下列何者？(A) 北海 (B) 英吉利海峽 (C) 大西洋 (D) 波羅的海。



22. () 附圖為某經濟組織的會員國分布圖，其中深色區域為該組織的核心國家。若依圖中資料加以判斷，該組織最可能為下列何者？ (A) 歐盟 (B) 世界貿易組織 (C) 大英國協 (D) 亞太經濟合作會議。



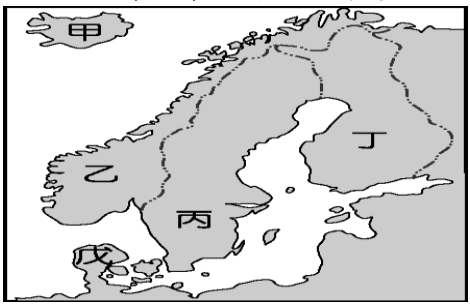
23. () 邱博士參加了俄羅斯北部廣大的西伯利亞開發計畫，從莫斯科出發，一路搭乘西伯利亞鐵路向東前進，直到太平洋岸的海參崴港。請問：他在沿途中所見到的地形順序為下列何者？(A) 甲乙丙丁 (B) 甲乙乙丁 (C) 丙丁甲甲 (D) 丁丁乙甲。



二、題組：每格 2 分，共 48 分

- (1). 歐洲足球聯賽開打，英國球迷特地搭機前往德國觀賽，抵達德國機場時外面正下著大雨，但無法澆息他們的熱情。請問：
- () 24. 英國球迷要搭機前往德國為球隊加油，其飛行的方向大致為何？(A) 東方 (B) 西方 (C) 南方 (D) 北方。
- () 25. 英國球迷搭機直飛德國時，在座艙前方的螢幕上，將顯示正要飛越下列哪一個海域？ (A) 大西洋 (B) 地中海 (C) 波羅的海 (D) 北海。
- () 26. 英國球迷一出機場，便遇到斜風細雨，而且氣溫更低。請問：當地降雨主要是受到哪一個風向所影響？ (A) 季風 (B) 西風 (C) 信風 (D) 北風。
- () 27. 英國球迷觀看的賽事為英國對德國，他們發現德國球員身上的球衣有著贊助商賓士汽車的商標。請問：德國汽車工業的發源最早和當地具備何種豐富礦產有關？ (A) 鐵礦 (B) 煤礦 (C) 石油 (D) 水力。
- () 28. 球賽結束後，他們決定順道前往峽灣搭船，欣賞風景。船長告訴他們這裡緯度雖高，但是由於受到下列何種因素的影響，可終年通航？ (A) 高壓籠罩 (B) 季風吹拂 (C) 暖流經過 (D) 溫帶氣旋。


(2).童話大師安徒生的著作，為全世界小孩帶來希望，廣受各地歡迎。他出生於北歐的丹麥，而北歐因為社會福利制度和職業教育成功，因此國民生活品質高，成為人人稱羨的地區。請根據附圖回答問題：




- () 29. 童話大師安徒生出生於北歐丹麥的哥本哈根，為北歐海運的重要十字路口，港口航運發達。而在港口地區就佇立著安徒生筆下的美人魚銅像，成為著名的景點。丹麥位於附圖中的何處？ (A)甲 (B)乙 (C)丙 (D)戊。
- () 30. 北歐五國的自然環境優美，地形景觀豐富，每年夏季時都會有許多的郵輪前往該處，欣賞特殊的冰火同源地形景觀。附圖中哪一國家最為著名？ (A)甲 (B)乙 (C)丙 (D)丁。
- () 31. 附圖中丁國傳統產業活動為林木的開發，並利用豐富的湖泊水力發電，提供林業所需要的能源。因為湖泊眾多，被稱為「千湖國」。這個國家指的是北歐的哪一國？ (A)芬蘭 (B)瑞典 (C)冰島 (D)瑞士。
- (3).《北海小英雄》這部動畫十分受歡迎，內容描述挪威布蘭村的水手，由黑龍船長帶領出航。黑龍船長的兒子小威聰明過人，常常運用智慧幫助水手們度過難關。下列附圖為這部動畫的部分情節，請問：



海盜船在海上
▲圖(一)




海盜船停靠海
▲圖(二)




白天斜風飄雨
▲圖(三)


- () 32. 圖(一)中的黑龍船長率領水手由挪威港灣出航向東至芬蘭，其主要活動的最近海域可能為下列何者？ (A)黑海 (B)地中海 (C)波羅的海 (D)愛琴海。
- () 33. 圖(二)中小威家鄉的布蘭村因為受到何種作用力的影響，沿岸利於船隻出入？ (A)河川沖蝕 (B)斷層陷落 (C)海浪堆積 (D)冰河侵蝕。
- () 34. 圖(三)中所盛行的風向最可能為下列何者？ (A)季風 (B)西風 (C)颱風 (D)北風。
- (4).在臺北國際旅遊展中，各國觀光局都精心繪製宣傳海報，希望能夠吸引人潮，附圖為會場中的四張海報，請問：




甲



乙



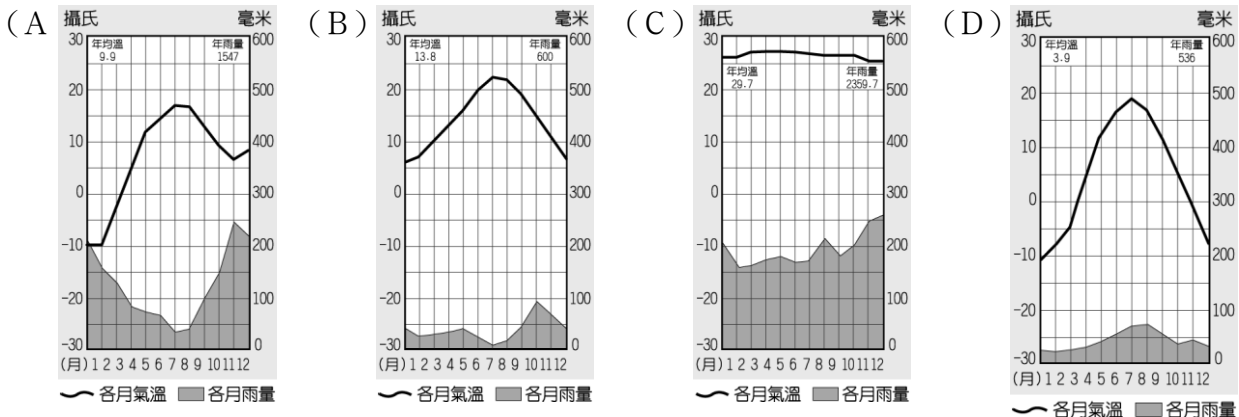
丙



丁

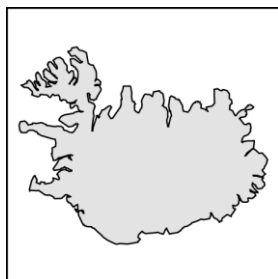
- () 35. 旅遊展中各國觀光局紛紛前來推廣該國觀光，請問：附圖中的四張海報應該擺置於哪一個區域？ (A)北歐區 (B)南歐區 (C)俄羅斯 (D)西歐區。
- () 36. 乙海報的國家非常重視觀光業，為了拚觀光，甚至放寬假日營業的限制，希望提供旅客更為便利的旅遊環境。請問：該國吸引遊客的特色，較不包括下列何者？ (A)精緻華麗的時尚名品店 (B)雄偉壯麗的高山景觀 (C)廣闊的大平原美景 (D)熱情洋溢的愛琴海風情。
- () 37. 丙海報的國家可說是花卉王國，美麗的鬱金香不只點綴該國的景觀，更是出口品的大宗。該國具備優良的氣候條件，請問當地風車扇面應朝向何方？(A)東方 (B)南方 (C)西方 (D)北方
- () 38. 丁海報上的秀麗山景就是最佳的觀光大使，除此之外，流經該國的哪一條河川也是著名景點，甚至有音樂家為此作曲歌頌？ (A)萊茵河 (B)波河 (C)多瑙河 (D)塞納河。
- (5).東歐自古即因其自然環境的分布特色，而發展出和環境相互配合的產業結構特色。請問：
- () 39. 大雄因為公務需求，到東歐從事考察，發現當地的宗教活動相當活躍。下列該地區是哪一宗教？ (A)基督教 (B)東正教 (C)天主教 (D)伊斯蘭教。
- () 40. 東歐的夏季白晝長，但氣溫差距大。請問：下列哪一項國家的城市夏季白晝最長？ (A)莫斯科 (B)雅典 (C)布達佩斯 (D)布拉格。
- (6).柯市長前往北歐各國考察當地的福利政策，以便作為市政的借鏡。請問：

- () 41. 柯市長一行人出國前為了準備衣物，上網查詢了當地的氣候特色。請問：其中瑞典的氣候圖最接近下列何者？



() 42. 柯市長飛到冰島後，在機場看到了北歐的觀光資訊地圖。請問：下列何者是冰島陸地？

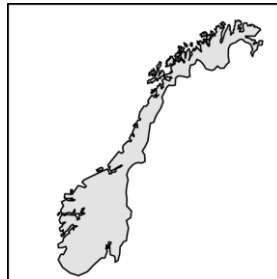
(A)



(B)



(C)



(D)



() 43. 柯市長又飛到瑞典後。瑞典的經濟官員向柯市長介紹其經濟發展，由於當地何種條件優越，因此工業相當發達？

(A)勞動力多 (B)石油豐富 (C)煤產眾多 (D)優質鐵礦。

() 44. 瑞典的社會福利制度相當完善，其社會福利所需要的經費來源與下列何者關係最大？ (A)壯年人口比例高 (B)北海開採石油 (C)居民須負擔高額稅金 (D)國營企業經營良好。

() 45. 會談結束後，瑞典官員贈送柯市長一組 IKEA 木製杯架。請問：瑞典由於何種林木資源豐富，因此家具業相當發達？ (A)闊葉林 (B)混合林 (C)雨林 (D)針葉林。

(7).歐洲自然環境適宜人居，因此人口稠密且平均，經濟發達。而北歐社會福利制度完善，為實施社會福利政策的模範。請問：

() 46. 北歐的海岸類型適合航運活動，因此海上貿易相當興盛。請問：當地的海岸線多為下列何種地形？ (A)甲 (B)乙 (C)丙 (D)丁。

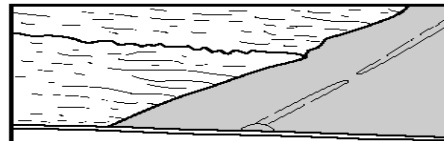
甲



乙



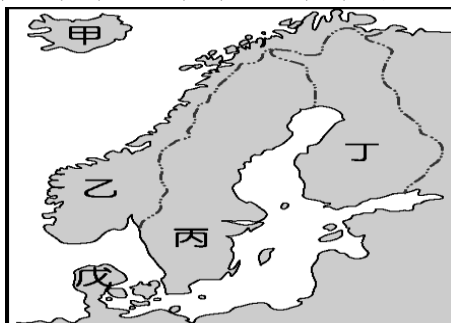
丙



丁



() 47. 北歐的緯度甚高，當地的農牧活動受其影響很大。附圖中哪一個國家以高經濟價值的產品為主，酪農業的規模相當大，以供應其鄰近國家？ (A)甲 (B)乙 (C)丙 (D)戊。



() 48. 甲：河積 乙：冰蝕 丙：海蝕 丁：沉水。造成峽灣海岸的最主要因素為何？(A)甲乙 (B)乙丁 (C)丙丁 (D)甲丙

() 49. 法國的葡萄酒已成為當地飲食文化不可或缺的要素，依照其品質可分為四個等級，如附圖所示。請問：法國盛產葡萄來製成酒，是因當地為何種氣候類型？(A)高地氣候(B)溫帶沙漠氣候(C)溫帶大陸性氣候(D)溫帶地中海型氣候



() 50. 附圖為東歐主要國家的地理位置，圖中哪一個國家因為鄰近德國，在第二次世界大戰後獲得該國的煤礦產地和出海港口，因此成為造船業的重鎮？ (A)甲 (B)乙 (C)丙 (D)丁。

