

北興國中105學年度第一學期第一次段考歷史科 一年級 班 座號： 姓名：

1. 小雲閱讀臺灣原住民的相關書籍，知道臺灣原住民屬於南島語族。請問：關於南島語族的敘述，下列何者正確？(A)南島語族的族群至今已全部消失 (B)南島語族約在五百年前陸續移居臺灣 (C)臺灣位於南島語族地理分布上的最北端 (D)南島語族主要活躍在大西洋及太平洋島嶼上。

2. 臺灣地區的原住民，依其主要生活區域的不同，可分為平埔族和高山族。其中有關平埔族的敘述，下列哪一項是正確的？(A)其漢化的時間較高山族稍晚 (B)早期生活在平原、沿海一帶 (C)大約可分為泰雅、布農等九族 (D)移入臺灣的時間在漢人之後。

3. 安琪今年剛升上國中一年級，她在自我介紹時提到：「我屬於臺灣原住民的其中一族，我們族裡有個著名的新船下水祭，歡迎大家來參加。」根據以上敘述，請問：安琪應該屬於下列哪一族群？(A)阿美族 (B)賽夏族 (C)達悟族 (D)泰雅族。

4. 17世紀時，臺灣是漢人、日本人、荷蘭人、西班牙人在東亞地區進行貿易的重要據點。這是因為當時臺灣具備了下列哪一項優越的地理條件？(A)地形 (B)氣候 (C)位置 (D)人口。

5. 人類的發展，可以分成史前時代和歷史時代，其劃分標準是什麼？(A)有無使用文字 (B)有無發展出國家觀念 (C)是否進入農業生活 (D)有無用火的經驗。

6. 嘉義市北興國中三年級同學即將舉行環島校外教學旅行，預定往南部出發，再繞行到東部，由北部的雪山隧道回到西部，最後返回嘉義。中途希望能參觀下列景點：(甲)十三行文化博物館 (乙)熱蘭遮城遺址 (丙)卑南文化遺址 (丁)牛罵頭文化遺址 (戊)長濱文化遺址。請問：若依照排定的行程，上列景點的參訪順序，何者較適當？(A)乙丙戊甲丁 (B)甲乙丙丁戊 (C)戊丁丙乙甲 (D)丁甲戊丙乙。

7. 承上題，上述各景點若依其在台灣存在的時間先後順序排列，何者正確？(A)甲乙丙丁戊 (B)戊丙丁乙甲 (C)丙乙丁戊甲 (D)戊丁丙甲乙。

8. 高山族原住民曾把「獵人頭」稱為「出草」，但實際上早期平埔族原住民也有「出草」的習俗，只是獵物目標並非人頭，而是下列哪一種動物？(A)鹿 (B)熊 (C)山豬 (D)雲豹。

9. 地質學家認為臺北盆地在古代其實原本是個湖，請問下列哪一個文化遺址可以印證此說法？

(A)大坌坑文化 (B)十三行文化 (C)圓山文化 (D)卑南文化。

10. 承上題，該遺址出土的哪一項文物是證明台北湖存在的最主要證據？(A)獸人形耳飾 (B)貝塚 (C)石板棺 (D)煉鐵作坊。

11. 原住民部落的各種祭典是其傳統文化中極重要的一環，請問下列四種祭典哪一個在基本性質上和其他三種不同？(A)豐年祭 (B)矮靈祭 (C)飛魚祭 (D)猴祭。

12. 下列台灣原住民民族的部落社會組織中，哪一族與其他三者不同？(A)西拉雅族 (B)阿美族 (C)排灣族 (D)卑南族。

13. 世代居住在嘉義地區的利亞在鄉土文化報告中，追溯自己祖先的發展軌跡，發現自己竟然擁有三百多年前居住在本地地的平埔族血統。請問他所擁有的應是哪一族的血緣？(A)達悟族 (B)和安雅族 (C)凱達格蘭族 (D)噶瑪蘭族。

14. 莉莉想要寫一篇有關荷蘭在台統治時期的報告，請問下列哪些史料是她需要參考的？(甲)熱蘭遮城日誌 (乙)聖多明哥城日誌 (丙)巴達維亞日誌 (丁)普羅民遮城日誌 (戊)馬尼拉日誌

(A)甲丙戊 (B)甲丙丁 (C)乙丙丁 (D)丙丁戊。

15. 台灣原住民屬於南島語族，請問下列哪一地區並不屬於此語族分布區域？(A)紐西蘭 (B)馬達加斯加 (C)澳大利亞 (D)復活節島。

16. 歷史上台灣曾有過很多不同名稱，請問「福爾摩沙」最早是哪一民族給予台灣的稱呼？

(A)荷蘭人 (B)日本人 (C)西班牙人 (D)葡萄牙人。

17.國際競爭時期的台灣曾有歐洲人引進羅馬拼音字母拼寫原住民的語言，從而誕生了新港文，請問此「新港」指的是今日何處？(A)台南新市 (B)嘉義新港 (C)雲林北港 (D)台南善化。

18.承上題，當時「新港文」主要是拼寫哪一族的語言？(A)西拉雅族 (B)魯凱族 (C)噶瑪蘭族 (D)鄒族。

19.1597年，有一封呈報給某國王的信中寫到：「我們希望占領福爾摩沙的這個港口，最迫切的理由是為了確保菲律賓的安全。因為……日本企圖奪取這個港口以進占馬尼拉，我們要確保菲律賓的安全就必須擁有這個港口。」由上述背景判斷，這封書信最可能是呈報給哪一國國王？(A)荷蘭(B)英國(C)菲律賓(D)西班牙。

20.莉芬和家人到北港旅遊，除了參拜媽祖廟外，還看到一個紀念碑，據說是紀念最早在此地招募民眾進行開墾的人，請問此紀念碑應該是紀念何人？(A)顏思齊 (B)鄭成功 (C)鄭芝龍 (D)沈有容。

21.台澎地區最早被納入中國版圖是在哪一朝代？(A)宋 (B)元 (C)明 (D)清。

22.承上題，當時此朝代曾在澎湖設巡檢司進行管理，請問巡檢司類同於下列哪一機構？(A)派出所 (B)國稅局 (C)縣政府 (D)海關。

23.假設有一位考古學家在某地區挖掘到下列三個文化層遺址：(甲)舊石器時代 (乙)新石器時代 (丙)金屬器時代，請問在正常狀況下，其挖掘順序應為何者？(A)甲乙丙 (B)丙乙甲 (C)甲丙乙 (D)乙丙甲。

24.莉萍與家人到曾文水庫遊玩，發現到原住民祭祀祖靈的公廨，請問她會在裡面看到哪種象徵部族祖靈的物品？(A)裝清水的壺 (B)裝檳榔的盤子 (C)裝米酒的碗公 (D)裝小米的布袋。

25.大雄乘坐時光機來到14世紀的臺灣，他最有可能在這裡見到下列哪一情形？

(A)

雖然明政府行海禁，但還是可以進行走私貿易。

(B)

透過各社選出長老，給予長老維持秩序的權力。

(C)

現在臺灣納入我大清的版圖了。

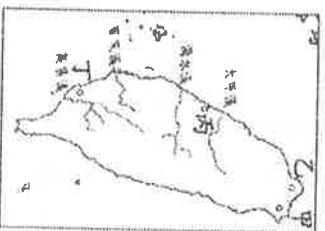
(D)

我奉命前來淡水傳播天主教。



26.凱達格蘭族是早期位於臺灣北部的平埔族原住民，根據該族群分布的位置判斷，在十七世紀可能與下列哪兩個國家有過政治或經貿的接觸？(甲)葡萄牙 (乙)西班牙 (丙)荷蘭 (丁)英國 (A)甲乙 (B)甲丙 (C)乙丙 (D)丙丁。

27.此新石器時代早期文化與臺灣東部舊石器時代文化有一段重疊的時間，但與分布在中國大陸東南沿海，特別是福建、廣東的繩紋陶文化非常相似，此一文化的住民可能是由此渡海來臺。根據多數研究指出，這個文化也被推測屬於南島語族的文化，因此這個文化很有可能就是臺灣原住民的祖先型化。根據上文所述，此一臺灣新石器時代早期文化，最有可能位於圖中的哪一位置？(A)甲地 (B)乙地 (C)丙地 (D)丁地。



28..安平，舊稱大員、臺員，是「臺灣」一詞的起源。大員市鎮最初是荷蘭人依都市計畫興建而成的市鎮。如今，昔日的景觀已不復見，殘存的城牆、聚落與建物成了今日最有價值的遺產。若要追尋上述的安平遺跡，應到圖中何處？(A)甲 (B)

乙 (C)丙 (D)丁。

29.《臺灣廳志》記載：「十七世紀時，有兩個國家在臺灣北部

打仗，主戰場位於淡水與基隆之間的金包里，獲勝者還在大石頭上刻字紀念。後來附近鄉民將這塊石頭視為石頭公，加以祭祀。」這是記載哪兩國之間的戰爭？(A)英國、法國 (B)荷蘭、日本 (C)荷蘭、西班牙(D)英國、日本。

30. 元翰在書上看到一段史料，如附圖所示。請問：當時西班牙人在雞籠一帶傳布的是何種宗教？(A)基督教 (B)天主教 (C)伊斯蘭教 (D)佛教。

西元1630年，馬尼拉總督向西班牙國王報告說：三年傳教，只在雞籠一處，受洗禮者有三百人。

31. 明太祖曾下令禁止中國東南沿海的人民到海上活動，並將澎湖居民全部遣返福建。關於此項政策的敘述，下列何者正確？(A)實施的目的在於防範荷蘭人侵臺之舉動 (B)人民迫於生計，仍私自出海捕魚、走私貿易 (C)此政策為「鎖國政策」 (D)澎湖居民遷徙至福建一帶，造成澎湖的沒落。

32. 附圖為十七世紀歐洲人占領台江的形勢圖，而甲、乙兩城是當時所建立的城堡，下列關於「甲城」的敘述，何者正確？(A)為西班牙人所建築 (B)是當時的政治中心 (C)地點在今日臺南安平區 (D)此城為普羅民遮城。



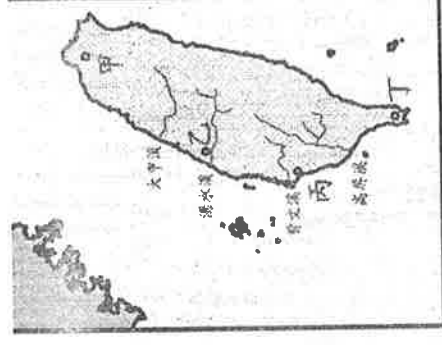
33. 安平和家人參加臺灣離島旅遊活動，在當地的天后宮看到一塊石碑，上面有「沈有容諭退紅毛番韋麻郎等」幾個字。有關此事的敘述，下列何者正確？(A)紅毛番指的是西班牙人 (B)離島指的是金門 (C)此離島地最終為荷蘭人占領 (D)沈有容為明朝將領。

34. 阿土是福建人，生於1612年，當他30歲時被荷蘭人招募到臺灣開墾。當他50歲時，發生了一場戰爭，臺灣成為漢人政權控制的地區，請問這是哪一個人的功勞？(A)鄭芝龍 (B)鄭成功 (C)郭懷一 (D)施琅

35. 云云利用暑假環島，從他的照片中看到有荷蘭人興建的熱蘭遮城遺跡。請問：這張照片應該是在何處拍攝的？(A)基隆 (B)淡水 (C)鹿港 (D)臺南。

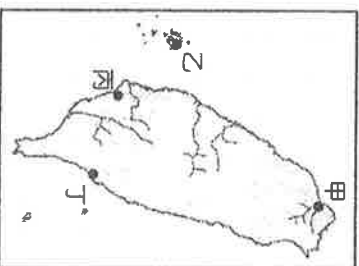
36. 臺灣在中外歷史上曾有不同的名稱，下列配對正確的有哪些？(甲)日本—高山國(乙)明朝—東番(丙)荷蘭—巴達維亞(丁)清朝—大員 (A)甲乙 (B)甲丙 (C)甲丁 (D)乙丁。

37. 地理大發現後，葡萄牙人向東尋找殖民地，遂占領何處建立與中國貿易的據點？(A)香港 (B)澳門 (C)馬尼拉 (D)臺灣。



- 38.小小就讀一所天主教大學，每逢假日他總會看到校內的天主教堂中湧入成群的菲律賓籍勞工。請問：菲律賓人的宗教信仰主要是受到哪一國殖民統治所影響？ (A)葡萄牙 (B)荷蘭 (C)西班牙 (D)日本。

- 39.以下是一段17世紀的文獻記載：「西班牙人每年向該地的已婚原住民課徵二隻雞和三甘當米的稅，原住民感到無法忍受，所以襲擊該地的西班牙城堡，殺了三十個西班牙人。」此段記載最可能是描繪附圖中何處的情況？（註：甘當：一種量米的容器）



(A)甲 (B)乙 (C)丙 (D)丁。

- 40.荷蘭人統治臺灣，除大量生產稻米、甘蔗外，還引進不少新作物。請問：下列哪些作物是荷蘭人引進臺灣的？(甲)豌豆(乙)番茄(丙)馬鈴薯(丁)番薯(戊)釋迦 (A)甲乙丙 (B)甲乙戊 (C)乙丙丁 (D)丙丁戊。

- 41.荷蘭人統治原住民的方法，是先以武力征服，然後透過下列何人統治各部落原住民，以達到行政控制？(A)漢人(B)酋長(C)長老(D)傳教士。

- 42.荷蘭人將臺灣許多物品轉銷到各地以賺取利益，其中不包括下列哪一項物品？ (A)鹿皮 (B)蔗糖 (C)樟腦 (D)稻米。

- 43.臺語將水泥稱為「紅毛土」。請問：這是因為哪一國人的影響？ (A)日本人(B)西班牙人 (C)葡萄牙人 (D)荷蘭人。

- 44.有一段文獻：「☐是治理臺灣的最高官員。當公司逐漸征服各地原住民後，即分設北部、南部、東部及淡水四個地方集會區，由公司每年定期在大員召開會議。☐於會中除宣達施政措施、要求與會長老效忠外，還授予長老維持村落秩序的權力。」請問：上文中的☐，應填入下列何者？ (A)荷蘭聯合東印度公司駐臺長官 (B)臺灣總督 (C)荷蘭國王 (D)臺灣巡撫。

- 45.荷蘭人統治臺灣時期，臺灣長官曾說：「臺灣，真是頭公司的好母牛。」從這句話可以推知荷蘭人占領臺灣的目的為何？ (A)作為荷蘭的領土之一 (B)成為荷蘭向日本傳教的跳板 (C)以臺灣做為國際貿易的轉運站 (D)成為荷蘭在西太平洋發展酪農業的基地。

- 46.附表是17世紀時與臺灣有關的幾件大事。請按時間先後順序排列，何者正確？

甲	郭懷一起事反抗荷蘭暴政
乙	西班牙被迫放棄北臺灣
丙	沈有容於澎湖逼退荷蘭
丁	聯合東印度公司建熱蘭遮城

(A)丙甲丁乙 (B)丁丙乙甲 (C)丙丁乙甲 (D)丁乙甲丙。

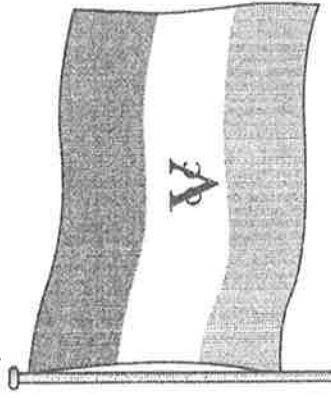
- 47.17世紀時，日本實施鎖國政策，只准許哪兩國可到長崎進行貿易？(甲)荷蘭(乙)中國(丙)西班牙(丁)葡萄牙 (A)甲乙 (B)甲丙 (C)甲丁 (D)乙丁。

- 48.1630年代，日本結束了在臺灣的活動，同時西班牙也逐漸放棄經營臺灣，此二者的動向與下列何者有關？ (A)聯合東印度公司已控制全臺灣 (B)日本實行鎖國政策 (C)臺灣爆發大規模反抗運動 (D)日本與荷蘭發生軍事衝突。

49. 原住民族群中，下列何者是目前最晚獲得正名的族群？ (A)撒奇萊雅族 (B)太魯閣族 (C)

賽德克族 (D)卡那卡那富族。

50. 附圖是 17 世紀某家貿易公司的旗幟，此家貿易公司在政府的支持下，壟斷東方貿易，並與臺灣歷史息息相關。請問：此旗應該會在下列何地出現？



(A) 1624 年的聖多明哥城 (B) 1650 年的熱蘭遮城 (C) 1670 年的全臺首學 (D) 1896 年的臺灣總督府。

