

◎單一選擇題：每題 2 分，共 50 題

1. 下列有關中國疆域特色的敘述中，何者並不正確？

- (A) 中國疆域大多位於溫帶地區 (B) 中國面積廣大，僅次於俄羅斯、加拿大和美國  
(C) 中國東側面臨太平洋 (D) 中國西部與歐洲地區直接相連

2. 1949 年，中共解放軍擊退國民政府軍隊，先後取得廣州、廣西、貴州，最後攻陷雲南，來不及撤離的國民政府軍隊，只好從雲南西部的縱谷南下進入鄰國以伺機反攻。上文所指的鄰國為下列哪一個國家？ (A) 緬甸 (B) 柬埔寨 (C) 印度 (D) 哈薩克

3. 「近年來，中國因國內森林資源的嚴重缺乏，頒布了禁伐令，以減少國內木材的砍伐，但卻把對木材的需求轉向了北方鄰國，於是在過去的兩年內由該國進口的木材量增長了十倍。」文中的「北方鄰國」指的應為何國？ (A) 北韓 (B) 巴基斯坦 (C) 哈薩克 (D) 俄羅斯

4. 中國領土多位於中緯度地區，請問：下列哪一個地理現象與中國「位於中緯度地區」有關？

- (A) 地形起伏大 (B) 氣溫適中 (C) 雨量較少 (D) 民族眾多

5. 依緯度的分布判斷，中國缺乏哪種氣候帶分布？

- (A) 熱帶氣候 (B) 副熱帶氣候 (C) 溫帶氣候 (D) 寒帶氣候

6. 中國土地面積廣大，雖然使用統一標準時間，但各地的日出時刻相差很大。請問：右圖中，哪一地點會最晚看到一天的日出？ (A) 甲 (B) 乙 (C) 丙 (D) 丁

7. 下列關於中國行政區的敘述中，何者正確？

- (A) 直轄市有北京、上海、廣州、重慶共 4 個 (B) 香港及澳門為自治區 (C) 共有 4 個特別行政區 (D) 特別行政區與直轄市在行政組織的地位相當。

8. 中國的行政區中，因歷史背景使當地擁有自行流通的貨幣，也可以自行訂定當地法律的地區為下列何者？ (A) 直轄市 (B) 自治區 (C) 特別行政區 (D) 經濟特區


9. 中國有許多高大綿長的山脈，具有自然與人文的阻隔性。請問：哪座山脈為中國、印度國界？

- (A) 岡底斯山 (B) 喜馬拉雅山 (C) 武夷山 (D) 大興安嶺

10. 中國東半部的山脈，如大興安嶺、長白山等，受板塊擠壓的影響，多呈現下列何種走向？

- (A) 東北——西南走向 (B) 西北——東南走向 (C) 東——西走向 (D) 南——北走向

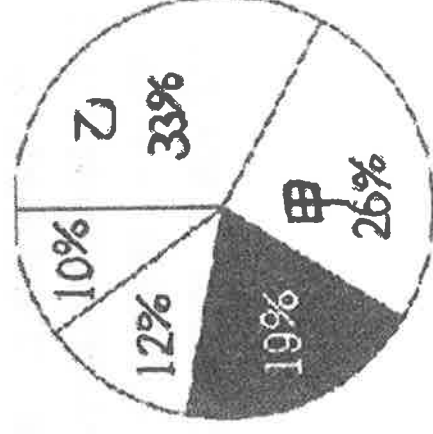
11. 右圖為中國某一盆地的地形剖面圖。由圖中地形的相對位置及特徵判斷，該盆地為下列何者？ (A) 柴達木盆地 (B) 準噶爾盆地 (C) 塔里木盆地 (D) 四川盆地



12. 承上題，請問箭頭所指方向為何？

- (A) 東 (B) 西 (C) 南 (D) 北

13. 右圖為中國五大地形比例所繪製的圓餅圖，圖中的甲、乙兩區域分別代表哪兩種地形？



- (A) 高原、丘陵 (B) 平原、盆地 (C) 盆地、山地 (D) 高原、山地

14. 「中國西部深入亞洲內陸，是陸上商旅行走歐洲、西亞的要道；沿海地區進出口貿易便利，與外國接觸早且頻繁，乃成為中國目前經濟最活躍的地帶。」上文是描述中國哪個地理特色的優越性？ (A) 面海背陸 (B) 位居中緯度 (C) 鄰國眾多 (D) 面積廣大

15. 中國的海岸線綿長，各段海岸地形有所不同。請問：若以沙岸和岩岸的分類來看，兩種海岸的分界大致在下列何處？ (A)珠江河口 (B)廈門灣 (C)杭州灣 (D)黃河河口

16. 據報載：「中國有意在某一小島上興建軍事碼頭，因而引起菲律賓政府的高度重視與不滿，兩國關係降至冰點……。」請問：此座小島最可能位在哪個海域？

- (A)東海 (B)南海 (C)黃海 (D)太平洋

17. 青藏高原地勢高峻，有「世界屋脊」之稱。請問：該地區主要是哪兩個板塊推擠而成？

- (甲)太平洋板塊 (乙)印澳板塊 (丙)歐亞板塊 (丁)菲律賓海板塊  
(A)甲乙 (B)乙丙 (C)甲丙 (D)丙丁

◎右圖為中國地理區簡圖。請問：

18. 將中國畫分為圖中的三大地理區，主要依據為何？

- (A)行政管理的界線 (B)經濟發展的差異 (C)地形種類的不同 (D)綜合自然與人文因素




19. 圖中北部、南部兩區的主要地理界線為下列何者？

- (A)秦嶺、淮河 (B)秦嶺、黃河 (C)南嶺、長江  
(D)大興安嶺、長城

20. 圖中哪個地區內的「自治區」最多？

- (A)北部 (B)南部 (C)西部

21. 山脈受板塊擠壓方向的影響，呈現不同的走向。小雨將中國山脈的主要走向及原因整理成表格，但似乎有些地方弄錯了。請問下列何者並不正確？


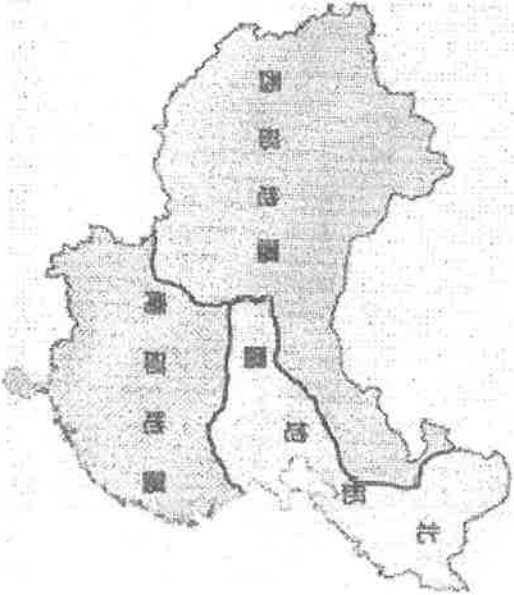
山脈	走向	原因（由哪兩個板塊擠壓而成？）
(A)太行山		歐亞板塊、太平洋板塊
(B)天山		太平洋板塊、印澳板塊
(C)喜馬拉雅山		歐亞板塊、印澳板塊
(D)武夷山		歐亞板塊、太平洋板塊

22. 中國國土面積廣大，面積約 960 萬平方公里，下列哪一現象是「中國面積廣大」所帶來的影響？

- (A)以溫帶氣候為主 (B)對外貿易發達 (C)自然資源豐富 (D)多高山高原

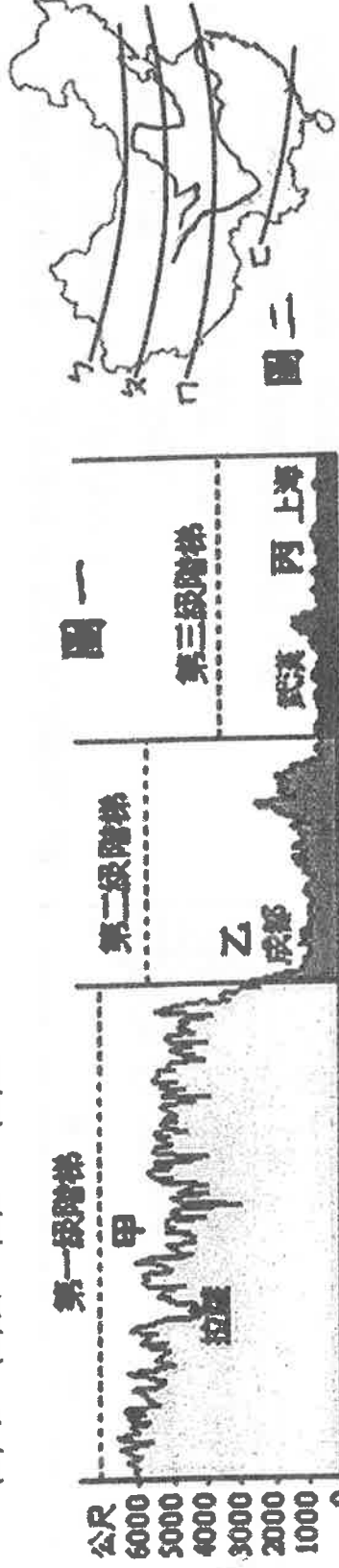
23. 右圖為中國某高原的地形剖面圖。由圖中資料判斷，其最有可能是下列哪個高原？

- (A)黃土高原 (B)雲貴高原 (C)青藏高原 (D)內蒙古高原



38. 圖(一)為中國地形剖面圖，請問是根據圖(二)中哪一條剖面線所繪製而成？

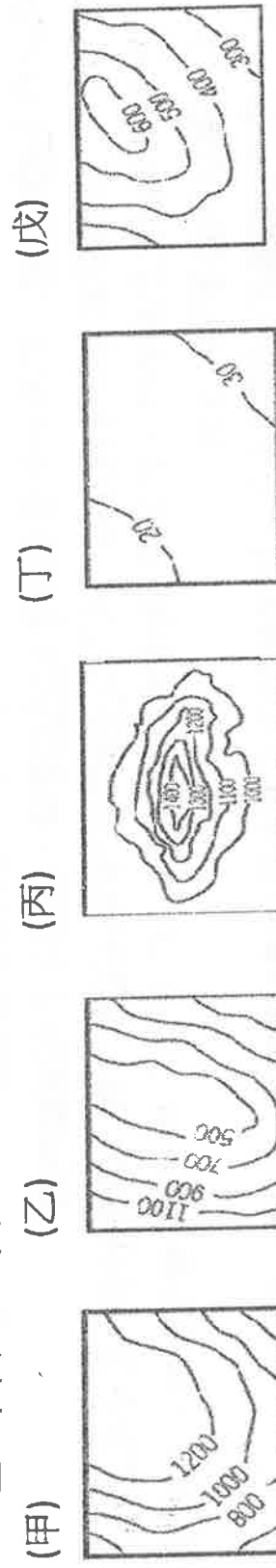
- (A)ㄅ (B)ㄆ (C)ㄗ (D)ㄘ



圖二

39. 承上題，從圖(一)可得知中國地勢呈現三級階梯。請問第二級階梯的地形以下列哪兩種地形為主？(A)甲乙 (B)甲丙 (C)乙丁 (D)丁戊

- (甲) (乙) (丙) (丁) (戊)



◎右圖為中國主要地形分布圖，請回答下列問題：(甲~丙為盆地；A~D為高原；①~④為平原)

40. 馬拉松好手小雨想橫越中國最大的沙漠，請問應該到下列哪一個地形區？

- (A)甲 (B)乙 (C)A (D)B

41. 小宇的家鄉自古物產豐饒，是有「天府之國」美名的四川盆地。請問位於圖中何地？

- (A)甲 (B)乙 (C)丙

42. 小禹在珠江三角洲最大的都市—廣州工作，請問位於圖中何處？

- (A)① (B)② (C)③ (D)④

43. 中國面積最廣大，人口密度較低的平原位於圖中何處？(A)① (B)② (C)③ (D)④

44. ③平原主要是由下列哪一條河川沖積而成？

- (A)黑龍江 (B)珠江 (C)長江 (D)黃河

45. 哪一座高原有「世界屋脊」之稱，高原面上布滿如青海湖等冰蝕湖？(A)A (B)B (C)C (D)D

46. 哪一個地形區以石灰岩為主，溶蝕作用旺盛，因而崎嶇不平？(A)甲 (B)乙 (C)C (D)D

- (B)阿爾泰山 (C)太行山 (D)崑崙山

◎右圖為中國地勢三級階梯示意圖。請問：

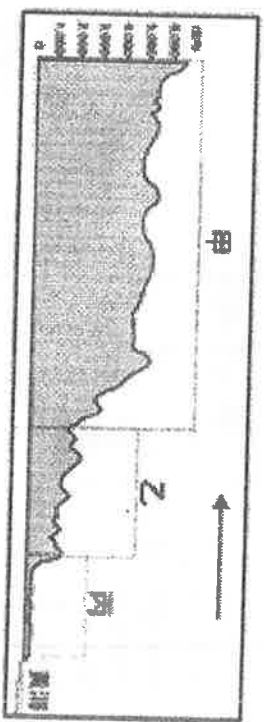
48. 中國的地形劃分為三級階梯，西高東低，層層下降。請問：下列哪一現象與此特徵較有關係？

- (A)河川源遠流長，支流眾多 (B)降雨時空分布不均 (C)有利太平洋暖溼氣流深入內陸 (D)地形種類豐富，生態多樣

49. 圖中第一級階梯的主要地形為下列何者？

- (A)青藏高原 (B)黃土高原 (C)準噶爾盆地 (D)雲貴高原

50. 第三級階梯以下列哪些地形為主體？(A)丘陵、平原(B)高原、盆地(C)高原、平原(D)山地、丘陵



24. 右圖為沿著北緯 36 度所畫的中國地形剖面圖。請問：圖中箭頭所指的方向為何？

- (A)東 (B)西 (C)南 (D)北

25. 下列何者是圖中乙區的特徵？

- (A)地形平坦的高原 (B)乾燥荒涼的沙漠  
(C)物產豐富的盆地 (D)受流水侵蝕的高原

26. 右圖中丙地最可能是下列哪個平原？

- (A)東北平原 (B)華北平原 (C)長江中下游平原 (D)珠江三角洲

◎來自中國的小龍，利用今年暑假到澳洲雪梨遊學。請回答下列相關問題：

27. 首先，老師要求全班自我介紹，以下是小龍說明家鄉中國的位置，請選出哪一部分說法並不正確？(A)中國位於東半球、北半球 (B)中國所跨緯度為  $28^{\circ}\text{N}\sim 73^{\circ}\text{N}$  (C)中國位於太平洋的西側 (D)中國位於俄羅斯的南方

28. 小龍來到雪梨的季節是冬天，而他所居住的城市是中國的直轄市，冬天比雪梨更冷，甚至還會下雪。請問：他應該是居住在下列哪一城市？ (A)北京 (B)烏魯木齊 (C)哈爾濱 (D)上海

29. 小龍從中國來到雪梨( $151^{\circ}\text{E}$ ,  $20^{\circ}\text{S}$ )遊學，應該如何調整手錶，以符合當地時間？

- (A)調慢 2 小時 (B)調快 2 小時 (C)調慢 5 小時 (D)調快 5 小時

30. 遊學的行程到了澳洲著名大堡礁，小龍在當地浮潛，看到各式的熱帶魚類、珊瑚礁。在中國哪一省也有類似的自然生態，成為熱門度假勝地？ (A)河南 (B)湖南 (C)海南 (D)雲南

31. 遊學結束後，小龍邀請他的同學假期來中國遊玩，可以體驗少數民族的文化。請問：下列哪一個行政區較不容易體驗少數民族的文化？(A)新疆 (B)廣西 (C)廣東 (D)寧夏

◎右圖中甲—戊為中國的自治區，請依序回答下列問題：

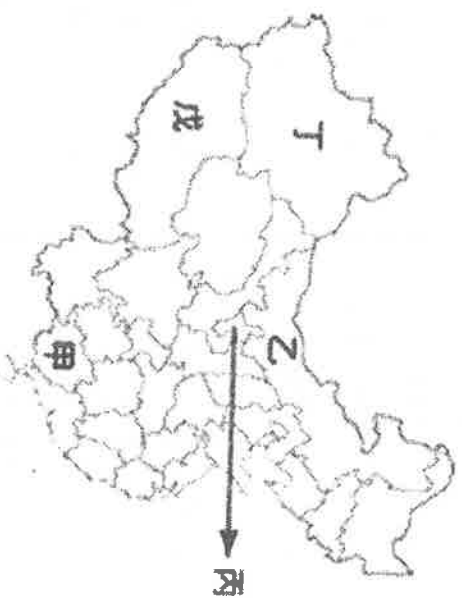
32. 哪個自治區是壯族主要的分布地區？

- (A)甲 (B)乙 (C)丁 (D)戊

33. 若想要體驗在天山附近的游牧民族文化，應該前往圖中何處？ (A)甲 (B)丙 (C)丁 (D)戊

34. 圖中那些自治區所在的地形以高原為主？

- (A)甲乙 (B)乙丙 (C)丙丁 (D)乙戊



◎右圖中甲—丁為中國的直轄市，請依序回答下列問題：

35. 「座落於長江三角洲，瀕臨東海，原本是個小漁村，自鴉片戰爭清廷戰敗被迫開港通商後，因地處中國海岸線中央位置，工商業發展迅速，短短不到一百年的時間，就成為中國第一大港市。」請問：上文所指的是下列哪個城市？

- (A)甲 (B)乙 (C)丙 (D)丁

36. 「中國北部的經濟、金融中心，也是北方最大的港口，交通便利。」請問：上文所指的是下列哪個城市？

- (A)甲 (B)乙 (C)丙 (D)丁

37. 中國面積最大的直轄市—重慶市，位於圖中何處？

- (A)甲 (B)乙 (C)丙 (D)丁

