

一、選擇題 每題 2 分 共 60 分

姓名： 座號：

重視學術自由 (C)都強調教育的重要性 (D)都促使科技文化更為發達。

9. () 附表是家佳在上課時所整理的表格，但其中哪個項目的內容是錯誤的？

項 目	西 漢	東 漢
(A)建國者	劉 邦	劉 秀
(B)首 都	長 安	洛 陽
(C)特 色	首創年號	幼帝即位
(D)滅亡之因	群雄割據	外戚奪權

10. () 壹電視臺要籌拍一齣漢朝歷史的古裝連續劇，在這齣連續劇中，不可能會看到何人的出現？ (A)李斯 (B)項羽 (C)劉邦 (D)王莽。

11. () 數年前兵馬俑曾來到臺灣展覽，造成不小的轟動，許多民眾爭睹二千多年前遺留下來的珍貴歷史遺產。請問：此文物應出土於下列何人的陵寢？ (A)項羽 (B)秦始皇 (C)漢高祖 (D)漢武帝。

12. () 小小魚在一本歷史故事書上看見如附圖的漫畫。根據圖中內容判斷，圖中人物最可能為下列何者？ (A)晉文公 (B)楚莊王 (C)宋襄公 (D)齊桓公。



13. () 從秦朝到東漢中期，歷代都面臨北方強大異族的武力威脅。請問：此異族的名稱是下列何者？ (A)犬戎 (B)烏孫 (C)匈奴 (D)大月氏。

14. () 慧玲在觀看中國歷史劇時，發現劇中的君主都自稱為「朕」，而人民則稱呼君主為「皇帝」。請問：這樣的稱號的創立，與下列哪個君王有關？ (A)漢武帝 (B)嬴政 (C)劉邦 (D)王莽。

15. () 中國的兩漢時代，有豐富的學術資產

1. () lol 軟體遊戲公司發行「黃帝傳說」的線上遊戲，玩家可在背景資料中發現哪一段文字敘述？ (A)為三皇領袖之一 (B)名列五帝之首 (C)象徵中國君位世襲制度之始 (D)是三代著名的賢君之一。


2. () 某考古團隊，曾在中國黃河流域一帶，挖掘到一處新石器時代的文化遺址。就你對新石器時代的認識，遺址中可能會出土哪種物品？ (A)青銅器 (B)黑陶 (C)鐵製農具 (D)甲骨文。

3. () 漢朝的絲綢之路東起長安，西至大秦。請問：漢朝所稱的「大秦」是指當時哪個國家？ (A)匈奴 (B)羅馬帝國 (C)烏孫帝國 (D)大月氏。

4. () 中國歷史上的傳說時代，結束禪讓制度，從何時開始「家天下」的局面？ (A)黃帝時代 (B)堯舜時代 (C)夏朝 (D)商朝。

5. () 春秋戰國時代，開始出現貴族沒落、平民崛起的現象，主要因素為何？ (A)國君以才能為用人標準 (B)貴族完全沒有行政能力 (C)平民越來越聰明 (D)物價飆漲，貴族變成窮人。

6. () 附圖是中國錢幣演進示意圖。請問：圖中的「？」可用下列哪段文字資料來解釋？ (A)漢武帝推行專賣制度 (B)漢初時重新經營西域 (C)秦始皇鞏固統治的措施 (D)王莽主導進行改革運動。



7. () 西周建國後大封諸侯，以鞏固統治基礎。請問：此種政治型態屬於下列何者？ (A)封建制度 (B)中央集權 (C)禪讓制度 (D)部落聯盟。

8. () 「秦始皇焚書坑儒與漢武帝獨尊儒術，其實兩者有異曲同工之妙。」文中所謂的「異曲同工」之妙所指為何？ (A)都在進行思想控制 (B)都

和科技發明，但下列哪一項並非這個時期的成就？ (A)張機的《傷寒雜病論》 (B)張衡的渾天儀 (C)指南車的發明 (D)蔡倫改良造紙術。

16. () 「萬里長城」是當今世界上最壯觀的建築，在秦朝時，萬里長城便是一道強而有力的國防屏障，阻擋外敵南下入侵。這裡所謂的「外敵」，是指下列哪個民族？ (A)狄 (B)南越 (C)犬戎 (D)匈奴。

17. () 西周建國後不久，即發生影響國家的重大危機——管蔡之亂，幸好有哪位人物帶兵東征，使國家免於覆亡？ (A)周武王 (B)周公 (C)周幽王 (D)周平王。

18. () 珮真翻閱《史前時代傳說》一書，其中有一篇名為「三皇」篇，她在此篇文章中，可以看到下列何者的事蹟？ (A)黃帝 (B)燧人氏 (C)禹 (D)周公。

19. () 中國史前文化分區發展，各有特色。關於中國史前文化的敘述，下列何者正確？ (A)舊石器時代：北京人：懂得製陶 (B)新石器時代：仰韶文化：居住在半穴居之中 (C)新石器時代：河姆渡文化：以小米為主要作物 (D)新石器時代：龍山文化：懂得製作鐵器。

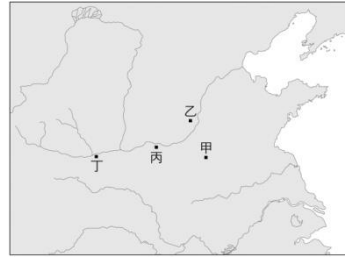
20. () 就夏商周三代的起源地來看，其地理位置應該為何？ (A)周在中間，商偏西，夏偏東 (B)夏在中間，周偏西，商偏東 (C)商在中間，夏偏西，周偏東 (D)興起於同一地區。

21. () 春秋戰國時期社會的變動相當劇烈，其中不包括下列何者？ (A)商人地位提高 (B)土地私有制度形成 (C)井田制度的實施 (D)學術思想的自由。

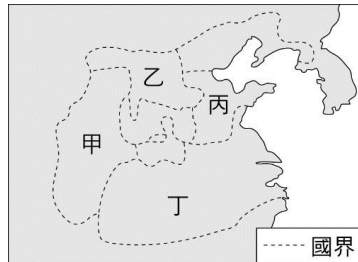
22. () 自古以來北方草原民族常與南方農業民族發生衝突。下列何者是秦朝與漢朝面對匈奴威脅時採取的共同策略？ (A)以武力加以征討 (B)選派公主和親 (C)派遣使者出訪西域 (D)簽訂條約以維持和平。

23. () 商朝時，因為紂王連年對外征戰，使得國力衰竭，周武王便聯合反對紂王

的諸侯滅商。請問：周武王以附圖中的何地為根據地，進行討伐紂王的行動？ (A)甲 (B)乙 (C)丙 (D)丁。



24. () 附圖是戰國時期的形勢圖。請問：最後爭霸並統一天下的是圖中哪個地區的國家？ (A)甲 (B)乙 (C)丙 (D)丁。



25. () 春秋戰國時期，中國經濟產生結構性的轉變，下列哪些項目內容符合史實？ (甲)封建解體，土地逐漸私有化 (乙)手工業與商業興盛，促成貨幣流通與城市興起 (丙)各國政府開始實施井田制度 (丁)木製農具與馬耕技術提高農作效率 (A)甲乙 (B)甲丁 (C)乙丙 (D)丙丁。

26. () 西漢到漢武帝在位時期，國力達到頂盛，但也因為太專注於哪個政策，太過消耗國力，使得王朝步入中衰？ (A)實施無為而治的政策 (B)實行土地改革，朝令夕改 (C)積極派兵討伐匈奴 (D)興建長城，耗費龐大人力物力。

27. () 春秋後期，強國併弱國的現象日趨顯著，戰國時代則形成七國競逐的局面。請問：下列哪些國家屬於戰國七雄？ (甲)晉國 (乙)秦國 (丙)魏國 (丁)越國 (戊)楚國 (A)甲乙丙 (B)乙丙丁 (C)乙丙戊 (D)丙丁戊。

28. () 新朝末年各地亂事紛起，他以「復興漢室」為號召，在王莽改革失敗的情形下，人心思漢，使他掌握有利的時機。大戰中，他大敗王莽的軍隊，並

陸續攻陷洛陽與長安，王莽被殺，新莽滅亡。上文中的「他」應是下列何者？ (A)劉邦 (B)劉徹 (C)劉秀 (D)劉備。

29. () 歐老師說道：「經過這件事情之後，西域地區的音樂、繪畫、佛教、雜技、食物等陸續傳入中國，不但豐富了中國文化的內涵，也使東西文化的交流更為頻繁。」老師所提的應該是哪件事情？ (A)楚漢相爭 (B)管蔡之亂後，周公建立東都 (C)漢武帝獨尊儒術 (D)張騫通西域。
30. () 東漢末年，張角以「蒼天已死，黃天當立」為口號，聚集民眾反抗政府。請問：關於此事件的敘述，下列何者錯誤？ (A)導致東漢末年地方擁兵自重、群雄割據的局面 (B)發生背景與各地災荒不斷有關 (C)此事件被稱為犬戎之亂，最後由周公平定 (D)張角以宗教為名，領導信徒起兵叛變。

二、整合題 每題 2 分 共 40 分

1. 梁潮偉、木村石哉、張更碩在看電視新聞，三人有感於臺灣政治社會的亂象，紛紛提出了他們對於政治的看法——

梁潮偉說：「政府應該任用德行高超的君子，並以道德和禮儀來教導人民，這才是治國良策。」

木村石哉反駁：「只是靠道德並不能使國家安定，必須『亂世用重典』，才能改善政治社會弊病。」

張更碩說：「依我看現在的社會亂象都是人為造成的，應該要放棄那些做作的政治制度，追尋個人的自由。」請根據上述三人的說法，請回答下列問題：

() (31) 梁潮偉的說法類似於春秋戰國時代的哪一學派？ (A)道家 (B)法家 (C)儒家 (D)墨家。

() (32) 張更碩若生活在春秋戰國時代，他所屬學派的代表人物應該是誰？ (A)韓非與商鞅 (B)老子與莊子 (C)孟子與荀子 (D)張儀與范雎。

() (33) 木村石哉所說的「亂世用重典」，是指國君要用哪些策略來控制臣民？ (甲)權術 (乙)仁政 (丙)刑罰 (丁)無為 (戊)威勢 (A)甲乙丙 (B)甲丙戊 (C)乙丙丁

(D)乙丙戊。

() (34) 如果梁潮偉、木村石哉、張更碩三人都生活在戰國時代，你認為哪一個人的主張會比較受到當時秦國國君的歡迎？ (A)梁潮偉 (B)木村石哉 (C)張更碩 (D)三人的說法都無法受到重視。

2. 嬴政經過 25 年的奮鬥後，終於實現統一中國的梦想。為了維護得來不易的成果，嬴政採行了一些新措施。內政方面，致力於統一全國的政策，由其直接任命地方行政區的首長，以免地方勢力日益坐大。外交方面，嬴政為有效維護邊境的安全，派遣將士 30 萬打敗北方的草原民族，並調派大量的民工興建萬里長城。嬴政處心積慮地鞏固皇室的統治，但他死後三年，國家即宣告滅亡。請回答下列問題：

() (35) 文中多次出現的嬴政，指的是下列哪位君王？ (A)漢高祖 (B)秦始皇 (C)秦二世 (D)東漢光武帝。

() (36) 嬴政統一的文物當中，並未涵蓋下列何者？ (A)車軌 (B)度量衡 (C)語言 (D)文字。

() (37) 嬴政時代，中國採行以下哪種地方行政區？ (A)郡縣制度 (B)封建制度 (C)井田制度 (D)土地國有制度。

() (38) 上文提及的「草原民族」，應為下列何者？ (A)犬戎 (B)烏孫 (C)月氏 (D)匈奴。

() (39) 萬里長城現今多已毀壞，今日在中國所看到的長城是哪個朝代所興建的？ (A)漢朝 (B)唐朝 (C)宋朝 (D)明朝。

3. 對許多中國人來說，上山掃墓、節日祭祖拜神成為生活中很重要的一部分，也構成中國宗教禮俗文化中很重要的一部分。請回答下列問題：

() (40) 這種慎終追遠的孝道思想、宗教觀念從哪一時期即開始流傳？ (A)黃帝時代 (B)夏朝 (C)商朝 (D)周朝。

() (41) 在商朝人定期祭祀的三類對象中，「祖先」應被歸類於哪一類？ (A)天神 (B)佛祖 (C)地祇 (D)人鬼。

() (42) 從下列哪一現象可以看出商人對於宗教信仰的重視？ (A)二里頭文化遺址出

土了一座大型宮殿的建築基址 (B)商朝留下的青銅工藝品中，禮器和兵器為最大宗 (C)商人已開始實施宗法制度 (D)商人已知使用貨幣。

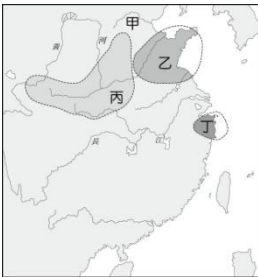
4. 博望侯帶著隨從出發，到達西域的大月氏後，向其領袖表達漢武帝想結盟以共同對抗塞北第一強國的意願，但大月氏不想開啟戰端，因此拒絕了博望侯，博望侯感到失望，但也只能回國向漢武帝報告此次出使的結果。後來博望侯第二次奉命出使西域，這次是要聯絡烏孫，以實現夾擊塞北第一強國的目標，但烏孫並未答應博望侯的要求，只同意派遣使者跟著博望侯到中國來。請回答下列問題：

() (43) 根據文中描述判斷，博望侯應該是下列哪一個人物？ (A)班超 (B)班固 (C)張騫 (D)張衡。

() (44) 博望侯曾兩度出使西域，「西域」的分布範圍為何？ (A)整個西伯利亞地區 (B)新疆與帕米爾高原以西的地區 (C)僅限羅馬帝國統治的地區 (D)這是西藏自治區的古代名稱。

() (45) 文中兩次出現的「塞北第一強國」，應是下列哪個國家？ (A)烏孫 (B)犬戎 (C)匈奴 (D)大月氏。

5. 附圖是中國史前文化重要遺址分布圖。請回答下列問題：



() (46) 根據此圖內容，可知中國古代文明的起源有何特點？ (A)僅在黃河流域有文明的出現 (B)長江流域是中國古文明最主要的發源地 (C)中國東南沒有古文明的出現 (D)中國文明的起源是多元並立的。

() (47) 考古學家在黃河流域挖掘出的陶壺風格為漆黑光亮，薄如蛋殼。此類型的陶壺可能是在圖中的何處被發現？ (A)甲 (B)丙 (C)丁 (D)乙。

() (48) 為了防止潮溼及避蟲蛇，圖中(丁)處的人類住屋是下列哪一種？ (A)宮殿建築 (B)天然山洞 (C)干欄式建築 (D)半穴居。

() (49) 圖中(甲)地出土了中國舊石器文化的重要文化，這個文化可以下列何者為代表？ (A)北京人 (B)龍山文化 (C)仰韶文化 (D)河姆渡文化。

() (50) 如果考古學家找到了碳化的稻穀遺物，最可能是在下列何處？ (A)甲 (B)乙 (C)丙 (D)丁。