

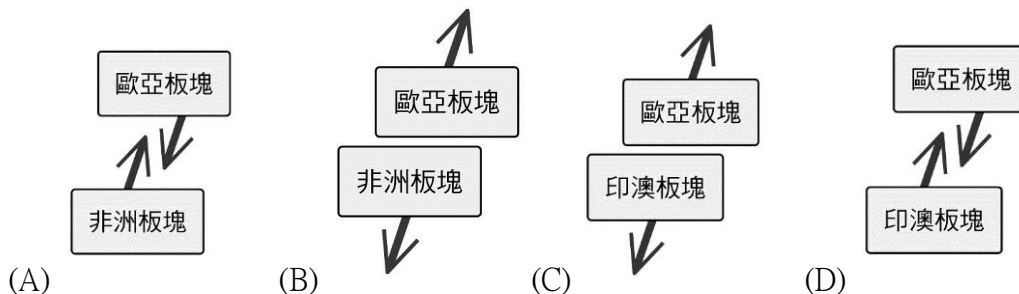
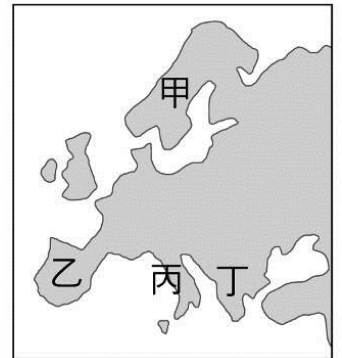
國三地理科試卷

一、單選題（每題 2 分，共 50 題）

_____班 _____號 姓名_____

※右圖為歐洲四大半島，請回答下列問題：

1. 圖中哪個地區有冰蝕形成的峽灣地形，利於航運與漁業的發展？
(A)甲 (B)乙 (C)丙 (D)丁。
2. 承上題，形成此種地形的主要營力為何者？
(A)內營力，冰河(B)內營力，風力(C)外營力，冰河(D)外營力，風力
3. 峽灣的前身是 U 形谷，形成峽灣表示當地海陸升降的情形應為何？
(A)海面上升，陸地上升 (B)海面上升，陸地下沉 (C)海面下降，陸地上升 (D)海面下降，陸地下沉。
4. 南歐受板塊擠壓，多火山與地震，如龐貝城即因火山爆發，整座城市被火山灰掩埋，消失於歷史中。上述的古城位於附圖中的哪個區域？
(A)甲 (B)乙 (C)丙 (D)丁
5. 承上題，南歐多火山、地震，地形呈現崎嶇多山的特色，若將此區的板塊名稱及活動方向畫成示意圖，應最接近下列哪張圖？



6. 時尚玩家節目到「丁」附近的島嶼上拍攝當地的日落，襯著滿天紅色晚霞，夕陽西斜，海面閃著金光。此時主持人阿翔要介紹這個景色，下列哪個說法是正確的？
(A)你看！夕陽緩緩落入北海了 (B)你看！夕陽緩緩落入愛琴海了 (C)你看！夕陽緩緩落入波羅的海了 (D)你看！夕陽緩緩落入大西洋了。
7. 承上題，主持人阿翔緊接著轉往「丙」區錄影，發現當地保留許多美麗的建築與藝術作品，請問在丙區阿翔「無法」看到下列何者？
(A)聖家堂 (B)比薩斜塔 (C)聖彼得大教堂 (D)水都威尼斯。
8. 華裔服裝設計師為展現東方風味，打算邀請臺灣的模特兒到米蘭走秀，經紀公司應安排旗下模特兒前往圖中哪個半島？ (A)甲 (B)乙 (C)丙 (D)丁。
9. 每四年舉行一次的奧運，總是在起源地以陽光點燃聖火火炬，再將聖火傳遞世界各地。所以奧運聖火每次都是由哪個半島為開始傳遞的？
(A)甲 (B)乙 (C)丙 (D)丁。

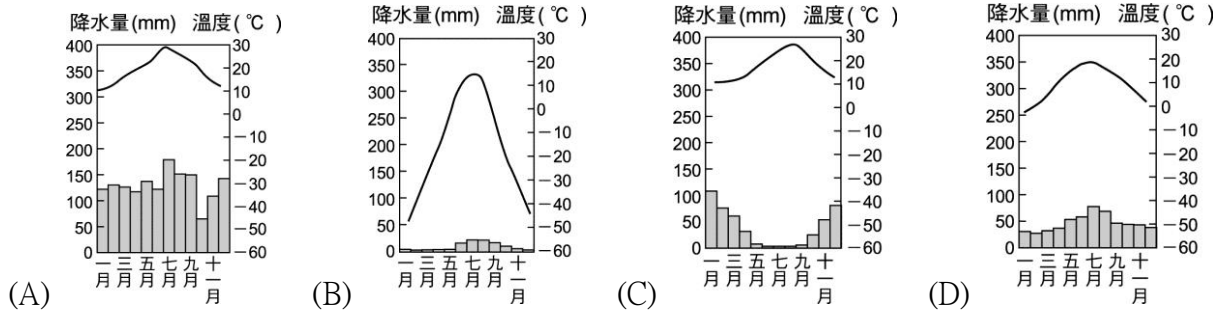
※第二次世界大戰結束之後，世界出現了各種區域性組織，請問：

10. 歐洲以經濟合作為起點組成共同體，進一步發行單一貨幣，並曾醞釀走向政治統合的是下列哪一組織？(A)歐洲聯盟(B)北大西洋公約組織(C)北美自由貿易區(D)亞太經濟合作會議。
11. 承上題，老師請同學們上臺發表對該組職的認識，附圖為四位同學的報告內容。請問：哪位同學的敘述錯誤？
(A)大雄 (B)小壯 (C)阿威 (D)老武。
12. 承上題，下列哪一個國家最沒有資格申請加入該組職？
(A)葡萄牙 (B)義大利 (C)哈薩克 (D)土耳其。
13. 新聞報導：「……石油價格將在明日清晨調漲。」小英上網查詢有關「石油價格」的國際組織資料。請問：她該輸入下列哪個國際組織的簡稱？
(A)EU (B)WTO (C)OPEC (D)APEC。
14. 承上題，目前哪一個國家最『不可能』加入該組職？
(A)科威特 (B)葡萄牙 (C)沙烏地阿拉伯 (D)阿拉伯聯合大公國。

大雄：簡稱「EU」
小壯：由歐洲所有國家組成
阿威：主要以歐元作為流通貨幣
老武：會員國享有免關稅優惠

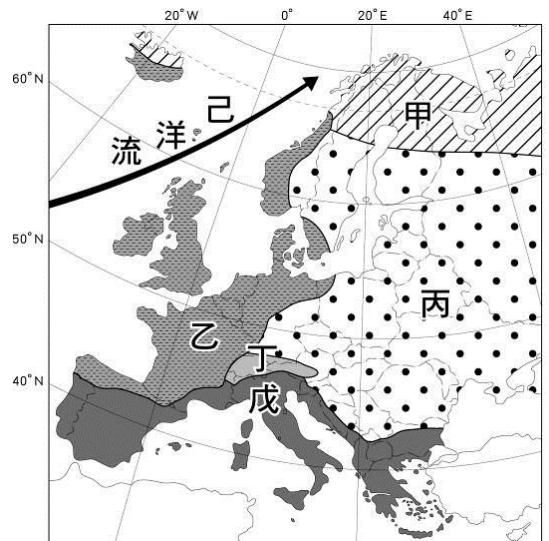
※「從飛機上往下望去，夾著點點綠叢，真令人以為到了另一個星球。下了飛機後，我們乘著旅行社租來的遊覽車，沿著海岸公路疾馳，那一點點的綠叢，近看原來是一株株的橄欖樹，與稀稀疏疏的灌木叢。」請回答：

15. 臺灣食用油爆發造假事件後，原本就熱銷的進口「橄欖油」更是狂賣，人類至少在兩千年前就知道利用橄欖，榨取其果核中的油脂成為食用油，今更成為當紅的健康油，因而橄欖油被譽為「液體黃金」。依產地氣候條件判斷，其發展農業最大的限制為何？ (A)氣候嚴寒，日照不足 (B)地形崎嶇，農業發展受限 (C)生長季與雨季無法配合 (D)暖流流經，氣候潮溼多雨。
16. 根據上文的描述，該地方最有可能位於哪一國家或地區？ (A)歐洲大平原 (B)阿拉伯高原 (C)西班牙南部 (D)挪威北部
17. 該地方的氣候最有可能屬於哪一種類型？ (A)寒帶氣候 (B)溫帶地中海型氣候 (C)溫帶海洋性氣候 (D)熱帶沙漠氣候。
18. 下列那一張氣候圖，最能顯示該地的氣候類型？



※右圖為歐洲氣候圖，請問：

19. 請問：圖中「乙」氣候類型，最可能是下列何者？ (A)溫帶大陸性氣候 (B)溫帶地中海型氣候 (C)溫帶海洋性氣候 (D)溫帶沙漠氣候。
20. 右圖中哪一個地區氣候，夏季炎熱乾燥，但冬季卻形成降雨，因此農業活動的發展需加強水利工程？ (A)甲 (B)乙 (C)丁 (D)戊
21. 歐洲各地區的氣候差異和其雨量的分布關係甚大。請問：圖中哪一個地區的降雨量最多？ (A)甲 (B)乙 (C)丙 (D)戊
22. 承上題，該地區的降雨量分布情況，主要受到下列哪一風向的影響最為明顯？ (A)東風 (B)西風 (C)南風 (D)北風。
23. 「己」洋流是指下列何者？ (A)秘魯涼流 (B)拉布拉多寒流 (C)黑潮 (D)北大西洋暖流



※今年暑假小英總統到世界各國進行友好之旅，以拓展台灣的外交實力，請問：

24. 首站小英總統到達台灣在歐洲唯一邦交國，該國雖然是歐洲面積最小、人口最少的國家，但卻廣泛的與世界各國建立邦交，並擁有著影響世界 1/6 以上人口的力量。請問：小英參觀的國家應該是下列何者？ (A)希臘 (B)教廷 (C)荷蘭 (D)瑞士。
25. 承上題，該地是哪一種宗教的信仰中心？ (A)佛教 (B)印度教 (C)天主教 (D)伊斯蘭教。
26. 小英接著前往附近城市進行觀光考察，參訪競技場，坐在河畔喝著咖啡，聽著古老教堂響亮的鐘聲。請問：小英最可能置身於下列哪個城市？ (A)威尼斯 (B)雅典 (C)耶路撒冷 (D)羅馬
27. 小英緊接著參觀附近的農莊，她最有可能看到的作物是下列哪一組？ (A)葡萄、柑橘 (B)茶園、甘蔗 (C)椰棗、咖啡 (D)香蕉、蘋果。
28. 承上題，小英考察時最可能遇到下列哪一個種氣候特色？ (A)傾盆大雨不斷 (B)氣候炎熱乾燥 (C)強勁西風吹拂 (D)強烈颱風侵襲。
29. 近年因印度禁運棉花及中國棉花歉收，造成國際棉花價格上漲，嚴重影響紡織業的發展。小英總統若想替臺灣的紡織業者解決原料困境，行程可考慮去下列哪個國家參訪？ (A)敘利亞 (B)以色列 (C)烏茲別克 (D)沙烏地阿拉伯。

※請根據右圖回答下列問題：

30. 地理雜誌上一篇報導寫著：「此湖泊位於中亞與西亞之間，因湖泊中的鱈魚能製作出高品質的魚子醬，使周邊國家以輸出魚子醬賺取大量外匯，卻也造成鱈魚面臨絕種的危機，國際間還曾對此地區的魚子醬發出出口禁令。」請問：報導中的湖泊位於圖中的何處？

(A)甲 (B)乙 (C)丙 (D)丁。

31. 哪一個國家控制「乙」海域的進出，並有「歐亞陸橋」之稱？

(A)西班牙 (B)希臘 (C)伊拉克 (D)土耳其

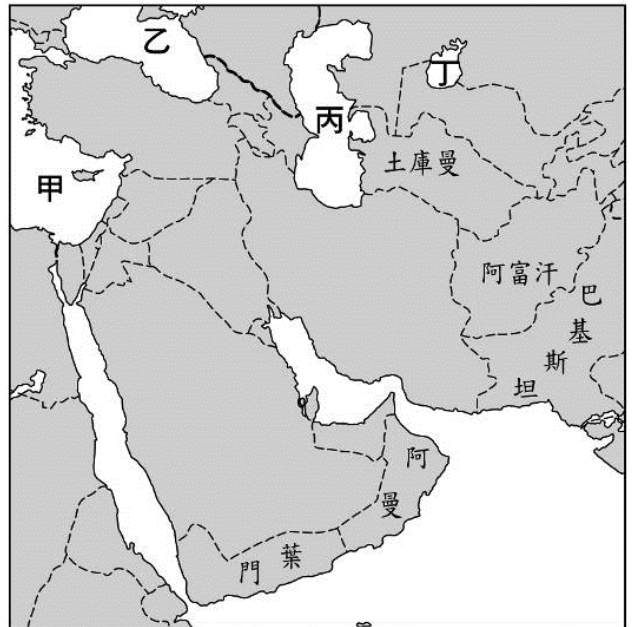
32. 「丁」區因過度引水灌溉形成嚴重的環境問題，若以此製作專題報告，報告名稱應以下列何者命名較合適？

(A)縮小的地中海 (B)縮小的裏海 (C)縮小的黑海 (D)縮小的鹹海。

33. 承上題，「丁」區大量引河水灌溉種植「白金」，造成土壤鹽鹼化問題。請問：「白金」應為下列何者？(A)茶葉 (B)棉花 (C)椰棗 (D)橄欖。

34. 承上題，「丁」區河流大多源自高山融化的雪水，屬於內流河。下列哪條河流與「丁」區河流性質最相似？

(A)塔里木河 (B)底格里斯河 (C)幼發拉底河 (D)多瑙河。



※右圖為西亞地區簡圖。請回答下列問題：

35. 哪個國家因位於兩河流域，為古巴比倫文明的發源地，其沿岸平原及綠洲成為本區重要的人口集中區？

(A)甲 (B)丙 (C)戊 (D)己

36. 某美式速食業者到「乙」開設分店，其店內「最不可能」販售下列何種商品？

(A) 卡拉雞腿堡 (B) 香香魚肉堡 (C) 雙層牛肉堡 (D) 豬肉滿福堡。

37. 伊斯蘭教徒每日須面向聖地麥加朝拜五次。請問：「麥加」位於右圖哪個國家內？

(A)乙 (B)丁 (C)戊 (D)己。

38. 承上題，台灣如果要增加西亞遊客，除了在台灣的飯店標示箭頭，指向聖地麥加，也要在遊樂園中興建禮拜的場所，以利伊斯蘭教教徒朝向聖城膜拜。根據二地的相對位置判斷，這些箭頭的方向應該指向何處？

(A) 東方 (B) 西方 (C) 南方 (D) 北方。

39. 右圖漫畫是描述「辛」地區兩個民族自古以來的糾紛。請問：關於當地衝突原因的敘述，何者正確？

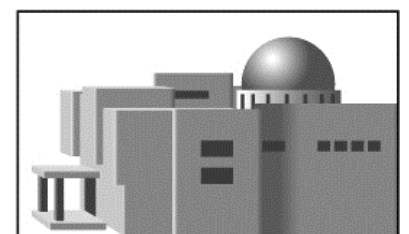
(A) 當地石油蘊藏豐富，雙方都想要爭奪 (B) 巴勒斯坦面臨印度洋，自古以來就是交通要衝 (C) 雙方信仰不同，爭奪聖地及土地引發了許多仇恨 (D) 兩國互相爭奪幼發拉底河的水資源。



40. 昔有波斯文明，並且以山牧季移、坎井水源維生的地區在圖中何處？(A)乙 (B)丙 (C)丁 (D)庚。

41. 「戊」區建築物大多如右圖所示，牆很厚、門窗很小，這和下列哪項因素最為相關？

(A)氣候環境 (B)宗教信仰 (C)政府法令 (D)產業活動



※一場自二戰以來最為嚴重的難民潮襲捲歐洲，也被稱為當今時代「最嚴重的人道危機」，請問：

42. 根據地緣因素，下列何者並「非」歐洲難民主要來源地區？

(A)西亞的敘利亞內戰 (B)伊拉克內戰 (C)非洲北部的經濟難民 (D)日本福島核災

43. 承上題，進入歐洲的難民比較「不可能」利用下那一個管道進入歐洲？

(A)從北非搭船橫渡，由地中海到達義大利半島 (B)從西亞開始步行，由安納托利亞高原進入歐洲 (C)從西亞搭船，由海上偷渡至巴爾幹半島 (D)由日本步行歐洲。


44. 歐洲難民問題越演越烈，但有學者認為此難民危機，逆轉為人口紅利的好機會，可以解決歐洲人口問題，請問下列對於歐洲整體人口敘述何者「錯誤」？(A)出生率低 (B)部分國家人口負成長 (C)醫藥進步，死亡率逐年降低 (D)人口老化情形日趨嚴重。

45. 右圖為一本介紹世界特色的文章上所看到的圖片，從圖片內容分析，這篇文章介紹的是下列何地？

(A)阿拉伯半島 (B)伊比利半島 (C)斯堪地那維亞半島 (D)巴爾幹半島。

46. 承上題，豐富的石油對於該地的影響，下列何者「錯誤」？

(A)經濟結構逐漸轉向工商業 (B)當地成為人口移出區 (C)多元發展，致力發展觀光業 (D)因石油資源的爭奪，引發更多紛爭。



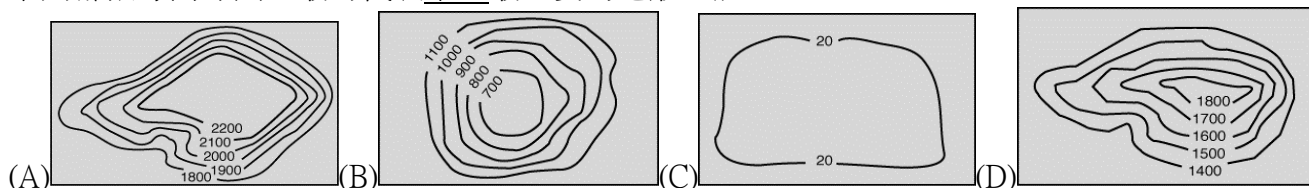
47. 全球知名的西班牙番茄節，每年都在「布尼奧爾鎮」熱鬧開戰，近兩萬人拿著大會提供的 130 噸番茄瘋狂互砸。今日西班牙所種植的番茄等蔬菜水果，不但大量銷往歐洲各地，其蔬果的出口總值也榮登西班牙主要外銷產品之一。請問：西班牙等南歐各國農業發展為何優於歐洲其他各地？

(A)地形平坦 (B)暖流流經 (C)西風吹拂 (D)緯度較低。

48. 有關於西亞與中亞的比較，下列何者正確？

地區	(A)主要地形	(B)主要氣候	(C) 主要宗教	(D)主要傳統經濟
西亞	盆地	熱帶乾燥	伊斯蘭	畜牧業
中亞	高原	溫帶乾燥	天主教	觀光業

49. 下列哪張等高線圖，最可代表中亞最主要的地形主體？



50. 右圖為西亞傳統駱駝商隊的漫畫示意圖。請問：漫畫是要表達西亞哪項重要的地理特徵？

(A)氣候乾燥少雨 (B)信仰伊斯蘭教 (C)蘊藏量豐富礦產 (D)歐洲與亞洲往來必經之地。

