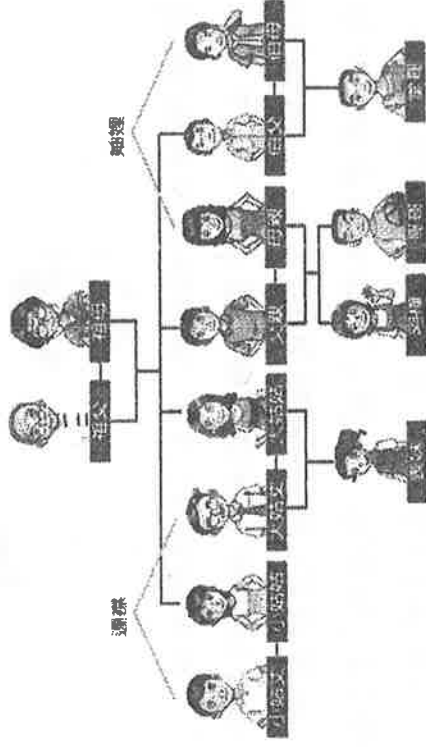


一、選擇題 每題2分 共70分

1、()美國紐約華爾街有許多銀行家辦理收養手續，只要等待兩年，就能有一個能帶給自己歡笑的小孩。請問：他們會收養小孩，通常是因為家庭的哪一項功能無法發揮所致？ (A)經濟功能 (B)保護與照顧功能 (C)教育功能 (D)生育功能。

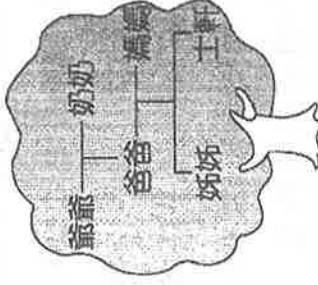
2、()下列哪一項敘述無法說明家庭的保護與照顧功能？ (A)在家庭中，我們可以得到安全感、歸屬感 (B)家庭是心靈的避風港 (C)當我們在外面受到委屈，遭遇挫折時，家是最好的療傷處 (D)俗語說：「傳宗接代」。

3、()請根據附圖判斷，阿樺的直系血親共有幾人？



(A)2人 (B)4人 (C)6人 (D)8人。

4、()附圖是士軒畫的家庭樹，由此圖可看出他的家庭屬於何種型態？

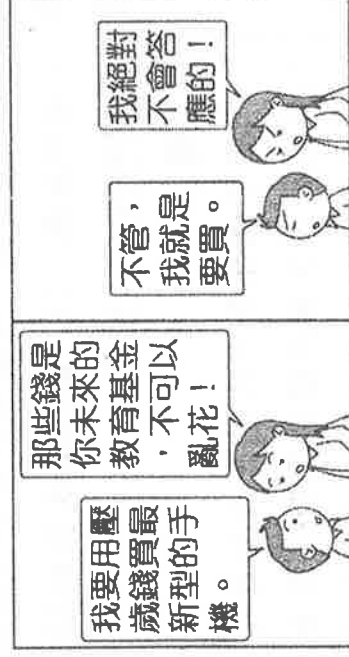


(A)小家庭 (B)三代家庭 (C)大家庭 (D)頂客家庭。

5、()俗語說：『細漢偷挽瓢，大漢偷牽牛』，這說明了家庭的哪一項功能沒有做好？ (A)教育 (B)生育 (C)經濟 (D)保護與照顧。

6、()「妯娌」之間具有親屬關係，而此關係屬於下列哪一種？ (A)兩個親兄弟的老婆 (B)大小S的先生 (C)婆婆與媳婦 (D)親家關係

7、()根據附圖的情境內容判斷，阿志和母親面臨何種類型的家庭衝突？



(A)家務分工的衝突 (B)生活習慣和意見的衝突 (C)同儕相處的衝突 (D)家庭經濟的衝突。

8、()春嬌帶著與前夫所生的小冬嫁給志明，志明若未辦理收養小冬的手續，則依《民法》而言，志明與小冬間的親屬關係為下列何者？ (A)直系血親 (B)姻親 (C)旁系血親 (D)擬制血親。

9、()據報導，有對夫妻因價值觀偏差，竟唆使子女以乞討維生，現在已由當地政府的社會局(處)

) 介入處理。請問：對於不適任的父母，政府可以採取下列何項措施來處理這對夫妻的偏差行為？ (A) 提供育嬰津貼 (B) 發放幼兒教育津貼 (C) 限制或禁止其行使親權 (D) 發給其子女保護令。

10、() 小琴聽奶奶說早期家裡是農家，小琴小時候都會看到雞在庭院跑，菜也都是吃自己種的，但自從全家搬來北部後，家鄉的田就賣掉了，現在食材都必須去外面購買。請問：從文中敘述可看出哪項家庭功能的轉變？ (A) 教育 (B) 生育 (C) 經濟 (D) 保護與照顧。

11、() 根據附圖兩人對話，姨丈的回答應該是下列何者？



(A) 血親的配偶的血親 (B) 配偶的血親的配偶 (C) 配偶的血親 (D) 血親的配偶。

12、() 今天是大雄外婆的生日，大雄非常感謝外婆的照顧，於是與家人一起到餐廳慶祝外婆的生日，請問：大雄與外婆是何種關係？ (A) 法定血親 (B) 自然血親 (C) 姻親 (D) 收養。

13、() 「收養」是指透過法律程序建立的親子關係，依我國(甲)法規定，若要收養必須向(乙)提出聲請。請問：上文中(甲)、(乙)依序應填入何者？ (A) 《憲法》、戶政機關 (B) 《憲法》、法院 (C) 《民法》、法院 (D) 《民法》、戶政機關。

14、() 老師上公民課時，請四位同學介紹自己家中互動的方式，哪一位同學的家庭互動最能避免衝突？ (A) 阿丹：我們家習慣將意見說出來互相討論 (B) 欣馨：我們家假日各自都安排自己的活動 (C) 阿宏：我們家都很少打招呼 (D) 小誠：我們家都以自己的決定為主。

15、() 某天晚上，媽媽跟爸爸討論是否讓欣宜去學習鋼琴，但爸爸很生氣的說：「為什麼需要學鋼琴又不是要當鋼琴家。」但媽媽覺得女孩子就應該學鋼琴。請問：上述是屬於何種家庭衝突的類型？ (A) 家庭經濟的衝突 (B) 時間分配的衝突 (C) 家務分工的衝突 (D) 生活習慣和意見的衝突。

16、() 鳳華結婚十年生了三個小孩，卻因為丈夫外遇和家暴而離婚。現在她為了獨自撫養孩子，每天在工地上班，扛水泥、挑磚頭，努力賺錢，就為了讓三個小孩健康長大。請問：鳳華和三個子女所組成的家庭是屬於下列哪一種？ (A) 新移民家庭 (B) 重組家庭 (C) 頂客家庭 (D) 單親家庭。

17、() 新婚不久的怡慧和朋友聚會時，拿著全家的合照向朋友介紹說：「這是我的公婆，這是我丈夫的姊姊，而這是我丈夫的弟弟。」請問：怡慧所介紹的這些人和怡慧間的親屬關係為下列何者？ (A) 血親的配偶 (B) 配偶的血親 (C) 配偶的血親的配偶 (D) 血親的配偶的血親。

18、() 下列報導顯示現代家庭浮現的何種問題？

社會前線

警方獲報某一民宅傳出女童尖叫哭喊聲，父親以曬衣架將 4 歲女童打得遍體鱗傷，宣稱是合理管教。因女童身上新舊傷交錯，社會局立即將女童緊急安置，並追究雙親的責任。

- (A)家庭暴力問題 (B)離婚問題 (C)老人照顧問題 (D)少子化問題。
- 19、()隨著社會變遷，家庭功能也受到影響。請問：因各種托育、安養機構的設立，使得家庭的哪一項功能逐漸被取代？ (A)保護與照顧 (B)經濟 (C)生育 (D)教育。
- 20、()歐文的媽媽是來自韓國，每到暑假，歐文都會跟媽媽和爸爸回韓國看外婆以及舅舅的兒子、女兒，請問歐文與舅舅是哪一種親屬關係？(A)姻親 (B)直系血親 (C)擬制血親 (D)旁系血親

- 21、()承上題，歐文是屬於哪一種家庭型態？(A)新移民家庭 (B)重組家庭 (C)頂客家庭 (D)單親家庭。

- 22、()阿明與阿志是兄弟，兩人同時愛上了一對姊妹，並都踏上紅毯結了婚，有了各自的家庭。阿明與阿志在婚後互為□□，兩姊妹在婚後也互為○○。上文中的□□和○○依序應填入何者？(A)連襟、妯娌 (B)妯娌、連襟 (C)連襟、法定血親 (D)法定血親、妯娌。

- 23、()附圖是小玉為家族旅行所規畫的房間分配情況。若小玉的房間兩旁住了與自己是直系血親的關係，根據圖中內容判斷，她最可能是住在哪一個房間？



- (A)甲 (B)乙 (C)丙 (D)丁。

- 24、()下列是邦宸的部落格，根據內容所述，邦宸和父母面臨何種類型的家庭衝突？



- (A)家務分工的衝突 (B)家庭經濟的衝突 (C)同儕相處的衝突 (D)生活習慣和意見的衝突。

- 25、()下列關於《家庭暴力防治法》的敘述，何者錯誤？ (A)被施暴者可依法聲請保護令

- (B)保護令可命令加害人不得靠近被害人 (C)保護令是由縣(市)政府社會局(處)所核發

- (D)為了保護家庭暴力的受害者而制定。

- 26、()由下列新聞報導判斷，該案件應是發生於何種家庭型態中？

今日刑事頭條

一起震驚社會的兇殺案宣告偵破

，同住的家人中，祖父母年邁臥床，死者父母親當日白天外出工作，姑丈一家與死者發生劇烈爭吵，恐是因平日相處頻繁產生摩擦，導致此悲劇的發生。

- (A)折衷家庭 (B)核心家庭 (C)大家庭 (D)小家庭。

- 27、()在平權家庭的觀念下，下列何者的認知是正確的？ (A)父母幫子女安排滿檔的才藝課程

，是落實兒童權利 (B)即使是幼齡的孩子，父母仍須傾聽其意見 (C)年幼子女在市場幫父母賣東西，是讓子女練習謀生的好方法 (D)祖父母觀念落後，子女教養應以父母的看法為主。

28、()依據統計，在臺灣每年仍有千名以上兒童遭受虐待，政府單位雖然大力宣導舉發，但仍有許多民眾因缺乏求助資訊，或求助管道不夠便利，導致兒童遭受虐待事件不斷發生。請問：當我們發現正有兒童受虐待時，我們可以如何幫助這些不幸的兒童？(甲)撥打 113 婦幼保護專線(乙)撥 110 報警處理(丙)趕快離開現場(丁)無能為力，只能放棄 (A)甲丙 (B)乙丁 (C)甲乙 (D)丙丁。

29、()《民法》規定子女應孝敬父母，若子女疏於照顧父母，須負起法律責任，但碰到下列何種狀況，可請求法院免除或減輕扶養義務？ (A)子女有不服管教之狀況 (B)子女有行為不檢之情況 (C)子女有被父母家暴或遺棄等情況 (D)子女本身不願意扶養父母

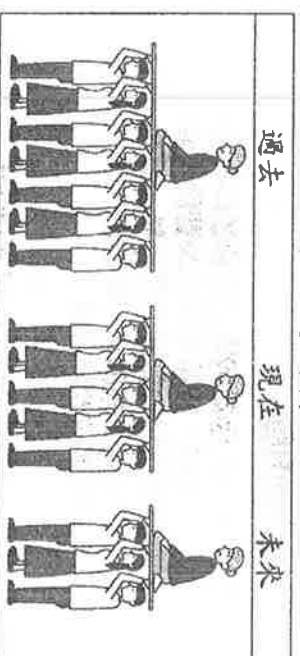
30、()颱風天，政府宣佈上學只上半天課，恩欣的爸媽沒有時間去接恩欣，必須跟公司請假，反觀恩智，當天下午恩智的爺爺很快就來接恩智回去。請問恩智是屬於哪一種家庭型態？

(A)折衷家庭 (B)核心家庭 (C)頂客家庭 (D)小家庭。

31、()阿嘉離家上大學了，媽媽告訴阿嘉，你的每月生活費是八千元，沒想到才兩週，阿嘉身上只剩下一百元，媽媽發現阿嘉竟然把錢都花在交女朋友上面、以及玩線上遊戲的點數上。阿嘉卻認為是爸媽所給的生活費太少。上述的衝突應該是屬於下列何者？ (A)生活習慣的衝突 (B)家庭經濟的衝突 (C)政治理念的衝突 (D)家務分工的衝突。

32、()小甜甜生下一對雙胞胎，她想向公司申請育嬰假在家照顧小孩，她應該依據哪一項法律的規定辦理？ (A)《民法》 (B)《性別工作平等法》 (C)《性別平等教育法》 (D)《勞動基準法》。

33、()附圖為撒尼國過去、現在以及推估未來的老年人口與就業人口比率之變化情形。根據圖示內容判斷，下列哪一項敘述最符合該國的社會變遷趨勢？



(A)三代同堂將被三代同鄰取代 (B)人口老化致使失業人口增加 (C)老年人口不變就業人口增加 (D)就業人口的納稅負擔漸增加。

34、()下列關於家庭型態與其優點的配對何者錯誤？ (A)大家庭：關係單純，易親近，親屬間衝突可減少 (B)折衷家庭：年幼子女或年老父母可獲得照料。 (C)大家庭：成員間有更多經濟及情感上的支援 (D)小家庭：成員間享有自由和獨立空間

35、()下列哪些措施可以幫助解決老人照顧的問題？(甲)發放老人年金(乙)育嬰假的實施(丙)落實《民法》裡子女應扶養父母的規定(丁)興建老人住宅 (A)甲乙丙 (B)甲丙丁 (C)甲乙丁 (D)乙丙丁。

二、配合題 每題 2 分 共 30 分

1. 附表是幸運國近年來及推估未來，老年人口占總人口的比例，請問：

	1990 年	2010 年	預估 20 年後
老年人口 占總			
人口的比例	2.49%	6.5%	15%

- () (36)由附表可以知道，幸運國的社會人口產生了什麼變化？ (A)獨居老人愈來愈多 (B)幼童居多但低死亡率 (C)青壯年人口負擔老年人口比例愈來愈輕鬆 (D)愈來愈偏向高齡化社會。
- () (37)承上題此時要注意的問題為何？(甲)兒童受教問題(乙)福利政策實施(丙)醫療設施的需求(丁)老人家的休閒活動 (A)甲乙丙 (B)乙丙丁 (C)甲乙丁 (D)甲丙丁。
2. 一名女子因沉迷於智慧型手機遊戲，好吃懶做，先生身兼數職養家，並照顧三名幼兒，孩子生病時在家休息，太太也不照顧，先生憤而要求與其結束婚姻關係，雙方爭取親權行使，最後子女親權由先生取得。請問：

() (38)根據上文敘述，雙方爭取親權的相關規定是規範於哪一項法律之中？ (A)《刑法》 (B)《民法》 (C)《性別工作平等法》 (D)《性別平等教育法》。

() (39)一般而言，子女親權取得的根應是依照下列何項來判斷？ (A)法律通常以保障男性權益為主 (B)法律通常以保障女性權益為主 (C)依據子女的最佳利益決定 (D)依據父母雙方的經濟狀況決定。

據父母雙方的經濟狀況決定。

() (40)夫妻離婚後，未成年女子親權是依據父母雙方協議，若協議不成，可請求哪一個機關來進行決定？(A)警察局 (B)立法院 (C)行政院 (D)法院。

3、小明家是個大家族，每逢重要節日，家族成員必定全員到齊，大夥歡聚一堂，聊聊生活近況。

家中有A—姑姑、B—堂嫂、C—外公、D—堂姊、E—姑姑收養的兒子等。

- () (41)請問A與小明的親屬關係？(A)姻親 (B)直系血親 (C)旁系血親 (D)法定血親
- () (42)請問B與小明的親屬關係？(A)姻親 (B)直系血親 (C)旁系血親 (D)法定血親
- () (43)請問C與小明的親屬關係？(A)姻親 (B)直系血親 (C)旁系血親 (D)法定血親
- () (44)請問D與小明的親屬關係？(A)姻親 (B)直系血親 (C)旁系血親 (D)法定血親
- () (45)請問E與小明的親屬關係？(A)姻親 (B)直系血親 (C)旁系血親 (D)法定血親

4、歐哥老師為了更了解班上學生的家庭狀況，透過家訪的方式將學生的家庭型態整理成統計表格，並和前一屆的學生做了比較（如附表）。請問：

家庭型態	單親家庭	新移民家庭	隔代教養家庭	小家庭	折衷家庭
前屆學生	13%	3%	2%	66%	16%
這屆學生	15%	5%	3%	63%	14%

() (46)從表格中兩屆學生的家庭型態變化來看，下列敘述何者正確？ (A)單親家庭增加，可能源自於現代社會的離婚問題 (B)為解決隔代教養家庭的扶養問題，應鼓勵小家庭型態 (C)折衷家庭的數量增加，可見家暴問題減少 (D)新移民家庭所占比率增加，與跨國婚姻減少有關。

() (47)對於新移民家庭的學生，歐哥老師可如何協助孩子和其家人？(甲)讓學生介紹父母親的故鄉，幫助其他孩子了解與欣賞異國文化(乙)提供政府生活輔導班與識字班的相關資訊給需要的新移民父母(丙)請新移民父母來班上做語言與文化交流，讓同學增加語文見識(丁)禁止孩子與其他同學接觸，以免因家庭因素被霸凌 (A)甲乙丙 (B)甲乙丁 (C)乙丙丁 (D)甲乙丙丁。

5、丸子家今日發生了許多事情，讓丸子決定要把事情紀錄在日記裡，以下是她的日記內容：

○月○日 天氣：晴

丸子偷穿姐姐的美麗洋裝，姊姊非常生氣，但是，丸子覺得姊妹的衣服互穿又沒關係。還有弟弟為了倒垃圾跟他吵架，弟弟覺得為什麼常常分到他倒垃圾。

() (48) 丸子和姊姊為了誰衣服吵架，此為哪一種家庭衝突的類型(A)家務分工的衝突 (B) 家庭經濟的衝突 (C) 學校課業的衝突 (D) 生活習慣和意見的衝突。

() (49) 弟弟因為不滿倒垃圾的問題，跟丸子吵架，此為哪一種家庭衝突的類型？ (A) 家務分工的衝突 (B) 家庭經濟的衝突 (C) 學校課業的衝突 (D) 生活習慣和意見的衝突。

() (50) 丸子對於姊姊的不諒解，應如何回應才有可能解決兩人間的衝突問題？ (A) 直接表明衣服本來就該互相輪流穿(B) 大哭大鬧讓姊姊束手無策 (C) 冷靜下來思考姊姊不高興的原因，再與姊姊好好溝通 (D) 與姊姊冷戰，等媽媽來道歉和解。