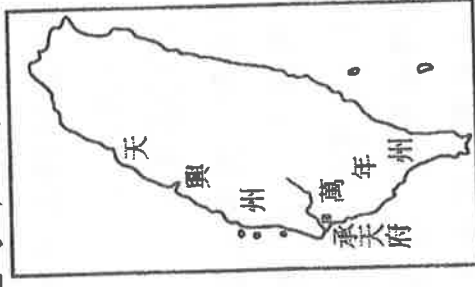


一、單一選擇題(每題二分)

1. ()鄭成功原名鄭森，☐☐第一次見到儀表堂堂的鄭森，十分賞識，賜國姓朱，改名「成功」，希望反清復明能夠馬到成功。請問：☐☐指的應該是下列何人？(A)魯王 (B)桂王 (C)唐王 (D)福王。
2. ()清領前期的水利工程建設中，灌溉面積最大的水圳，主要是靠哪條河川興建？(A)高屏溪 (B)大甲溪 (C)濁水溪 (D)新店溪。
3. ()請將下列事件按照時間先後順序排列：(甲)荷蘭進占臺灣南部(乙)鄭經出兵福建等地，響應「三藩之亂」(丙)西班牙人進占臺灣北部(丁)鄭成功率軍自鹿耳門登陸(戊)施琅攻臺，鄭克塽投降 (A)甲乙丙丁戊 (B)丙甲乙丁戊 (C)甲丙丁乙戊 (D)戊丁丙乙甲。
4. ()澎湖及台灣這二島最早納入中國版圖各在何時？(A)元、明 (B)宋、清 (C)明、清 (D)元、清。
5. ()瓊芳在圖書館看到一張臺灣地圖(如附圖)，從圖中的行政區劃可知，這應是臺灣哪一時期的地圖？



6. ()史料上曾記載：1683年(清康熙22年)6月，靖海侯施琅奉命征鄭克塽，攻下「某地」後，軍隊苦於無水可用，施琅向神祈禱後，井裡就湧出了甘泉，這座井因此被稱為「萬軍井」

。請問：上述中的「某地」應是指何處？(A)安平 (B)澎湖 (C)雞籠 (D)恆春。

7. ()臺南市東區有條「東寧路」，這個名稱的由來與鄭氏時期有關。請問：在鄭氏治臺時期，東寧是指今日的何處？(A)臺南市以東 (B)臺南市東區 (C)整個臺南市 (D)整個臺灣。
8. ()清雍正時期在臺灣增設一縣、二廳，是受何者影響？(A)朱一貴事件 (B)林爽文事件 (C)郭懷一事件 (D)吳沙拓墾。
9. ()鄭氏治台時期，對台灣的經營最有貢獻的人是？(A)鄭成功 (B)施琅 (C)陳永華 (D)沈光文。
10. ()臺灣傳統文化除了原住民族文化外，主要以漢人的文化制度為主。在歷史發展上，漢人文化與制度開始在臺灣生根，是始於下列哪一時期？(A)16世紀末，東南沿海海商來臺活動時期 (B)17世紀中，鄭氏父子來臺成立反清基地時期 (C)17世紀末，清朝將臺灣納入版圖時期 (D)19世紀末，清朝受外力逼迫，開港通商時期。
11. ()鄭成功來臺灣經營，帶來很多士兵及眷屬，為解決糧食問題而實施屯田制度，今天可以從臺灣南部地區的地名，看出屯田的影子。請問：下列哪一個地名與屯田無關？(A)臺南市左鎮 (B)高雄市前鎮 (C)嘉義縣大林鎮 (D)臺南市林鳳營。
12. ()鄭氏時期積極推動拓墾事業，逐漸提升了臺灣的糧食產量。但拓墾地區不包括今日的何處？(A)臺南附近 (B)基隆附近 (C)新竹附近 (D)臺東附近。
13. ()鄭氏時期在臺實行軍屯制度。請問：此種制度的基本精神是下列何者？

(A)寓民於兵 (B)兵農分籍 (C)兵民合一 (D)寓兵於農。

14. ()台灣東部最早有行政區域的設立，是在何時？

(A)荷治時期 (B)鄭氏時期 (C)清領雍正年間 (D)清領嘉慶年間。

15. ()臺灣地名及歷史文物與政權更替頻繁有極大關係。以下關於統治者及相關地名或歷史文物的配對，何者正確？

(A)承天府——清雍正 (B)聖多明哥城——荷蘭人 (C)普羅民遮城——鄭成功 (D)諸羅——清康熙。

16. ()以下是某份臺灣史料：「今臺灣乃開創之地，雖僻處海濱，安敢忘戰？暫爾散兵，留勇衛、侍衛二旅，以守安平鎮、承天二處，其餘諸鎮，按鎮分地，按地開墾……，使野無曠土，而軍有餘糧。」根據上文，下列敘述何者正確？ (A)由資料可知，臺灣軍屯制度始於荷蘭治臺時期 (B)其所開墾的田地遍布全臺各地 (C)臺南市官田區的名稱來自此種開墾制度 (D)由資料可知當時的士兵自耕自給。

17. ()鄭氏時期，當時歐洲各國中最積極與臺灣貿易的是何國？

(A)英國 (B)日本 (C)荷蘭 (D)德國。

18. ()在歷史上中國的統治政權(王朝)曾多次實行「海禁政策」。請問：明朝及清初實行海禁政策主要是為了防範哪些對象？ (A)荷蘭海盜、鄭氏 (B)日本海盜、鄭氏 (C)荷蘭海盜、日本海盜 (D)鄭氏、日本。

19. ()歷史老師在黑板上畫出附圖，欲解釋鄭氏治臺時期某種商品轉銷的過程。請根據附圖中的內容判斷，該商品最有可能是什么？



()軍需品。

20. ()施琅曾謂：「伏思賊黨盤據臺灣，沃野千里，糧食匪缺，上通日本下達呂宋、廣南等處，火藥軍器之須，布帛服用之物，貿易備具。」可見鄭成功能整軍經武，與滿清抗衡，主要是因為哪一條件？ (A)僻處海隅 (B)商業活動 (C)人才濟濟 (D)原住民族為其助力。

21. ()附表為17世紀東亞地區貿易往來的情形，其中何者正確？

輸出國家	商品	輸入國家
甲	鹿皮、蔗糖	乙
乙	軍用物資	甲
丙	走私物資	甲
甲	鹿皮、蔗糖	丁

(A)甲應該是臺灣 (B)乙應該是中國 (C)丙應該是南洋 (D)丁應該是朝鮮。

22. ()清領時期，臺灣的「羅漢腳」是對下列何者的稱呼？ (A)單身男子 (B)清領時期駐臺的士兵 (C)沒有妻兒，也沒有固定職業的遊民 (D)與平埔族通婚的漢人。

23. ()報紙刊登臺灣某一地方政府文化局最近發現境內有一段殘存的土牛溝遺跡，且是全臺碩果僅存的土牛線。請問：此土牛溝遺跡有可能是在哪一地區出土？ (A)花蓮 (B)澎湖 (C)桃園 (D)臺東。

24. ()清康熙年間，澎湖是隸屬於哪個行政區域所管轄？ (A)諸羅縣 (B)鳳山縣 (C)台灣縣 (D)澎湖廳。

25. ()清廷取得臺灣後，有很多在朝的大臣主張放棄臺灣，建議將漢人遷移回中國內地。他們認為應該要放棄臺灣的主要理由為何？ (A)荷蘭、西班牙與日本都覬覦臺灣，中國不想與之為敵 (B)臺灣原住民強烈反抗，為避免引起戰亂，所以主張放棄臺灣 (C)臺灣地廣人稀，不易開發 (D)

位處邊陲，不便管理。

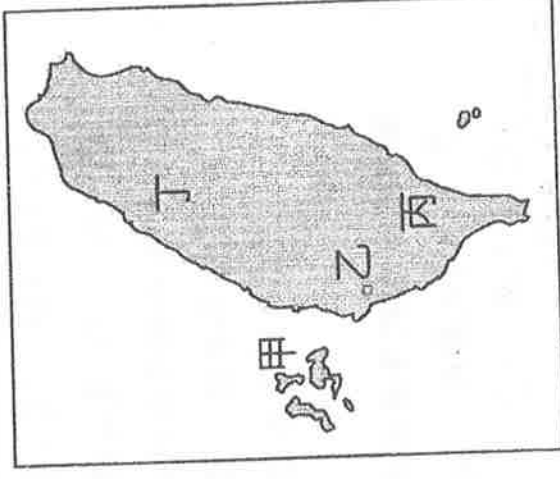
26. ()台灣社會有句俗諺，「有唐山公、無唐山媽」，此「唐山」指的是？ ()
A)河北唐山 (B)中國唐代 (C)住靠近山區的漢人 (D)中國大陸。
27. ()若要尋找台澎地區最早的媽祖廟和孔廟，應該前往何地？ (A)澎湖、台南 (B)雲林、台北 (C)澎湖、嘉義 (D)嘉義、台南。
28. ()清代臺灣行政區劃的變更，主要是因為消極治臺政策而常處於被動處境。請問：在清領時期的臺灣行政區中，何者自康熙到嘉慶年間始終存在？ (A)諸羅縣 (B)鳳山縣 (C)彰化縣 (D)淡水廳。
29. () (甲)荷蘭(乙)西班牙(丙)鄭氏(丁)清朝，這四個在台灣所建立的政權，依其統治時間的長到短排列順序，何者正確？ (A)丁甲乙丙(B)丁甲丙乙 (C)甲丁乙丙 (D)甲丁丙乙。
30. ()清朝統治前期，漢人陸續來台拓墾。請問漢人拓墾方向為何？ (A)由南而北，由東向西 (B)由南而北，由西向東 (C)由西而東，由南而北 (D)由西而東，由北而南。
31. ()清領時期的一張契約文件上面，寫著「十個人共同承租一塊土地耕種」。請問：這份契約反映怎樣的歷史意義？ (A)代表此時可自由來臺開墾，不必申請 (B)意味著開墾辛苦，有時採合資經營的方式 (C)當時為凝聚血緣，宗族皆採合資開墾 (D)官方不准個人承租，只能合作經營。
32. ()1691年(清康熙30年)，來自中國福建泉州府晉江縣的漢人，在臺灣會有怎樣的遭遇？ (A)到府城會看到許多金髮碧眼的外國人 (B)他跟著吳沙前往蛤仔難地區開墾 (C)經政府許可後，進入花蓮地區進行拓墾 (D)和幾位同鄉合作向地方官府申請

墾照。

33. ()清領前期，中國大陸商人若要來臺進行合法的貿易，最初只能經由哪一個通商口岸？ (A)鹿港 (B)打狗 (C)鹿耳門 (D)艋舺。
34. ()張大偉若想尋訪清代「郊」的故址，哪一地方較不適當？ (A)臺南 (B)彰化 (C)台北 (D)宜蘭。

二、題組(每題二分)

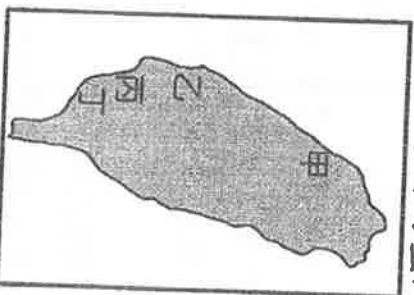
(一) 附圖為鄭氏時期的臺灣行政區圖。請問：



35. () 育奇是鄭氏時期彰化地區的農民，若他與人發生土地糾紛，應該找圖中哪一縣的長官處理？ ()
A)甲 (B)乙 (C)丙 (D)丁。
36. () 鄭氏時期的行政中心位於圖中何處？ (A)甲 (B)乙 (C)丙 (D)丁。
- (二) 清廷在領有臺灣後，實行一連串統治臺灣的措施。請問：
37. () 清領初期，頒布渡臺禁令的用意為何？ (A)擔心臺灣再次成為反清基地 (B)保障臺灣原住民權益 (C)實施海禁政策 (D)防範日本侵略。
38. () 當時來臺漢人主要目的為何？ ()
A)商業貿易 (B)漁業捕撈 (C)開採礦產 (D)土地開墾。
39. () 下列何者不是渡臺禁令的影響？

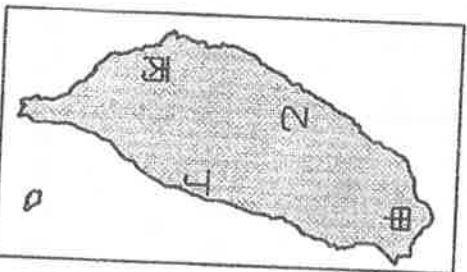
- (A)沿海偷渡盛行 (B)臺灣治安良好 (C)臺灣男女比例失衡 (D)羅漢腳人數眾多。

(三) 附圖為清領時期的臺灣地圖。請問：



40. () 圖中丁區在清領前期稱為何者？
 (A) 萬年縣 (B) 臺灣縣 (C) 萬年州 (D) 鳳山縣。
41. () 圖中甲區在何時改設為淡水廳？
 (A) 清康熙年間 (B) 清嘉慶年間 (C) 清雍正年間 (D) 鄭經時期。
42. () 圖中乙區在乾隆晚期改稱為何者？
 (A) 天興州 (B) 嘉義縣 (C) 彰化縣 (D) 天興縣。

(四) 附圖是臺灣在清朝統治初期的行政區域圖。請問：



43. () 鄭氏時期所建之孔廟，也是清代臺灣「府學」所在地，位於圖中何處？ (A) 甲 (B) 乙 (C) 丙 (D) 丁。
44. () 乙地在鄭成功時期與康熙年間各有哪兩種不同的名稱？ (A) 天興縣、嘉義縣 (B) 天興縣、諸羅縣 (C) 天興州、諸羅縣 (D) 萬年縣、嘉義縣。
- (五) 臺灣的行政區畫分歷經多次的改變，

這是經過數百年發展演進的結果。請問：

45. () 阿土伯於清雍正 10 年來到今天「彰化」地區開墾，若他與鄰人發生土地糾紛時，應找哪一區的行政長官處理？ (A) 諸羅縣 (B) 淡水廳 (C) 彰化縣 (D) 臺灣縣。

46. () 承第(2)題，阿土伯說：「我們這個地方的稻米年可兩熟，單位面積生產量高。」主要是因為這個地區哪一條水圳的開通？
 (A) 瑠公圳 (B) 八堡圳 (C) 曹公圳 (D) 貓霧揀圳。

(六) 該圳主要供應□地區的水源。在清雍正年間，在水源不足、收成有限的情況下，平埔族岸裡社以「割地換水」的方式，由漢人出資開圳，然後將一部分土地歸開圳者開墾，而岸裡社取得一部分的水權。請根據上文回答下列問題：

47. () 上文中的□應填入下列何者？
 (A) 臺北盆地 (B) 臺中盆地 (C) 彰化平原 (D) 嘉南平原。
48. () 上文中的水利灌溉工程應是下列何者？ (A) 八堡圳 (B) 曹公圳 (C) 瑠公圳 (D) 貓霧揀圳。

(七) 臺灣在(甲)荷治時期(乙)鄭氏時期(丙)清領前期，這三個不同政權統治期間，其貿易方式及貿易商品並非完全相同。請問：

49. () 這三個時期，臺灣向外輸出的主要商品，共同者為何？ (A) 蔗糖 (B) 稻米 (C) 絲綢 (D) 鹿皮。
50. () 哪些時期臺灣扮演轉口貿易的重要角色？ (A) 甲、乙 (B) 甲、丙 (C) 乙、丙 (D) 甲、乙、丙。