

一、單一選擇題

1. ( )我國中央政府與地方政府的分權方式，是採下列何種制度？(A)均權制度(B)封建制度(C)中央集權制(D)地方分權制
2. ( )下列哪項事務的性質是屬於地方的權限？(A)購買國防武器 (B)與其他國家建交 (C)增加立法委員應當選名額 (D)發展形象商圈及商店街。
3. ( )中央與直轄市、縣(市)發生權限爭議時，依我國《憲法》規定，由下列哪個機關來解決？(A)司法院 (B)行政院 (C)立法院 (D)監察院。
4. ( )民國86年，透過修憲的方式將省政府虛級化之後，下列關於現行「省」的敘述，何者正確？(A)省主席由人民直選產生 (B)「省」仍為地方自治團體，也是行政院的派出機關 (C)只保留省長及省議員，其餘機關予以裁撤 (D)「精省」的主要原因，是由於臺灣省政府組織與中央政府管轄的範圍高度重疊。
5. ( )下列哪個單位屬於我國現行的地方自治團體？(A)彰化縣(B)臺灣省(C)苗栗縣苑裡鎮的海岸里(D)嘉義縣阿里山鄉的中正村
6. ( )各級地方政府又分成行政與立法機關，下列配對何者正確？(A)台東市議會—台東市政府 (B)花蓮縣政府—花蓮縣民代表會 (C)臺北市政府—臺北市議會 (D)新北市烏來區公所—新北市烏來區議會。  
※烏來區為直轄市山地原住民區。
7. ( )下列何項不屬於地方政府的經費來源？(A)中央補助(B)房屋稅收入(C)所得稅收入(D)市立游泳池門票收入。
8. ( )市政府決定將轄下一塊空地規畫為公園，作為市民休閒活動的空間。上述內容說明哪種事實？(A)使用者付費才符合公平原則 (B)只有該市市民才能使用 (C)該公園是政府提供的公共財 (D)市民可以自由使用不受任何規範。
9. ( )某河川遭受汙染，經查證發現是上游的

化學工廠違法排放廢水所致，對此，環保局開出高額罰單並勒令改善。根據上述，下列說明何者正確？(A)政府不應限制工廠排放廢水 (B)工廠若改善汙染情況，可要求政府撤銷罰單 (C)工廠若繳交罰款可以增加政府的規費收入 (D)政府開罰是為了減少工廠製造外部成本。

10. ( )針對某社會問題，專家提出「徵富人稅、徵豪宅稅、調高最低薪資、青年房貸利息補貼」四項建議。根據專家所提出的建議，這是希望達到下列哪種經濟效能？(A)維持公平交易 (B)保障消費者權益 (C)縮短貧富差距 (D)保障私有財產。
11. ( )無敵國中的畢業旅行，前往許多觀光景點，下列何者不屬於政府的收入？(A)國立自然科學博物館門票費用(B)臺北市立木柵動物園門票費用 (C)貓空纜車車票費用 (D)六福村主題樂園門票費用。
12. ( )現代國家重視國民福利，卻也造成政府財政負擔過重的壓力，若要避免將來「債留子孫」的情況，政府應當避免利用哪種方式來增加收入？(A)發行公債(B)課徵所得稅 (C)徵收人民土地(D)提高交通罰款。
13. ( )「規費」是指政府因提供特定服務、設備，而對特定對象所收取的款項。下列何者屬於政府的規費收入？(A)臺灣自來水公司收取的水費 (B)公有停車場收取的停車費 (C)天然氣公司收取的瓦斯費 (D)私立醫院的掛號費。
14. ( )平安市政府研擬了一份疏濬河道的計畫，希望以該市的經費，徹底解決每逢大雨便成災的問題。附圖是處理的部分程序，  

```
graph TD; A[甲—擬定計畫] --> B[乙—審查計畫]; B --> C[丙—執行施工];
```

其中「乙」屬於下列哪一機關的職權？(A)立法院 (B)行政院 (C)平安市政府 (D)平安市議會。
15. ( )據報載，我國某縣的財政狀況長期入不敷出，導致當地政府的財政問題日益嚴重，

恐將出現延遲發放基層公務人員薪水的情形。為了解決上述問題，下列何者最可能是該縣政府依法採行的方法？ (A)調高所得稅的課徵稅率 (B)發展地方特色產業活動 (C)維持市場上的交易秩序 (D)提高社會福利支出比例。

16. ( )社會福利是指政府運用制度化的政策，以滿足民眾生存的基本需求，進而達到全民均富的目標，例如十九世紀末德國創設的社會保險制度，即在保障工人的最低生活水準，促進社會穩定與和諧發展。但部分學者則提出質疑，認為政府以金錢給付的福利服務，形成所謂的「福利貨幣」，亦即在不需付出勞動代價的情形下，民眾仍可獲得酬勞。上述「福利貨幣」，類似經濟學中所提到「公共財」的概念，請問下列哪一項屬於政府所提供的「公共財」？ (A)小巨蛋 (B)公園 (C)故宮博物館 (D)台中科學博物館

17. ( )附表是近年來我國政府賦稅收入結構比率的統計表，根據表中內容判斷，下列哪一項說法最正確？

項目	85年	86年	87年	88年	89年	90年
所得稅	28.7	27.8	28.5	31.9	31.6	38.1
關稅	8.7	8.1	8.2	7.6	8.1	7.4
貨物稅	12.9	11.5	10.8	10.7	11.4	10.6
營業稅	18.1	17.6	17.5	18.6	16.8	16.2
土地稅	13.2	13.8	12.4	10.9	11.2	7.4
公賣利益	4.7	4.6	4.1	4.1	4.0	4.6
其他稅捐	13.7	16.6	18.5	16.2	16.9	15.8

- (A)公營企業民營化，公賣利益比率嚴重縮減  
(B)以市場銷售為課稅對象的稅賦占比率最低  
(C)因加入國際組織，關稅收入比率大幅降低  
(D)依負擔能力課稅項目，其比率呈增加趨勢。
18. ( )地方政府設置各種不同的部門，驪妍在衛生所工作，下列哪一位民眾將需要她的服務？

(A)



(B)



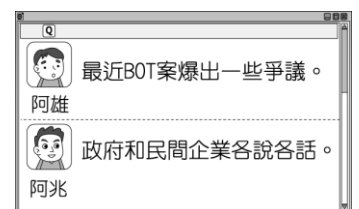
(C)



(D)



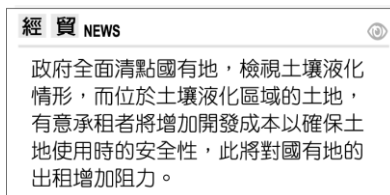
19. ( )地方自治是指地方上的人民，在國家監督之下，依據法令或基於授權，自行組織自治團體，以處理地方上的公共事務。根據上述說明判斷，下列何者屬於地方自治的事項？ (A)辦理縣市議員的罷免事宜 (B)決定與他國建立邦交關係 (C)增加立法委員應當選名額 (D)更改國防武器購買的種類。
20. ( )在我國《憲法》對於中央與地方政府權限的畫分方式中，對於具有因地制宜性質的事務由地方負責。依此規定，地方政府具有哪些權力而設有行政機關與民意機關？ (A)司法權、考試權 (B)考試權、行政權 (C)行政權、立法權 (D)立法權、司法權。
21. ( )居住在嘉義縣朴子市的宏達，因覺得住家周遭的路燈照明不足，讓經常工作晚歸的他感到危險，於是向當地的地方民意代表陳情，希望能獲得相關單位的重視。根據上述內容判斷，宏達所陳情的對象最可能是下列何者？ (A)縣長 (B)市議員 (C)立法委員 (D)市民代表。
22. ( )沛菁瀏覽新聞時，看到幾則網路留言如附圖所示，關於留言中提及的公共建設營運模式，下列敘述何項正確？  
(A)由民間企業投資、興建 (B)將會增加國家財政負擔 (C)政府透過發行公債籌措興建資金 (D)政府營運期滿將歸還給民間企業。
23. ( )大有國正在推行健康保險制度，附表為四位投保者的薪資與保險費明細表。根據表



中資料判斷，該國個人健康保險費繳納金額的多寡，是根據經濟學上何種概念而設計的？

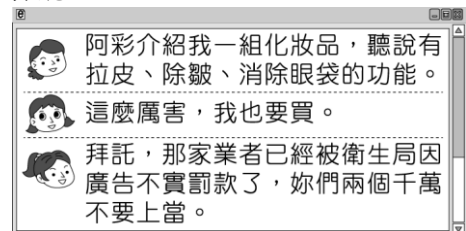
姓名	薪資（元／月）	保險費（元／月）
王小明	19,600	98
陳自強	33,000	165
林美好	49,000	245
李大同	64,000	320

- (A)受益原則 (B)需求法則 (C)比較利益原理 (D)負擔能力原則。
24. ( )詩雅在網路上開設虛擬商店銷售貨品，並以營利為目的，而她的交易所得也納入所得稅的課徵範圍。上述所得稅的課徵，是依據經濟學的何種概念而設定的？(A)受益原則 (B)供給法則 (C)比較利益原理 (則) (D)負擔能力原則。
25. ( )每逢連續假期，為了紓解交通與分散車流，高速公路常會實施暫停收費措施，但此舉勢必會對國家財政收入造成部分衝擊。上述政府收入的來源與下列何者屬於同一類 (A)民眾支付的交通罰款 (B)企業繳納的營業稅款 (C)國人申請護照的費用 (D)公營事業單位的盈餘。
26. ( )小岑用 50 萬元購買政府所發行的公債，作為個人投資理財的方法之一。請問：這筆錢應屬於政府的何種收入？(A)租稅(B)規費(C)舉債收入(D)公營事業盈餘收入。
27. ( )我們在日常生活中購物時，要記得向商家索取統一發票，這是增加政府何種收入的有效方法之一？(A)營業稅 (B)所得稅 (C)關稅 (D)貨物稅。
28. ( )政府的經濟功能要能發揮，需要經費收入來因應必要支出。附圖中這則新聞將對政府哪一來源的收入造成負面影響？



29. ( )由於發展高科技產業對於提升國家競爭力有很大的幫助，因此政府對於此類產業採取獎勵研究或租稅優惠的政策，以促進其發展。根據上述內容判斷，下列何者最可能是政府採取該政策的主要原因？(A)避免私人掌控生產資源，獲取大量利潤(B)對國家發展具外部效益，造福社會整體(C)產品容易遭到仿冒複製，故應該由政府保障(D)高科技產品常推陳出新，廠商需要巨額資金。
30. ( )許多人都曾有過受到鄰居干擾的經驗，諸如妨害社區安寧的聚會、廚房排放的油煙等，為此政府制定相關法規，對造成此類情形者處以“罰鍰”。上述政府解決問題的作法可用下列何者解釋？(A)利用刑罰以減少外部效益 (B)透過和解以避免民事糾紛 (C)透過刑罰保障私有財產 (D)藉由管制以降低外部成本。
31. ( )附圖是小立探討全球共同環境時，用以說明的部分文字。根據內容判斷，他的主張具有經濟學的何種概念？(A)分散風險 (B)外部效果 (C)比較利益 (D)區域合作。
32. ( )政府的任務是使人民可以追求經濟上的富足，並維持經濟發展的公平性及穩定性。由附圖中的對話內容可知政府發揮了哪一項經濟功能？

……大氣與氣候系統是維持生存的  
必要資源，超越任何國家與社會  
界線的共同環境。……既不屬於  
任何個人獨有，也沒有任何人  
可以排除於其外，但是特定範圍  
內的任何行為結果，都可能造成  
難以預測的影響。



- (A)提供公共財 (B)維持經濟秩序 (C)保障私有財產 (D)縮短貧富差距。
33. ( )在現代民主國家中，政府的任務是為民服務。附圖中三人的對話應是在討論政府發揮的何種經濟功能？



- (A)處理外部效果 (B)保障私有財產 (C)提供公共財 (D)維持經濟秩序。

## 二、題組

甲、根據行政院人事行政總處修訂的規定，颱風過境達停止辦公及上課標準為「未來四小時內暴風圈可能經過的地區，其平均風力達七級以上，或陣風超過十級以上。」若局部地區因受地形、雨量、交通等特殊狀況的影響，導致辦公或上課困難者，各縣市政府得依法逕行決定，並通報宣布停止上班或上課。

- ( ) (34)根據內容判斷，上述做法旨在發揮下列何種功能？(A)增加社會救助 (B)因應社會變遷 (C)增建公共設施 (D)強化災難應變。
- ( ) (35)上述因應各地情況差異，由各縣市政府決定並負責的做法，最符合下列何種精神？(A)主權在民 (B)地方自治 (C)民族自決 (D)權力分立。

乙、小莉在自家一樓開了間超商，每年的獲利除了扣掉進貨與人事成本外，當然還包括各種稅目的支出。附表是她所繳的各項稅金，請你根據該表，選出正確答案。

項目	營利事業所得稅	房屋稅	營業稅	地價稅
金額	10萬元	1萬元	10萬元	1萬元

- ( ) (36)小莉所繳的稅中，哪些是屬於財產稅？  
(A)房屋稅、營業稅 (B)營業稅、地價稅  
(C)房屋稅、地價稅 (D)營利事業所得稅、地價稅。
- ( ) (37)小莉所繳的稅中，何者是屬於銷售稅？ (A)房屋稅 (B)營業稅  
(C)地價稅 (D)營利事業所得稅。
- ( ) (38)為了辦理員工出國旅遊，小莉前

往外交部申請護照，費用 1,300 元。上述費用屬於政府的何項收入？  
(A)財產收入 (B)租稅收入 (C)規費收入 (D)公營事業盈餘收入。

( ) (39)小莉注意最近的新聞，都在宣導五月繳交綜合所得稅期間，請民眾多多使用自然人憑證及網路報稅。這是哪個機關的職權？  
(A)經濟部 (B)行政院主計總處  
(C)財政部 (D)立法院。

## 三、配合題

甲：我國中央政府與地方政府的權限劃分方式，是依據事務的性質而畫分。你知道下列項目，哪些是屬於中央還是地方政府的職權？請試著填入正確的選項。

- (A)中央政府的權限 (B)地方政府的權限
40. ( )購買武器  
41. ( )定期修剪行道樹  
42. ( )維修保養高速公路  
43. ( )設立鄉公所  
44. ( )設立內政部警政署  
45. ( )防治登革熱定期噴藥  
46. ( )制定 12 年國教政策  
47. ( )提供學童營養午餐

乙：下列問題應是指政府的哪種收入，請填上正確代號。

- (A)租稅 (B)規費 (C)舉債收入  
(D)公營事業盈餘收入

- ( ) (48)無敵國中的車隊行經高速公路時，遊覽車司機必須繳交通行費。該司機繳交的費用將增加政府的何種收入？
- ( ) (49)真心在清水休息站購買飲料，商家除了找錢給她外，還附上統一發票。該商家依法開立統一發票，將可增加政府的何種收入？
- ( ) (50)太宇到士林觀光夜市的攤位購買雞排，這些攤位燈火通明，營業到深夜。上述攤位所繳交的水電費，是政府的哪種收入？