


1. 「菩提本無樹，明鏡亦非臺，本來無一物，何處惹塵埃？」這是佛教空明的一大境界，此理論是來自於一個佛教中國化的典範宗派。請問：隋唐時期，佛教與中國文化的融合中，最具代表性的是下列哪一宗派？ (A)太平道 (B)五斗米道 (C)密宗 (D)禪宗。
2. 東漢時有一位名士曾評論某位人士，說他是「治世之能臣，亂世之奸雄」。這位人士曾被封為「魏公」，挾天子以令諸侯。請問：此人是誰？ (A)曹操 (B)劉備 (C)孫權 (D)曹丕。
3. 文揚收看連續劇「善德女王」時發現，原來善德女王所統治的國家曾向唐朝求援而順利度過難關。並在統一朝鮮半島後，模仿唐朝文化，有「君子國」之稱。請問：這是哪個國家？

(A)日本 (B)吐蕃 (C)新羅 (D)高麗。

4. 科舉制度主宰學術風氣及選才依據，多少士子欲藉此飛黃騰達。關於此制度，下列何者正確？ (A)使世族地位更加鞏固，社會階層不易流動 (B)唐代明經科特別受到重視 (C)唐代科舉考試重詩賦，使詩歌成就非凡 (D)科舉制度一直沿用到明朝才結束。
5. 「八王之亂」的性質與下列何者最接近？ (A)犬戎之禍(B)黃巾之亂(C)管蔡之亂(D)黃巢之亂。
6. 「國破山河在，城春草木深。感時花濺淚，恨別鳥驚心。烽火連三月，家書抵萬金。白頭搔更短，渾欲不勝簪。」此為杜甫的作品《春望》。西元 756 年長安被叛軍攻陷，杜甫欲投奔肅宗卻不幸被擄，隔年三月有感而發寫成此作品。請問：下列何者正確？

(A)此乃黃巢之亂造成國破家亡的悲劇 (B)長安被攻破與肅宗寵愛武則天有關 (C)《春望》的體例即為唐朝最盛行的「詞」 (D)安祿山叛變而導致「烽火連三月」的戰禍。

7. 唐代婦女的打扮深受西域人士影響，出現袒胸薄紗式的妝扮，有別於傳統漢人婦女的打扮。請問：造成此種穿著風格改變的時代因素為何？ (A)使節出使西域，打通絲路交通 (B)唐代社會富庶，人民生活奢靡 (C)兼容胡漢風貌，社會風氣開放 (D)和親頻繁，許多婦女遠嫁西域。
8. 歷史老師將魏晉南北朝重要大事的漫畫（如附圖）貼在黑板上，要求同學們按時間順序加以排列。請問：正確的順序應為何？ (A)甲丙乙丁 (B)乙丙甲丁 (C)丙甲乙丁 (D)丁甲乙丙。



9. 中國南京有一名為「胭脂井」的古蹟，是當年南朝陳後主見敵軍入侵，情急之下，帶著兩位貴妃躲藏之處。因為貴妃被拉上井時，臉上的胭脂染紅了井的欄杆，故因此名為「胭脂井」。請問：當初的「敵軍」為何人所派？ (A)晉武帝司馬炎 (B)晉元帝司馬睿 (C)北魏孝文帝 (D)隋文帝楊堅。

10. 附圖為南方經濟發展示意圖，示意圖中的(甲)應該填入下列何者？

(A)黃巢之亂 (B)安史之亂 (C)八王之亂 (D)永嘉之禍。

11. 老師請同學討論魏晉南北朝的世族社會，下列何人所言有誤？


(A)寶劍：是從漢代演變而來 (B)昌旭：九品官人法助長世族發展

(C)鐘碩：世族不願與地位不同的人交往、結婚，以維持自己尊貴的身分

(D)仲基：僅有大權在握的皇帝能干預世族，使其俯首聽命。

12. 「六朝」對中國的歷史發展，有何重要貢獻？

(A)開發江南 (B)胡漢融合 (C)提倡清談 (D)發展學術。



13.唐代文化曾廣泛向外傳播，並對周圍國家造成影響。下列關於這段歷史的敘述，何者正確？

- (A)日本為求唐化，實施明治維新 (B)玄奘為推廣佛法，建立日本佛教信仰 (C)吐蕃要求與唐和親，受到中國文化影響 (D)高麗唐化程度僅次於新羅，故稱君子國。

14.魏晉南北朝可說是中國歷史上一個分裂的時代，下列敘述何者最能代表這一時代的特色？

- (A)佛教、道教始傳入中國，十分盛行 (B)法學盛行，法治觀念深入人心 (C)外戚強大，干政之風盛行 (D)世家大族門第鼎盛。

15.附圖的內容，可知這是中國史上哪一個邊疆民族的民族文化運動？

- (A)匈奴 (B)鮮卑 (C)羯 (D)羌。



16.聯合國教科文組織將中國的洛陽龍門石窟、大同雲岡石窟，以及敦煌莫高窟列為世界文化遺產，這三處世界文化遺產具有下列何項共同特色？ (A)帝王陵寢的經典建築 (B)佛教藝術的代表古蹟 (C)石灰岩地形的特殊景觀 (D)隋唐運河貿易的重要遺址。

17.有關魏晉南北朝時期「清談」的敘述，下列何者正確？ (A)內容以《老子》、《莊子》、《詩經》為主，合稱「三玄」 (B)是一種拋棄現實，崇尚玄理的談論 (C)受儒家思想影響的人生觀 (D)興起的背景是因為漢武帝「獨尊儒術」的結果。

18.歷史老師請同學在黑板上寫下秦代與隋代比較表（如附表）。請問：表中哪一項正確？

項目	秦	隋
(甲)建國者	秦始皇	隋煬帝
(乙)重要性	統一六國，結束戰國時代	南下滅梁，結束南北朝分裂
(丙)重要工程	馳道、長城	新都、運河
(丁)繼起政權	東漢	唐

- (A)甲 (B)乙 (C)丙 (D)丁。

19.隋文帝因長安舊城殘破，於是營建新都：大興城，後來仍稱長安。從左下附圖的長安城平面圖來看，此城特色為何？ (A)居高臨下，防禦性強 (B)規畫整齊，坊市分離 (C)城牆高聳，易守難攻 (D)坊市合一，商業繁榮。



20.中國歷史人物常會成為現代小說、漫畫創作的內容。附圖為裕貞所創作的歷史漫畫內容，由圖中資料可推測，這位女子可能為下列何人？ (A)文成公主 (B)楊貴妃 (C)武則天 (D)褒姒。

21.歷史老師請同學在黑板上寫下安史之亂與黃巢之亂之比較表（如附表）。請問：表中何項正確？

- (A)甲 (B)乙 (C)丙 (D)丁。

項目	安史之亂	黃巢之亂
(甲)時間	唐朝後期	唐朝中期
(乙)為亂區域	遍及大江南北	黃河南北一帶
(丙)亂事性質	將領叛變	民變
(丁)平定者	朱溫	郭子儀

22.玄武門是長安太極宮城的北門，它是宮廷衛軍司令部的所在地，有堅強的工事和雄厚的兵力，唐代歷史上何人曾在玄武門發動政變，進而奪得皇位？

(A)李淵 (B)李建成 (C)李世民 (D)李元吉。

23. 如果到西藏旅遊，一定要品嚐當地的酥油茶與甜茶。西藏人嗜茶成風，甚至到「寧可三日無油鹽，不可一日無茶」的程度。請問：藏人喝茶的歷史淵源，可以追溯自唐代哪一位公主下嫁吐蕃？

(A)太平公主 (B)文成公主 (C)安樂公主 (D)平陽公主。

24.關於五代十國的敘述，下列何者錯誤？ (A)五代是先後出現 (B)十國是同時並立 (C)五代立國以長江流域為範圍 (D)是唐末藩鎮割據的延續。

25.某位皇帝在位時是唐朝盛世的顛峰，晚年卻因承平日久，問題叢生，以致帝國由盛轉衰。請問：

這位皇帝應是下列何人？ (A)唐高宗 (B)武則天 (C)唐玄宗 (D)唐太宗。

26.學校舉辦「看圖猜歷史」比賽，若根據附圖中的描述，此圖是在描述唐朝哪一制度？

(A)紙幣的發行 (B)飛錢的使用 (C)絲路的開通 (D)科舉的實施。



27.右上附圖為唐代對外主要貿易路線圖，圖中與中國貿易往來頻繁的「甲」為何？

(A)吐蕃 (B)大食 (C)大秦 (D)高麗。

28.哆啦A夢乘坐時光機來到盛唐時期的首都長安城，觀察當地的城市風貌，他無法遇到下列哪一情形？ (A)城市街道整齊，棋盤式規畫 (B)坊市之間築牆區隔，畫分明顯 (C)商店內大家喝著葡萄酒，欣賞「胡舞」表演 (D)商人拿飛錢進行買賣，貨幣流通快速。

29.中國造紙術西傳是因為哪一場戰役？(A)甲午戰爭(B)中法戰爭(C)牡丹社事件(D)怛羅斯之役。

30. 在小玲的歷史報告中，有如下的記載：(一)知人善任、以古鑑今(二)兼容並蓄、四夷來朝(三)天可汗的世界。根據以上提示判斷，小玲寫的是哪一事蹟事蹟？

(A)開皇之治 (B)開元之治 (C)貞觀之治 (D)天寶之治。

31.下列哪一種唐代的藝術作品具有色彩突出、造型生動、取材廣泛的特色，且從中可窺見唐代生活風貌？ (A)唐三彩 (B)人物畫 (C)顏柳書法 (D)詩詞歌賦。

32.許多文人曾為南京寫詩詠懷，如「地即帝王宅」、「六代興王國」。請問：定都南京的「六代」不包括下列哪一朝代？ (A)西晉 (B)東晉 (C)南朝 (D)孫吳

33.北方胡族君主推行漢化運動最為積極的是何人？

(A)晉武帝 (B)北魏孝文帝 (C)漢武帝 (D)梁武帝。

34.世族是受到魏晉南北朝何種取用人才方式而更加穩固其地位？

(A)科舉制度 (B)薦舉孝廉制 (C)九品官人法 (D)選舉制度。

35.唐朝設置的「市舶司」類似今日的？

(A)海關 (B)警察局 (C)同業公會 (D)大學。

36.歷史學者曾評論唐代是「中國最具世界主義色彩的朝代」，下列哪像敘述最能表現這樣的特點？

(A)中西接觸頻繁，使中國造紙術傳入西方 (B)當時伊斯蘭教、摩尼教及佛教等宗教傳入中國 (C)胡樂、胡食傳入時，並不受長安人民喜愛 (D)唐代國力鼎盛，主動派遣使節到日本傳遞文化

題組一：附圖為三國鼎立形勢圖，請問：

37. 三國立國的先後順序為何？ (A)甲→乙→丙 (B)乙→丙→甲  
(C)甲→丙→乙 (D)丙→甲→乙。

38. 魏、蜀、吳三國鼎立的局面，是在哪一事件後正式形成？

- (A)黃巾之亂 (B)赤壁之戰 (C)八王之亂 (D)永嘉之禍。

39. 三國亡國的先後順序為何？

- (A)甲→乙→丙 (B)乙→丙→甲 (C)甲→丙→乙 (D)丙→甲→乙。

40. 哪位帝王結束了三國以來的分裂局面？

- (A)晉懷帝 (B)北魏孝文帝 (C)漢獻帝 (D)晉武帝。

41. 三國鼎立時期介於哪兩個朝代之間？

- (A)東漢、西晉 (B)西晉、東晉 (C)東晉、南朝 (D)東漢、東晉。



題組二：「分合」一詞可以概括形容魏晉南北朝三百七十年的政治發展。請回答下列問題

42. 「魏晉南北朝」一詞中的「魏」，是指下列何者？(A)北魏(B)曹魏(C)東魏(D)西魏。

43. 「魏晉南北朝」除了哪個政權曾短暫一統中國外，其餘大多呈現紛擾分立的狀態？

- (A) 北周(B)西晉(C)東晉(D)北齊。

44. 魏晉南北朝政風不良，篡位情形特別多，下列何人不是篡位者？

- (A)曹丕 (B)劉備 (C) 劉裕 (D)司馬炎。

45. 魏晉南北朝是中國史上政治大分裂、民族大融合的時代。請問：下列哪一組人物，代表此一時代的開始和結束？ (A)劉備、楊堅 (B)曹丕、楊堅 (C)孫權、司馬炎 (D)劉備、司馬炎。

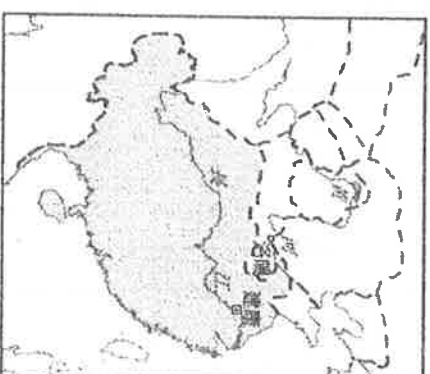
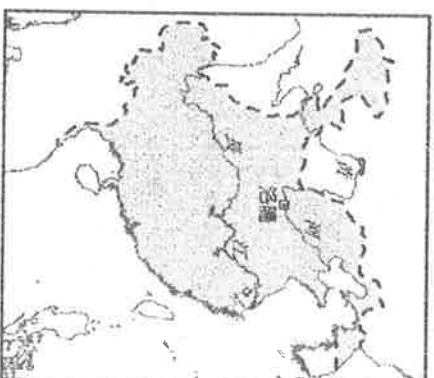
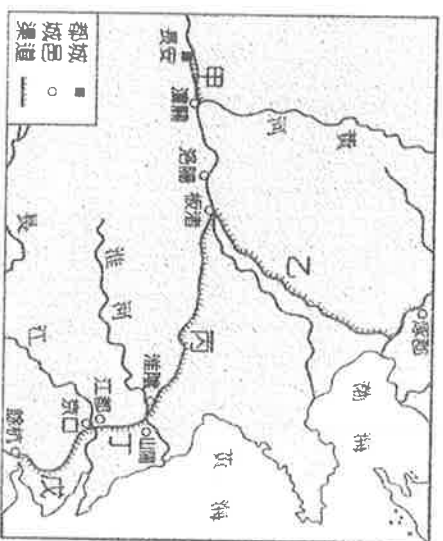
題組三：下圖一中五條運河名稱與代號的配對：甲.通濟渠 乙.邗溝 丙.廣通渠 丁.永濟渠 戊.江南河。

46. 請問正確的有幾條？ (A)1條 (B)2條 (C)3條 (D)4條。

47. 隋文帝為了便利京師與黃河間的物資運送，修築哪條運河？

- (A)廣通渠 (B)永濟渠(C)江南河(D)邗溝。

48. 下列哪一條運河是基於載運軍糧、武器而修築？ (A)永濟渠 (B)江南河(C)廣通渠 (D)通濟渠。



▲圖(一)

▲圖(二)

▲圖(三)

題組四：上圖(二)與圖(三)是中國魏晉南北朝某兩個時期的疆域圖。請問：

49. 疆域從圖(一)演變為圖(二)的關鍵，是因為發生了下列何事？ (A)管蔡之亂 (B)八王之亂

- (C)黃巾之亂 (D)永嘉之禍。

50. 承上題，此事件對中國歷史的發展造成了何種影響？ (A)北方進入五胡十六國的局面 (B)南方為鮮卑人所統一 (C)晉武帝派兵南下，統一中國 (D)各諸侯國紛紛稱王。