

一、單一選擇題

1. ( )我國中央政府與地方政府的分權方式，是採下列何種制度？(A)均權制度(B)封建制度(C)中央集權制(D)地方分權制
2. ( )下列哪項事務的性質是屬於地方的權限？(A)購買國防武器 (B)與其他國家建交 (C)增加立法委員應當選名額 (D)發展形象商圈及商店街。
3. ( )中央與直轄市、縣(市)發生權限爭議時，依我國《憲法》規定，由下列哪個機關來解決？(A)司法院 (B)行政院 (C)立法院 (D)監察院。
4. ( )民國86年，透過修憲的方式將省政府虛級化之後，下列關於現行「省」的敘述，何者正確？(A)省主席由人民直選產生 (B)「省」仍為地方自治團體，也是行政院的派出機關 (C)只保留省長及省議員，其餘機關予以裁撤 (D)「精省」的主要原因，是由於臺灣省政府組織與中央政府管轄的範圍高度重疊。
5. ( )下列哪個單位屬於我國現行的地方自治團體？(A)彰化縣(B)臺灣省(C)苗栗縣苑裡鎮的海岸里(D)嘉義縣阿里山鄉的中正村
6. ( )各級地方政府又分成行政與立法機關，下列配對何者正確？(A)台東市議會—台東市政府 (B)花蓮縣政府—花蓮縣民代表會 (C)臺北市政府—臺北市議會 (D)新北市烏來區公所—新北市烏來區議會。  
※烏來區為直轄市山地原住民區。
7. ( )下列何項不屬於地方政府的經費來源？(A)中央補助(B)房屋稅收入(C)所得稅收入(D)市立游泳池門票收入。
8. ( )市政府決定將轄下一塊空地規畫為公園，作為市民休閒活動的空間。上述內容說明哪種事實？(A)使用者付費才符合公平原則 (B)只有該市市民才能使用 (C)該公園是政府提供的公共財 (D)市民可以自由使用不受任何規範。
9. ( )某河川遭受汙染，經查證發現是上游的

化學工廠違法排放廢水所致，對此，環保局開出高額罰單並勒令改善。根據上述，下列說明何者正確？(A)政府不應限制工廠排放廢水 (B)工廠若改善汙染情況，可要求政府撤銷罰單 (C)工廠若繳交罰款可以增加政府的規費收入 (D)政府開罰是為了減少工廠製造外部成本。

10. ( )針對某社會問題，專家提出「徵富人稅、徵豪宅稅、調高最低薪資、青年房貸利息補貼」四項建議。根據專家所提出的建議，這是希望達到下列哪種經濟效能？(A)維持公平交易 (B)保障消費者權益 (C)縮短貧富差距 (D)保障私有財產。
11. ( )無敵國中的畢業旅行，前往許多觀光景點，下列何者不屬於政府的收入？(A)國立自然科學博物館門票費用(B)臺北市立木柵動物園門票費用 (C)貓空纜車車票費用 (D)六福村主題樂園門票費用。
12. ( )現代國家重視國民福利，卻也造成政府財政負擔過重的壓力，若要避免將來「債留子孫」的情況，政府應當避免利用哪種方式來增加收入？(A)發行公債(B)課徵所得稅(C)徵收人民土地(D)提高交通罰款。
13. ( )「規費」是指政府因提供特定服務、設備，而對特定對象所收取的款項。下列何者屬於政府的規費收入？(A)臺灣自來水公司收取的水費 (B)公有停車場收取的停車費 (C)天然氣公司收取的瓦斯費 (D)私立醫院的掛號費。
14. ( )平安市政府研擬了一份疏濬潘河道的計畫，希望以該市的經費，徹底解決每逢大雨便成災的問題。附圖是處理的部分程序，其中「乙」屬於下列哪一機關的職權？  

甲—擬定計畫

↓

乙—審查計畫

↓

丙—執行施工

  
 (A)立法院 (B)行政院  
 (C)平安市政府 (D)平安市議會。
15. ( )據報載，我國某縣的財政狀況長期入不敷出，導致當地政府的財政問題日益嚴重，

恐將出現延遲發放基層公務人員薪水的情形。為了解決上述問題，下列何者最可能是該縣政府依法採行的方法？(A)調高所得稅的課徵稅率 (B)發展地方特色產業活動 (C)維持市場上的交易秩序 (D)提高社會福利支出比例。

16. ( )社會福利是指政府運用制度化化的政策，以滿足民眾生存的基本需求，進而達到全民均富的目標，例如十九世紀末德國創設的社會保險制度，即在保障工人的最低生活水準，促進社會穩定與和諧發展。但部分學者則提出質疑，認為政府以金錢給付的福利服務，形成所謂的「福利貨幣」，亦即在不需要付出勞動代價的情形下，民眾仍可獲得酬勞。上述「福利貨幣」，類似經濟學中所提到「公共財」的概念，請問下列哪一項屬於政府所提供的「公共財」？(A)小巨蛋館 (B)公園 (C)故宮博物館 (D)台中科學博物館


17. ( )附表是近年來我國政府賦稅收入結構比率的統計表，根據表中內容判斷，下列哪一項說法最正確？

| 項目   | 85 年 | 86 年 | 87 年 | 88 年 | 89 年 | 90 年 |
|------|------|------|------|------|------|------|
| 所得稅  | 28.7 | 27.8 | 28.5 | 31.9 | 31.6 | 38.1 |
| 關稅   | 8.7  | 8.1  | 8.2  | 7.6  | 8.1  | 7.4  |
| 貨物稅  | 12.9 | 11.5 | 10.8 | 10.7 | 11.4 | 10.6 |
| 營業稅  | 18.1 | 17.6 | 17.5 | 18.6 | 16.8 | 16.2 |
| 土地稅  | 13.2 | 13.8 | 12.4 | 10.9 | 11.2 | 7.4  |
| 公賣利益 | 4.7  | 4.6  | 4.1  | 4.1  | 4.0  | 4.6  |
| 其他稅捐 | 13.7 | 16.6 | 18.5 | 16.2 | 16.9 | 15.8 |

(A)公營企業民營化，公賣利益比率嚴重縮減 (B)以市場銷售為課稅對象的稅賦占比率最低 (C)因加入國際組織，關稅收入比率大幅降低 (D)依負擔能力課稅項目，其比率呈增加趨勢。

18. ( )地方政府設置各種不同的部門，驕妍在衛生所工作，下列哪一位民眾將需要她的服務？

(A) (B)



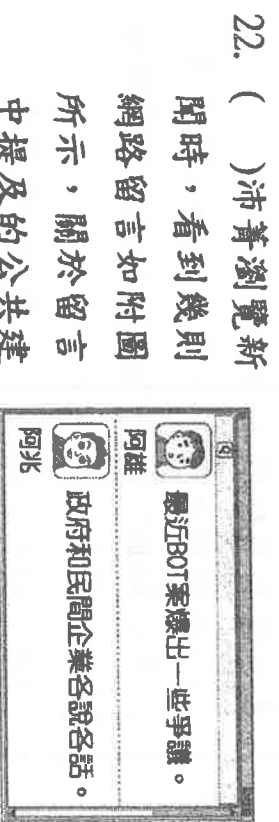
(C) (D)



19. ( )地方自治是指地方上的人民，在國家監督之下，依據法令或基於授權，自行組織自治團體，以處理地方上的公共事務。根據上述說明判斷，下列何者屬於地方自治的事項？(A)辦理縣市議員的罷免事宜(B)決定與他國建立邦交關係(C)增加立法委員應當選名額(D)更改國防武器購買的種類。

20. ( )在我國《憲法》對於中央與地方政府權限的畫分方式中，對於具有因地制宜性質的事務由地方負責。依此規定，地方政府具有哪些權力而設有行政機關與民意機關？(A)司法權、考試權(B)考試權、行政權(C)行政權、立法權(D)立法權、司法權。

21. ( )居住在嘉義縣朴子市的宏達，因覺得住家周遭的路燈照明不足，讓經常工作晚歸的他感到危險，於是向當地的地方民意代表陳情，希望能獲得相關單位的重視。根據上述內容判斷，宏達所陳情的對象最可能是下列何者？(A)縣長 (B)市議員 (C)立法委員 (D)市民代表。



22. ( )沛菁瀏覽新聞時，看到幾則網路留言如附圖所示，關於留言中提及的公共建設營運模式，下列敘述何項正確？

(A)由民間企業投資、興建(B)將會增加國家財政負擔(C)政府透過發行公債籌措興建資金(D)政府營運期滿將歸還給民間企業。

23. ( )大有國正在推行健康保險制度，附表為四位投保者的薪資與保險費明細表。根據表

中資料判斷，該國個人健康保險費繳納金額的多寡，是根據經濟學上何種概念而設計的？

| 姓名  | 薪資 (元/月) | 保險費 (元/月) |
|-----|----------|-----------|
| 王小明 | 19,600   | 98        |
| 陳自強 | 33,000   | 165       |
| 林美好 | 49,000   | 245       |
| 李大同 | 64,000   | 320       |

(A)受益原則 (B)需求法則 (C)比較利益原理 (D)負擔能力原則。


24. ( )詩雅在網路上開設虛擬商店銷售貨品，並以營利為目的，而她的交易所得也納入所得稅的課徵範圍。上述所得稅的課徵，是依據經濟學的何種概念而設定的？ (A)受益原則 (B)供給法則 (C)比較利益原理 (D)負擔能力原則。

25. ( )每逢連續假期，為了紓解交通與分散車流，高速公路常會實施暫停收費措施，但此舉勢必會對國家財政收入造成部分衝擊。上述政府收入的來源與下列何者屬於同一類 (A)民眾支付的交通罰款 (B)企業繳納的營業稅款 (C)國人申請護照的費用 (D)公營事業單位的盈餘。

26. ( )小岑用 50 萬元購買政府所發行的公債，作為個人投資理財的方法之一。請問：這筆錢應屬於政府的何種收入？(A)租稅(B)規費(C)舉債收入(D)公營事業盈餘收入。

27. ( )我們在日常生活中購物時，要記得向商家索取統一發票，這是增加政府何種收入的有效方法之一？(A)營業稅 (B)所得稅 (C)關稅 (D)貨物稅。

28. ( )政府的經濟功能要能發揮，需要經費收入來因應必要支出。附圖中這則新聞將對政府哪一來源的收入造成負面影響？



(A)財產收入 (B)公營事業盈餘收入 (C)舉債收入 (D)規費。

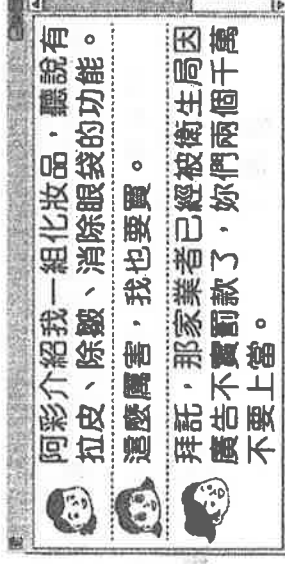
29. ( )由於發展高科技產業對於提升國家競爭力有很大的幫助，因此政府對於此類產業採取獎勵研究或租稅優惠的政策，以促進其發展。根據上述內容判斷，下列何者最可能是政府採取該政策的主要原因？(A)避免私人掌控生產資源，獲取大量利潤(B)對國家發展具外部效益，造福社會整體(C)產品容易遭到仿冒複製，故應該由政府保障(D)高科技產品常推陳出新，廠商需要巨額資金。

30. ( )許多人都曾有過受到鄰居干擾的經驗，諸如妨害社區安寧的聚會、廚房排放的油煙等，為此政府制定相關法規，對造成此類情形者處以“罰鍰”。上述政府解決問題的作法可用下列何者解釋？ (A)利用刑罰以減少外部效益 (B)透過和解以避免民事糾紛 (C)透過刑罰保障私有財產 (D)藉由管制以降低外部成本。

31. ( )附圖是小立探討全球共同環境時，用以說明的一部分文字。根據內容判斷，他的主張具有經濟學的何種概念？ (A)分散風險 (B)外部效果 (C)比較利益 (D)區域合作。



32. ( )政府的任務是使人民可以追求經濟上的富足，並維持經濟發展的公平性及穩定性。由附圖中的對話內容可知政府發揮了哪一項經濟功能？



(A)提供公共財 (B)維持經濟秩序 (C)保障私有財產 (D)縮短貧富差距。

33. ( )在現代民主國家中，政府的任務是為民服務。附圖中三人的對話應是在討論政府發揮的何種經濟功能？



(A)處理外部效果 (B)保障私有財產 (C)提供公共財 (D)維持經濟秩序。

## 二、題組

甲、根據行政院人事行政總處修訂的規定，颱風過境達停止辦公及上課標準為「未來四小時內暴風圈可能經過的地區，其平均風力達七級以上，或陣風超過十級以上。」若局部地區因受地形、雨量、交通等特殊狀況的影響，導致辦公或上課困難者，各縣市政府得依法逕行決定，並通報宣布停止上班或上課。

( ) (34)根據內容判斷，上述做法旨在發揮下列何種功能？(A) 增加社會救助 (B)因應社會變遷(C)增建公共設施 (D) 強化災難應變。

( ) (35)上述因應各地情況差異，由各縣市政府決定並負責的做法，最符合下列何種精神？(A)主權在民(B)地方自治(C)民族自治(D)權力分立。

乙、小莉在自家一樓開了間超商，每年的獲利除了扣掉進貨與人事成本外，當然還包括各種稅目的支出。附表是她所繳的各項税金，請你根據該表，選出正確答案。

| 項目 | 營利事業所得稅 | 房屋稅 | 營業稅  | 地價稅 |
|----|---------|-----|------|-----|
| 金額 | 10萬元    | 1萬元 | 10萬元 | 1萬元 |

( ) (36)小莉所繳的稅中，哪些是屬於財產稅？

(A)房屋稅、營業稅 (B)營業稅、地價稅  
(C)房屋稅、地價稅 (D)營利事業所得稅、地價稅。

( ) (37)小莉所繳的稅中，何者是屬於銷售稅？ (A)房屋稅 (B)營業稅  
(C)地價稅 (D)營利事業所得稅。  
( ) (38)為了辦理員工出國旅遊，小莉前

往外交部申請護照，費用 1,300 元。上述費用屬於政府的何項收入？  
(A)財產收入(B)租稅收入(C)規費收入(D)公營事業盈餘收入。

( ) (39)小莉注意最近的新聞，都在宣導五月繳交綜合所得稅期間，請民眾多多使用自然人憑證及網路報稅。這是哪個機關的職權？

(A)經濟部 (B)行政院主計總處  
(C)財政部 (D)立法院。

## 三、配合題

甲：我國中央政府與地方政府的權限劃分方式，是依據事務的性質而畫分。你知道下列項目，哪些是屬於中央還是地方政府的職權？請試著填入正確的選項。

(A) 中央政府的權限 (B) 地方政府的權限

40. ( ) 購買武器  
41. ( ) 定期修剪行道樹  
42. ( ) 維修保養高速公路  
43. ( ) 設立鄉公所  
44. ( ) 設立內政部警政署  
45. ( ) 防治登革熱定期噴藥  
46. ( ) 制定 12 年國教政策  
47. ( ) 提供學童營養午餐

乙：下列問題應是指政府的哪種收入，請填上正確代號。

(A)租稅 (B)規費 (C)舉債收入  
(D)公營事業盈餘收入

( ) (48)無敵國中的車隊行經高速公路時，遊覽車司機必須繳交通行費。該司機繳交的費用將增加政府的何種收入？  
( ) (49)真心在清水休息站購買飲料，商家除了找錢給她外，還附上統一發票。該商家依法開立統一發票，將可增加政府的何種收入？

( ) (50)太宇到士林觀光夜市的攤位購買雞排，這些攤位燈火通明，營業到深夜。上述攤位所繳交的水電費，是政府的哪種收入？