

班級： 姓名： 座號：

1. 二次大戰後，那些國家因瀕臨北海，而得以開採北海油田，另闢新財源？

(A) 英國、瑞典、德國 (B) 挪威、丹麥、英國
(C) 丹麥、瑞典、法國 (D) 荷蘭、比利時、英國。

2. 快訊：「運行於英倫海底隧道的『歐洲之星』，因嚴寒導致電路故障，約有2,500名旅客困於隧道中。火車連接的倫敦、巴黎及布魯塞爾等城市，旅客行程大受影響。」請問，英倫海底隧道是通過哪一個海域？

(A) 英吉利海峽 (B) 松德海峽 (C) 達達尼爾海峽 (D) 直布羅陀海峽

3. 下列北歐那一國家境內多火山與冰河地形，有「冰火王國」之稱，並利用地熱、水力等能源，發展溫室農業、煉鋁業？





(A) 芬蘭 (B) 瑞典 (C) 挪威 (D) 冰島。

4. 大尉看到臉書上很多人換右圖的頭像，並轉貼新聞報導：「2015年11月13日星期

五是☐☐史上最黑暗的一天，首都在一夜發生多起恐怖攻擊事件，逾百人身亡。至今☐☐觀光業受到重創，羅浮宮、凱旋門等知名景點不見往日人潮。」請問：☐☐指的是哪一國？

(A) 英國 (B) 德國 (C) 荷蘭 (D) 法國。

5. 挪威拜北大西洋暖流之賜，多不凍港，能發展出世界級的貨運航隊，為國家贏得龐大商機。除了上述的氣候因素外，挪威發達的航運還與下列哪一種海岸地形密切相關？

(A)  (B)  (C)  (D) 

6. 歐洲的水運交通相當發達，成為經濟發展的重要命脈。如右圖為歐洲重要的河道流域圖，該河道構成了下列哪一組運輸路線？

(A) 波河→地中海 (B) 多瑙河→黑海
(C) 萊因河→北海 (D) 窩瓦河→裏海。

7. 萊因河與多瑙河皆流經歐洲許多國家，但多瑙河航運沒有萊因河發達，與多瑙河哪項因素有關？

(A) 坡陡流急不利航運 (B) 流向不佳注入黑海
(C) 年雨量變率較大 (D) 河道泥沙淤積嚴重。

8. 北興happy go社團寒假到歐洲旅遊，依序前往巴黎、柏林華沙和基輔四個城市。請問：根據地理位置和旅遊順序，這四個城市的月均溫如何變化

(A) 越來越高 (B) 越來越低 (C) 先高後低 (D) 先低後高。

9. 俄羅斯近年來經濟發展快速，被列為「金磚四國」之一。請問：該國近年來經濟發展和下列何者關係密切？

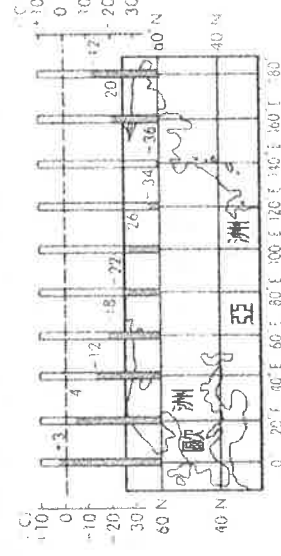
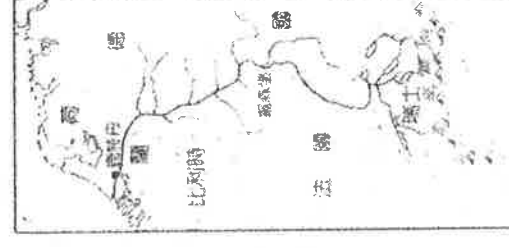
(A) 農業發達 (B) 交通便利 (C) 礦產豐富 (D) 共產主義。

10. 右圖是歐亞大陸60°N各處一月月均溫的比較，造成此種氣溫差異主要的因素應為下列何者？

(A) 地勢高低 (B) 緯度高低
(C) 洋流性質 (D) 植被型態。

11. 世界最長的鐵路——西伯利亞大鐵路，若由俄羅斯海參崴出發，前往首都莫斯科，依序會經過哪些地形？

(A) 平原、高原、山地 (B) 山地、高原、平原
(C) 高原、山地、平原 (D) 平原、高原、平原。



12. 東歐在地形上南、北有不同的特色。請問：該地區南、北地形的分界線主要為下列何者？

- (A) 本寧山 (B) 烏拉山 (C) 阿爾卑斯山 (D) 喀爾巴仟山。

13 許多臺灣資訊大廠，如鴻海、廣達、華碩及宏碁等紛紛在東歐地區的捷克投資設廠，其他世界各國的跨國企業如福特、微軟、IBM 及 TESCO 等也在捷克登記註冊成立分公司，造成此現象的原因可能為何？

- (A) 社會福利措施完善 (B) 工資低廉且鄰近西歐
(C) 港口眾多有利出口 (D) 地形平坦適合發展大型工廠。

14. 下列哪組國家若能在原料(鐵礦)及動力(煤礦)上彼此密切合作，則在鋼鐵工業的發展上，必能占有優勢？

- (A) 德國、英國 (B) 瑞典、法國 (C) 英國、瑞士 (D) 德國、法國。

15. 近年來出現一種水上住宅「漂浮屋」，它沒有地基，防水基座的底部用鋼柱支撐，一旦潮水淹到基座就「水漲屋高」。請問：由於氣候變遷、海平面上升的影響，下列哪個國家最可能已經使用漂浮屋設計？

- (A) 荷蘭 (B) 英國 (C) 法國 (D) 德國。

16. 右為第四紀冰河期的歐洲。由圖可知，北歐在冰河時期，大陸冰河以哪個半島上的主要山脈為中心，向外擴張與侵蝕，因此冰河地形遍布？

(A) 斯堪地那維亞半島 (B) 伊比利半島 (C) 巴爾幹半島 (D) 義大利半島。

17. 東歐最南端的巴爾幹半島，為當地相當重要的地理區。下列有關該地區的敘述，何者錯誤？

- (A) 面臨愛琴海 (B) 喀斯特地形
(C) 谷灣式海岸 (D) 共產世界兵工廠。

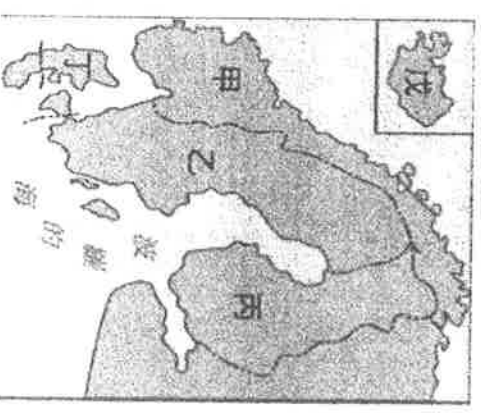
18. 知名手機如 Nokia、Ericsson 皆發跡於北歐，此乃因北歐哪一項自然環境的限制，使其無線通訊較為發達？

- (A) 國土破碎，海運不便 (B) 高山阻隔，交通不便
(C) 礦產豐富、科技發達 (D) 氣候寒冷、地廣人稀。

※右圖為北歐簡圖，請回答以下 20-22 題

19. 「狂牛症」一直持續的威脅牛隻健康，不但要大量撲殺牛隻也讓消費者心中產生恐懼。哪一國最擔心這個怪病對該國畜牧業的打擊？

- (A) 乙 (B) 丙 (C) 丁 (D) 戊。



20. 丙國湖泊眾多，有「千湖國」之稱，這與下列哪一處的湖泊成因相同？

- (A) 南投日月潭 (B) 西藏納木錯 (C) 塔里木盆地羅布泊 (D) 高雄澄清湖。

21. 哪一個國家以產優質鐵礦聞名，著名汽車品牌 VOLVO 行銷全世界？

- (A) 乙 (B) 丙 (C) 丁 (D) 戊

22. Jackson 到澎湖旅遊，發現島上有多座玄武岩節理地質型態，代表火山活動曾十分旺盛，請問哪一島國的成因與澎湖相同？

- (A) 乙 (B) 丙 (C) 丁 (D) 戊

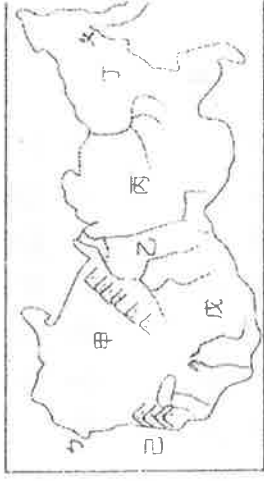
23. 右圖為俄羅斯的疆域位置分布圖，根據中資料判斷下列敘述何者有誤？

- (A) 橫跨多個時區，東西方居民生活作息不同
(B) 國土橫跨南北半球
(C) 位居高緯度，部份地區於一月時，可見永夜現象
(D) 海岸線綿長，冬季不易航行。



24. 交通部人員研究德國的河運網路，發現當地的運河多採東西方向興建。請問：這種特色和下列何者關係最大？

- (A) 緯度位置 (B) 雨量多寡 (C) 冰河作用 (D) 河川流向。

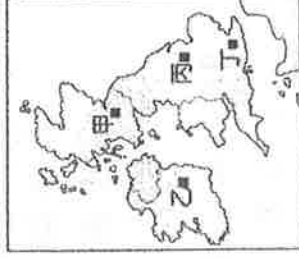


25. 右圖是俄羅斯的地形分區圖。請問下列敘述何者『有誤』？

- (A) 甲區是俄羅斯人口都市集中的精華區
(B) 乙區因位於板塊接觸帶，多火山地震
(C) 乙、丙、丁三區因地勢南高北低，故河川多由南向北流入北極海
(D) 甲、乙二地之間的山脈是歐亞界山。

26. 「由於氣候較暖濕且平原面積廣大，曾為蘇聯糧倉所在，現有聶伯河提供農業用水與水力發電，加上礦產豐富，朝向農工業並行發展的國家」，請問：上述的國家應指下列何國？

- (A) 波蘭 (B) 烏克蘭 (C) 保加利亞 (D) 匈牙利。



27. 英國在歐盟成立後，藉由英法海底隧道的完成，經濟重心已由大西洋轉移至歐陸。請問：連結英法海底隧道通往巴黎的英國首都倫敦位於右圖中何處？

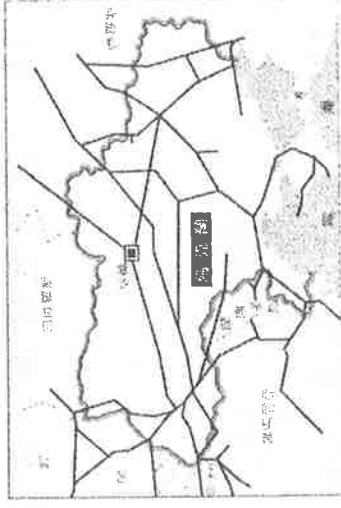
- (A) 甲 (B) 乙 (C) 丙 (D) 丁。

28. 荷蘭和臺灣皆為地狹人稠的地區，下列有關這兩個地區的比較中，何者最為正確？

	(A)鄰近海域	(B)主要地形	(C)氣候類型	(D)主要河川
臺灣	臺灣海峽	山地面積廣大	溫帶季風	淡水河
荷蘭	地中海	平原低地	溫帶海洋性	多瑙河

29. 右圖為俄羅斯某項資源的部分管線路線圖，該管線經過烏克蘭運送至西歐各國，該資源主要用於民眾日常生活，冬天需求量更大。請問該項資源應為下列何者？

- (A) 天然氣 (B) 石油
(C) 甲烷 (D) 淡水。



30. 近年來，北歐的企業資金與高科技人才外流至國外的情況日益顯著。請問：這和北歐何種制度的實施最有相關？

- (A) 共產制度 (B) 計畫經濟 (C) 市場經濟 (D) 社會福利制度。



左圖為歐洲政區圖，A~G為西歐國家，H~K為東歐國家，M~Q為北歐國家，甲~丙為海洋，31~38題請參考此圖

31. 哪一個國家以深邃壯觀的峽灣海岸地形著名，有「峽灣國」之稱？

- (A) N (B) O (C) P (D) Q。

32. 1973年8月23日，兩名有前科的罪犯簡-艾瑞克·歐爾森與克拉克·歐洛夫森，搶劫斯德哥爾摩一家銀行，並挾持了四位銀行職員。在與警察僵持了130個小時後，歹徒最終投降。然而這起事

件發生後幾個月，4名曾經遭受挾持的銀行職員，仍然對綁架他們的人顯露出憐憫的情感，表明並不痛恨歹徒，表達他們對歹徒不但沒有傷害他們的卻對他們多加照顧的感激，並且對警察採取敵對的態度。這件心理學上有名的事件後來衍生出一專有名詞：斯德哥爾摩症候群，請問這件搶案是發生在哪一個國家？
(A) N (B) O (C) P (D) Q。

33. 「出生於此的音樂神童莫札特已是國家品牌，因此來到這裡一定要買以莫札特為圖騰包裝的巧克力，這可是觀光客的最愛呢！」上文所述位於何處？
(A) E (B) F (C) H (D) G。

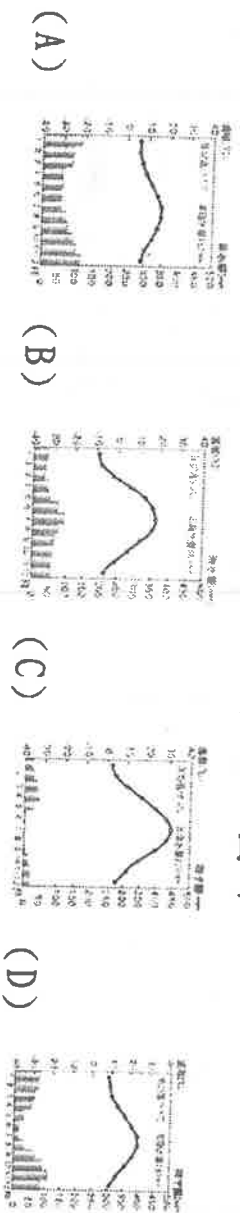
34. 金小武看完探討全球暖化的影片「正負二度C」之後，非常焦慮海平面上升的問題，請問：下列哪一個國家較不容易受到全球暖化、海平面上升的威脅？
(A) C (B) D (C) E (D) F。

35. 「該國全境地勢平坦，大片肥沃的黑土平原，農業發達，有『歐洲糧倉』之稱。另外該國礦藏豐富，主要天然資源包括煤、鐵礦、錳礦等。為全球第6大之鐵礦生產國。」文中所指的國家為何？
(A) I (B) J (C) K (D) L。

36. 哪一國的蔚藍海岸位於南部，氣候宜人，是全球著名的度假勝地？
(A) B (B) C (C) D (D) E。

37. 笑話一則：「如果啤酒裏有一個蒼蠅，甲國人會馬上找律師，乙國人會拒付錢，丙國人會幽默幾句，而丁國人則會用鏟子夾出蒼蠅，並慎重其事地化驗啤酒裏是否已經有了細菌。」請問文中所敘述「丁」國人認真嚴謹、實事求是的務實精神，最可能是哪個國家的國民特色？
(A) B (B) C (C) D (D) E。

38. A國的氣候圖，最有可能是下列哪一個圖示



39. 右圖是歐洲某工業區及其盛產的礦產資源發展工業的流程圖，請問此工業區最可能位於下列那些國家？

- (A) 法國、比利時 (B) 英國、德國
(C) 瑞典、丹麥 (D) 德國、挪威。

40. 下列歐洲幾個著名城市的介紹哪項是「錯誤」的？

- (A) 布達佩斯——「多瑙河上的明珠」 (B) 維也納——「音樂之都」
(C) 鹿特丹——「歐盟總部所在」 (D) 巴黎——「花都」。

41. 波蘭在何項工業區位條件上佔有優勢，因此德國汽車製造商關閉國內部分車型的工廠，移往波蘭生產，以節省成本？

- (A) 技術較進步 (B) 動力較充足 (C) 原料較豐富 (D) 工資較低廉。

