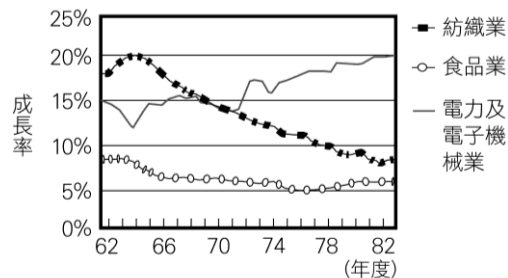


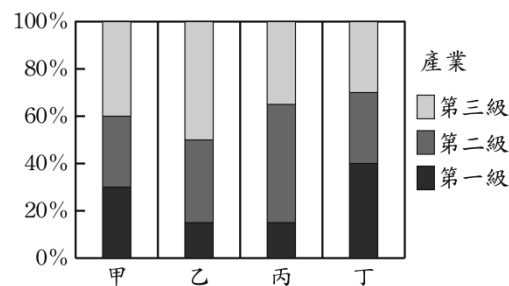
- 民國 70 年代起，台灣面臨工資提高、環保意識高漲等問題，政府開始推動半導體、資訊工業的產業升級發展。請問：此時期的工業發展特色為何？  
(A)勞力密集度高 (B)產品附加價值高 (C)外銷市場縮減 (D)工業汙染嚴重
- 臺灣五大都會區中，多是以商業為主，但是其中有個都會區，本身重工業發達，且擁有臺灣最大的國際港，請問是哪個都會區？(A)臺北基隆 (B)臺中彰化 (C)臺南 (D)高雄
- 「都市化」的定義是指下列何者？(A)人口由市中心向四周擴散的過程 (B)人口由鄉村移往都市的過程 (C)人口快速成長的現象 (D)鄉村人口大量流失的現象
- 清明連假，出遊人潮眾多，雪山隧道壅塞相當嚴重，平均時速不到 40 公里，高工局啟動闢道管制，也鼓勵民眾利用替代道路，緩解此段國道的壅塞現象。請問：前文敘述的國道，其公路編號標誌是以下哪一個？

(A)  (B)  (C)  (D) 

- 臺灣的河川有一百多條，河流眾多，但河運卻發展不佳。造成臺灣無法發展河運的原因為何？  
(A)河水湍急，且流量不穩定 (B)河川東西分流，流向不佳  
(C)河川支流太少，腹地狹小 (D)河川上游興建水庫，下游斷流
- 中國和臺灣都已加入世界貿易組織(WTO)，且於西元 2008 年底開放兩岸三通，使得兩岸在貿易上的接觸更加頻繁。兩岸商品大多選擇海輪運輸，這是因為海運具有下列哪項優點？  
(A)速度較快 (B)運費較低 (C)機動性高 (D)時效性高
- 右圖是某地區三種產業歷年平均受雇員工變動圖。從圖中變化的趨勢，可看出該地區的工業發展具有下列何種特徵？(A)勞工成本逐漸提高 (B)高科技業發達  
(C)工商業蓬勃發展 (D)工業為加工出口導向
- 設置工廠時，要選擇最適合的工業區位，其主要目的為何？(A)擴大市場版圖 (B)降低生產成本 (C)減少工業汙染 (D)均衡區域發展
- 臺灣東部的工業人口比例較低，其原因為何？  
(甲)因氣候緣故，不利工業的發展 (乙)缺乏發展工業所需的天然資源 (丙)在地市場規模狹小，不利工業發展 (丁)以山地地形為主，交通不便，影響工業的推動

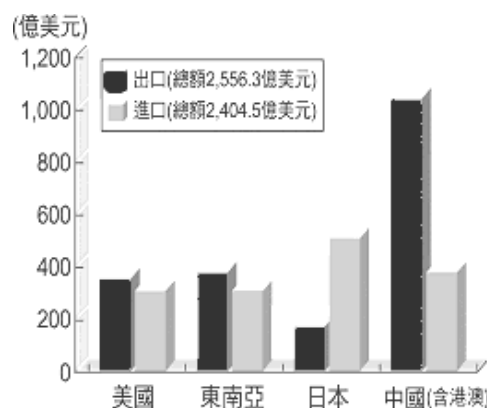


- (A)甲乙 (B)乙丙 (C)丙丁 (D)甲丁
- 右圖是臺灣地區某四縣市人口就業結構圖，其中哪一都市的產業類型以製造業最多？(A)甲 (B)乙 (C)丙 (D)丁
- 根據經濟部統計處的資料，到 2015 年 9 月為止，全台灣便利商店總店數已達 10288 家，密度稱霸全球。依據商業形式分類，「便利商店」是屬於下列哪一類型的商業活動？(A)批發 (B)量販 (C)網購 (D)零售



- 臺灣早期加工出口區的設立原因，除了考量當地交通條件之外，尚有考慮哪項工業區位？(A)市場 (B)勞工 (C)原料 (D)資金

- 右圖為臺灣主要貿易對象，請依圖判斷，下列何者正確？  
(A)臺灣主要的進口物品為農工原料 (B)臺灣對美國的貿易為入超 (C)臺灣對日本的貿易為出超 (D)臺灣最大的貿易夥伴為中國
- (甲)鋼鐵、石化 (乙)紡織、鞋業 (丙)生物科技、奈米科技 (丁)半導體、電子產業。以上工業種類若依臺灣經濟發展的順序，應如何排列？(A)甲→乙→丙→丁 (B)乙→丙→丁→甲 (C)乙→甲→丁→丙 (D)丙→丁→甲→乙



15. 右圖為幸福國四個時期的貿易總額統計圖。請問：下列哪一個時期，幸福國的出超額最大？

(A)甲 (B)乙 (C)丙 (D)丁。

16. 同學們正在討論「都市」的特色，下列誰的說法最適當？

- (A)小可：「都市的面積比鄉村大。」  
 (B)小雨：「都市的人口密度比鄉村高。」  
 (C)小米：「都市的居民都是從事第三級產業為主。」  
 (D)小倩：「都市的聚落都集中在水源地四周。」

17. 下表是甲、乙、丙、丁四個聚落的三級產業就業人口比例表。請問：

鄉村的聚落最可能是以下哪兩個聚落？(A) 甲乙 (B) 乙丁 (C) 乙丙 (D) 甲丁

產業類型	就業人口（％）			
	甲	乙	丙	丁
第一級產業	68	11	14	70
第二級產業	16	17	10	11
第三級產業	16	72	76	19

18. 劃分一個鄉村聚落為集村或散村的依據為何？

(A)開發的早晚 (B)建築物的高度 (C)住宅的密集程度 (D)居民的產業結構

19. 影響一地聚落型態的因素很多。請問：蘭陽平原形成散村，與下列哪項因素最相關？

(A)工業不發達 (B)治安不佳 (C)交通便利 (D)水源充足

20. 港口集中和分散貨物所能到達的地區稱為腹地，如高雄港則為臺灣腹地最大的國際港。請問：一個港口腹地的大小與下列何者關係最為密切？

(A)緯度位置 (B)勞力充足 (C)交通發達 (D)原料豐富

21. 鐵路、公路是在「陸運」上主要的運輸方式，關於這兩種運輸方式的比較，下列何者正確？

	(A)運量	(B)適應地形能力	(C)長程運費	(D)機動性
公路	大	較佳	低	低
鐵路	小	不佳	高	高

22. 國際貿易是臺灣的經濟命脈，下列哪些國家是臺灣最主要的貿易夥伴？

(甲)中國 (乙)日本 (丙)南韓 (丁)美國 (A)甲乙丁 (B)甲乙丙 (C)甲丙丁 (D)乙丙丁

23. 臺灣的產品多為出口導向，主要是受下列何種因素影響？

(甲)輕工業較發達 (乙)礦產資源缺乏 (丙)國內市場狹小 (丁)高科技業較發達  
 (A)甲乙 (B)乙丙 (C)甲丙 (D)甲丁

24. 量販店具有商品單價較零售商品低的優點，這與量販業的哪一項特色關係密切？

(A)一次進貨數量較多 (B)有大型免費停車場 (C)商品種類較多 (D)分店較多

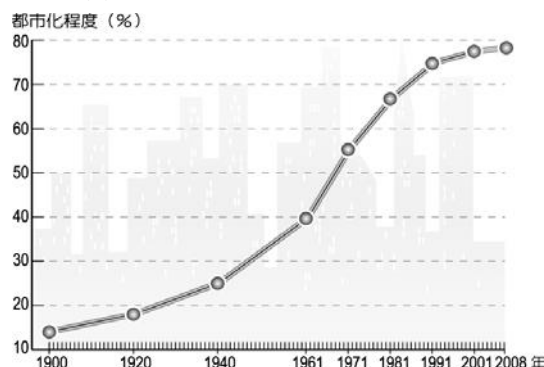
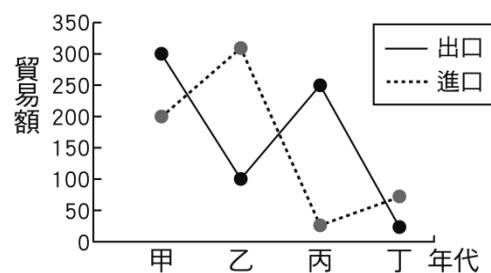
25. 「某一冷凍食品公司位於蘇澳港，該公司擁有漁船、冷凍廠、魚罐頭工廠等設備，該公司距離北宜高速公路「蘇澳交流道」不到一公里……」請問：該魚罐頭工廠設立的工業區位條件有下列哪些？(甲)原料 (乙)動力 (丙)勞工 (丁)交通 (A)甲乙 (B)乙丙 (C)甲丙 (D)甲丁

26. 臺灣必須從國外輸入原料，並將之製成產品，再輸往世界各地，以維持經濟活動的繁榮。上文說明了下列何者是臺灣經濟發展的命脈？ (A)國際貿易和製造業 (B)低廉的勞工和廣大的市場 (C)雄厚的資本和便利的陸運 (D)進步的技術和農產原料。

27. 右圖是臺灣都市化程度圖，從圖中「無法」判斷出哪一項資訊？

- (A)台灣的都市人口增加  
 (B)台灣的工商業越來越發達  
 (C)台灣的鄉村人口持續往都市流動  
 (D)台灣的社會增加率不斷成長

單位：億美元



28. 空中巴士 A380 雙層客機是目前全球最大的客機，最多可搭載 853 人，以因應日益增加的航運需求，這也顯示今日旅客選擇交通工具時，特別著重下列何項需求？  
 (A)速度快 (B)停靠點多 (C)價格低 (D)機動性高
29. 臺灣的蘭花生產在全球市場占有 60% 以上，每年產值高達 27 億元，其中以蝴蝶蘭、文心蘭與蕙蘭為最大宗，其外銷的運輸應以何種方式為主？ (A)公路 (B)鐵路 (C)空運 (D)海運
30. 右圖所要表達的意涵，下列各句文字敘述何者最貼切？  
 (A)時空收斂 (B)機動性高 (C)專業分工 (D)產業升級

※以臺灣自製、主打國民平價服飾的網購名牌 Lativ，於西元 2012 年官方品牌日誌中發表移除產地標註公告，部分網友認為 Lativ 創立時的品牌價值就是『臺灣製造的服飾』，如今將部分服飾轉移至中國等國家製造，也讓網友感到失望，甚至發動拒買活動。請回答下列問題：

31. Lativ 的商業型式屬於下列哪一種？(A)批發 (B)零售 (C)量販 (D)無店鋪
32. Lativ 將部分服飾轉移至中國等國家生產製造，是因為臺灣缺乏哪項工業優勢？ (A)資金 (B)勞力 (C)交通 (D)動力

※小雨在進行工業區位的相關報告，發現四項工業的生產成本比例如附表。

工業	集貨費 (%) (原料由產地送至工廠的運輸費)	加工費 (%) (由原料成為產品的過程中所需費用)	分配費 (%) (產品由工廠送至市場的運輸費)
甲	50	25	25
乙	33	34	33
丙	27	45	28
丁	20	20	60

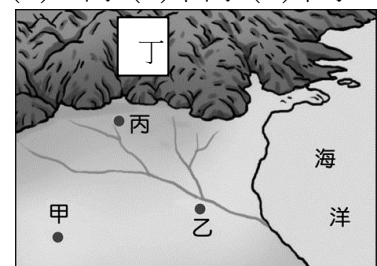
33. 請問：甲工業最有可能是下列哪一項工業？ (A)製糖業 (B)高科技業 (C)鋼鐵工業 (D)麵包工廠
34. 承上題，哪一項工業選擇『市場』區位，對該項工業最為有利？ (A)甲 (B)乙 (C)丙 (D)丁

※高雄新景點「MLD 台鋁生活廣場」是南部大型工業區舊址活化經營的成功案例。「台鋁」前身是一九三五年成立的「日本鋁業株式會社」，日治時代曾是全世界規模第二大製鋁廠。國民政府來台後，更名「台灣鋁業」，一度是績優國營事業，因產業轉型，八〇年代末熄爐停產，廠房荒廢近卅年。現由民間接手改造，保留了當時 Y 字型鋼樑、廠區老樹、鍋爐煙囪等，讓人置身其中，有時空交錯之感。請回答下列相關問題：

35. 『台鋁』位於高雄港附近，從國外進口原料，當時工廠設置考慮最主要的區位因素為何？  
 (A)原料 (B)市場 (C)交通 (D)勞工
36. 『台鋁』利用「海運」方式，將所需原料運送來台，是因為「海運」具有下列哪些優點？  
 (甲)運量大 (乙)速度快 (丙)運費低 (丁)時效性高 (A)甲乙 (B)乙丙 (C)甲丙 (D)甲丁

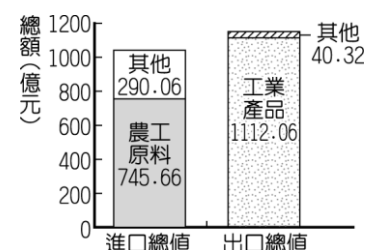
※右圖為某地區四個聚落的分布位置，請依圖示回答下列問題：

37. 如果河運是此地區唯一的運輸方式，請問：哪個聚落的交通最為便利？ (A)甲 (B)乙 (C)丙 (D)丁
38. 根據圖判斷，哪一個聚落的地勢較高？  
 (A)甲 (B)乙 (C)丙 (D)丁



39. 右圖為北興國 2014 年的進出口資料，請問以下敘述何者正確？

- (A)北興國為貿易入超國
- (B)北興國以出口農工原料為主
- (C)北興國的貿易總額為 2188.1 億元
- (D)北興國的工業產品以高科技產品為主



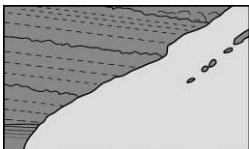
※請閱讀短文，並回答下列問題。高雄港在抽砂疏濬後，港口機能大幅度提升，因原料進口便利，使得工業快速發展。雖然工廠設立增加了就業機會，促使當地人口一路攀升，但也導致嚴重的都市問題。

40. 高雄因港口而興起，請問：高雄港的海岸景觀應與下列何者最相似？

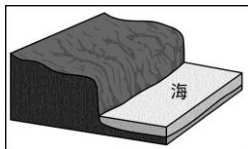
(A)



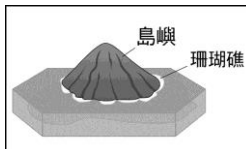
(B)



(C)



(D)



41. 文中提到高雄因就業機會增多，使人口一路攀升。請問：就人口遷移而言，當地人口移動現象為下列何者？ (A)拉力>推力 (B)推力>拉力 (C)推力=拉力。

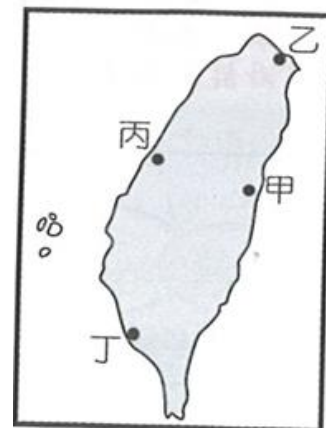
※右圖為台灣港口分布圖，回答下列問題並填入代號。

42. 潟湖興建而成，為台灣第一大港，代號為(A)甲 (B)乙 (C)丙 (D)丁

43. 乙港口為天然良港，港闊水深，請問：是依什麼地形興建而成？

(A)峽灣地形 (B)谷灣地形 (C)岬灣地形 (D)沙岸地形

※臺灣因陸上地形的限制，早期交通運輸的往返以海運為主，因此造就了許多港口都市。後因港口的淤積及陸上交通的普及，港口都市日漸沒落。右下圖為臺灣早期及現代主要的港口分布圖，請根據圖中資料回答下列問題：



44. 早期的港口主要分布於臺灣西半部，其主要的原因為何？

(A)漢人開墾的區域 (B)清朝政府的限制

(C)居民的職業類型 (D)臺灣的氣候條件

45. 依臺灣雨量分配的時間與空間判斷，圖中哪條河川的航運價值最高？

(A)高屏溪 (B)濁水溪 (C)淡水河 (D)卑南溪

46. 臺灣早期因地理限制，導致南北向交通受阻，故以海運為主要交通方式。上述所謂「地理限制」是指下列何者？ (A)平原廣大 (B)海岸陡直 (C)山脈南北走向 (D)河川東西分流

47. 早期的港口都市現今大多不具有港口功能，甚至日漸沒落。主要原因為下列何者？

(甲)以內銷為主的經濟走向 (乙)港口泥沙淤積 (丙)陸運較為發達 (丁)河運較為重要

(A)甲乙 (B)乙丙 (C)乙丁 (D)甲丁

※右圖為台灣主要鐵路及支線鐵路分布圖，請回答以下問題：

48. 台灣鐵路建設從清代開始，興建至今已完成環島鐵路網，其中主線鐵路呈現「環狀」路線，主要受到何種因素所致？

(A)地形 (B)水系 (C)聚落 (D)政策

49. 哪一條支線，因為政府大力推展觀光產業，加上當地推動平溪天燈節，觀光訪客逐年增加。(A)甲 (B)乙 (C)丙 (D)丁

50. 下列哪一項重要的鐵路路線，對臺灣東部地區的開發，直接貢獻最少？ (A)北迴鐵路 (B)花東線 (C)內灣線 (D)南迴鐵路

