


北興國中 104 學年度第二學期第二次段考

國二地理科試卷

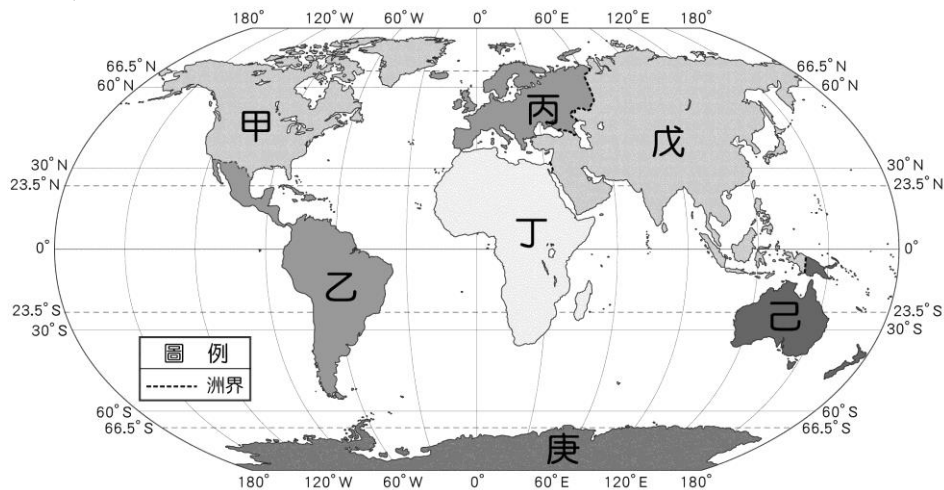
一、 單選題（每題 2 分，共 50 題）

_____班_____號 姓名_____

1. 中國西部地區的民族，為適應「逐水草而居」的游牧生活，當地居民產生何種傳統居住型態？
(A) 高腳屋 (B) 小木屋 (C) 騎樓 (D) 蒙古包。
2. 右圖為中國南部鄉村傳統的高架式住屋形式，這種建築優點是可以通風、防潮，下層可以圈養家畜。請問：在下列的哪一地區也可以見到類似的建築形式？(A)北歐 (B)東南亞 (C)藏北高原 (D)南極洲。
3. 承上題，此類建築主要分布的地區，具有下列何種氣候特徵？
(A)潮溼多雨 (B)溫差大 (C)冬暖夏涼 (D)終年嚴寒。
4. 青藏高原以東南部的年降水量最多，此地的降水來源是夏季從海上吹來的何種風向？(A)東北風 (B)東南風 (C)西南風 (D)西北風。
5. 若依不同的地球畫分方式來比較，則以下列哪一地點為中心的半球，其呈現出來的海洋面積比例會最高？ (A)北極海 (B)法國 (C)南極點 (D)紐西蘭。



※附圖為世界各大洲簡圖。請問：



6. 有幾個洲的範圍同時橫跨南北半球？
(A)2 個 (B)3 個 (C)4 個 (D)5 個。
7. 哪一洲會同時擁有熱帶、溫帶與寒帶氣候？
(A)甲 (B)丙 (C)丁 (D)戊。
8. 哪一洲的熱帶雨林占世界雨林面積的一半，此地並被稱作「地球之肺」？
(A)甲 (B)乙 (C)戊 (D)丙。
9. 哪一洲被三大洋所包圍？
(A)甲 (B)戊 (C)己 (D)庚。
10. 人口成長最快速的洲是：
(A)甲戊 (B)丁戊 (C)丙己 (D)丁庚。
11. 甲、乙、丙三洲以信仰那一宗教為主？
(A)伊斯蘭教 (B)基督教 (C)印度教 (D)佛教。
12. 哪一洲的人口密度最低？ (A)甲 (B)丙 (C)戊 (D)庚。
13. 2012 年 8 月 25 日，人類第一個登陸月球的美國太空人阿姆斯壯辭世，這位劃時代的英雄留給人們無限的緬懷。1969 年，阿姆斯壯乘坐「阿波羅 11 號」到外太空，見到了太空中地球的美麗模樣，當他踏上月球的那一步，可說是名副其實跨出人類的一大步。請問：「阿波羅 11 號」由美國太空中心發射，再藉由登月小艇抵達月球表面。若要在地圖上標示出當時太空梭發射的地點，應是在圖中何處？ (A)甲 (B)己 (C)丙 (D)丁
14. 「阿波羅 11 號」在結束任務後，順利返回地球。降落地點的位置為北緯 13 度 19 分，西經 169 度 9 分。依據上圖判斷，返回地球的船艙應是降落在哪一個海洋？
(A)大西洋 (B)太平洋 (C)印度洋 (D)北極海

※陸地面積的多寡直接影響人類活動的空間。附圖為世界各地主要板塊分布狀況，請根據圖中分布特色回答下列問題：

15. 請由圖中相關位置判斷，下列哪一板塊未和太平洋板塊接觸？

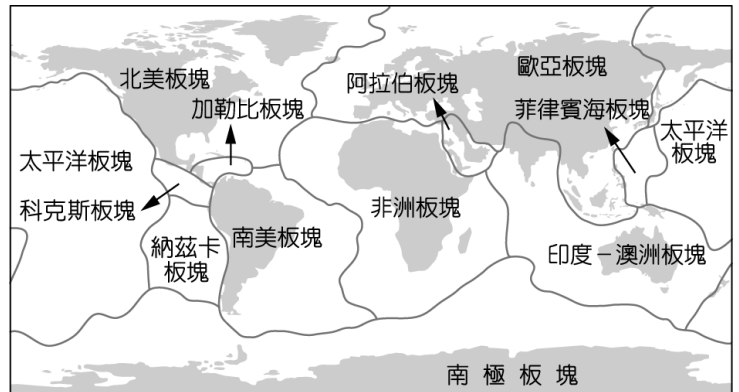
(A) 歐亞板塊 (B) 菲律賓海板塊 (C) 非洲板塊 (D) 印度－澳洲板塊。

16. 太平洋板塊面積廣大，和其他板塊接觸地帶最容易造成下列何種現象？

(A) 河川侵蝕旺盛 (B) 火山活動頻繁 (C) 風向季節轉換 (D) 陸地面積廣大。

17. 喜馬拉雅山為世界最高大的山脈，其位於下列哪兩個板塊間的接觸地帶？

(A) 非洲板塊、歐亞板塊 (B) 太平洋板塊、歐亞板塊 (C) 歐亞板塊、印度－澳洲板塊 (D) 非洲板塊、印度－澳洲板塊。



※右圖為西部簡圖，請問：

18. 以下為中國某個被形容為「生命禁區」的地區描述：「天上無飛鳥，地上不長草，風吹石頭跑，氧氣吃不飽，一步三喘氣，六月下大雪，四季穿棉襖。」以上敘述是位於右圖中何處？

(A) 甲 (B) 己 (C) 丁 (D) 庚。

19. 承上題，影響該地氣候的主要影響因素是：(A) 緯度 (B) 海陸分布 (C) 地形 (D) 距海遠近。

20. 圖中『庚』與『辛』兩地區是以哪一座山為界？(A) 祁連山 (B) 岡底斯山 (C) 天山 (D) 崑崙山。

21. 「藍天白雲塞上好風光，青青草原，草原上牧牛羊，多情牧童為我把歌唱，我願意在你身旁，聽著那駱鈴兒叮叮噹……」此首民謠所描述、詠唱的背景地區，最可能是下列何處？

(A) 乙 (B) 辛 (C) 己 (D) 壬。

22. 「……大漠飛沙旋落照，沙中水草堆好似仙人島，過瓜田碧玉叢叢，望馬群白浪滔滔……」這首著名的邊疆舞曲，所描述的是下列何地？

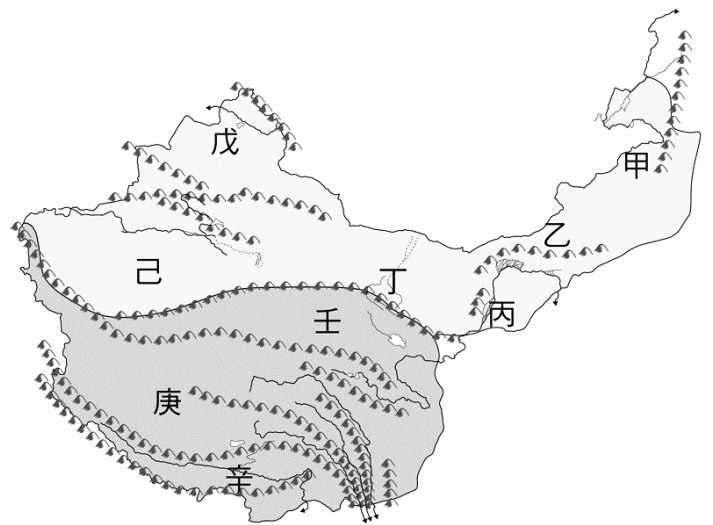
(A) 甲 (B) 乙 (C) 己 (D) 辛。

23. 有關附圖中各地區，下列哪一個敘述有誤？

(A) 己區為中國最大的沙漠區 (B) 甲區水草豐美 (C) 丙區有塞上江南之稱 (D) 辛區的水氣來自太平洋。

24. 「該地位於大河之西，為古絲路的必經之地，武威、張掖、酒泉、敦煌均為昔日提供駱駝商隊休息的綠洲城市。」請問：上文所描述的地區位於何處？

(A) 丙 (B) 丁 (C) 己 (D) 壬

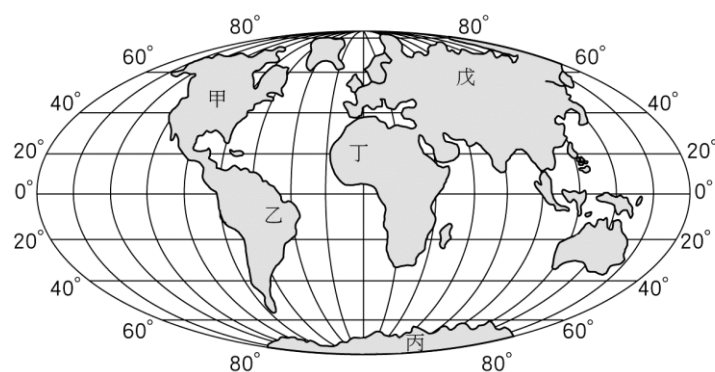


※『北興大學計畫舉辦「繞著地球跑活動」，由各系所同學推出不同的旅行路線，路上雖然狀況百出，但透過大家的團隊合作，活動順利也留下許多美好的回憶。』請根據各班同學的描述選出最佳答案：

25. 鬥志高昂的體育系決定挑戰世界第一高峰，標高 8,844 公尺，橫亙在有冰雪之鄉的喜馬拉雅山山脈，歐美人士稱之為埃佛勒斯山，西藏人稱珠穆朗瑪峰，也有人稱之聖母峰。請問：他們可以從哪些地區入山，並到達目的地？

(A) 新疆、蒙古 (B) 西藏、哈薩克 (C) 西藏、尼泊爾 (D) 巴西、印度。

26. 體育系學生發現路上的早晨通常十分寧靜，天空是透明、純淨的藍。請問：造成當地具有上述地理特徵的主要原因為何？
(A)洋流流經 (B)氣壓高 (C)赤道經過 (D)地勢高聳。
27. 體育系在攀登聖母峰途中，可能遇到下列哪一種狀況？
(A)隨處可見茂盛的植被，動植物相當多元 (B)此地由於緯度甚高，所以途中盡是冰河、覆雪山頭的白色景觀 (C)在缺氧的空氣中，我們僅能憑藉自己的意志力完成攀登的目標 (D)當地民眾由於宗教信仰因素，每天都面向聖城麥加朝拜五次。
28. 生命科學系的學生往南征服了地球溫度最低的地區，挑戰人類之極限，請問該系去到哪一洲？
(A)歐洲 (B)南極洲 (C)非洲 (D)大洋洲。
29. 承上題，生命科學系的學生描述當地全年平均氣溫為零下 25°C、平均風速 17.8m/s，在攝氏零下 10°C 時，全身會發抖；零下 20°C 時，全身像小針刺一般；零下 30°C 時吐氣會結冰，手指麻痺，眯眼睛會痛等。請問：當地氣候如此嚴寒的主要原因為何？
(A)地勢低平 (B)距海遙遠 (C)緯度較高 (D)植被缺乏。
30. 生命科學系的學生，在當地可以觀察下列哪一種特別的野生動物？
(A)企鵝 (B)犛牛 (C)駱駝 (D)藏羚羊。
31. 地理系學生報名世界三大沙漠的路跑挑戰賽，首先來到世界上第一大沙漠：撒哈拉沙漠，當中包含的現象非常豐富，諸如廣大沙丘，起起伏伏的路面，變幻莫測的沙漠風暴，請問：世界上第一大沙漠位於右圖中哪個地區？ (A)甲 (B)丙 (C)丁 (D)戊。
32. 地理系學生最後來到戈壁沙漠，它屬於礫質沙漠，也是唯一有大會人員會講中文的比賽。請問：戈壁沙漠位於右上圖中哪一大洲？ (A)甲 (B)乙 (C)丁 (D)戊。
33. 承上題，沙漠路跑的比賽路線設定會經過地球上一些最美麗、最原始的地方，途中不斷考驗選手心理堅韌度、生理體能極限、臨場應變能力與策略應用。請問：選手最有可能要處理下列哪一種狀況？(A)凍土融化造成路面泥濘難行 (B)烈日當空，地氣蒸騰 (C)空氣稀薄，呼吸困難 (D)犛牛群擋住道路，寸步難行。



※右表是中國四個地區氣候資料，請問：

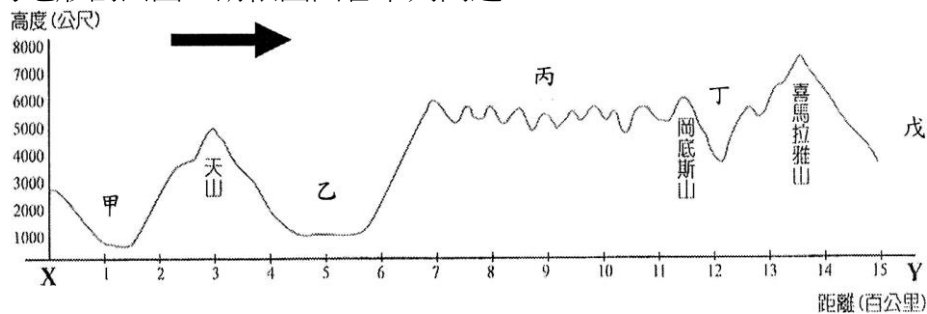
34. 哪一個地區的氣候類型和準噶爾盆地最接近？
(A)甲 (B)乙 (C)丙 (D)丁。
35. 承上題，對於當地敘述何者正確？
(A)信仰基督教，當地生活作息與生活規範以古蘭經為依歸 (B)位居絲路要道，是中國與大洋洲國家貿易的主要窗口 (C)河套平原為該地精華區，盛產瓜果 (D)中國新興工業地帶，盛產石油。

都市	七月月均溫(°C)	一月月均溫(°C)	年雨量(mm)
甲	28	6.2	1184
乙	23.9	-12.5	198
丙	28.2	18.3	2130
丁	10.5	-5.3	426

36. 青藏高原的民眾服飾，夏季午間常將外袍的袖子繫在腰間，袒出右臂或雙臂，如右圖所示。請問：從這種穿著方式，可以反映出當地夏季具有下列哪一項氣候特色？
(A)雨量稀少 (B)日溫差大 (C)風力強勁 (D)空氣稀薄
37. 承上題，青藏高原當地以信仰哪一種宗教為主？
(A)伊斯蘭教 (B)基督教 (C)印度教 (D)藏傳佛教
38. 承上題，甲~丁四地，何者最可能是位於青藏高原？
(A)甲 (B)乙 (C)丙 (D)丁



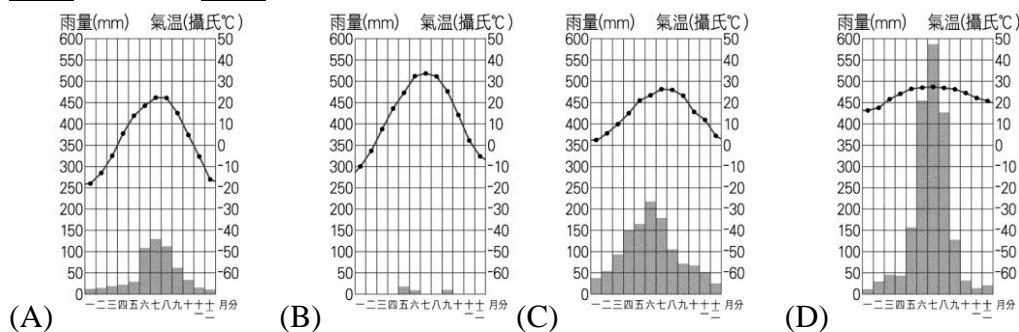
※下圖為西部地區的地形剖面圖，請依圖回答下列問題：



39. 地形剖面圖中的箭頭指向何方？ (A)東 (B)西 (C)南 (D)北。
40. 「乙」和「丙」兩地之間是以哪一座山為界？
(A)祁連山 (B)阿爾泰山 (C)崑崙山 (D)巴顏喀喇山。
41. 有「日光城」之稱的拉薩位於上圖中何處？
(A)甲 (B)乙 (C)丙 (D)丁。
42. 「居民在狹小的土地上，利用「坎兒井」灌溉，精細耕作每寸土地，種植小麥、玉米、棉花及瓜果等作物。」請問：這種農耕方式，最有可能出現在圖中哪個地區？
(A)戊 (B)乙 (C)丙 (D)丁。
43. 承上題，居民修建坎兒井主要目的是？
(A)減少水源蒸發 (B)保持水質乾淨 (C)防止水土流失 (D)增加降雪量。
44. 就高度判斷，丙區的氣候最可能具有下列哪兩項特徵？(甲)日溫差小 (乙)年溫差小 (丙)烏雲蔽日 (丁)少雨多風 (A)甲乙 (B)甲丙 (C)乙丁 (D)丙丁。

※『每年農曆春節前後，中國有數億離鄉工作的人口，往返於家鄉與工作地點間，龐大人潮常造成運輸系統的壅塞，也使得政府運輸部門如臨大敵，此即為「春運現象」。』從故鄉新疆到北京上班的大陸民工小紅，年年皆須面對這種窘境。請回答下列各題：

45. 請問小紅最『不』可能選擇下列哪一種交通工具返鄉？
(A)鐵路運輸 (B)公路運輸 (C)空運運輸 (D)水運運輸
46. 小紅正在繪製新疆的氣候圖。若根據當地的氣候特性，下列何者最可能是她繪製的結果？



47. 右圖為小紅故鄉的簡圖，黑點為人口聚居處，其餘大部分地區渺無人煙。請問此種人口分布型態，與下列何者關係最密切？(A)民族 (B)宗教 (C)治安 (D)水源
48. 乙山脈將新疆分隔為々、々兩盆地，請問々盆地是？
(A)塔里木盆地 (B)青海湖盆地 (C)柴達木盆地 (D)準噶爾盆地
49. 小紅家族自古居住於々盆地內，她最有可能是下列哪一個民族？ (A)回族 (B)哈薩克族 (C)壯族 (D)藏族。
50. 小紅廚藝精湛，經常烹煮家鄉料理招待朋友，請問她最有可能準備下列哪些料理？
(A)麻辣豆腐、麻辣火鍋 (B)糌粑、酥油茶 (C)罐燜羊肉、奶疙瘩 (D)高麗菜豬肉水餃、咖哩飯。

