


1. 小茗慕名前往台澎地區歷史最悠久的媽祖廟參觀，他發現該處有一石碑，上面刻著：「沈有容諭退紅毛番韋麻郎等」十二字。小茗請教了廟祝，得到的正確答案應該是？ (A)荷蘭人進占安平，明朝將領前往阻止 (B)鄭成功部隊曾在澎湖擊退荷蘭人 (C)明朝將領阻止荷蘭軍隊占領澎湖 (D)鄭成功部將在鹿港招降荷蘭人。

2. 下方圖示為台灣外銷熱門商品「福爾摩沙烏龍茶」外包裝圖案，請問這款商品應該出現在何時？何地？ (A)17世紀的巴達維亞 (B)18世紀的泉郊會館 (C)19世紀的紐約 (D)16世紀的東京。



3. 允帆利用暑假和家人外出旅遊，主題是博物館知性之旅，導覽人員開場即介紹：「本館的緣起是在民國四十四年秋天，有位空軍少校隨飛機飛越本地河海口交界處時，發現儀表板指針有異常現象，推測可能蘊藏大量鐵礦，又經由地質學家進一步確認為史前人煉鐵的鐵渣……。」請問允帆參觀的博物館是？ (A)台中自然科學博物館 (B)新北十三行博物館 (C)宜蘭蘭陽博物館 (D)屏東海洋生物博物館。

4. 中國在明清時期白銀是主要的貨幣單位，請問明清之際白銀大量流入與流出中國，各與哪國有關？ (A)英國、法國 (B)西班牙、日本 (C)荷蘭、英國 (D)西班牙、英國。

5. 清末自強運動以戰爭開始，也因戰爭結束，請問其「始」、「終」各為哪一場戰爭？ (A)鴉片戰爭、英法聯軍 (B)鴉片戰爭、甲午戰爭 (C)英法聯軍、甲午戰爭 (D)英法聯軍、八國聯軍。

6. 「我的眼睛轉望羅拉的時候，我鄙視世上一切誘惑，為了她，我再瞥見那溫柔的微笑，羞卻、甜蜜、溫柔的微笑浮起……」，在宗教氛圍壟罩的年代，這樣的情詩是淫穢且對神不敬的，但他卻開啟了以「人」的情感與價值為主的文學創作，更被譽為「人文主義之父」，請問他是？ (A)歌德 (B)佩脫拉克 (C)莎士比亞 (D)但丁。

7. 台灣社會運動從倍受壓抑轉變成為蓬勃發展，如近期的反饋建核四大遊行、太陽花反服貿黑箱、反高中課綱，以及兒少安全問題的白玫瑰遊行運動，台灣的社會氛圍出現民眾意志的凝聚與抒發，請問與下列何者有直接關係？ (A)開放總統直選 (B)解除動員戡亂 (C)加入WTO (D)解除戒嚴。

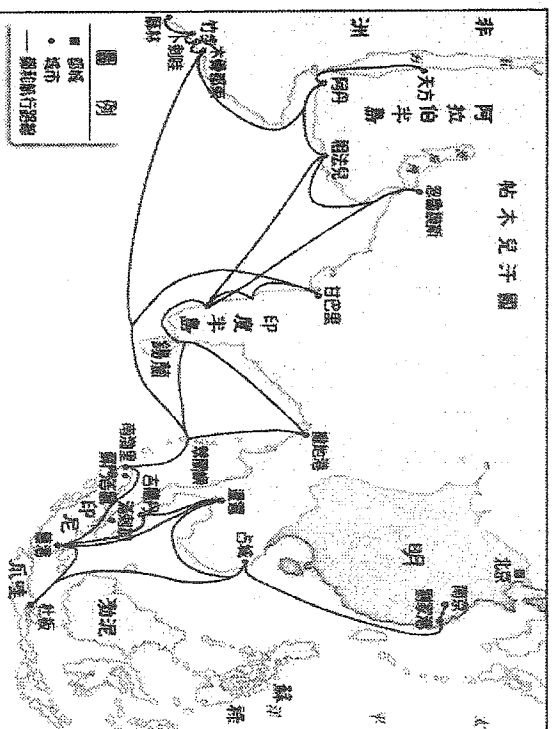
8. 印度是人類四大古文明之一，特別是豐富多元的宗教藝術，都是彌足珍貴的人類文化遺產，有關於印度的宗教文化，請選出正確敘述： (A)婆羅門教輔以種族歧視制度，強化阿利安人優越地位 (B)佛教創立的輪迴觀念影響至今 (C)印度教的極盛時期是孔雀王朝 (D)印度現今信奉人口最多的是印度教。

9. 熱情的拉丁國度巴西，今年將熱烈迎接2016國際奧運會的到來，各項準備事務已如火如茶地展開，請問奧林匹克運動會最早創辦的動機背景是？ (A)希臘各城邦參加的敬神祭典，用來取悅神明 (B)斯巴達城邦軍事訓練的競賽項目 (C)雅典與斯巴達城邦爭奪領導權的運動競賽 (D)羅馬競技場上各民族格鬥士的較量。

10. 歷史領域研討會這次的討論主題是「兩次世界大戰對中國、台灣的影響」，由參與會議的學生分別論述，請問以下哪位學生的論述是正確的？ (A)大雄：台灣都未參戰，並未受到戰爭摧殘 (B)

胖虎：中國兩次都參加同盟國陣營，都是戰勝國 (C)花媽：台灣在第一次大戰後，終於結束日治時期 (D)柚子：第二次世界大戰時，中國和台灣是敵對陣營。

11. 時間比歐洲地理大發現更早的鄭和下西洋，請問鄭和此行的「西洋」指的應當是？ (A)南洋、太平洋 (B)印度洋、大西洋 (C)南洋、印度洋 (D)太平洋、印度洋。




12. 2016最新一季時裝發表會，將中國的青花色系與伊斯蘭風格的幾何花草線條成功結合，引爆最新流行時尚，伊斯蘭藝術之令人讚嘆，但最近伊斯蘭國 (IS) 的罪行卻是人神共憤，有關伊斯蘭國的崛起，與下列哪件事關連性最高？ (A)美國介入越戰 (B)十字軍東征 (C)民主陣營的圍堵政策 (D)九一一事件。

13. 去年11月7日中華民國總統馬英九，與中華人民共和國主席習近平在新加坡會面，兩岸最高層級接觸的「馬習會」成為全球媒體注目焦點，有關兩岸兩黨關係分分合合，請選出正確敘述： (A)民國82年「辜汪會談」是兩岸官方第一次接觸 (B)國共兩黨的第一次分裂是「寧漢分裂」 (C)中華民國撤退來台後兩岸第一場戰役是金門「八二三砲戰」 (D)最早開放兩岸「小三通」是李登輝總統。

14. 中國歷代的發展，往往讓我看到各朝代「分」、「合」、「治」、「亂」、「興」、「衰」之演變歷程。請問下列哪一組帝王，皆扮演該朝由盛轉衰的關鍵角色？ (A)秦始皇、漢光武帝 (B)晉武帝、隋文帝 (C)宋高宗、清世宗 (D)唐玄宗、清高宗。

15. 民國92年定案落腳嘉義太保的「故宮南院」，在雲嘉南民眾高度期盼下，終於在去年104年12月28日開始試營運，其中第二展廳為「嘉義文史展」，展廳裡有一件乾隆時期的重要文物右旋白螺「定風珠」，是來自於西藏班禪進獻給乾隆皇的佛教法器，史料記載陝甘總督福康安將軍奉乾隆之命，攜帶此法寶渡海來台，平定乾隆年間台灣地區規模最大的民變...，請問是下列哪一事件？ (A)郭懷一事件 (B)西來庵事件 (C)朱一貴事件 (D)林爽文事件。




16. 民國四年中國學界發起「新文化運動」，標榜西方文明中的「德先生」與「賽先生」，是中國迫切需要學習的對象，請問德先生與賽先生的源起，應當是歐洲近代發展過程中的哪些重大主題？ (A)地理大發現、宗教改革 (B)文藝復興、王權國家 (C)啟蒙運動、工業革命 (D)民族主義、浪漫主義。

17. 國際局勢瞬息萬變，往往合縱連橫牽一髮而動全身，聯合國安理會日前通過對北韓金正恩亂射導彈一案，祭出最嚴厲的制裁，朝鮮半島局勢向來與中、美、日、台息息相關，請就朝鮮歷史發展選出正確敘述： (A)朝鮮曾是清朝藩屬，牡丹社事件後成為日本殖民地 (B)中日甲午戰爭導火線是朝鮮爆發「三一運動」 (C)韓戰爆發，鄧小平發起「抗美援朝」軍事行動 (D)台灣因韓戰爆發，得到美國軍事與經濟援助。

18. 今年三月初在台北市發生魏姓民眾在網路買賣三份白色恐怖時期文件，憲兵竟以「釣魚」方式誘捕，並且違法搜索民宅，造成社會輿論譁然，批判這是中華民國人權倒退。請問台灣早期曾實施「白色恐怖」的時代背景是？ (A)兩蔣時代下的威權統治 (B)動員戡亂時期條款限制人民自由權 (C)日治時期台灣總督高度專制獨裁 (D)台灣第一次政黨輪替後的政治氛圍。

19. 下方之附圖在介紹及說明如何錘製船隻使用的“錨”。請問這本介紹農業工藝技術並附圖解說的科技專書應該是下列哪一書籍？ (A)《天工開物》 (B)《本草綱目》 (C)《夢溪筆談》 (D)《幾何原本》。

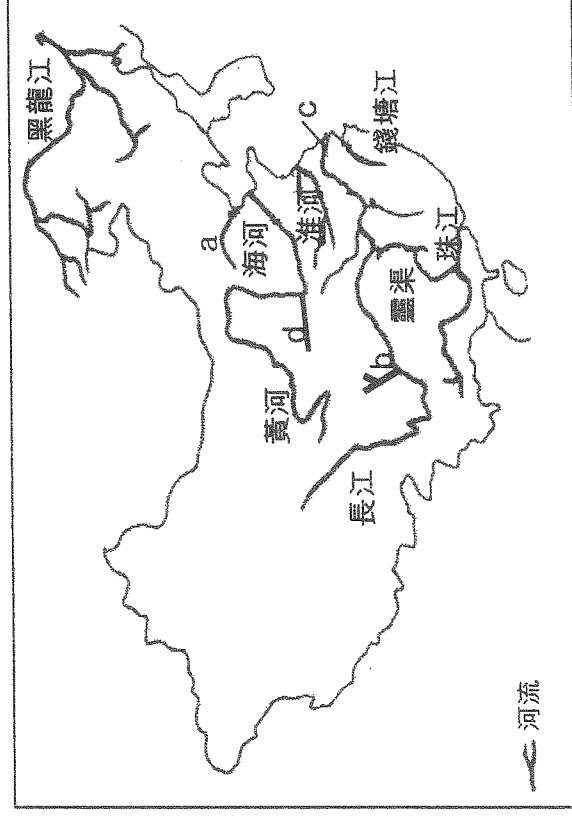


20. 今年三月，新疆出現入春以來的第一場沙塵暴，能見度僅僅 10 公尺，中小學緊急停課、火車全面停駛。沙塵暴問題日益嚴重，甚至會威脅到臺灣，之前就曾經出現過「天降泥雨」的狀況，使得許多將車子停放在室外的車主叫苦連天。請問：下列何地發生該種現象的機會最大？

(A)基隆 (B)彰化 (C)嘉義 (D)屏東。


21. 據《史記·秦始皇本紀》記載，地宮內「以水銀為百川江河大海」。秦始皇以水銀為秦皇陵中山河布景的目的，不單是營造恢宏的自然景觀，在地宮中瀾漫的汞氣體還可使入葬的屍體和隨葬品保持長久不腐爛。而且汞是劇毒物質，大量吸入可導致死亡，因此地宮中的水銀還可毒死盜墓者。自古至今盜墓者及考古學家皆不敢貿然一探究竟的秦陵，位於右圖中的何處？

(A) a (B) b (C) c (D) d。



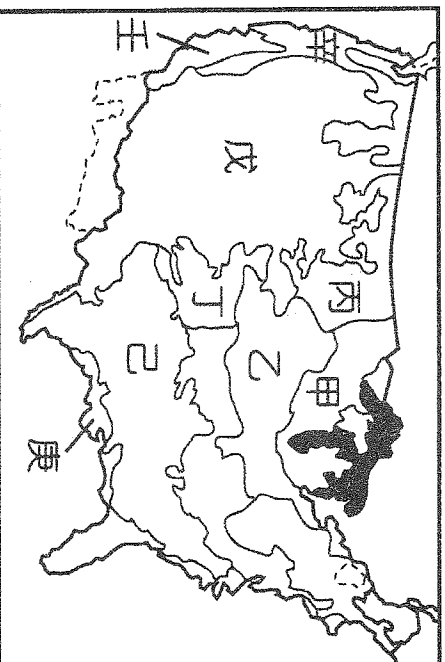
22.南歐的農業活動為當地重要的產業，耕種方式以灌溉農業為主。請問：這和下列何者關係最為密切？ (A)面積廣大 (B)山多田少 (C)海岸線長 (D)夏乾冬雨。

23.右圖這種鳥類在每年10月至翌年2月會到台灣來過冬，是因為台灣的何種地理特性？ (A)位於陸地與海洋的交接位置 (B)位於平原與高山的交接位置 (C)位於熱帶與溫帶的交接位置 (D)位於海峽與大洋的交接位置。



24.「1980年代中國推行「四個現代化」，以農業、工業、科技和國防四方面做為發展目標，希望促進經濟發展。尤其是閩粵沿海經濟特區的設立。」請問中國經濟特區的設立是在仿效臺灣哪種區域的成功經驗？ (A)南港工業區 (B)楠梓加工出口區 (C)新竹科學工業園區 (D)小港工業區。

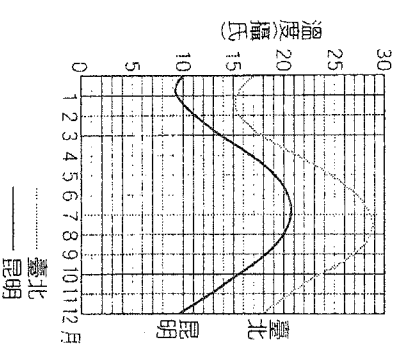
25.「……這裡的氣候很溫暖，北方的人們總喜歡來此享受陽光；郊區的農家到處是種著□□的田園，因此我有很多同學的爸媽在紡織工廠上班。……」以上是移民到北美洲的Jackie寫給高雄同學的一封信。文中的□□最可能是下列哪一種作物？並位於圖(二)中何處？ (A)玉米、甲 (B)玉米、乙 (C)棉花、己 (D)棉花、庚。



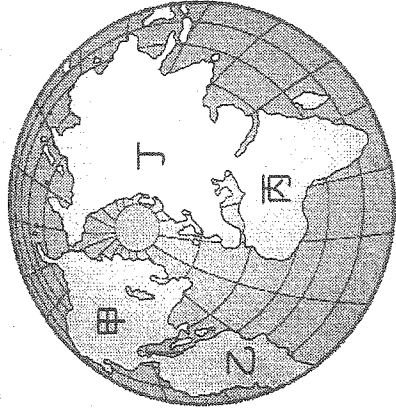
26.連續劇【魯冰花】是描寫民國六十年代的台灣社會，片中主角阿明的父親種植【東方美人茶】，他不噴灑農藥，僅用有機肥料來栽種茶樹。請問，下列臺灣哪一地區最不適合茶樹的栽種？

- (A)屏東平原 (B)南投鹿谷 (C)新竹丘陵 (D)桃園臺地。

27.右圖為臺北和昆明兩城市的氣溫比較圖。從圖中可看出昆明夏季比臺北低約8°C。影響昆明夏季較涼爽的主要因素為何？ (A)距海較遠 (B)地勢較高 (C)雨量較多 (D)緯度較高。



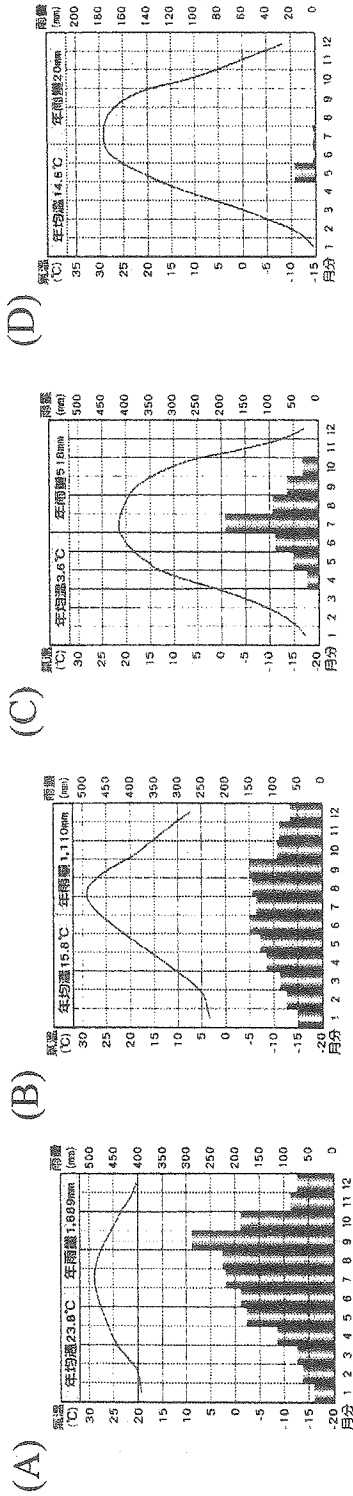
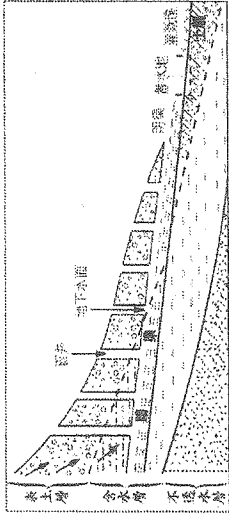
28. 有專家學者預測，21世紀是個將要面臨糧食戰爭、水戰爭的時代，例如約旦和以色列、土耳其與伊拉克、印度與巴基斯坦都曾發生爭奪水資源的問題，請問：上述這些為水而拚命的地區，大致分布於右下世界地圖中何處？ (A)甲 (B)乙 (C)丙 (D)丁。



29. 各種產業為了降低成本、增加競爭力，都會選擇有利的地點來生產產品。班上同學針對各種不同的產業發表了看法，誰的敘述是正確的：

- (A) 花蓮設立和平水泥工業專區所考量的區位條件是交通
- (B) 台灣糖廠的分布多位於台中以南所考量的區位條件是政策
- (C) 酪農業生產的鮮乳因容易腐壞，為快速送抵消費者，因此最需考量市場區位
- (D) 新竹科學工業園區是在動力因素多方考量下，而選擇在新竹市設立。

30. 下圖為某地區特有的水利工程，請問此水利工程，最有可能是生活在下列哪種氣候環境下的人民所發展出來的？



31. 關於同樣乾燥的西亞與中亞，關於兩地的比較，下表中介者比較正確？

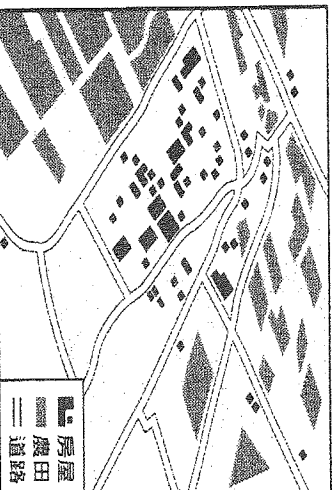
	(A)氣候成因	(B)年溫差	(C)影響年溫差大小原因	(D)地形
西亞	副熱帶高壓籠罩	較大	因距海遙遠	盆地
中亞	距海遙遠	較小	因位處低緯	高原

32. 在 Kano 電影中，嘉農學生由學校操場跑至嘉義噴水池，這段距離在地圖上的距離為 60 公分（地圖比例尺為 1：10000），若平均跑 1 公里需要 5 分鐘，則學生出發多久後才可以跑到噴水池？ (A) 10 分鐘 (B) 20 分鐘 (C) 30 分鐘 (D) 40 分鐘。

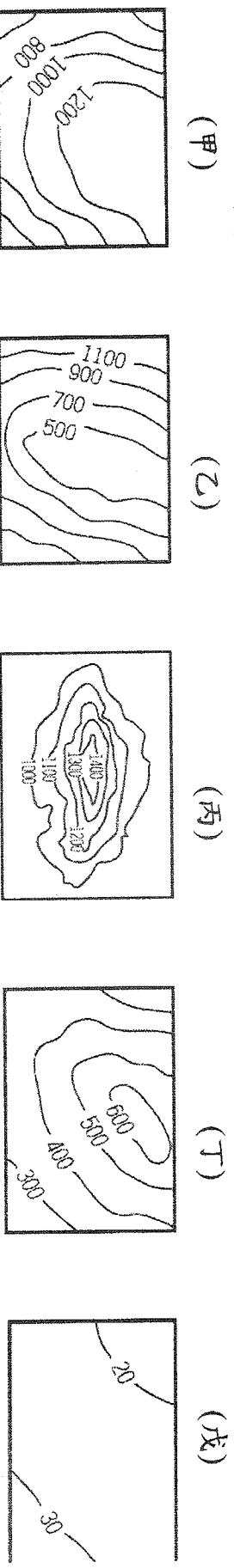
33. 日本名將豐臣秀吉曾侵略朝鮮半島，但實際想爭奪的中國東北地區，請問：上文敘述可看出朝鮮半島何種地理特徵？ (A)西南部平原為精華區 (B)為東亞陸橋 (C)地形呈「彡」字型 (D)雨量東南向西北遞減。

34 右圖為嘉南平原某聚落的航空照片經簡圖，請問下列敘述何者正確？

- (A) 此聚落景觀應為散村 (B) 和蘭陽平原的聚落景觀一致 (C) 當地地形起伏較大，缺乏寬廣之處，故聚落分散 (D) 當地水源不豐，所以為了共用水源而聚集在一起。

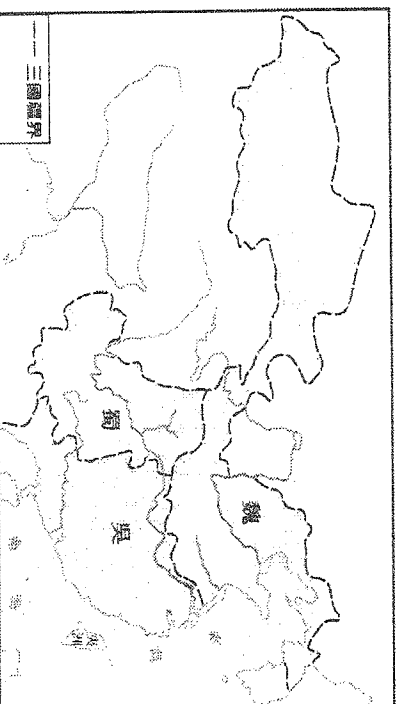


35. 中國地勢呈現三級階梯。請問第二級階梯的地形以下列哪兩種地形為主？(A) 甲 乙 (B) 甲 丙 (C) 乙 丁 (D) 丁 戊。



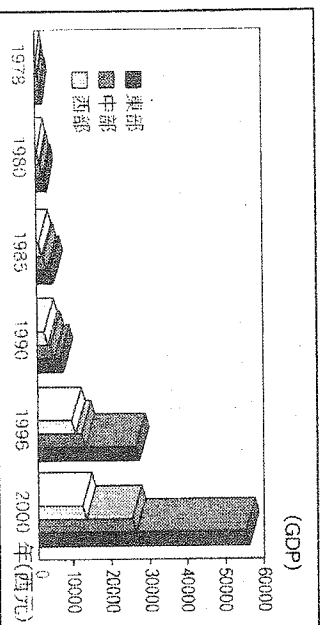
36. 對於西方人而言，香料是調味品、防腐劑，是價值連城的商品；但對於香料的原產地——香料群島而言，不論是荳蔻或丁香，是引進西方殖民強權的無辜禍首，進而開啟熱帶栽培業的發展。(甲)大量種植、(乙)以國內市場為主、(丙)栽種多樣經濟作物、(丁)注重港口建設、(戊)需要大量勞力、(己)市場風險性高。請問：關於熱帶栽培業的特徵敘述正確的幾項？(A) 3項 (B) 4項 (C) 5項 (D) 6項。

37. 三國演義中，赤壁之戰是全書中最重要、規模最大、人才最集中的戰爭。曹操重兵以陸、水軍南下，自信可輕易攻破沒有天險的江東。孫權聯合劉備與曹操對峙長江南、北。當時劉備的軍師諸葛亮提議利用當時的盛行風火攻曹軍。「頃之，煙炎張天，人馬燒溺死者甚眾。」曹軍敗退，無法完成統一的美夢。請問當時助燃火勢，不利於曹軍的是什麼風？(A) ↘ (B) → (C) ↗ (D) ↙。



38. 下圖為中國三大發展地帶歷年的國民生產毛額。請問：針對該現象，中國政府採取哪種因應措施？

- (A) 西部大開發 (B) 沿海設立經濟特區 (C) 一胎化政策 (D) 開闢「綠色通道」專用車道。




39.關於「國際公平貿易認證標章」的作用，下列何者正確？(A)貼上此標章之產品代表著高能源效率，亦即代表在同樣功能條件的使用狀態下，消耗較少的能源、負擔較低的能源費用 (B)推動可回收、低汙染、省資源的理念，鼓勵消費者建立選購此標章產品的信念 (C)此標章保障消費者及製造業者之共同權益，進而促進食品工業整體之健全發展 (D)確保開發中國家的農民在這件產品的交易上，有得到比較好的待遇。

40.關於智慧財產權的敘述，下列何者正確？(A)《商標法》是保障商標權及消費者利益，維護市場公平競爭 (B)《出版法》是使所有權人獲得經濟利益的保障，希望可以藉此鼓勵發明創新，促進社會的進步與發展 (C)《專利法》是保障著作人著作權益，調和社會公共利益，促進國家文化發展 (D)《著作權法》是鼓勵、保護、利用發明與創作，以促進產業發展。

41.國內某家電信業者推出一網路服務銷售方案，於廣告中宣稱網路速度快速，在下载資料、資料傳輸上有極優的表現，於6個月間吸引30多萬人申請，但經民眾反映實際使用後的速率並未達廣告中宣稱的一半，因此被以違反□，裁處500萬。請問：□應填入何項法律？(A)《消費者保護法》(B)《公平交易法》(C)《刑法》(D)《民法》。

42.瑞士高級鐘錶展覽出一款價值7,500萬元的藍寶石水晶腕錶，對許多人來說，名錶代表地位，因此價值愈貴，反而讓某些人愈想買它。請問：根據上述，像名錶這類的奢侈品，其需求曲線應如下列哪一張圖所示？



43.下列何者為大法官的職權？(甲)處理公務人員違法失職之懲戒事項(乙)統一解釋憲法、法律、命令(丙)組成憲法法庭(丁)審理總統、副總統罷免案(戊)審理總統、副總統彈劾案(A)甲丙丁 (B)乙丙丁 (C)乙丁戊 (D)乙丙戊。

44.在民主國家，如果執政黨施政不佳，有可能在下次大選之中落敗，成為在野黨，形成政黨輪替。這是民主政治的哪一項特色？(A)民意政治 (B)法治政治 (C)責任政治 (D)政黨政治。

45.會進行中，胖虎與小夫因細故而發生爭吵，造成會場秩序混亂，靜香想請求主席大雄立刻制止。請問：靜香應該向大雄提出下列何種會議程序？(A)權宜問題 (B)秩序問題 (C)程序問題 (D)動議問題。



46.嘉義山美社區居民致力環境保育並傳承鄒族文化，南投桃米社區則發展「休閒生態村」景觀。這些保存地方文化和凸顯社區特色的行動，最符合下列哪一項概念？(A)社區組織 (B)社區營造 (C)社區參與 (D)社區意識。

47.我國《憲法》保障人民的平等、自由、受益和參政權四項權利。下列哪一項權利的行使，屬於參政權的範圍？(A)張小姐舉辦愛心義賣活動 (B)李先生準備要出國留學 (C)張先生成立政黨 (D)林小姐參加公務人員考試。

48.以我國為例，行政部門提出各種預算後，由各級民意代表審議，並由哪一機關負責監督預算的執行情況，以掌握各項經費的運用是否確實有效率？(A)行政機關(B)立法機關(C)審計機關(D)司法機關。

49.根據附圖中(下一頁)兩人的對話，小杉被警察開罰單的原因，應是何種型態的社會變遷所造成的？(A)制度帶動器物的變遷 (B)器物帶動制度的變遷 (C)理念帶動器物的變遷 (D)理念帶動制度的變遷。

告訴你一個訊息，因為太多人在開車的時候玩手机，所以政府新制定了一條法律，規範這樣的行為。



唉，別說了，我昨天就因為這樣被警察開了一張罰單。

50.阿明今年剛滿 16 歲，犯了擄人勒贖罪，他可能受到甚麼樣的法律制裁？ (A)有期徒刑 (B)保護管束 (C)訓誡 (D)假日生活輔導。

51.小陳今年升上國二，暑假時想要利用放假時去打工，但是去了很多速食店，都沒有老闆敢僱用他，這是因為下列何法規定，小陳尚未達到工作年齡？ (A)《少年事件處理法》(B)《兒童及少年福利與權益保障法》(C)《民法》(D)《勞動基準法》。

52.記者：「請問你可以透露一些這個案件的案情嗎？」

震武：「我代表國家追訴犯罪，依偵查不公開的原則，目前不便回答你的問題。」

根據上述內容判斷，關於震武的角色，下列敘述何者正確？(A)可直接向法院對被告提出自訴 (B)主要的職權是依法作出判決 (C)依法可作出不起訴的處分 (D)為被告進行辯護亦屬於他的職責。

53.阿北：「昨天我跟家人在網路上欣賞國立故宮博物院最新的線上展覽，享受了一個古色古香的週末。」阿興：「真是省時又方便呢！上禮拜我也透過視訊系統，同步聆聽外國學者發表的演說，讓我收穫豐富，對未來工作方向有很大的啟發。」下列何項敘述最符合上述對話的意涵？(A)科技發展有助終身學習 (B)家庭是社會化重要途徑 (C)資訊倫理提升科技水準 (D)全球化可促進國際分工。

54.許多人都曾有過受到鄰居干擾的經驗，諸如半夜大聲喧嘩妨害社區安寧、廚房排放的油煙等，為此政府制定相關法規，對造成此類情形者處以罰鍰。上述政府解決問題的作法可用下列何者解釋？(A)利用刑罰以減少犯罪行為 (B)藉由管制以降低外部效果 (C)擴張權力以提高行政效率 (D)透過和解以避免民事糾紛。



55.老師將我國部分中央政府公職人員及其產生方式列表如附表，並請同學將其配對組合。根據表內容判斷，下列何項組合正確？(A)甲、己 (B)甲、戊 (C)乙、戊 (D)丙、丁。

職稱	產生方式
甲、考試委員	丁、行政院院長提請總統任命
乙、內政部部长	戊、總統提名，立法院同意後任命
丙、立法院院長	己、經由選舉方式產生

56.附圖中兩人的對話，應與哪一種社會規範有關？ (A)風俗習慣 (B)宗教信仰 (C)倫理道德 (D)法律。

爸生前說想要採樹葬的方式，回歸大自然。

嗯，那就遵照爸爸的意思吧！



57.黃阿明為了聯絡同宗的親族而成立黃氏宗親會，下列哪一個團體的功能與黃氏宗親會相同？

- (A)臺中市藥師公會 (B)台灣團結聯盟 (C)嘉義同鄉會 (D)心路社會福利基金會。

二、題組：

(一) 2016.02.06凌晨3點57分於高雄市美濃區發生規模6.4有感地震，台南市永康、新化、東區等地因大樓倒塌，罹難人數高達117人，向來以歷史古蹟著稱的台南府城，這次也遭受震災摧殘，如孔廟明倫堂牆磚剝落、風神廟以及接官亭鐘樓嚴重受損…。此外，大樓倒塌也暴露出土壤液化問題嚴重性，建屋住宅品管安全問題，再度受到大眾關注，請問：

58.以歷史文化以及美食聞名的台南市，向來被稱之為「府城」，請問歷史上台南地區設置「府」的行政層級，最早應可追溯自哪一時期？ (A)史前時代 (B)國際競爭時期 (C)鄭氏時期 (D)清領時期。



59.台南地區的地震後，於短時間內接連出現了幾次強震，地震學家認為環太平洋地震帶已進入活躍期，且活躍期會持續到二〇二〇年，在這之前，可能至少還會出現一個規模九以上的大地震。請問，以下國家何者較不需要擔心由環太平洋板塊位移造成的強震？ (A)美國 (B)剛果 (C)智利 (D)厄瓜多。

60.台南市政府在災後發給受災戶補助金是屬於哪一種社會福利政策？(A)福利服務 (B)社會保險 (C)社會救助 (D)國民就業。

(二) 大花對於土耳其這個神祕國度嚮往許久，最近欣賞學校管樂班詮釋的名曲「地底都市」，對於土耳其的特殊地形地物、以及熱氣球觀看日出、多元美食以及人文藝術風情，讓大花下定決心一定要去土耳其旅行。今年2月大花在台北國際旅展看到這則最新優惠訊息，雀躍不已…

長榮航空今年3月再拓展新航點，開航伊斯坦堡直飛航線，全球航網佈局更臻完備，也是目前唯一直航土耳其的國籍航空。長榮伊斯坦堡新航線以波音 777-300ER 機型派飛，配置有桂冠艙、菁英艙、經濟艙 3 艙等，每週飛航 4 班…。

為慶祝伊斯坦堡新航線開航，長榮也推出優惠活動，推出早鳥票價優惠，出發 60 天前訂位，票價未稅 22,000 元起；出發 45 天前訂位，票價未稅 24,000 元起，心動不如馬上行動喔。



61.管樂名曲「地底都市」所詮釋的背景是西元1~3世紀時期的基督徒，為了避免遭受政治迫害，躲藏到地底下避難、生活，並設立教堂虔誠敬拜。請問這段時間對基督徒進行追殺迫害的是？ (A)羅馬帝國 (B)亞歷山大帝國 (C)鄂圖曼土耳其帝國 (D)阿拉伯帝國。

62.土耳其博斯普魯斯海峽是溝通歐亞兩洲的交通要道，也是沿岸國家出外海的第一道關口。由於兩洲各國間的商貿等各種交往隨著人類文明的發展不斷增多，它的地理位置尤具戰略意義。請問博斯普魯斯海峽與達達尼爾海峽因連接地中海與哪一個水域而成為歐亞間的交通要道？ (A)裏海 (B)紅海 (B) 黑海 (D)黃海。

63.長榮航空推出比其他航空公司便宜的票價活動。請問：此一做法，符合經濟學哪一種原理的應用？ (A)分散風險原則 (B)供給法則 (C)需求法則 (D)比較利益法則。

