

一、單選題 每題 2 分 共 70 分

1、() 附圖中，兩人的對話內容可用來說明下列何者所帶來的正面影響？



(A) 文化失調 (B) 社會變遷 (C) 角色衝突 (D) 次文化。

2、() 阿琴在一家餐廳外面看到一張告示，如附圖。這張告示隱含了什麼觀念？



(A) 人際互動 (B) 社會變遷 (C) 社會正義 (D) 環境保育。

3、() 請由附圖的對話判斷，顯示社會變遷所帶來的何種負面影響？



(A) 弱勢權益的忽視 (B) 貧富差距的擴大 (C) 生活環境的改變 (D) 價值觀念的混淆。

4、() 「天有不測風雲，人有旦夕禍福」，當我們參與公益活動，或者幫助弱勢群體時，我們應該有什麼樣的心態？ (A) 低人一等的自卑感 (B) 希望得到他們的酬謝 (C) 希望主辦單位請藝人參加，這樣就可以看到明星 (D) 希望藉著互助力量的發揮，幫助他們得到自立平等的機會。

5、() 下列何者是「社會福利」思想的基礎？ (A) 大愛世界 (B) 平等互助 (C) 社會正義 (D) 仁愛思想。

6、() 下列哪一項不是政府推動社會福利時，

所應該關心的重點？ (A) 弱勢群體的生活需要 (B) 失業勞工的就業輔導 (C) 受災戶的急難救助 (D) 富人是否減稅。

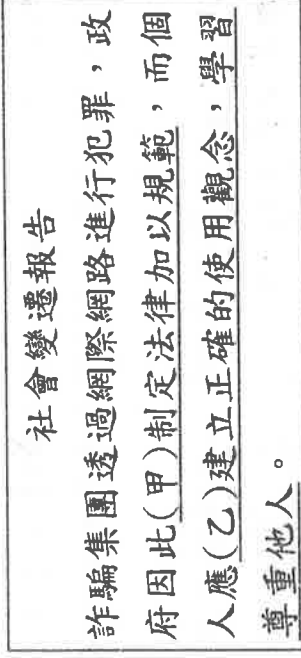
7、() 家境清寒的小林靠著用功苦讀，長大後成為知名的大醫生。這個現象可以說明下列哪一項概念？ (A) 社會分工 (B) 社會正義 (C) 社會變遷 (D) 社會流動。

8、() 由附圖中兩人的對話內容判斷，造成此社會變遷的原因應為下列哪一項？



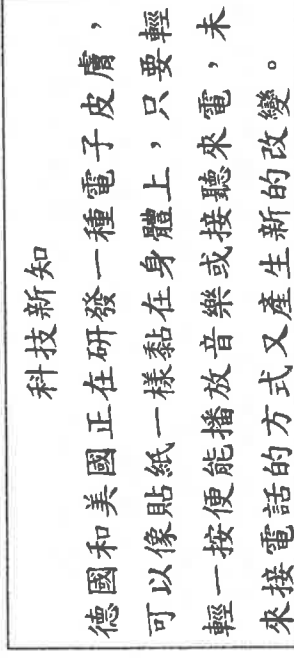
(A) 自然環境的改變 (B) 外來文化的刺激 (C) 科技的創新發明 (D) 社會運動的推動。

9、() 下列為安安的報告內容，請判斷哪一項敘述正確？



(A) (甲) 屬於理念的改變 (B) (甲) 屬於器物的改變 (C) (乙) 屬於理念的改變 (D) (乙) 屬於制度的改變。

10、() 關於下列新聞中所指的改變，應是屬於何種層次的社會變遷？

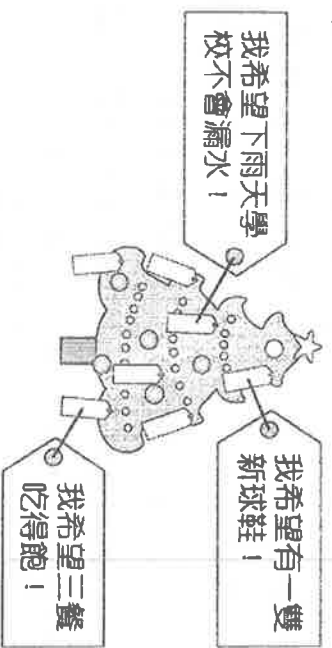


(A) 制度層次 (B) 理念層次 (C) 器物層次 (D) 觀念層次。

11、() 民間的公益團體提供許多社會福利措施，嘉惠了許多弱勢群體。請問：下列何者不是

上述民間團體的目的？ (A)大企業想要節稅
 (B)集合大家的力量，幫助有需要的人 (C)彌補政府措施的不足 (D)使得人間充滿溫情

12、()附圖為偏鄉兒童所許的聖誕願望，從這些願望中可以發現社會變遷所造成的何種負面衝擊？



(A)傳統文化的消失 (B)個人的適應不良
 (C)弱勢權益的忽視 (D)價值觀念的混淆。

13、()在社會變遷中除了看到進步，還會伴隨著一些衝擊。請問：下列哪一項即是社會變遷所帶來的負面衝擊？ (A)教育機會更均等
 (B)貧富差距越來越大 (C)人民生活更便利
 (D)社會更自由開放。

14、()葉小妹因家境不好，向鄉公所申請低收入戶證明，之後每個月可領到生活補助，政府此項社會福利政策的目的為何？ (A)保障人民的經濟安全 (B)維持國民的基本生活 (C)提升勞工人力素質 (D)營造健康的生活環境。

15、()請依附圖內容判斷，這種飲食習慣的改變應是由於下列何種社會變遷原因所造成？



(A)自然環境的改變 (B)外來文化的刺激
 (C)科技的創新發明 (D)社會運動的推動。

16、()下列哪一項是屬於「就業安全」的範圍？ (A)成立職訓中心 (B)提供災害救助 (C)幼兒托育服務 (D)為受虐婦女提供緊急庇護。

17、()下列何者不是國家「福利服務」政策所服務的對象？ (A)兒童 (B)老人 (C)婦女 (D)單身漢。

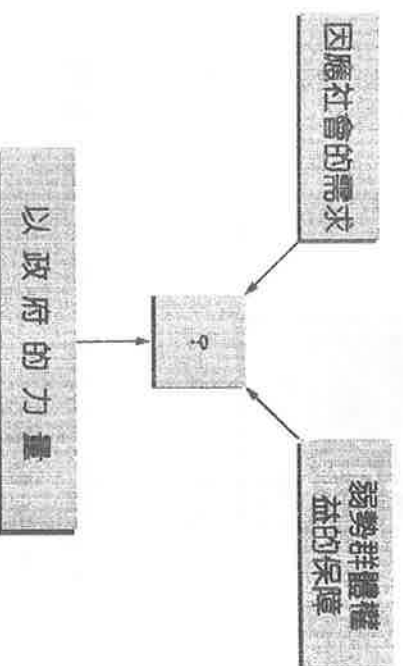
18、()下列何者不屬於「社會福利」的觀念？
 (A)幸福是靠自己努力的 (B)禮記禮運篇大同章：「……鰥寡孤獨廢疾者皆有所養。」 (C)社會正義 (D)施捨與救濟。

19、()附圖內容應是說明在急遽的社會變遷下，下列何者的因應之道？



(A)民間的力量 (B)個人的努力 (C)企業的付出 (D)政府的作為。

20、()附圖是小嵐研究報告的架構圖，根據圖中資料顯示，她研究的議題可能是下列何者？



(A)社會變遷 (B)社會運動 (C)社會福利 (D)社會互動。

21、()全民健康保險的實施，一方面可以免除人民因疾病所形成的財務威脅，另一方面也可以使社會成員能平等享用基本的醫療服務，這是屬於政府的何項社會福利政策？ (A)社會救助與津貼 (B)就業安全 (C)社會保險 (D)健康與醫療照護。

22、()請由附圖內容判斷，此圖蘊含下列何種精神？



(A)社會變遷 (B)社會正義 (C)性別平等 (D)文化傳承。

23、()《禮記》〈禮運大同篇〉：「(甲)老有所終，(乙)壯有所用，(丙)幼有所長，(丁)鰥寡孤獨廢疾者，皆有所養。」請問哪些屬於社會福利制度中的「福利服務」項目？(A)甲乙丙(B)乙丙丁(C)甲乙丙丁(D)甲丙丁。

24、()下列哪一句話最能說明「社會保險」的重要性？(A)可以幫助我們儲蓄(B)知己知彼百戰百勝(C)天有不測風雲，人有旦夕禍福(D)讓我們生病沒煩惱。

25、()下列是小花在書上看到一個名詞解釋所舉例的名人故事。下列何者最有可能這是這個名詞？

企業家林百里出生於上海，一歲時隨著父母逃離到香港，在難民營般的調景嶺貧民窟成長，後來到台灣就讀台灣大學，一路磨練到創立廣達電子，至今已經是身價三千多億的科技富豪

(A)社會流動(B)社會問題(C)社會互動(D)社會文化。

26、()最近感冒流行，政府呼籲民眾接種流感疫苗，65歲以上老人及嬰幼兒皆可免費施打。請問這是社會福利政策中哪一項目？

(A)福利服務(B)社會救助(C)社會津貼(D)健康與醫療照護。

27、()目前我國已實施的社會保險有下列哪幾種？(甲)全民健康保險(乙)公務人員保險(丙)國民年金保險(丁)勞工保險(戊)汽機車強制責任險。(A)甲乙丙丁(B)甲乙丙戊(C)甲乙丁戊(D)乙丙戊。

28、()政府對經濟和社會地位相對弱勢的族群，常會透過政策提供較多的社會資源和機會保障，例如為身心障礙者設立特殊教育學校。上述政府的做法，最可能是基於下列何種理由？

(A)保存特殊文化(B)促進社區參與(C)強化族群融合(D)落實社會正義。

29、()就讀國中的阿立，由於爸爸出車禍待在家裡調養，只能靠媽媽出去打零工維生，家裡還有年老的爺爺、奶奶和2歲的妹妹，現在家裡經濟陷入困境。請問：阿立一家該怎麼辦？(A)阿立應該半工半讀(B)把妹妹送給別人撫養，

減輕家裡負擔(C)一家人到路邊乞討，博取路人同情，順便賺取生活費(D)向政府相關單位提出急難救助的申請。

30、()非裔的歐巴馬打破了長久以來種族上的藩籬，當選美國總統。歐巴馬的這項成就主要仰賴下列哪一因素？(A)優越的族群背景(B)個人的後天努力(C)顯赫的家世地位(D)教育機會的匱乏。

31、()最近梅雨季節，各地都有災情傳出，有的房屋被水沖走、有的農作物毀損、有的家中淹水嚴重。許多人因為如此經濟陷入困境，民眾可以向政府相關單位申請協助。請問：這是屬於政府的哪一社會福利政策？

(A)社會津貼(B)福利服務(C)社會保險(D)社會救助。

32、()阿玉閱讀一篇報導：「有人認為偏遠地區的小學，人數少，政府每年花費的教育成本多達百萬元，應該將它廢校或與他校合併，但是教育政策並非計算營收多少，重要的是要能考慮到孩子們的學習權。」這篇報導的作者觀點主要是基於何者考量？(A)公共利益(B)偏鄉的利益(C)經濟效益(D)社會正義。

33、()大花的爸爸看到政論節目提到有關政府提供的社會福利，爸爸想知道大花在學校是否用心上課，請大花口頭舉例出一個社會福利政策的例子，下列哪一個回答是較為恰當？(A)提供終身學習的機會(B)擴大大學生尋找打工機會的管道(C)提供兒童托育(D)促進跨國人口流動。

34、()兒童聯盟調查發現，都會區的學童放學直奔才藝班、看展覽，但偏遠的兒童卻生活經驗狹隘，缺乏文化刺激。請問這是台灣社會呈現何種問題？(A)少子化問題(B)青少年犯罪問題(C)人際關係疏離(D)貧富差距問題。

35、()在福利國家中，對於鰥、寡、孤、獨、廢、疾者，除了個人發揮惻隱之心，還可以借助哪些力量？甲政府；乙軍隊；丙民間機構；丁家族力量。(A)甲乙丙(B)甲丙丁(C)甲乙(D)乙丁。

二、整合題 每題 2 分 共 30 分

1、小涵遭受多年家暴，為了不讓女兒蕙萍在充滿暴力的家庭背景中長大，決定與先生離婚，獨自帶著 1 歲大的女兒生活。請問：

36、() 小涵決定先找一份工作，於是到就業服務站進行諮詢。請問：就業諮詢應為哪一項社會福利政策的內容？ (A)健康與醫療照護 (B)居住正義與社區營造 (C)就業安全 (D)社會救助與津貼。

37、() 小涵租的房子，是政府鼓勵民間興辦的社會住宅。請問：上述應為社會福利政策哪一項的措施？ (A)福利服務 (B)社會保險 (C)居住正義 (D)健康與醫療照護。

38、() 流感季節到了，小涵帶著蕙萍至衛生所施打免費疫苗。請問：嬰幼兒免費接種疫苗屬於哪一項社會福利政策的內容？ (A)福利服務 (B)社會保險 (C)社會救助 (D)健康與醫療照護。

39、() 小涵找到工作後，使用政府提供的兒童托育服務，因此不用擔心蕙萍的照顧問題。請問：兒童托育服務屬於哪一項社會福利政策？

(A)福利服務 (B)就業安全 (C)社會保險 (D)健康與醫療照護。

二、每年吸引千萬名香客的台北行天宮，在民國 103 年 8 月 26 日有重大變革，為響應環保、健康與不浪費，廟方不再提供香爐與供桌。因此，來廟的信徒不用準備供品、也不用準備香。行天宮的精神導師說到，一個人心地善良會自然散發出道德的馨香，不用一定要焚香。

40、() 根據上文，行天宮的改革，是因為哪個層次的變遷所帶動？

(A)價值觀念 (B)經濟利益 (C)器物生活 (D)社會制度。

41、() 此項變革原定於當年的 9 月實施，但是請示神明後，決定在 8 月實施。請問行天宮決定的方式是屬於何種社會規範？

(A)法律規定 (B)倫理道德 (C)宗教信仰 (D)風俗習慣。

42、() 完整的觀看行天宮的藝術之美，可由建築本體、比例、鎮門獸、龍形、壁畫。屋頂是歇山斷檐盤樓式，正面為十一開間，為台灣廟宇建築間數之極。請問：這是藉由哪一個文化層次中來了解行天宮？(A)器物層次 (B)制度層次 (C)價值觀念 (D)道德層次。

三、配合題

下列措施屬於我國社會福利政策綱領保障的哪項社會福利政策？請在空格內填入正確選項。

A 社會保險 B 社會救助與津貼 C 就業安全 D 居住正義與社區營造

43、() 小詹夫妻育有未成年子女三個，經濟負擔重無力購屋，因此向政府申請社會住宅

44、() 小星發生車禍事故時，全民健保可給予醫療上的保險給付

45、() 被老闆開除的小利，想要學習煮咖啡的技術，一圓當咖啡老闆的夢想

46、() 曾果成因為一場大火而無家可歸，於是到市府社會局申請災害救助

47、() 小雨的父母已死亡，靠著年邁的奶奶奶領取中低收入老人生活津貼勉強過活

48、() 小山在貨運行載運以及搬運貨物，導致腰部疼痛，無法上班，小山想要請教有關職業的預防與法令

49、() 小喬因為離婚，獨自扶養小孩，工作不穩定，無力買屋，只能獨自在外租屋。

50、() 彤彤半年都會到牙醫診所洗牙一次，費用只需要掛號費以及部分負擔，大約只需要 100~150 元，台灣的醫療真是棒啊。