

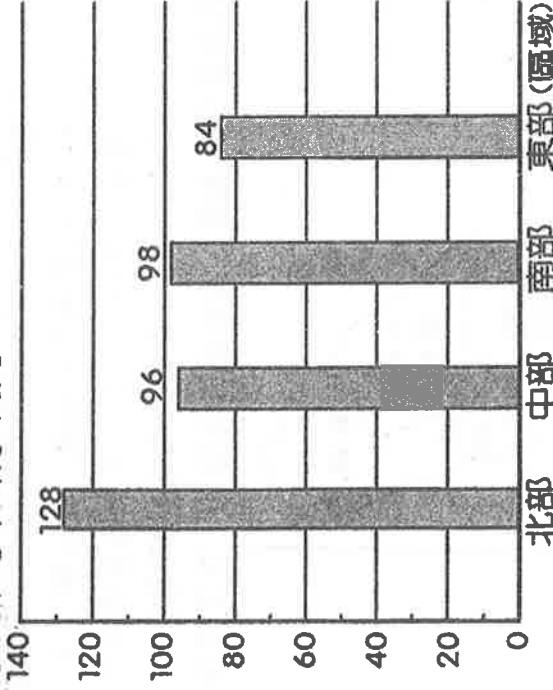
嘉義市北興國民中學105學年度第二學期第3次段考地理科一年級題目卷

一、單一選擇題：每題2分，共36分

1. ()我國四面環海，除了臺灣本島外，尚包括許多離島島嶼。根據臺灣區域畫分判斷，下列哪個離島位於北部區域？ (A)金門 (B)琉球嶼 (C)綠島 (D)龜山島。

2. ()附圖為臺灣各區域家庭平均年所得統計圖，請問：圖中不同區域的收入高低變化，和下列何者關係最大？ (A)區域土地面積 (B)區域居民職業 (C)區域氣候差異 (D)區域自然資源豐缺。

家庭平均年所得(萬元)



3. ()臺灣的多元文化來自於各民族兼容並蓄的特性，塑造出獨特的人文氣息。請問：臺灣目前組成人口的主要族群中不包括下列何者？ (A)客家人 (B)新移民 (C)印尼人 (D)閩南人。

4. ()太平島和東沙島同為我國重要戰略前線，因軍事管制而發展受限。請問：太平島和東沙島皆屬於何種類型的島嶼？ (A)大陸島 (B)火山島 (C)珊瑚礁島 (D)人工島。

5. ()臺灣由人口密度觀察，哪一個區域人口外流最嚴重？ (A)北部區域 (B)中部區域 (C)南部區域 (D)東部區域。

6. ()中部各縣市在發展過程中，紛紛形成不同的區域特色。其中哪一個縣市以獨特的客家文化為主，發展民宿業，成為中部區域的觀光勝地？ (A)臺中市 (B)苗栗縣 (C)屏東縣 (D)新竹縣。

7. ()附表為臺灣各區域的年雨量分布狀況，請問：影響中南部區域年降雨量較少的主要因素為下列何者？ (A)四面環海的位置 (B)地勢高聳 (C)夏季迎西南季風 (D)冬季背東北季風。

中部區域	南部區域	北部區域	東部區域
1,773 mm	1,865 mm	2,405 mm	2,177 mm

8. ()教育是為培養國家未來的人力資源，然而受到區域發展的影響，臺灣各縣市教育程度有顯著差異。若某外國資訊公司想要來臺灣成立設計總部，下列哪一縣市因人力素質較佳，最可能成為外國公司的首選？ (A)臺中市 (B)高雄市 (C)嘉義市 (D)臺北市。

9. ()臺灣舉辦招商博覽會，各縣市無不卯足全力希

望吸引外資的投入。某縣市的標語如下：「本地區可說是臺灣對外的翅膀，便捷的境外交通有利於人貨的往來。鄰近臺灣經濟中心，可以獲得充足的資訊來源，且設廠成本低廉，歡迎前來投資。」請根據下列資料加以判斷，該地區最可能為下列哪一個縣市？ (A)台中市 (B)新竹市 (C)桃園市 (D)台南市。

10. ()「臺灣東部區域由於位在颱風襲臺的必經之地，因此被侵襲的次數相當頻繁。西部縣市則受到地形阻隔，影響範圍較小。」請由上文敘述判斷，颱風多從哪一個海域襲臺？ (A)臺灣海峽 (B)巴士海峽 (C)南海 (D)太平洋。

11. ()墾丁是知名的觀光景點，到當地可以欣賞大自然塑造的奇岩怪石，但無法欣賞到哪一個海洋的美景？ (A)臺灣海峽 (B)巴士海峽 (C)太平洋 (D)東海。

12. ()現代經濟發展的過程中，國際分工已成為不可避免的趨勢。其中中部區域即以何種產業升級的方式創造更多的利益，成為相當成功的典範？ (A)傳統機械→高級自行車 (B)電子玩具→高科技產業 (C)養殖漁業→罐頭食品業 (D)傳統稻作→食品加工业。

13. ()八八水災時曾造成小林村滅村的慘劇，而曾文水庫的越域引水工程亦被認為是造成災情的可能原因之一。請問：該水庫主要提供下列哪一個區域的農業灌溉所需？ (A)屏東平原 (B)臺中盆地 (C)宜蘭平原 (D)嘉南平原。

14. ()南投縣的茶葉品質良好，頗負盛名，其生產的有利條件主要為何？ (甲)山地面積大 (乙)灌溉便利 (丙)溼度高 (丁)氣溫高 (A)甲丙 (B)乙丁 (C)甲丁 (D)乙丙。

15. ()臺灣四大區域的各級產業發展程度皆不相同，這種發展差異可從下列哪個方面加以觀察？ (A)國民職業類別 (B)土地面積大小 (C)出生率高低 (D)雨量多寡。

16. ()臺灣南部區域由於有高雄港的對外航運，因此有利於原料的進口，造成南部區域哪一種產業活動較其他地區盛行？ (A)重工業 (B)金融服務業 (C)資訊產業 (D)科技業。

17. ()在臺南當兵的保華，在新訓中心結訓後抽中的服務單位為金門指揮部，此時保華要到哪一個區域搭船距離金門最近？ (A)北部區域 (B)東部區域 (C)中部區域 (D)南部區域。

18. ()根據內政部統計資料顯示，桃園近十年來增加的人口數領先新北市等其他區域，位居全臺之冠。其原因除了地價較臺北市低廉外，與下列何項條件吸引工廠設廠，提供當地的就業機會而形成人口拉力有關？ (A)設立科學工業園區 (B)交通運輸便利 (C)豐富礦產分布 (D)政治經濟重心。

二、題組：每格 2 分，共 64 分

(1). 閱讀下列選文，回答相關問題：

圖(一)是小美家鄉的位置，該地三面環山，是著名的客家鄉鎮。圖(二)中的油紙傘是當地最具代表性的手工藝品，兼具遮雨及擺飾觀賞的功能。過去油紙傘是地方的傳統技藝，後來因為觀光事業興起而成為遊客必購的紀念品，油紙傘因具有上述文化傳承與商業價值的雙重意義，已是一種足以代表地方特色的文化產業。在當地，至今仍有許多居民會在下雨天撐起油紙傘，油紙傘不僅代表當地人的鄉土情懷，還有一分特別的驕傲。



▲圖(一)

▲圖(二)

() 19. 從文中的訊息判斷，該鄉鎮位於臺灣何處？
(A) 東北部 (B) 西北部 (C) 東南部 (D) 西南部。

() 20. 文中紀念品的生產過程中，最依賴下列哪一項條件？ (A) 土地 (B) 勞力 (C) 資金 (D) 能源。

() 21. 文中當地民眾撐起油紙傘遮雨的情形，在哪一個季節最不容易看到？ (A) 春季 (B) 夏季 (C) 秋季 (D) 冬季。

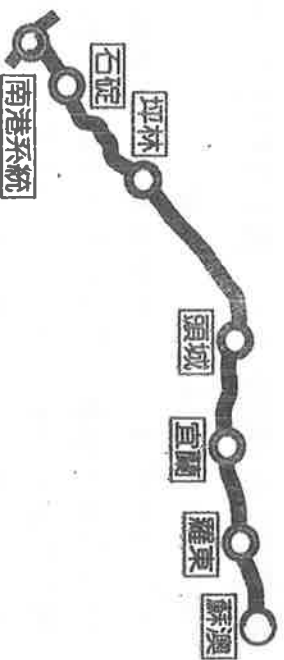
(2). 交通建設的開闢對於地方上的發展影響相當深遠，圖(三)為臺灣某條重要的高速公路示意圖，請根據圖中的路線回答下列問題：



▲圖(三)

() 22. 交通建設的開闢有助帶動地方上的觀光業發展，卻也容易產生排擠現象。如圖(一)中的高速公路完工後，將對圖中哪一個景點造成衝擊，遊客量大受影響？ (A) 宜蘭礁溪溫泉 (B) 臺北 101 大樓 (C) 新北市貢寮龍洞 (D) 太魯閣國家公園。

() 23. 圖(四)為圖(三)中高速公路的路線圖。每當連續假期結束時，圖(四)中的哪一路段最先可能出現大量的車潮，造成交通阻塞？



▲圖(四)

(A) 南港至坪林 (B) 蘇澳至羅東 (C) 宜蘭至坪林 (D) 石碇至南港。

() 24. 該路線在開闢之初，曾因為對於地方發展可能造成負面影響而出現反對聲浪。下列有關此條高速公路可能出現的缺點，何者錯誤？ (A) 到宜蘭遊客大增，破壞宜蘭環境 (B) 穿越中央山脈，施工難度大 (C) 臺北人口外流不多，不會造成勞力不足 (D) 便於一日往返，住宿旅客變少。

(3). 附圖為臺灣區域圖。請依各區域特色，回答問題：



() 25. 臺灣區域發展不均的結果，使東部區域哪一項居住條件較佳？ (A) 物質生活條件 (B) 工商業發展程度 (C) 生活環境品質 (D) 地方建設。

() 26. 附圖四個區域中，哪一區域人口密度最高、經濟發展也最進步？(A) 北部區域 (B) 中部區域 (C) 南部區域 (D) 東部區域。

(4). 附圖為臺灣本島的區域畫分圖。請問：



() 27. 將臺灣本島畫分為北、中、南、東四區域所考量的因素為何？ (A) 民族和語言 (B) 經濟和政治 (C) 資源和民族 (D) 自然、人文和地理位置。

() 28. 漁業、觀光業為主的澎湖縣，地理位置屬於圖中哪一區域？ (A) 北部 (B) 中部 (C) 南部 (D) 離島。

() 29. 因戰地政務擁有神祕色彩的馬祖，位於甲區的哪一個方向？ (A) 東北 (B) 西北 (C) 東南 (D) 西南。

() 30. 中央山脈以東，被稱為臺灣的「後山」，而

今日是國人休閒度假的後花園，指的是圖中哪一區？(A)甲(B)乙(C)丙(D)丁。

(5).近年來，政府推動「一縣市一特色，一鄉鎮一特產」政策，以帶動各地的經濟發展。現今，各縣市憑著其自然環境或人文特色，發展出獨特的新興節慶，進而帶動觀光業的發展，增進經濟收入。請依據短文描述回答下列問題：

東港黑鮪魚觀光文化季：被譽為魚肉中的勞斯基斯「黑鳶串」，它和櫻花蝦、油魚子號稱「東港三寶」。每年四月中至六月船隻到巴士海峽及臺灣東部海域作業，一艘艘載著黑鮪魚的漁船魚貫入港，吊卸、搬運、分類、喊價，漁港一片忙碌；一條黑鮪魚重達數百公斤，價值不菲，而有「黑金」之稱。

宜蘭三星蔥蒜節：宜蘭三星鄉的居民沿襲傳統的生活及耕作方式，加上灌溉的水質純淨，使得三星地區成為高品質農業園區的代表。每年年初是豐收的季節，地方政府、民間團體與鄉民共同策畫下，推廣三星地區的特產：蔥、蒜及銀柳，打響三星蔥蒜之都的名聲，以及展現農村傳統風情與宜蘭的人文精神。

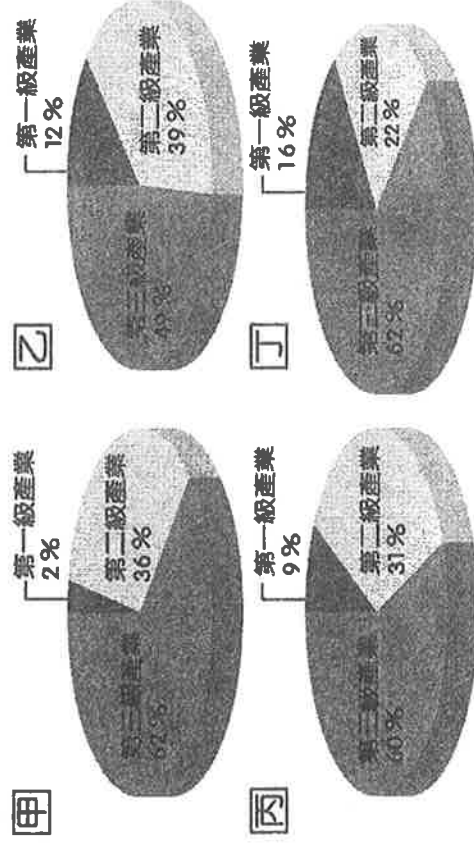
() 31. 東港捕獲的黑鮪魚，主要是隨著哪一股洋流北上進行迴游？(A)親潮 (B)黑潮 (C)中國沿岸流 (D)北大西洋暖流。

() 32. 黑鮪魚是屏東東港有名的特產，屬於下列何種漁業類型？(A)沿岸漁業 (B)近海漁業 (C)遠洋漁業 (D)養殖漁業。

() 33. 宜蘭地區的水源主要來自哪條河川？(A)卑南溪 (B)濁水溪 (C)蘭陽溪 (D)秀姑巒溪。

() 34. 宜蘭三星蔥、蒜收成時，農民最擔心何種氣象災害的侵擾，使得血本無歸，造成損失？(A)寒害 (B)梅雨 (C)颱風 (D)對流雨。

(6).附圖為臺灣各區域產業就業人口比例圖。請問：



() 35. 臺灣四個區域的產業皆以哪一級產業為主？(A)第一級 (B)第二級 (C)第三級 (D)無共通性。

() 36. 丙區應是臺灣哪一區域的產業結構？(A)北部區域 (B)中部區域 (C)南部區域 (D)東部區域。

() 37. 丁區第三級產業所占比例高，其最可能的產業發展為何？(A)商業 (B)運輸業 (C)觀光業 (D)金融業。

() 38. 美麗諸羅城嘉義市，是文化古蹟名城。應位於圖中哪一區？(A)甲 (B)乙 (C)丙 (D)丁。

(7).小熊今年暑假到中部區域旅遊，希望飽覽當地的風景名勝，並了解其區域發展的特色。附圖為中部區域各縣市的簡圖。請問：



() 39. 小熊的爸爸喜歡品酒；小熊則希望先到涼爽且風光明媚的山城，展開他的中部之旅。

那麼第一站應該是在到附圖中何處？(A)甲 (B)丙 (C)丁 (D)戊。

() 40. 小熊還想品嚐雲林縣古坑鄉的咖啡，他應轉往附圖中哪一縣市？(A)甲 (B)乙 (C)丁 (D)戊。

(8).附圖為臺灣南部區域的行政簡圖，請由圖中資料回答下列問題：



() 41. 南部區域目前主要以重工業活動為主，第二次世界大戰後設立的加工出口區為臺灣建立良好的工業基礎。請問：臺灣的重工業中心主要分布於圖中哪一個縣市？(A)甲 (B)乙 (C)丁 (D)戊。

() 42. 目前南部區域哪一個縣市正積極發展觀光業，潟湖與文化古都吸引許多遊客前來？ (A)乙 (B)丁 (C)丙 (D)己。

() 43. 附圖中的哪一個縣市沿海珊瑚礁地形，成為著名的浮潛聖地，全年遊客如織？ (A)甲 (B)丙 (C)丁 (D)戊。

(9).2013 年荷蘭藝術家所創造的黃色小鴨來到高雄港展覽，在黃色小鴨面前人們顯得平等而渺小，吸引了許多民眾前往高雄參觀，盛況空前。請問：

() 44. 此次黃色小鴨展出的場所為高雄港的光榮碼頭，早期為臺灣的軍港，曾經運送許多保家衛民的戰士前往金門，因此以之為名。請問：由該碼頭前往東沙島的航行方向大致為何？(A)東北方 (B)西南方 (C)東南方 (D)西北方。

() 45. 高雄港的光榮碼頭在退役後，不再具有軍備運輸功能，反而成為多用途的藝文展覽會場，增添高雄港的新色彩。該港口若欲推出南部區域各地方的相關展覽，下列哪一地方的展覽介紹內容錯誤？ (A)嘉義：著名的阿里山鐵道風情 (B)台南：重溫人文薈萃的古都氛圍 (C)屏東：熱情的南國風情 (D)高雄：臺灣最資深的科技園區。

() 46. 臺灣在設立自由貿易港區計畫時，高雄港即為計畫中相當重要的港口。該港口的發展與下列何項產業活動關係最為密切？ (A)食品加工業 (B)石化業 (C)成衣業 (D)資訊業。

(10).臺灣北部區域為目前臺灣經濟最為發達、人口最為集中的區域，該區域內各地的發展狀況皆不相同。請參考附圖回答下列問題：



() 47. 小白若想了解臺灣境內重要的行政機關及國家藝文中心的發展狀況，應該前往附圖中何處最為適當？(A)甲 (B)乙 (C)戊 (D)庚。

() 48. 臺灣在目前世界經濟體系中，在高科技產業活動中扮演相當重要的角色。我們若想了

解臺灣高科技產業的起源地，應該前往附圖中哪一個地區參觀訪問？ (A)乙 (B)戊 (C)丁 (D)庚。

() 49. 附圖中的哪一縣市，以成為亞太航空轉運中心為發展目標？ (A)甲 (B)戊 (C)己 (D)庚。

() 50. 著名的兩港基隆，如要前往觀賞美麗的天然岬灣地形，應到附圖中的哪一縣市？ (A)甲 (B)乙 (C)丙 (D)丁。