

一、單一選擇題(共 62 分/每題 2 分)

1. ()阿正常常穿著上有「中美合作」字樣的麵粉袋內褲，打著赤膊跑去迎接「阿逗仔」的軍隊，快樂地撿著他們給的罐頭食品。請問：此與哪一歷史事件有關？ (A)臺灣光復 (B)中美斷交 (C)韓戰爆發 (D)解除戒嚴。
2. ()我國政府派遣農耕隊到大洋洲的索羅門協助農民耕作，可以說是下列何種外交政策的表現？ (A)務實外交 (B)金援外交 (C)鞏固外交 (D)彈性外交。
3. ()民國 43 年，臺灣與美國簽訂《中美共同防禦條約》，美國正式將臺灣納入哪一區域的防衛體系？ (A)東亞 (B)東南亞 (C)南亞 (D)東北亞。
4. ()美麗島事件與下列何事件同年發生？ (A)八二三炮戰 (B)十大建設開始實施 (C)退出聯合國 (D)美國與中共建交。
5. ()附表是 1970 年代初期，中共和我國友邦國家的數目統計表。根據表中內容判斷，造成兩岸邦交國數目變化的主要原因為何？

年分	中華人民共和國	中華民國
1970	49	66
1971	65	55
1972	87	39

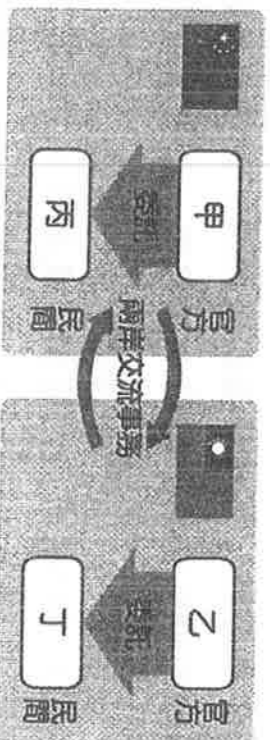
- (A)韓戰爆發 (B)我國退出聯合國 (C)中共發動八二三炮戰 (D)我國與美國斷交。
- ()在兩岸政治對峙時期，中共就對台灣提出「三通」政策。但台灣政府一直到何人執政時期，才正式與中國大陸進行三通？ (A)李登輝 (B)陳水扁 (C)馬英九 (D)蔡英文 總統。
- ()友才從爺爺的衣櫃中找到如附圖中的舊褲子。從褲子的型式推判，這應該是爺爺在下列哪一年代的穿著？



- (A)民國 30 年代 (B)民國 50 年代 (C)民國 70 年代 (D)民國 90 年代。
- ()《臺灣關係法》乃為協助維持西太平洋之和平、安全與穩定，並授權繼續維持美國人民與臺灣人民間之商業、文化及其他關係。請問：美國國會是在何種背景下通過《臺灣關係法》？ (A)國共內戰時 (B)韓戰爆發後 (C)臺灣退出聯合國後 (D)臺美斷交後。
- ()兩岸在武力對抗時期較大規模的戰役有「古寧頭大戰」及「八二三炮戰」。請問二者的地點在何處？ (A)二者皆在金門 (B)「古寧頭大戰」在金門，「八二三炮戰」在馬祖 (C)「古寧頭大戰」在馬祖，「八二三炮戰」在金門 (D)二者皆在馬祖。
- ()在臺灣與中國大陸終止交流 40 年之後，政府終於開放臺灣人民至中國大陸探親，這是哪一位總統任內的措施？ (A)嚴家淦 (B)蔣經國 (C)李登輝 (D)陳水扁。
- ()下列何者是臺灣設置用來負責處理中國事務的民間機構？ (A)大陸委員會 (B)海峽交流基金會 (C)海峽兩岸關係協會 (D)國務院臺灣事務辦公室。
- ()在和平統戰的策略下，中共對臺灣提出「三通」的口號。下列哪些是「三通」的內容？ (甲)通航(乙)通郵(丙)通話(丁)通商 (A)甲乙丙 (B)甲乙丁 (C)甲丙丁 (D)乙

丙丁。

13. ()附圖是兩岸交流事務處理機構的示意圖，根據圖中的內容判斷，圖中的「甲」應該是下列何者？



(A)國務院臺灣事務辦公室 (B)海峽兩岸關係協會 (C)海峽交流基金會 (D)行政院大陸委員會。

14. ()「民國 47 年，金門遭炮擊數萬發，美國總統艾森豪下令將地中海第六艦隊調遣一半到臺灣海峽，與第七艦隊會合，加上從本國和菲律賓調來的，美軍在臺灣海峽就有航空母艦 7 艘、重巡洋艦 3 艘、驅逐艦 40 艘。」請問：當時臺灣海峽發生戰爭危機，美方協防臺灣有何法源依據？ (A)《中美共同防禦條約》 (B)《聯合國憲章》 (C)《臺灣關係法》 (D)《中美建交公報》。


15. ()臺灣經濟發展的階段或策略為：(甲)出口導向(乙)進口替代(丙)經濟自由化。若按照時間先後順序應為何？ (A)乙甲丙 (B)甲乙丙 (C)乙丙甲 (D)丙乙甲。

16. ()由政府將公有的農地釋放出來，賣給需要土地的農民，這應是下列何種措施？ (A)三七五減租 (B)公地放領 (C)耕者有其田 (D)農地重畫。

17. ()臺灣近五十年來的經濟發展與建設成就，享譽全球，曾被喻為「亞洲四小龍」之一。回顧五十年來，臺灣曾經歷一些階段，並採取若干措施，如：(甲)調整產業結構，加強高附加價值產業(乙)獎勵投資，拓展輸出(丙)實施土地改革(丁)扶植發展輕工業。請按實施先後順序，選出正確組合？ (A)丁丙乙甲 (B)丙丁甲乙 (C)丙丁乙甲 (D)丙乙甲丁。

18. ()1976 年臺灣曾躍升為世界最大的鞋類輸出國。但 1970 年代初，以國際貿易為主的臺灣卻在經濟發展過程中，遭遇何種危機？ (A)中共實施改革開放，沿海經濟實力威脅臺灣 (B)加入世界貿易組織，影響本土的農業發展 (C)亞洲金融風暴，臺灣面臨嚴重的通貨膨脹 (D)石油危機造成全球經濟不景氣。

19. ()附圖是在加工出口區成衣工廠常見的景象，這個情景最早可能出現於下列哪一地區？



(A)臺北 (B)新竹 (C)高雄 (D)花蓮。

20. ()民國 38 年，政府遷臺後，積極建設臺灣。下列何者是政府最晚推行的政策？ (A)九年國民義務教育 (B)十大建設 (C)土地改革 (D)鄉土教學。

21. ()民國 70 年代以後，臺灣政治社會逐漸開放，因此文化發展的方向為何？ (A)中國化 (B)一元化 (C)封閉化 (D)多元化。

22. ()民國 60 年代，臺灣的內政與外交面臨嚴厲挑戰，經濟起飛後也帶來許多問題，知識分子因而做出什麼回應？ (A)喚回日本殖民文化 (B)呼應中共一國兩制 (C)關懷臺灣本土社會 (D)迎合美國流行風潮。

23. ()阿美族的小朋友可以恢復他的阿美族名字，也可以在學校學習到他的阿美族母語。請問

：這最有可能發生在哪個時期的臺灣？ (A)荷蘭統治時期 (B)鄭成功治臺時期 (C)日本殖民統治時期 (D)解嚴後的臺灣。

24. ()戰後臺灣經濟發展的成果，與教育水準的提升、文化社會建設的推廣，實有莫大的關係。下列哪些是政府為配合經濟建設的需要，所採行的措施？(甲)實施九年國民義務教育(乙)推展職業教育(丙)發展高等教育(丁)設置文化部 (A)甲乙丙 (B)甲乙丁 (C)甲丙丁 (D)乙丙丁。

25. ()有關臺灣光復後每一階段文化發展特色的配對，何者正確？ (A)民國40～50年代—本土文化獲重視 (B)民國60年代—鄉土文學運動 (C)民國30年代—教育改革運動 (D)民國80～90年代—中華文化復興運動。

26. ()建弘是九年國民義務教育第一屆畢業生，順利考上高中、大學而畢業，現在從事文化建設的工作。請問：以下哪一項史實發生的時間最接近建弘國中畢業階段？ (A)韓戰 (B)臺灣退出聯合國 (C)與美國斷交 (D)推動十二年國民基本教育。

27. ()現今臺灣政治、社會逐漸開放，文化朝向多元發展。臺灣於何時興起社會運動的風潮？

(A)民國60年代 (B)民國70年代 (C)民國80年代 (D)民國90年代。

28. ()近年來，臺灣人口成長速度已逐漸緩和。臺灣哪一年齡層的人口比例有增加的趨勢？

(A)老年人口 (B)幼年人口 (C)壯年人口 (D)各年齡層皆是。

29. ()附表為民國82～86年，政府實施社會救濟的醫療補助金額表。請問：自民國85年起醫療補助金額大幅減少，與下列哪一項因素最為有關？

年別	醫療補助(千元)
82年	1,162,770
83年	646,241
84年	608,224
85年	145,223
86年	131,318

(A)全民健保的實施 (B)政府開辦國民年金制度 (C)國民所得大幅提高 (D)醫療用品自付額提高。

30. ()佩珊出生於民國58年的臺灣，她的成長歷程中，可能遭遇的狀況為何？ (A)她出生後臺灣經濟也因採「出口導向」政策而開始進入「經濟起飛」期 (B)她不必參加初中聯考，是因為政府實施12年國教免試升學的原因 (C)她在就讀中學時發生「退出聯合國」(D)她現在和父母、丈夫、兒女同住，是典型的「核心家庭」。

31. ()關於臺灣原住民的歷史與文化傳統，近年來逐漸獲得社會與政府的重視。請問：原住民取得法律保障其權益，是因哪一項法律的頒布？ (A)《原住民族傳統法》 (B)《原住民族權益法》 (C)《原住民族正名法》 (D)《原住民族基本法》。

二、題組(共38分/每格2分)

(一)、六十餘年來，兩岸的關係已由武力對抗轉變為兩岸交流。請問：

32. ()兩岸處於武力對抗時期的時候，國軍常會製作空飄汽球，施放至中國大陸宣傳。請問：汽球上的標語最可能是下列何者？ (A)一國兩制 (B)光復大陸 (C)三通四流 (D)三不政策。

33. ()兩岸處於政治對峙時期的時候，中共對我國採取一些策略，其中下列何者為非？ (A)

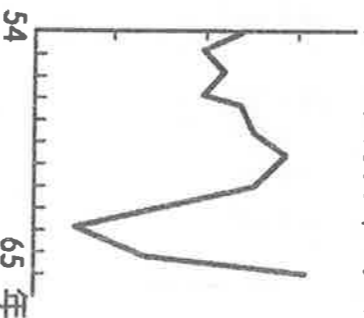
三通四流 (B)一國兩制 (C)和平統戰 (D)三不政策。

34. ()民國 82 年，海峽兩岸曾派出代表，在何處進行兩岸的對談？
(A)台北 (B)香港 (C)新加坡 (D)北京。

(二)、周冰替國家從事情報工作，在民國 38 年成為中華民國少有的女性少將司令，後來在香港執行任務時發生意外被捕。出獄後，由於當時兩岸處在特殊的時空背景，臺灣方面不想因為這件事情引起國際糾紛，因此政府於民國 47 年接回周冰後，並不承認她的情報員身分。周冰雖然感到失望，卻也不爭不求。就這樣，周冰的愛國故事埋藏了一甲子，直到民國 100 年離開人世後，才被媒體公開。請問：

35. ()周冰在民國 38 年升任為少將司令時，曾進入中共占領的上海地區，執行任務並發展武裝組織。請問：當時正值何種歷史背景？ (A)國共內戰 (B)第二次世界大戰 (C)第一次世界大戰 (D)韓戰。
36. ()上文中提及「當時兩岸處在特殊的時空背景下」，其所指的為下列何者？ (A)兩岸處於政治對峙時期 (B)臺灣退出聯合國 (C)中共與美國建交 (D)兩岸處於武力對抗時期。

(三)、附圖為民國 54 年至 65 年，臺灣經濟成長率的曲線圖。請問：

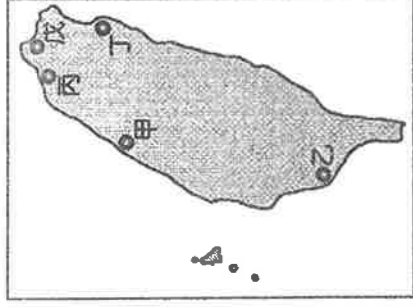


37. ()造成民國 63 年經濟成長曲線陡降的客觀因素為何？ (A)發生能源危機 (B)韓戰爆發 (C)臺灣退出聯合國 (D)八二三炮戰爆發。
38. ()承上題，政府因應此危機，乃推動何項公共建設，以刺激景氣？ (A)參加 WTO (B)加入 APEC (C)十大建設 (D)設加工出口區。

自從國民政府遷臺後，積極建設臺灣，推動多項經濟建設計畫，締造了臺灣的經濟奇蹟，令世人稱讚。請問：

39. ()自何時開始，政府的經建計畫以自行生產民生必需品，減少進口物資為目標？ (A)民國 40 年代 (B)民國 50 年代 (C)民國 60 年代 (D)民國 70 年代。
40. ()民國 70 年代以後，政府推動下列哪一項經濟政策？ (A)進口替代 (B)出口導向 (C)十大建設 (D)產業升級。

(五)、十大建設對臺灣的經濟起飛發揮了不可抹滅的貢獻。請依據圖中內容回答下列問題：



41. () 甲應是十大建設中的哪一項成就？ (A)北迴鐵路 (B)中國造船廠 (臺灣國際造船公司) (C)中正國際機場 (臺灣桃園國際機場) (D)臺中港。
42. () 乙地未包括哪一項經濟建設成果？ (A)大煉鋼廠 (B)石油化學工業 (C)核能發電廠 (D)中國造船廠 (臺灣國際造船公司)。
43. () 丙地的建設為我國對外聯絡的重要交通設施，它是下列何者？ (A)中正國際機場 (臺灣桃園國際機場) (B)蘇澳港 (C)臺中港 (D)北迴鐵路。
44. () 丁處可能是哪項設施？ (A)鐵路電氣化 (B)中山高速公路 (C)蘇澳港 (D)核能發電廠。
45. () 戊區的建設位於新北市，滿足工業動力與民生需求，這是下列何項建設？ (A)石油化學工業 (B)大煉鋼廠 (C)核能發電廠 (D)中國造船廠 (臺灣國際造船公司)。

(六)、王爺爺對孫子說：「你們現在讀書，念到國中都可以不用考試了。阿公在1944年時讀小學一年級，日本政府要求我們讀六年才能畢業。」請問：

46. () 王爺爺在1944年所就讀的是哪一種學校？ (A)公學校 (B)小學校 (C)國民學校 (D)師範學校。
47. () 王爺爺就讀小學二年級時，會遇到下列哪一件事？ (A)臺灣脫離日本統治 (B)日本發動侵華戰爭 (C)第一次世界大戰結束 (D)日本偷襲珍珠港。
48. () 上文中提到的「念到國中都不用考試」，這是政府從哪一學年度開始實施的措施？ (A)民國50學年度 (B)民國57學年度 (C)民國60學年度 (D)民國67學年度。

(七)、歷史老師希望同學們蒐集關於臺灣人口變遷的資料來做報告，同學們將蒐集到的資訊整理成附表。請問：

年代	民國34年	民國39年	民國60年	今日
人口數	約600萬人	約750萬人	約1,500萬人	約2,300萬人

49. () 臺灣的人口從民國34年的600萬人大量增加至民國39年的750萬人，其原因為何？ (A)政府鼓勵民眾生育 (B)移入臺灣的外國民眾增加 (C)國共內戰導致政府遷臺 (D)臺灣醫療技術改進。
50. () 民國60年代起，臺灣人口出生率下降，是因為當時政府正在推廣哪一政策？ (A)一胎化政策 (B)家庭計畫 (C)鼓勵民眾避免生育 (D)增產報國。

