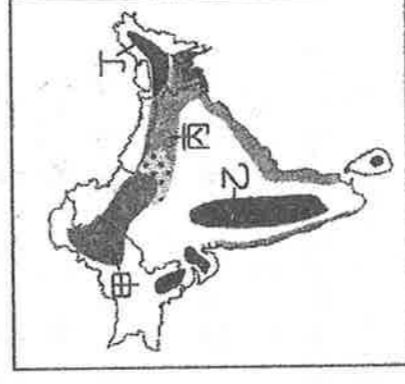


一、單選題(每題 2 分)(共 40 分)

- () 1. 印度半島的塔爾沙漠，形成的主因為何？(A)背東北季風 (B)副熱帶高壓籠罩 (C)深居內陸 (D)涼流經過。
- () 2. 日本主要的工業區和工業都市均瀕臨海洋，主要是因日本的工業受到何項條件限制？ (A)勞工缺乏 (B)內陸運輸不便 (C)土地面積狹小 (D)國內原料不足，仰賴進口
- () 3. 泡菜是韓國人民一年四季不可或缺的食物，此種飲食習慣是受到何項因素影響？ (A)節儉美德 (B)養生觀念 (C)耕地狹小 (D)冬季寒長。
- () 4. 印度氣候分為三季，下列哪個假期是當地最舒適的時節？ (A)春節 (B)端午節 (C)中秋節 (D)清明節
- () 5. 右圖中何地區工業發達，同時也是日本的政治、經濟中心？ (A)甲 (B)乙 (C)丙 (D)丁。
- () 6. 若中國橫斷山脈的河川受到汙染，將影響到下游的用水和生態環境。請問：下列何處會受到影響？ (A)中南半島 (B)印度半島 (C)朝鮮半島 (D)南洋群島。
- () 7. 印度與哪個國家，因宗教的差異與喀什米爾領土主權問題，長期發生爭執？(A)不丹 (B)尼泊爾 (C)孟加拉 (D)巴基斯坦。
- () 8. 印度發展軟體工業的有利條件主要為哪些？(甲)使用英語(乙)工資低廉(丙)社會平等(丁)海運便利 (A)甲乙 (B)丙丁 (C)甲丁 (D)乙丙。
- () 9. 波斯灣阿拉伯國家的內鬥，進入白熱化對抗！沙烏地阿拉伯、阿拉伯聯合大公國、巴林、葉門與埃及等五國，6月5日上午突然同步對卡達發出「斷交公告」，這將影響卡達輸出石油，造成國際油價飆漲，請問哪一國因產油豐富，比較「不受」影響？(A)南韓 (B)汶萊 (C)台灣 (D)日本。
- () 10. 日本地區降水量較同緯度的中國多，氣溫也較暖活，主要原因為何？ (A)多火山 (B)地勢高 (C)日照長 (D)四面環海
- () 11. 南亞恆河平原和中國鄱陽盆地的緯度相近，但一月的月均溫，恆河平原卻比鄱陽盆地高 10°C 左右。形成上述差異的原因，主要是因為恆河平原具備下列何項特性所致？ (A)境內湖泊眾多 (B)北有高山屏障 (C)午後多對流雨 (D)太陽輻射較強
- () 12. 印度半島阿薩姆邦的茶葉遠近馳名，根據印度半島的地形及自然環境特色而言，附圖中哪一個地區為茶葉的主要盛產地區？ (A)甲 (B)乙 (C)丙 (D)丁
- () 13. 人工智能AlphaGoy在5月25日，擊敗中國世界圍棋冠軍柯潔，顯現人工智慧的蓬勃發展。其中哪一個高度發展的國家正面臨高齡化，積極發展智慧型機器人？ (A)印度 (B)緬甸 (C)日本 (D)不丹。
- () 14. 1990 到 2008 年期間，北韓在「全球飢餓指數」惡化的排名中位居第二。造成北韓糧產不足，常有饑荒的問題，除了政治制度的影響外，與下列何項自然因素關係最密切？ (A)颱風侵襲次數多 (B)生長季短、平原少 (C)火山活動與地震頻繁 (D)年降水量少於 500 毫米
- () 15. 菲律賓「」因遭親伊斯蘭國 (IS) 武裝分子佔領，總統杜特蒂下令戒嚴 60 天，並與對方展開武力交鋒，請問「」指的應該是哪個以伊斯蘭信仰為主的島嶼？(A)呂宋島 (B)峇厘島 (C)普吉島 (D)民答那峨島。
- () 16. 向「看見台灣」齊導致敬，「看見台灣 2」開拍，環境問題無國界，齊導視野延伸至台灣附近五國，空拍馬來西亞的婆羅洲雨林大規模被開發，種滿了熱帶經濟作物，最可能是下列何者？(A)橡膠 (B)小麥 (C)棉花 (D)甜菜。



- ()17. 熱帶栽培業為東南亞重要產業活動。請問：該產業活動特色主要為下列何者？ (A)生產糧食作物 (B)作物自給為主 (C)大量生產外銷 (D)高度機械化。
- ()18. 東南亞的大都市，如雅加達、曼谷、胡志明市、新加坡等，大都是屬於何種機能？ (A)港埠型都市(B)綠洲城市 (C)宗教聖地 (D)軍事要地。
- ()19. 東南亞的人文景觀十分豐富，充滿多元文化的特性。請問：這種現象和該地區何種地理條件的關係最大？ (A)氣候 (B)位置 (C)面積 (D)產業。
- ()20. 印度半島位於亞洲，它有「亞洲次大陸」之稱。這個稱呼是因為印度半島在下列哪一方面自成範圍？ (A)水系 (B)地形 (C)氣候 (D)宗教。

二、題組(每題2分)(共60分)

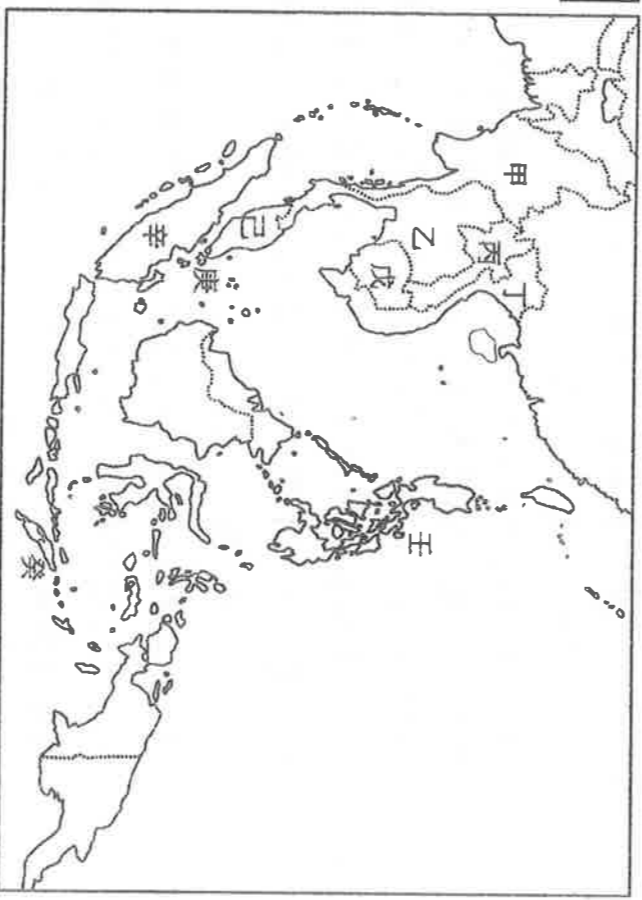
依自然與人文環境特色，亞洲可分為東亞、東北亞、東南亞、南亞、西亞、中亞及北亞七大區，請參考附圖，回答問題

- ()21. 「位於亞洲東南部，緯度較低，氣候溼熱，四季如夏；島嶼多，國家數眾多。」上面所敘述的是圖中哪個地區？ (A)ㄅ (B)ㄆ (C)ㄷ (D)ㄱ
- ()22. 「位於亞洲大陸南側，北有喜馬拉雅山，東、西、南三面相鄰印度洋，主要範圍包括印度半島、錫蘭島及馬爾地夫群島。」上面所敘述的是圖中哪個地區？ (A)ㄆ (B)ㄷ (C)ㄱ (D)ㄱ
- ()23. 上圖ㄆ介於歐亞大陸之間，自古其交通戰略位置相當重要。請問：ㄆ是指亞洲哪個地區？ (A)南亞 (B)中亞 (C)東北亞 (D)東南亞。



附圖東南亞地形圖，甲~癸為各國代號。

- ()24. 魚尾獅為其著名地標，地控麻六甲海峽，有「東方直布羅陀」之稱。(A)戊(B)己(C)庚 (D)辛。
- ()25. 中南半島唯一的內陸國家(A)甲 (B)乙(C)丙 (D)丁。
- ()26. 位於中南半島，受中華文化影響最深遠(A)甲 (B)乙 (C)丙 (D)丁。
- ()27. 全境位於南半球，是東南亞最晚獨立的國家(A)庚(B)辛(C)壬(D)癸。
- ()28. 位於太平洋颱風路徑，夏、秋常受颱風侵襲。(A)庚(B)辛(C)壬(D)癸。



2017年3月10號，大韓民國憲法法庭做出罷免朴槿惠「前」總統之決定，這是因其濫用職權、共謀收取賄款、涉嫌洩漏國家機密等，其中最令年輕人有感的就是高達25億台幣的賄款。

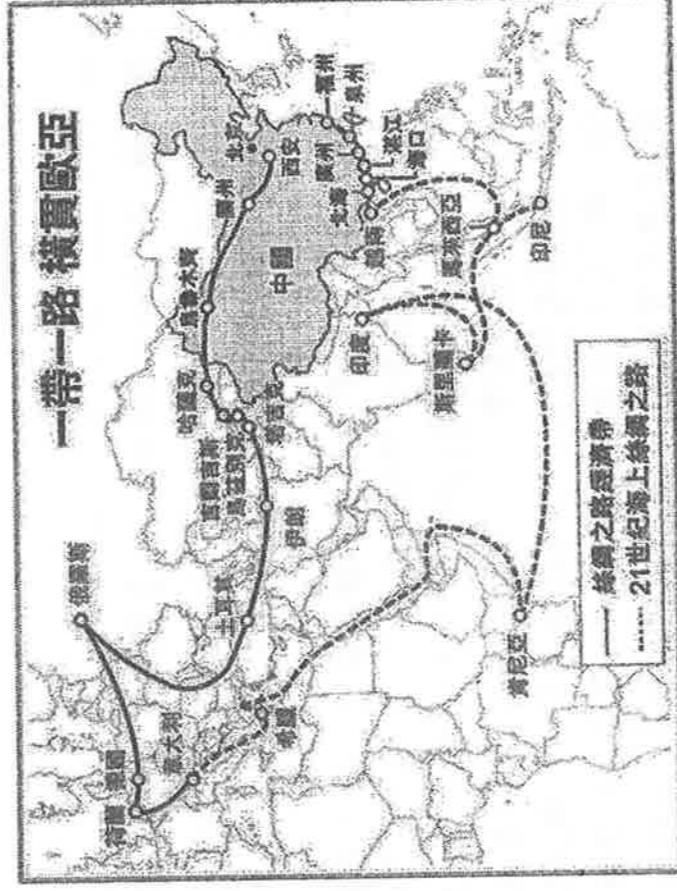
- () 29.張夏成在最新著作《憤怒韓國》中分析，韓國貧富差距已阻礙了經濟成長，演變成社會結構性的矛盾，這是因為南韓經濟發展的主要原動力來自於下列何者？ (A)外資企業 (B)中資企業 (C)大型財團 (D)中小企業。
- () 30.朴槿惠被罷免的當天，南韓品牌的新手機上市銷售，短短三天就賣超過三萬支，因而被南韓網友暱稱此手機為「彈劾紀念機」，請問此品牌指的是？(A)sony (B)hTC (C)Apple (D)三星

「韓國聯合通訊社」報導，據韓國聯合參謀本部6月8日消息，北韓8日清晨在江原道元山一帶，再度朝向半島東部海域發射多枚疑似地对艦導彈的飛行物，這是北韓自5月29日以來，時隔10天再次試射彈道導彈。

- () 31.北韓因為下列何種因素的影響，以重工業及軍事工業為發展重點？(A)政治制度 (B)出口貿易 (C)技術進步 (D)勞工眾多。
- () 32.請問北韓試射的海域應該為何？ (A)黃海 (B)南海 (C)日本海 (D)對馬海峽。
- () 33.北韓試射飛彈使南北韓的關係，更形惡化，請問：南韓、北韓約定的停戰線，約為幾度？
(A)北緯38度 (B)南緯38度 (C)東經38度 (D)西經38度
- () 34.有「東亞橋樑」之稱的朝鮮半島，主要因溝通哪兩個國家而地位重要？(A)中-俄 (B)中-日 (C)中-越 (D)日-俄

2017/05/15 習近平出席「一帶一路」國際合作高峰論壇宣布，將對「一帶一路」沿線國家提供建設資金的絲路基金，增資約4400億元台幣，最終投資將達約27兆台幣的一帶一路計畫，將是全球史上單一國家發起的最大規模的海外投資行動。

- () 35.海上絲路中，經由東南亞、南亞至歐洲，主要要是加強和哪一海域的貿易運輸？(A)印度洋 (B)太平洋 (C)大西洋(D)北極海
- () 36.在海上絲路的沿線上，某雜誌報導2004年1月至9月海盜最常出沒於麻六甲海峽，與該地區哪項特徵最有關係？ (A)峽灣地形發達(B)寒暖流交會帶(C)年降雨量充沛 (D)位居交通要道。
- () 37.中國計畫在泰國的克拉地峽開鑿運河航行，此舉將嚴重影響哪一國在此區的轉口貿易地位？(A)越南(B)汶萊(C)新加坡(D)菲律賓。



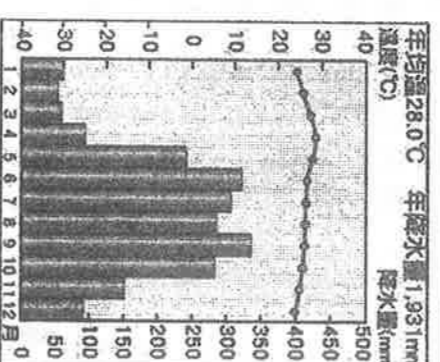
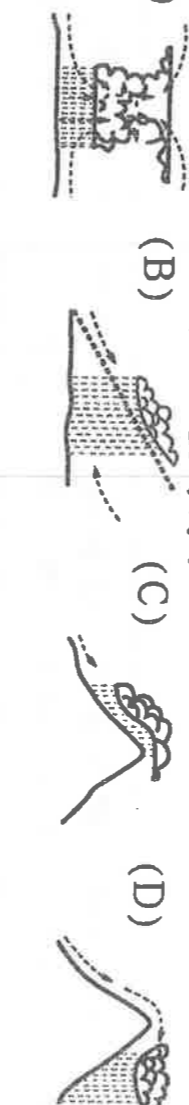
附圖為板塊示意圖，請根據此圖回答下列問題

- () 38.造成西元2004年南亞大海嘯的主要成因，與哪兩個板塊的擠壓運動有關？ (A)甲乙 (B)甲丙 (C)甲丁 (D)丙丁
- () 39.東南亞哪個國家常有火山活動和地震，且與臺灣位處相同的板塊接觸帶？ (A)印尼 (B)菲律賓 (C)東帝汶 (D)馬來西亞
- () 40.南亞主要位於哪個板塊上？ (A)甲 (B)乙 (C)丙 (D)丁
- () 41.關於板塊名稱與代號的配對，下列何者正確？
(A)甲—歐亞板塊 (B)乙—太平洋板塊 (C)丙—印澳板塊 (D)丁—菲律賓海板塊



右圖為東南亞某地的氣候圖，請問：

- () 42.下列對於此地氣候的敘述，何者正確？ (A)乾溼季分明 (B)終年多雨 (C)四時皆夏、年溫差大 (D)冬暖夏涼
- () 43.依圖判斷，此地應為何種氣候類型？(A)熱帶雨林 (B)熱帶季風 (C)熱帶沙漠 (D)溫帶海洋
- () 44.承上題，該地主要的降雨類型為何？
(A) (B) (C) (D)
- () 45.依此判斷，此地最可能位於哪一國家？(A)越南 (B)印尼 (C)不丹 (D)巴基斯坦



阿米爾·罕 (Aamir Khan)，印度著名電影演員、導演、製作人，他主演過許多部賣座的印度佳片如《心中的小星星》、《三個傻瓜》、《來自星星的傻瓜PK》、《我和我的冠軍女兒》等，被《時代雜誌》稱為「印度的良心」，以表彰他在印度以自身的影響力改善社會陋習與公共政策的努力。

- () 46.印度電影以寶萊塢電影最具特色，除了華麗的歌舞外，還忠實呈現民眾的日常生活特色，請問此電影工業主要位於哪一城市？(A)孟買(B)德里(C)加爾各答(D)邦加羅爾
- () 47.《來自星星的傻瓜PK》一片中，可看出印度宗教派系龐大，但大多數人主要信仰何種宗教，因此生活深受其影響？ (A)佛教 (B)印度教 (C)基督教 (D)伊斯蘭教。
- () 48.《榮耀之役》是一部以板球為題材，探討印度與○○間殖民關係的電影，請問○○最有可能是哪一國？(A)美國(B)英國(C)荷蘭(D)西班牙
- () 49.直指教育制度問題的《三個傻瓜》，反映社會上對工程師的重視，哪一個都市因為軟體工業相當發達，因此被稱為「印度矽谷」？(A)孟買(B)德里(C)加爾各答(D)邦加羅爾
- () 50.《我和我的冠軍女兒》反映了印度重男輕女的社會，以下何者「不是」印度社會的問題？(A)人口眾多 (B)文化複雜 (C)人民富裕 (D)種姓制度。