

北興國中 105 學年度第二學期第三次段考歷史科二年級 班 座號： 姓名：

1. 陳奶奶回憶說：「在那個年代，市面流通著各種貨幣，後來政府廢除銀兩，規定一律改用銀元；再過一陣子，政府規定只能用指定銀行發行的紙幣，終於解除了幣制混亂的局面。」陳奶奶描述的應是下列哪一時期？ (A)民國 17~26 年黃金十年 (B)民國 26~34 年八年抗戰 (C)民國 35~38 年國共內戰 (D)民國 62~68 年十項建設。

2. 承上題，上述被指定發行法幣的銀行不包括下列何者？ (A)中央銀行 (B)農民銀行 (C)台灣銀行 (D)交通銀行。

3. 有一部電影劇情如下：「祥子回到故鄉，那裡充斥著『破四舊、立四新』的標語，他看到村長被劃分為『地主』階級而遭受殘酷的公審。後來，祥子的妻子難產，醫院裡的醫生們卻已在『打倒學術權威』的口號下被迫離開……。」這部電影的時空背景最可能是下列何者？ (A)國共內戰下的臺灣 (B)軍閥混戰時期的華北 (C)滿洲國成立後的東北 (D)文化大革命時期的中國。

4. 附圖是現存於國史館中的一件國民政府檔案，時間為民國 29 年 4 月 1 日。請根據圖中的內容，回答問題：檔案中提到「奉中央執行委員會函」，反映了當時國民政府必須尊奉中國國民黨中央執行委員會的意見，這代表什麼意涵？ (A)軍政體制延續 (B)訓政體制結束 (C)訓政體制延續 (D)憲政體制完成。



事由：奉中央執行委員會函為第一四三號常會決議，專稱 總理為中華民國國父一案通令遵照

5. 承上題，此時中華民國政府位於何處？ (A)重慶 (B)廣州 (C)南京 (D)北京。

6. 圖一、圖二兩幅漫畫，是描繪二十世紀初年，一個出生在中國大陸，成長到六十多歲的人，他的一生所面臨的不同遭遇。請問綜合兩圖的敘述，下列何者正確？ (A)圖 1 是指五四運動 (B)圖 2 是指新文化運動 (C)圖 1「背書」是指毛語錄 (D)圖 2「背書」是指毛語錄。



▲圖1

▲圖2

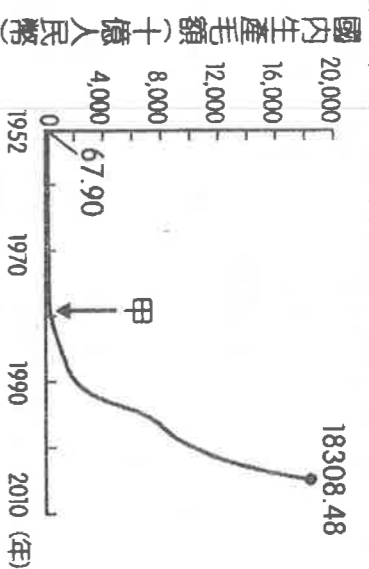
7. 小琳的村子裡有一幅壁畫，旁邊題了一首打油詩「肥豬賽大象，就是鼻子短，全社殺一口，足夠吃半年」，宣傳 1958 年中國開始進行的某項運動成果。請問：這項運動的名稱為何？(A)文化大革命 (B)大躍進 (C)土地改革 (D)抗美援朝。

8. 小寧對民國 6 年至 17 年的政治情勢，做了一些整理，下列哪一個選項，是他最有可能的結論？ (A)袁氏稱帝，民主夢碎 (B)軍閥割據，列強干政 (C)黎段爭執，溥儀復辟 (D)實施訓政，十年建設。

9. 老師在課堂上要同學以「八年抗戰」(西元 1937~1945 年)的歷史為背景，進行角色扮演。下列哪一位同學應是扮演當時國民政府官員的角色？ (A)阿中：「為了結束戰爭，我們不得不在當地投下原子彈。」 (B)阿民：「我們利用對外戰爭壯大了勢力，最後終於取得中國的政權。」 (C)阿華：「這次戰爭使我們控制東亞的夢想破滅，傷亡慘重，最後宣布投降。」 (D)阿國：「這戰爭使我們與各國另訂平等新約，解脫百年來不平等條約的束縛。」。

10. 附圖呈現中國 1952 年至 2005 年國內生產毛額的數據資料。圖中曲線從甲處後有明顯變動的情

況，最可能與下列何者有關？(A)利用韓戰爆發契機，提高進口關稅 (B)大躍進提倡生產，民眾盡全力煉鋼 (C)發動文化大革命，進行全面的改造 (D)實施改革開放政策，引進外來資金



11. 毛毛在書中看到一段話：「民國 20 年，日軍自行炸毀瀋陽附近的一段鐵路，然後藉口是中國軍隊所為，立即發兵進占東北。由此可知日本對中國的侵略野心。」以上的內容，敘述的應該是下列哪一事件的發生經過？ (A)五三慘案 (B)七七事變 (C)九一八事變 (D)一二八事變。

12. 「1960 年代是一個社會內部衝突與對抗的年代。在此期間，美國種族衝突日益激烈，為了對抗種族隔離措施，黑人民權運動在各地展開，促使國會通過法案，確保少數族裔獲得在法律及政治上的平等地位；中國則因領導階層的權力爭奪，鼓動青年學生，在「革命無罪，造反有理」的口號下，展開一連串的破壞行動；捷克領導人提倡改革，放寬經濟與政治的管制，受到廣大民眾的支持，但「老大哥」嚴厲禁止其改革，領導華沙公約組織出兵捷克，加以鎮壓。」請問：根據上文對中國的描述，當時中國最可能出現下列哪一景象？ (A)政府鼓勵民眾交出鐵製品，供國家煉鋼 (B)派遣軍隊前往朝鮮半島，援助北韓作戰 (C)國家推動改革開放，在深圳設經濟特區 (D)紅衛兵四處鬥爭，毀損歷史文物和書籍。

13. 各地所採用的時區及標準時間名稱，有時會隨著當地的政治勢力改變而有所不同。附圖為 20 世紀時，某座城市在十餘年內所屬時區及標準時間名稱的轉變。此城市最可能為下列何者？ (A)香港 (B)臺北 (C)重慶 (D)瀋陽。



14. 「某年，美國空軍飛臨敵區臺灣進行偵查空照，並於年底開始對臺灣各地的市街、車站、糖廠進行轟炸，臺灣西部縱貫公路與鐵路受創嚴重。」上述情況的發生，與下列何者關係最密切？ (A)韓戰 (B)盧溝橋事變 (C)珍珠港事變 (D)美國與中華民國斷交。

15. 八年抗戰前，中共為了解除來自國民政府的威脅，提出「自己人不打自己人」、「停止內戰一致抗日」等口號，影響當時擔任西北剿共主力的指揮官，由該軍官發動軍變，改變日後政局的發展。這是史上哪一事變？ (A)九一八事變 (B)一二八事變 (C)西安事變 (D)盧溝橋事變。

16. 承上題，發動該事變的將領為何人？ (A)張學良 (B)蔣中正 (C)吳佩孚 (D)汪兆銘。
17. 強調「不管黑貓白貓，能捉老鼠的就是好貓」，因而推動改革開放的是哪一位中共領導人？

(A)周恩來 (B)毛澤東 (C)胡錦濤 (D)鄧小平。

18. 如果要製作一份中共在 1949 年之後的大事年表，下列哪件事不該被放進這份年表中？

(A)在沿海建設經濟特區 (B)進入聯合國取代中華民國席次 (C)因為朝鮮問題與美國發生韓戰 (D)與國民黨達成一致抗日的合作協議。

19. 有一首對毛澤東崇拜的歌曲歌詞是：「天大地大，不如共產黨恩情大；河深海深，不如毛主席恩情深……。」請問這首歌曲應該是在下列哪時期創作的？ (A)二萬五千里長征時期 (B)三面紅旗時期 (C)文化大革命時期 (D)四個現代化時期。

20. 春嬌提出了幾個線索「山東」、「日本」、「北伐」，她要志明猜一件近代中國的史事。請你幫志明從下列選出最可能的答案為何？ (A)五三慘案 (B)七七事變 (C)一二八事變 (D)九一八事變。

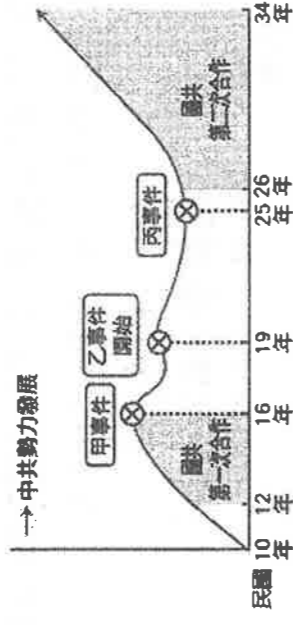
21. 「百年老店」的中國國民黨，它的前身是從興中會到同盟會的革命組織，到民國建立後才轉型為現代政黨的形式。請問：有關中國國民黨在民初名稱的演變，下列何者正確？ (A)中華革命黨→國民黨 (B)國民黨→中國國民黨 (C)中國國民黨→中華革命黨 (D)國民黨→中國國民黨→中國國民黨。

22. 孫中山憑藉外國的援助，成立黃埔軍校，培養革命武力。當時這所學校的創建地位於下列何處？ (A)廣州 (B)武漢 (C)上海 (D)北京。

23. 承上題，此處所稱的外國勢力是指何國？ (A)美國 (B)日本 (C)英國 (D)蘇俄。

24. 中國國民黨與中國共產黨的分分合合，影響著現代中國的歷史發展，請參閱附圖回答問題：

圖中甲事件的出現，不僅造成中共勢力發展的挫折，也導致第一次國共合作的結束。請問：甲事件為何？ (A)五四運動 (B)清黨分共 (C)濟南事件 (D)西安事變。



25. 承上題，中共的生存曾面臨嚴重威脅，卻因丙事件的爆發，使搖搖欲墜的中共轉危為安。請問：丙事件為何？ (A)聯俄容共 (B)濟南慘案 (C)日侵東北 (D)西安事變。

26. 孫中山遺囑上稱「革命尚未成功，同志仍須努力」。孫文推翻滿清後，革命之所以尚未成功的主要原因障礙是下列何者？ (A)軍閥 (B)漢奸 (C)共產黨 (D)帝國主義者。

27. 民國十五年國民革命軍誓師北伐，至民國十七年完成全國統一，這期間曾發生下列事件：

(甲)東北軍歸順(乙)寧漢分裂(丙)五三慘案(丁)廣州成立國民政府。依其發生順序排列，下列何者正確？ (A)甲乙丙丁 (B)丁乙丙甲 (C)乙丁甲丙 (D)丙丁甲乙。

28. 電視劇播出「中國演義：北伐除軍閥」節目，內容為國民革命軍北伐過程的描述。以下哪位軍閥不是劇中被討伐的對象？ (A)毛澤東 (B)張作霖 (C)孫傳芳 (D)吳佩孚。

29. 北伐統一後，國民政府宣布國家進入「新的時期」，並擬定哪個法案，作為該時期國家的根本大法？ (A)《新約法》 (B)《訓政時期約法》 (C)《臨時約法》 (D)《中華民國憲法》。

30. 張學良在蔣中正去世時，曾寫下一幅輓聯：「關懷之殷，情同骨肉；政見之爭，宛若仇讎。」輓聯中所說的「政見之爭」，指的是他和蔣中正之間對於何事的看法不同？ (A)統一中國 (B)聯俄容共 (C)剿共安內 (D)清黨分共。

31. 清宣統皇帝一生當中，一共登基三次，可謂「前無古人，後無來者。」下列哪個登基事件與溥儀無關？ (A)接續光緒皇帝即位 (B)洪憲帝制登基 (C)復辟事件登基 (D)滿州國登基。

32. 查理是國際聯盟的高級官員，西元1931年，他收到來自中國的申訴信，內容是中國對於某國於該年度的侵略提出嚴正抗議。該侵略國是下列何者，侵略的地點又是何處？ (A)德國、山東 (B)日本、東北 (C)俄國、甘肅 (D)英國、湖南。

33. (甲)九一八事變(乙)七七事變(丙)五三慘案(丁)一二八事變，上述為日本侵略中國而引發的事件，若依時間先後排列，何者正確？ (A)甲乙丙丁 (B)丁丙甲乙 (C)丙甲丁乙 (D)乙丙甲丁。

34. 剿共期間，國民黨對共產黨進行五次的大圍剿，迫使共產黨不斷地更換根據地。關於共產黨逃竄的起訖點，應為下列何者？ (A)瑞金到成都 (B)南京到延安 (C)湖南到廣州 (D)瑞金到延安。

35. 電影「色戒」中描述抗戰時期，親日南京國民政府中某位情報頭子和女學生的愛情故事。此時

南京國民政府的首腦為以下何人？ (A)汪兆銘 (B)溥儀 (C)張學良 (D)蔣中正。

36. 在八年抗戰期間，列強同意取消在中國的特權，並於民國三十二年與中國訂立平等新約，使中國擺脫了百年來不平等條約的束縛。近代中國第一個不平等條約是下列何者？ (A)南京條約 (B)北京條約 (C)馬關條約 (D)辛丑和約。

37. 承上題，此次平等新約的簽訂，中國收回各項損失利權，其中哪一項利權是在此之前即已取回的？ (A)租界 (B)領事裁判權 (C)片面最惠國待遇 (D)關稅協定。

38. 下列何者不是經濟發展與改革開放為中國帶來的負面影響？ (A)沿海發展漸漸沒落 (B)環境衛生問題嚴重 (C)大量人口往都市地區集中 (D)男女人口失衡。

39. 上海是中國較早步入近代化的大城市，下列關於它的敘述，何者有誤？ (A)曾是鴉片戰爭後開放的通商口岸之一 (B)曾是一二八事變發生地點 (C)國民黨曾在此展開「清黨」 (D)改革開放後，是最早被列為經濟特區的城市之一。

40. 一哥在研究中國近代史時，發現許多宣傳口號和流行語言，常能鮮活地反映時代大事或趨勢。

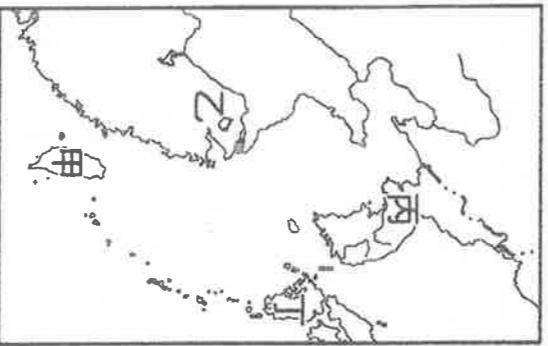
如：(甲)破四舊、立四新(乙)超英趕美大躍進(丙)四個現代化(丁)抗美援朝。上述代表性的宣傳語，便反映中共在政策上的變化歷程。依其出現的先後，應如何排列？ (A)甲丙丁乙 (B)乙丁甲丙 (C)丙甲丁乙 (D)丁乙甲丙。

41. 文化大革命中紅衛兵喊出「破四舊」的口號及行動，與中國史上的哪個事件最為相似？ (A)三藩之亂 (B)黃巢之亂 (C)太平天國之役 (D)安史之亂。

42. 安安正進行關於中共「大躍進」的研究。她的哪項推論是錯誤的？ (A)大躍進運動開始於西元1968年 (B)大躍進運動的主要目的是超英趕美 (C)大躍進運動是毛澤東提出來的 (D)土法煉鋼的結果是失敗的。

43. 臺灣情報人員笨笨若回報有關1960年中國的情資，他可能會報告以下何種事件？ (A)大批軍隊正開往北韓 (B)各地皆在進行批鬥大會，攻擊醫生與老師等知識分子 (C)各地饑荒情形加重，餓死人的場景屢見不鮮 (D)經濟特區吸引大批外資設廠製造。

44. 歷史老師告訴同學：「1950年代的某場戰爭，使得美國派遣第七艦隊協防臺灣，穩定我國在臺灣的政經局勢。這場戰爭的中共戰俘也歸降我國，我國政府遂將該日訂為自由日，大肆宣傳。」該戰的地點位於附圖中何處？ (A)甲 (B)乙 (C)丙 (D)丁。



45. 鬼鬼研究臺灣人口數量變遷時，發現民國三十年代末期，總人口急速上升，鬼鬼對此做出四種推論，其中只有何者符合史實？ (A)原在中國作戰的日軍轉移至臺灣 (B)國民政府要求福建沿海居民移民臺灣從事生產 (C)國民政府於國共戰爭中失利，率眾遷臺 (D)二次大戰後政府獎勵「多子多孫多福氣」的增產運動。

46. 電視頻道播出「國共內戰」節目，但因中英文翻譯的錯誤及排版人員的粗心，導致民眾對歷史的混淆。該節目內容哪項才是正確的？ (A)一次大戰後國共再次對決 (B)中共接收美國所占據的東北，導致勢力強大 (C)國民政府的財政問題，是導致內戰失利的原因之一 (D)中共在宣布

對國民政府全面動員戡亂後，打贏這場戰爭。

47. 下列關於八年抗戰的敘述，何者不正確？ (A)「七七事變」為抗戰爆發的導火線 (B)抗日期間，日軍扶持成立「滿洲國」，採取「以華制華」策略 (C)抗日期間，與英、美同盟國簽訂平等新約 (D)抗日期間，因爆發「珍珠港事變」，中國開始與同盟國共同作戰。

48. 附表為民國 26 年至 37 年間，中共軍隊和統治人口數的變化，請問民國 34 年至 37 年，中共軍隊人數仍持續增加原因為何？ (A)中共長征 (B)西安事變 (C)日軍侵華 (D)國共內戰。

| 時間 | 共軍 人數 | 統治 人口數 |
|------------|----------|-------------|
| 民國 26 年 | 10 萬 | 100 萬 |
| 民國 34 年 | 100 萬 | 1 億 |
| 民國 37 年 | 250 萬 | 1 億 5 千萬 |

49. 承上題，當時最支持中共的應為下列何者？ (A)城市中的工商業者 (B)農村中的貧窮農民 (C)政府中的高官大員 (D)軍隊中的愛國士兵。

50. 『資料一：5 月 4 日，超過 10 萬人集會遊行，要求民主自由，隨後在天安門廣場靜坐絕食。5 月 20 日，中共宣布戒嚴，下令軍隊進駐北京，「清理」天安門廣場，但因市民一再抵制而徒勞無功。至 6 月 4 日凌晨，武裝部隊以重型坦克為前導，進行鎮壓，造成慘重傷亡。此後，中國的「第五個現代化」，仍然只是口號。(節錄自鄭竹園，大陸政經巨變與中國前途)』

『資料二：西元 1989 年 5、6 月間的事件，為「一小撮人」，「利用學生不滿以發動一個有計畫、有組織、有預謀的政治動亂，進而在首都北京發展成反革命暴亂。他們目的在推翻中國共產黨的領導並顛覆社會主義中國。」這不是一場普通的學生運動，而是一個想要否定中國共產黨領導與社會主義體制的政治動亂。(節錄自北京市市長陳希同，關於制止動亂和平息反革命暴亂的情形報告)』

綜合以上兩段資料的敘述，下列何者正確？ (A)毛澤東是當時的中共領導人 (B)兩份資料的立場與觀點相同 (C)都是指「六四天安門事件」 (D)當時政治改革，但經濟保守。

