


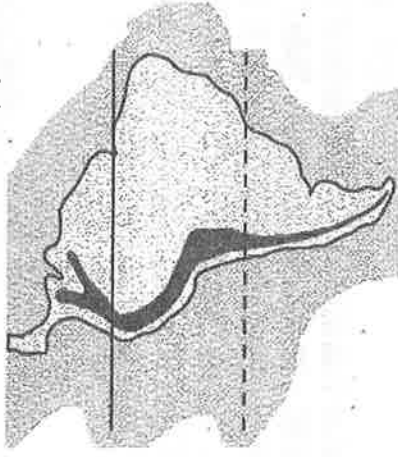
# 嘉義市立北興國中 105 學年度第一學期地理科 3 年級第三次段考

一、選擇：(每題 2 分，共 40 分)

- ( ) 拉丁美洲的委內瑞拉因何種礦產資源豐富，為 OPEC 的重要會員國，其礦產的開發對當地經濟與生活影響相當大？(A)鐵礦(B)黃金(C)石油(D)煤礦。
- ( ) 北美大平原「南部」可見到一望無際的平原分布，這些平原的主要成因為何？(A)斷層陷落 (B)風力侵蝕 (C)冰河侵蝕 (D)河川沖積。
- ( ) 美國隊長為電影工作者，在年假時前往美國電影重鎮取經，拍下當地最著名的地標(如附圖所示)。請問：美國隊長是前往美國哪個都市？ (A)甲 (B)乙 (C)丙 (D)丁。



- ( ) 如下簡圖。根據資料判斷，圖中虛線緯度可能通過下列哪一個氣候區？ (A)熱帶雨林 (B)溫帶海洋性 (C)溫帶大陸性 (D)熱帶沙漠。



- ( ) 若依位置差異，將美洲分為「中美洲」和「南美洲」兩部分，則分界線大致是哪兩個國家的國界？ (A)美國和加拿大 (B)美國和墨西哥 (C)巴拿馬和哥倫比亞 (D)巴拿馬和哥斯大黎加。
- ( ) 巴拿馬運河是世界唯一的聯洋運河，關於該運河的敘述，下列何者錯誤？ (A)連接太平洋與印度洋 (B)切穿中美地峽 (C)設置水閘控制水位 (D)位於巴拿馬境內。
- ( ) 「中南美洲的居民組成複雜，有些國家以原住民為主，有些則以混血較多。混血又以白人與原住民的混血占最多數。」上文所指的「白人」，最可能是來自下列何地的後裔？ (A)美國 (B)英國 (C)法國 (D)葡萄牙。
- ( ) 美國的加州以生產的葡萄及葡萄酒而得名。其產量高居全美第一，是全球重要的農業出口區。請問：此地大致位於哪個氣候區？ (A)溫帶海洋性氣候 (B)溫帶地中海型氣候 (C)溫帶大陸性氣候 (D)夏雨型暖溼氣候。
- ( ) 南美洲的氣候，以熱帶氣候區分布最廣。下列何者是解釋這種現象形成的最適當因素？ (A)東西兩側都有暖流經過 (B)地勢低平相對氣溫較高 (C)火山活動劇烈地表氣溫較高 (D)陸地最寬廣的部分接近赤道。
- ( ) 西元 2005 年，美國新奧爾良市遭受有史以來最大颶風，造成市區大淹水，以及無數的傷亡。請問：此一大災害最可能發生於下列哪個時間？ (A)2 月 (B)4 月 (C)8 月 (D)12 月。
- ( ) 馬英九前總統自西元 2008 年 5 月就職以來，出訪友邦共五次，資料如附表所示。除了最後一次以太

平洋友邦為主外，其餘四次的出訪國家多集中在下列哪個地理區？ (A)安地斯山脈 (B)西印度群島 (C)亞馬孫流域 (D)中美地峽。

日期	出訪國家
2008 年 8 月	巴拿馬、巴拉圭、多明尼加
2009 年 5 月	薩爾瓦多、瓜地馬拉、貝里斯
2009 年 7 月	巴拿馬、尼加拉瓜
2010 年 1 月	宏都拉斯、多明尼加
2010 年 3 月	馬紹爾群島共和國、吉里巴斯共和國、吐瓦魯、諾魯共和國、索羅門群島及帛琉共和國

- ( ) 世界著名小說《湯姆歷險記》是敘述住在美國的小男孩湯姆，順著密士失必河漂流，一路上的冒險故事。請問：湯姆沿途所見到的地形大多為下列何者？ (A)高而多起伏的高原 (B)平坦遼闊的平原 (C)山峰重疊的山地 (D)起伏有序的丘陵。

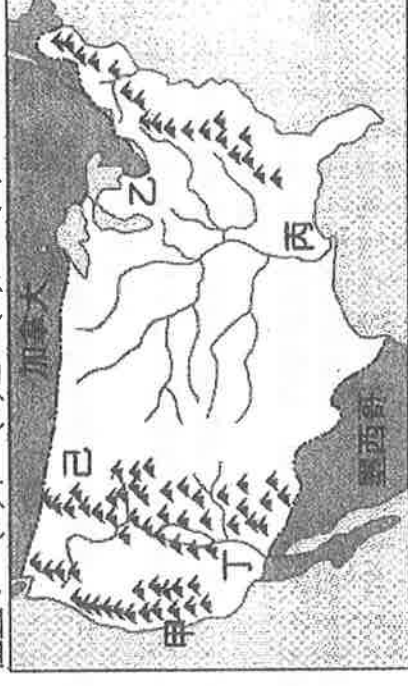
- ( ) 周子瑜在自己的部落格寫著：「因為工作關係，我目前住在美國的第一大都市，窗邊可眺望遠處的自由女神像。這個都市被暱稱為『大蘋果』，有名的時代廣場上各式人種行色匆匆，周圍大幅的電視牆令我眼花撩亂，今晚我就要到夢想中的百老匯觀賞音樂劇，真是興奮啊！」從文字敘述可知，周子瑜居住在下列哪個都市？ (A)紐約 (B)華盛頓 (C)洛杉磯 (D)西雅圖。

- ( ) 「拉斯維加斯是著名的賭城，位居美國西南部內華達州南端的小綠洲上，西接加州的死亡谷，南接亞利桑那州的大沙漠，東接大峽谷，處於各大沙漠中央，氣候炎熱乾燥，居民賴服務業維生。」請問：上述中的沙漠，其形成的主要原因為何？ (A)加州涼流經過 (B)位居背風坡 (C)地勢高聳 (D)副熱帶高氣壓籠罩。

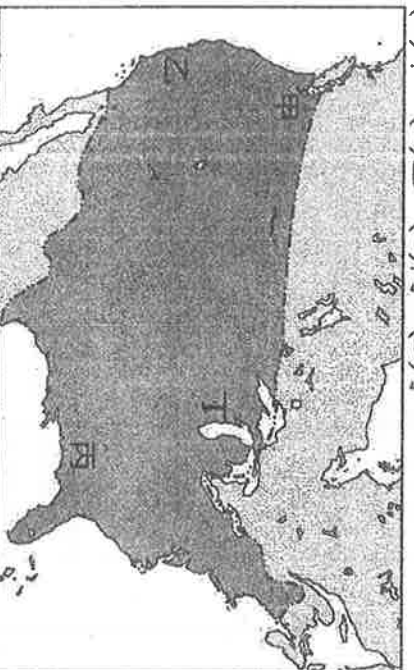
- ( ) 根據聯合國的資料顯示，拉丁美洲境內某四個國家的產業結構特色如附表所示。請問：表中哪個國家最可能為墨西哥？

國家	(A)	(B)	(C)	(D)
主要產業	航運	香蕉、咖啡、蔗糖	鋼鐵	汽車、電子產品

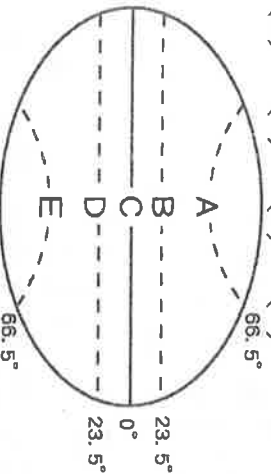
- ( ) 美國太空總署所發射的太空梭，預計將降落在亞利桑那州的沙漠。請問：太空梭應降落在附圖中哪個位置？ (A)甲 (B)乙 (C)丙 (D)丁。



17. ( ) 宋仲基利用暑假到美國遊學，出發時因颱風侵襲臺灣，使得班機延誤甚久，沒想到抵達美國時又遇到颶風影響，飛機在狂風暴雨中降落，十分驚險。請問：宋仲基的遊學地點最可能位於附圖中的何地？  
(A)甲 (B)乙 (C)丙 (D)丁。



18. ( ) 附圖為地球緯線簡圖。圖中哪條緯線經過北美洲？  
(A)A (B)B (C)C (D)D。



19. ( ) 北美大平原地區的農民，通常只生產一種農產品，收穫後將農產品全部運往市場銷售，再從市場購回所需的各類物品。這種農業經營方式最符合下列哪種概念？ (A)集約化 (B)商品化 (C)機械化 (D)全球化。

20. ( ) 小說《白鯨記》描述西元 1820 年一艘捕鯨船在南太平洋遭到抹香鯨攻擊的始末。該船的航行日記大致如下：「從美國東北角的家鄉出發後，順著(甲)福克蘭寒流向東航行，後又順著加那利涼流與東北信風南下，越過赤道後，沿著(乙)阿拉斯加暖流南下，經過南美洲最南端，受到強勁(丙)季風的影響，千辛萬苦地穿越麥哲倫海峽，之後才順著(丁)智利沿岸，到達太平洋東南漁場，卻不幸遭到鯨魚衝撞，最後僅二人獲救。」日記中所描述的情節，何處最為合理？ (A)甲 (B)乙 (C)丙 (D)丁。

二、題組：(每個答案 2 分，共 60 分)

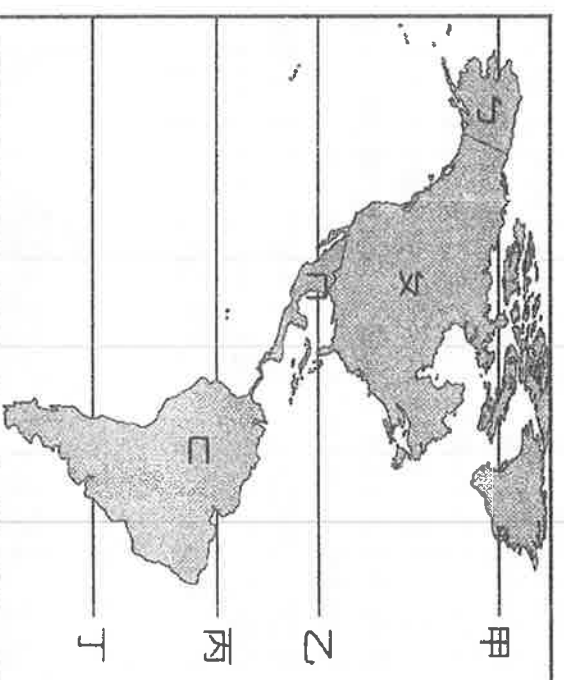
- (一)附表為西元 2014 年各國都市化程度比較表。請回答下列問題：

國家	都市人口比例 (%)
委內瑞拉	89
烏拉圭	95
阿根廷	92
智利	89
巴西	85
美國	81
英國	82

- ( ) 21.表中不是位於南美洲的國家有幾個？ (A)2 個 (B)3 個 (C)4 個 (D)5 個。  
( ) 22.中南美洲都市人口比例偏高的主要因素為下列何者？  
(A)國家經濟發達 (B)政府鼓勵移民 (C)鄉村十分貧困 (D)都市國宅數量多。  
( ) 23.中南美洲貧富差距懸殊，區域發展失衡嚴重。表中哪個國家的政府，曾利用遷都的方式，以促進內陸開發，期望縮小區域差距？ (A)巴西 (B)智利 (C)阿根廷 (D)委內

瑞拉。

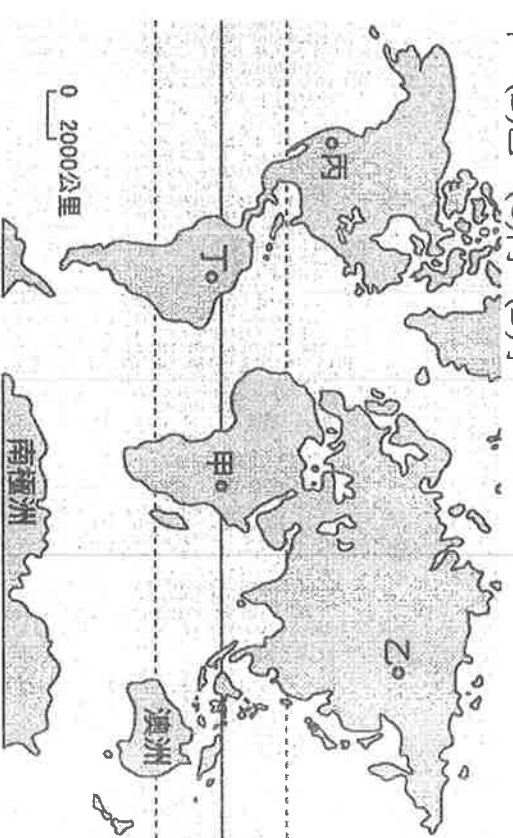
- (二)附圖是美洲簡圖。請回答下列問題：



- ( ) 24.圖中哪條線是北回歸線？ (A)甲 (B)乙 (C)丙 (D)丁。  
( ) 25.由圖推斷，南美洲缺乏何種氣候類型？ (A)熱帶雨林氣候 (B)熱帶莽原氣候 (C)溫帶大陸性氣候 (D)溫帶地中海型氣候。  
( ) 26.圖中ㄉ、ㄋ兩區合稱為「盎格魯美洲」，主要是基於下列哪一國殖民文化影響？ (A)美國 (B)西班牙 (C)葡萄牙 (D)英國。

- (三)科學家認為，近年來因人口激增、糧食短缺，森林被大量砍伐以從事農、林、牧業，尤其是雨林的面積正大量消失，估計地球若失去廣大的雨林，將有 900 億噸二氧化碳無法被樹林吸收，足以使全球暖化的速度加快 50%，而隨著樹林死亡，土壤將被烈日烤乾，雨林可能變成沙漠。請問：

- ( ) 27.世界上最大的熱帶雨林區，位於附圖中何處？ (A)甲 (B)乙 (C)丙 (D)丁。



- ( ) 28.亞馬孫雨林沒有分布於下列何國境內？ (A)巴西 (B)祕魯 (C)哥倫比亞 (D)巴拿馬。  
( ) 29.透過何種科學工具，科學家可以更有效發現亞馬孫雨林消失速度的變化？ (A)分層設色圖 (B)衛星影像 (C)地形剖面圖 (D)等高線地形圖。

- (四)附圖為沿著南回歸線所繪的南美洲地形剖面圖。請問：



- ( ) 30.圖中的「乙」為下列哪一座山脈？ (A)落磯山脈 (B)本寧山脈 (C)安地斯山脈 (D)阿帕拉契山脈。  
( ) 31.圖中「甲」為哪個海域？ (A)北極海 (B)印度洋 (C)太平洋 (D)大西洋。

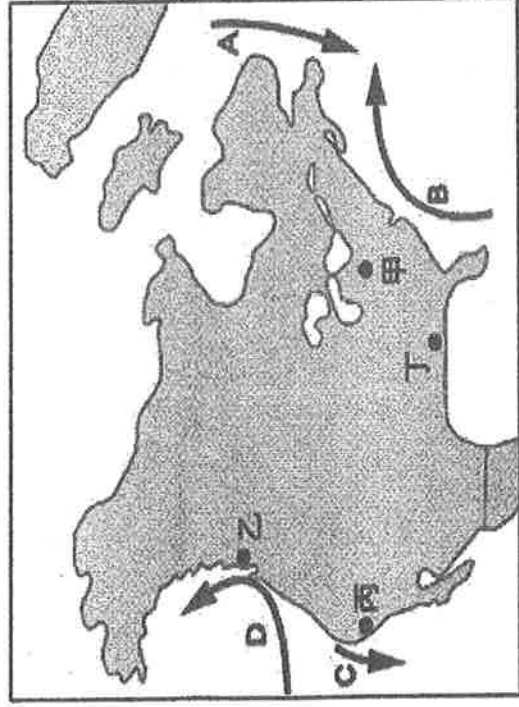
- ( ) 32.圖中箭頭所指應該為哪個方向？ (A)東 (B)西 (C)南 (D)北。
- ( ) 33.「丙」應為哪個地理區？ (A)拉布拉他平原 (B)西印度群島 (C)亞馬孫盆地 (D)巴拉哥尼亞高原。

(五).附圖為中美洲政區圖。請問：



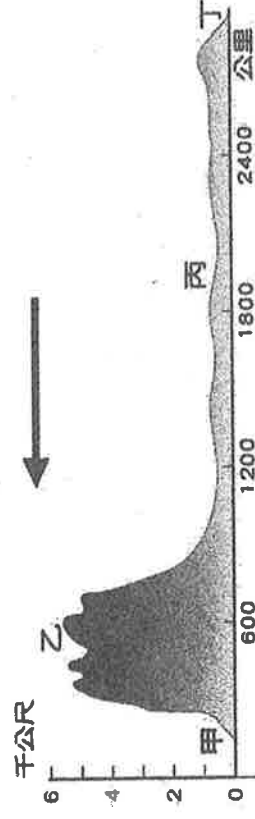
- ( ) 34.圖中墨西哥以南至巴拿馬的地形區為下列何者？ (A)中美地峽 (B)墨西哥高原 (C)巴拉哥尼亞高原 (D)安地斯山脈。
- ( ) 35.圖中的古巴以西是哪個海域？ (A)加勒比海 (B)墨西哥灣 (C)哈得孫灣 (D)北極海。

(六).附圖為北美洲簡圖，圖中 A~D 為洋流。請問：



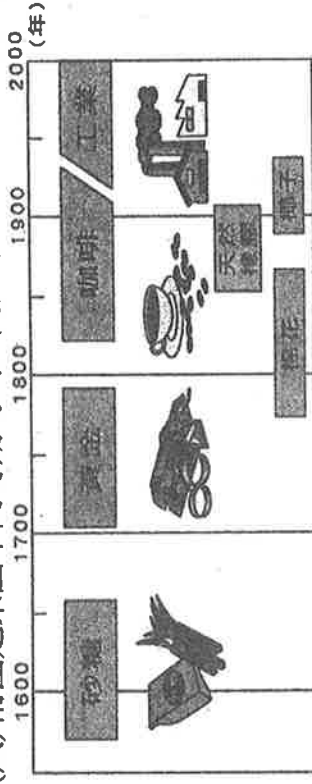
- ( ) 36.圖中哪個地區最容易遭受颶風侵襲？ (A)甲 (B)乙 (C)丙 (D)丁。
- ( ) 37.圖中哪個洋流屬寒流性質，造成沿海地區氣候寒冷？ (A)A (B)B (C)C (D)D。
- ( ) 38.乙地區終年溼潤、年溫差小，其原因除了位於西風帶外，還與流經沿海的 D 洋流有關。請問：D 洋流為何？ (A)加利福尼亞涼流 (B)阿拉斯加暖流 (C)墨西哥灣流 (D)北大西洋暖流。

(七).附圖是南美洲沿赤道的地形剖面圖。請回答下列問題：



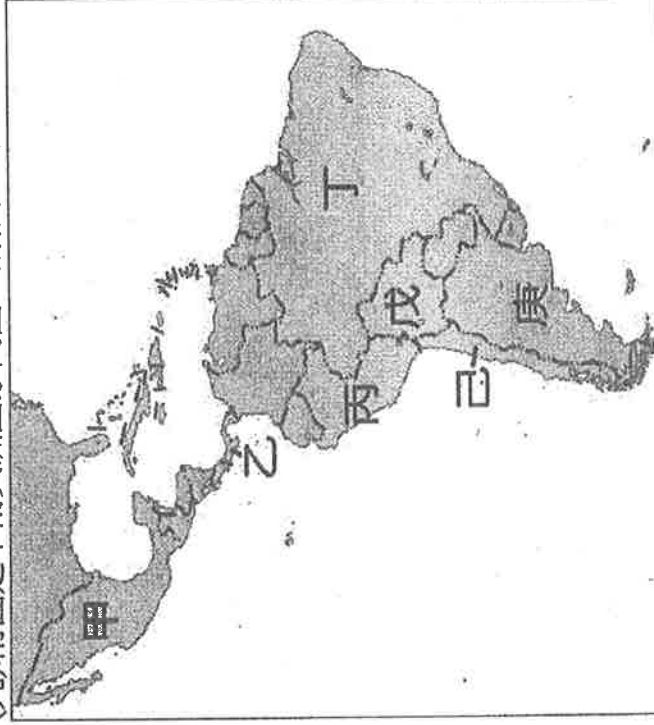
- ( ) 39.圖中地勢最高的乙地區，應是哪座山脈？ (A)喜馬拉雅山脈 (B)安地斯山脈 (C)阿帕拉契山脈 (D)落磯山脈。
- ( ) 40.圖中哪個地點附近應是亞馬孫河流域所在？ (A)甲 (B)乙 (C)丙 (D)以上皆非。
- ( ) 41.圖中甲地點附近應是什麼國家？ (A)巴西 (B)阿根廷 (C)厄瓜多 (D)墨西哥。

(八).附圖是某國不同時期的出口商品示意圖。回答下列問題：



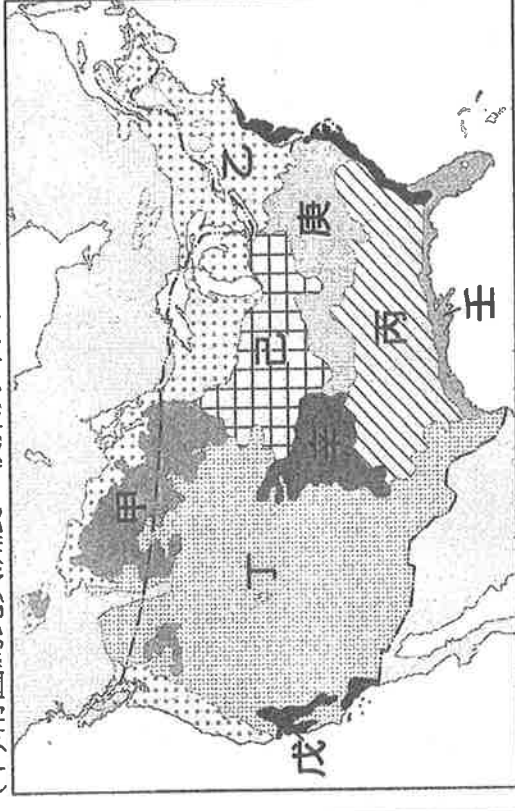
- ( ) 42.根據圖中各種作物的生長環境判斷，該國最有可能為下列何者？ (A)巴西 (B)阿根廷 (C)美國 (D)智利。
- ( ) 43.承上題，該國此類型產業的發展，與下列哪項最具關連性？ (A)地形平坦 (B)殖民背景 (C)耕地廣大 (D)人口眾多。
- ( ) 44.該國在工業的發展上，與下列哪種礦產的開發最具相關性？ (A)煤 (B)鐵 (C)銅 (D)石油。

(九).附圖是中南美洲國家簡圖，請依此圖回答下列各題：



- ( ) 45.溝通大西洋與太平洋的重要交通孔道——巴拿馬運河位於哪個國家？ (A)甲 (B)乙 (C)丙 (D)丁。
- ( ) 46.為「北美自由貿易區」的會員國之一，且以產銀礦著名於世的是哪個國家？ (A)甲 (B)乙 (C)丙 (D)丁。
- ( ) 47.有豐富的農礦資源，早年曾為西班牙所殖民；也是南美洲生產葡萄酒與銅礦最多的國家，發展潛力雄厚，此國為圖中何者？ (A)丙 (B)丁 (C)戊 (D)己。

(十).附圖為北美洲農、牧業分布圖。請問：



- ( ) 48.圖中哪一個地區是春小麥帶？ (A)甲 (B)乙 (C)丙 (D)丁。
- ( ) 49.若想要經營酪農業以便開設鮮乳工廠，應到圖中何地尋覓？ (A)乙 (B)丙 (C)庚 (D)辛。
- ( ) 50.美國是世界玉米的主要出口國，當地有許多牲畜加肥廠。此玉米帶主要產於圖中何處？ (A)戊 (B)己 (C)庚 (D)辛。

(此頁結束)



