

一、單一選擇題(每題2分)

() 1.近年來，高科技工業成為台灣工業發展的中心，其中發展最早，有「台灣矽谷」之稱的科學園區是(A)新竹科學園區 (B)中部科學園區(C)南部台南科學園區(D)南部高雄科學園區。

() 2.交通可分為運輸和通訊兩種方式，請問：下列哪些屬於運輸方式？(甲)自來水管(乙)輸油管(丙) e-mail (丁)電視(戊)廣告單(己)電話(庚)鐵路(A)甲乙庚 (B)乙丙丁 (C)丁戊己 (D)甲丙庚。

() 3.關於國際貿易中的出超，下列何者敘述「正確」？(A)出口>進口(B)出口<進口(C)國家較貧困 (D)台灣對日本是出超。

() 4.國際貿易為台灣經濟命脈，是因為台灣具有以下何種特性？(A)政治安定(B)缺乏礦產(C)市場廣大(D)海運便利。

() 5.聚落多發展在自然條件較佳的環境。請問：附圖中何處的地勢低平，且有河川流經，有利從事水灌溉的農業活動？(A)甲 (B)乙 (C)丙 (D)丁。

() 6.臺灣現今已完成環島鐵路系統，但卻未有東西向鐵路的修築，主要原因為何？(A)氣候欠佳 (B)地形的限制 (C)人口分布不均 (D)資源的開發。

() 7.腹地是指港口集中和分散貨物所能到達的地區，聯繫的交通運輸網路愈發達，港口腹地愈大。請問：高雄港腹地遠大於基隆港的主要原因為何？ (A)氣候暖溼 (B)地形平坦 (C)勞工眾多 (D)地價便宜

() 8.臺灣的公路依行政系統分為四級，附圖為哪一類公路的專用標誌？ (A)國道 (B)省道 (C)縣道 (D)鄉鎮道路。

() 9.一地發展成都市聚落，通常都具備下列哪些優勢條件？(甲)交通便利 (乙)氣候涼爽 (丙)地形平坦 (丁)資源豐富 (A)甲乙丙(B)甲乙丁(C)甲丙丁(D)乙丙丁。

() 10.附圖為某國都市人口占總人口比例的變化情形。根據圖中的資料最可能推得下列哪一個結論？(A)人口的聚集程度增加 (B)全國的人數不斷增加 (C)貧富的差距日趨嚴重 (D)鄉村的人口移入率高。

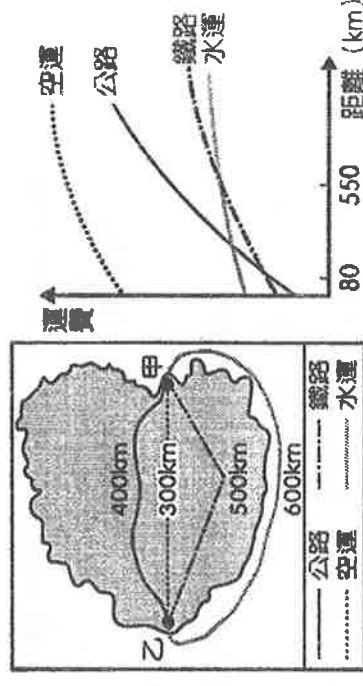

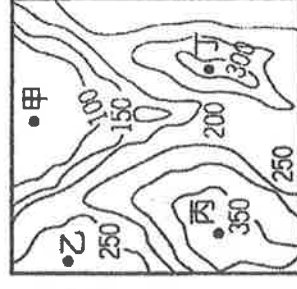
() 11.臺北捷運的路線除了臺北市外，還延伸到新北市的淡水、新店等地，更在2017年3月2日延伸至桃園機場，這顯示捷運路線的規畫最可能是以何種區域範圍為考量？ (A)行政區 (B)觀光區 (C)住宅區 (D)都會區。

() 12.花蓮設立和平水泥工業專區，最主要是擁有何種區位優勢？ (A)交通 (B)市場 (C)原料 (D)勞力。

() 13.被CNN列為世界15大奇景之一的馬祖「藍眼淚」，今年意外爆量，每年4月起，皆掀起一波觀光熱潮，機票更是一位難求。請問，選擇搭乘飛機是因為其何特性？(A)速度快 (B)運量大 (C)價格低 (D)機動性高。

() 14.下列哪種情形較容易出现散村的分布型態？ (A)械鬥頻繁 (B)水源不足 (C)討海為生 (D)地形崎嶇。

() 15.圖(一)是甲、乙二地相對位置的示意圖，圖中標示各種運輸方式往來二地間的最短距離。根據圖(二)各種運輸方式的運費判斷，由甲地運送小麥至乙地，選用哪一種運輸方式的運費最便宜？(A)空運 (B)公路 (C)水運 (D)鐵路。



▲圖(一)

▲圖(二)

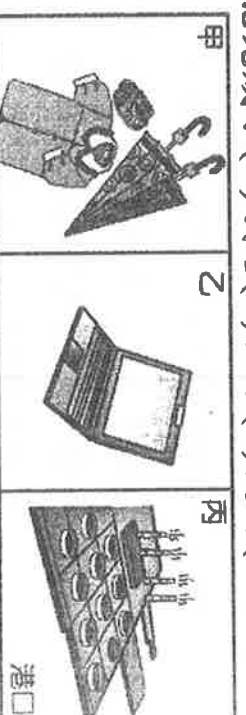
- () 16.傳統工業主要可分為輕工業和重工業，其分類依據為何？ (A)產品重量 (B)原料重量 (C)技術高低 (D)產值高低。
- () 17.臺灣在民國五十年代設立的加工出口區，主要是利用何種優勢來吸引國外投資？ (A)豐富的原料 (B)便宜的勞力 (C)便捷的交通 (D)充足的動力。
- () 18.鄉村與都市雖然有許多不同的特徵，但也互相依存，下列何者主要是由都市提供給鄉村的資源？ (A)就業 (B)糧食 (C)原料 (D)勞力。
- () 19.運輸方式包括鐵路、公路、海運、空運，下列何種情形最適合使用「空運」的交通方式？ (A)自日本訂購高鐵車廂運抵臺灣 (B)新加坡花卉業由日本進口菊花、玫瑰，從丹麥進口花泥 (C)日本引進歐洲、美洲製造的原廠汽車 (D)阿嘉與友子為新居添購家具，由家具工廠直接宅配送達。
- () 20.附圖是一假想島嶼上四個聚落的位置圖。由圖研判，何者的腹地範圍最小，較不易形成都市？ (A)甲 (B)乙 (C)丙 (D)丁。
- () 21.明確定義的「都市化」是指下列何種現象？ (A)鄉村範圍擴張至鄰近鄉鎮的情形 (B)都市出生率大於死亡率的現象 (C)人口由鄉村向都市集中的過程 (D)人口由都市移往鄉村的現象。
- () 22.受到網路購物成為新的消費型態的影響，嘉義敦煌書局剛收攤，良昌書局也要關門了，但網路購物有何缺點？ (A)購買物品費時 (B)購物手續繁複 (C)物品價格較昂貴 (D)無法看到實際物品。
- () 23.臺灣的河川總數有一百多條，河流眾多，但河運卻發展不佳。造成臺灣無法發展河運的原因為何？ (A)河川流路曲折 (B)河川出口位置不佳 (C)河川東西分流 (D)河川流量變化太大。
- () 24.下列關於重工業的描述，何者錯誤？ (A)通常需要較多的資金 (B)產品重量較重 (C)工廠規模較大 (D)大多需要密集的勞力。



美國賣場好市多 (Costco) 表示，他們在台灣也設有據點，非常認同台灣是一個國家。根據媒體報導，好市多之所以那麼情義相挺，原因恐怕是因好市多目前設在全台的 12 處分店，竟然有 3 店擠進全球營收前 10 名，內湖店曾一舉奪下第 2 名的寶座，台灣儼然已是好市多的金雞母。

- () 25.傳統商業類型有批發和零售，是依據商品的何種特色來劃分？(A)種類(B)產地(C)數量(D)來源
- () 26.好市多具有賣場大、停車方便、價格便宜，是屬於哪一種消費型態？(A)批發(B)零售(C)量販(D)電購。
- () 27.好市多其貨品的銷售較一般便利商店便宜，主要的原因為何？ (A)以價制量 (B)採自助式，可節省人事費 (C)無實體店面 (D)以量制價。
- () 28.好市多大賣場多選擇郊區作為商場位置的主要原因為何？(A)地形較平坦 (B)土地較便宜 (C)市場較廣大 (D)交通較便利。
- () 29.為配合新的大眾消費習慣，好市多也提供線上購物宅配服務，無論是送貨到府，或者是宅配至指定地址，這要搭配哪一種運輸工具的機動性，才能完成？(A)鐵路(B)公路(C)捷運(D)高鐵。

請根據附圖回答下列問題：



- () 30.哪一張圖是配合十大建設而推動的產業？ (A)甲 (B)乙 (C)丙。
- () 31.若依時間先後順序，何者正確？ (A)甲乙丙 (B)甲丙乙 (C)乙甲丙。
- () 32.臺灣產業應朝「三高四低」的方向發展，此特性是指高附加值、技術密集度高、資本密集度高，低勞力密集、低汙染、低土地利用、低耗能等。依據上述說明，判斷哪一張圖最符合「三高四低」的特性？ (A)甲 (B)乙 (C)丙。

工廠在設立之初，為了降低生產成本、提高利潤，選擇合適的工業區位條件設廠。請判斷下列工廠主要工業區位的條件為何？

- () 33.小甜甜製糖廠工業區位的條件為何？(A)動力 (B)原料 (C)市場 (D)勞工。
- () 34.承上題，製糖廠考慮的因素為何？(A)原料體積大(B)產品體積大(C)勞工需求高(D)耗電。
- () 35.香噴噴烘焙坊工業區位的條件為何？(A)動力 (B)原料 (C)市場 (D)勞工。
- () 36.承上題，烘焙坊考慮的因素為何？(A)原料體積大(B)產品體積大(C)勞工需求高(D)耗電。
- () 37.好美麗紡織廠工業區位的條件為何？(A)動力 (B)原料 (C)市場 (D)勞工。
- () 38.承上題，紡織廠考慮的因素為何？(A)原料體積大(B)產品體積大(C)勞工需求高(D)耗電。

附表是四個聚落的三級產業就業人口比例表，請問：

產業類型	聚落			
	甲	乙	丙	丁
第一級產業	10	66	71	13
第二級產業	38	18	12	26
第三級產業	52	16	17	61

- () 39.哪兩個聚落最有可能是「鄉村」？ (A)甲、乙 (B)丙、丁 (C)乙、丙 (D)甲、丁。
- () 40.哪兩個聚落的人口大部分以從事「服務業」為主？ (A)甲、乙 (B)丙、丁 (C)乙、丙 (D)甲、丁
- () 41.依人口遷移的因素而言，哪兩個聚落具有強大的「拉力」？ (A)甲、乙 (B)丙、丁 (C)乙、丙 (D)甲、丁。
- () 42.哪兩個聚落的人口外流情形可能比較嚴重？(A)甲、乙(B)丙、丁(C)乙、丙(D)甲、丁。

蔣渭水高速公路（北宜高速公路）北起南港，南迄蘇澳，全長 54 公里，最艱鉅的工程是全長 12.9 公里的公路隧道——雪山隧道。高速鐵路則是繼雪山隧道之後，臺灣人所完成的巨大工程。

- () 43.蔣渭水高速公路開通後，搭乘下列哪條鐵路線的旅客可能會減少？ (A)南迴線 (B)縱貫線 (C)北迴線 (D)宜蘭線。
- () 44.下列對於蔣渭水高速公路通車後的影響，何者錯誤？ (A)帶動宜蘭的觀光業發展 (B)利於宜蘭農產品運送行銷 (C)促進西部平原產業專業化 (D)縮短臺北與宜蘭間的行車時間。
- () 45.高速鐵路的起迄點各為下列何地？ (A)基隆、屏東 (B)基隆、高雄 (C)臺北、臺南 (D)臺北、高雄。
- () 46.高速鐵路通車後，對於臺灣各項產業的影響何者正確？ (A)國道運輸更繁忙 (B)國內旅遊業更興盛 (C)航空運輸業更蓬勃發展 (D)勞力密集的工業可望從中國回流。

「台灣精品獎」係經濟部自 1993 年設立之獎項，每年經嚴格選拔機制，依據「研發」、「設計」、「品質」、「行銷」4 個專業項目，同時考量「台灣產製」之條件，綜合評選具「創新價值」之產品，授予「台灣精品」獎，作為台灣產業表率，由政府在国际市場推薦，形塑臺灣產業創新形象。

- () 47.臺灣屬海島型經濟的地區，其經濟的發展必須仰賴下列何種經濟活動？ (A)內銷產業 (B)國際貿易(C)傳統集約農業 (D)商業性穀物農業。
- () 48.臺灣早期擁有廉價的勞工，產業發展主要特色為何？ (A)資本密集 (B)勞力密集 (C)技術密集 (D)原料密集。
- () 49.臺灣產品朝技術創新、特色產品開發及營運模式改善，協助傳統產業在質與量全面升級，其具備的工業特徵包括下列哪些？(甲)高附加價值(乙)外銷潛力大(丙)技術密集度高(丁)原料需求量大 (A)甲乙丙 (B)甲乙丁 (C)甲丙丁 (D)乙丙丁。
- () 50.經濟部設置「臺灣精品」標誌，請問：此活動的推動將有利於產業朝向何種方向發展？ (A)大量生產 (B)控制成本 (C)創新價值 (D)節能環保。

