

※單一選擇題：每題 2 分，共 50 題

1. 右圖為西藏地區的僧侶服飾，不但能抵擋嚴寒，夜晚解下腰帶還可當被褥。當白天陽光充足時，人們可袒出右臂。這樣特殊的設計，是為了因應當地的哪項自然特徵？ (A)地無三里平，天無三日晴 (B)一山有四季，十里不同天 (C)一年無四季，一日見四季 (D)三天無雨苗發黃，下點急雨土沖光
2. 小雨的少數民族報告內容如下：「中國甲民族從事游牧活動，夏季舉辦那達慕大會；乙民族吃糌粑、喝酥油茶，拉薩為行政中心；丙民族喜歡吃羊肉餐，誦讀古蘭經。」請問甲乙丙三民族依序應是？

- (A) 蒙古族、藏族、維吾爾族 (B) 寧夏回族、維吾爾族、蒙古族  
(C) 哈薩克族、藏族、壯族 (D) 蒙古族、苗族、維吾爾族

3. 新疆南北各有一個盆地，下表為關於兩個盆地的比較，何者正確？

盆地	(A)位置	(B)氣候	(C)產業活動	(D)少數民族
準噶爾盆地	南疆	溫帶沙漠	畜牧業為主	維吾爾族
塔里木盆地	北疆	溫帶草原	綠洲農業為主	哈薩克族

4. 傳統藏人食物——糌粑，是用何種作物製成的？ (A)玉米 (B)青稞 (C)小米 (D)高粱
5. 「新疆某種作物喜熱、好光、耐旱，適宜於在疏鬆深厚土壤中種植，全中國有三分之一的產量在此地，因栽種面積大，故以機械化耕作。」文中所指的作物為何？

- (A)稻米 (B)小麥 (C)棉花 (D)甜菜

6. 柴達木盆地有「聚寶盆」之稱，是形容當地具有下列哪種優勢？

- (A)農業發達 (B)森林茂盛 (C)商業發達 (D)礦產豐富

7. 「三山夾兩盆」是中國某個行政區的地形寫照。此行政區是指下列何者？

- (A)寧夏回族自治區 (B)西藏自治區 (C)廣西壯族自治區 (D)新疆維吾爾自治區

8. 「在山頭，終年一片白雪覆蓋；山腰之際，則有森林與草原交錯，翠綠的青稞與潺潺的河水，共舞著收成的前景。」此景觀會出現在下列哪個地形區？

- (A)藏南縱谷 (B)塔里木盆地 (C)柴達木盆地 (D)河套地區

9. 「黃河在此處先沿著賀蘭山向北，經陰山阻擋後向東，再沿著呂梁山向南，形成『几』字狀。西漢時，漢武帝派軍隊擊敗匈奴，占領此處，並築城以屯田、養馬，作為防禦和進攻匈奴的基地，當時，人們引黃河灌溉，農業迅速發展，經濟繁榮。」上文介紹的地方應是位在今何地？

- (A)華北平原 (B)河西走廊 (C)河套地區 (D)塔里木盆地

10. 「稀土」是現代工業生產的重要原料，目前被廣泛運用在石油、化工、航太、電子、雷射等領域，工業大國無不將稀土金屬視為戰略資源。請問：下列何處是中國稀土礦物蘊藏最多之處？

- (A)內蒙古高原 (B)柴達木盆地 (C)青海湖盆地 (D)青藏高原

11. 中國的內蒙古地區及青藏地區同位於邊疆位置。

右表有關這兩地區的比較，何者正確？

- (A)甲 (B)乙 (C)丙 (D)丁

12. 小雨想開飛機繞地球一圈。請問：小雨沿著下列哪條緯線飛行經過的陸地最少？

- (A) 0° (B) 60°N (C) 23.5°N (D) 60°S

13. 世界七大洲中，面積最小的是哪洲？ (A)歐洲 (B)南極洲 (C)大洋洲 (D)中南美洲



14. 下列哪兩種地形各占地球整體地形比例最高？

(A)高原、山地 (B)山地、盆地 (C)丘陵、平原 (D)高原、平原

15. 喜馬拉雅山位於哪兩個板塊的交接處？ (A)歐亞板塊、非洲板塊 (B)歐亞板塊、印澳板塊 (C)印澳板塊、非洲板塊 (D)歐亞板塊、太平洋板塊

16. 根據世界人口基金會的報告指出，世界各大洲人口成長狀況大不相同，目前增加速度最快的大陸應該為下列何者？ (A)非洲 (B)歐洲 (C)澳洲 (D)北美洲

17. 世界人口分布主要受到自然環境的影響，下列哪一處因為氣候溼熱因此人口稀少？

(A)撒哈拉沙漠 (B)亞馬孫盆地 (C)印度大平原 (D)阿拉伯高原

18. 右圖中的甲地區人口密度相當低，人口數量也不多。影響該地人口分布特色的最主要因素為何？

(A)治安不佳 (B)地形崎嶇  
(C)乾燥少雨 (D)氣候溼熱

19. 水半球以下列哪個國家為中心？

(A)法國 (B)中國 (C)紐西蘭 (D)俄羅斯

20. 位於歐洲與北美洲之間的海洋為何？

(A)太平洋 (B)大西洋 (C)印度洋 (D)北極海

21. 下圖為北興旅行團的團員在某一國家內的對話內容：



請問：團員正在旅遊的國家，主要信奉哪個宗教？(A)天主教 (B)印度教 (C)佛教 (D)伊斯蘭教

22. 新疆素有「瓜果之鄉」的美稱，所產瓜果特別香甜的主要原因為何？

(A)雪水豐富 (B)氣候乾燥 (C)地勢低窪 (D)日夜溫差大

23. 新疆的兩個盆地皆屬於乾燥氣候，但準噶爾盆地的年降水量多於塔里木盆地，主要是因為準噶爾盆地可接受來自何處的水氣所致？ (A)太平洋 (B)印度洋 (C)北極海 (D)大西洋

◎地球上七成的面積為海洋，是重要的交通航道，也有許多經濟資源。右圖為世界主要海洋的面積比例，請依圖中資料回答下列問題：

24. 太平洋位於亞洲和美洲之間，周邊國家多為亞太經濟合作會議的成員，經貿往來密切。請問：該海域最可能為圖中何者？

(A)甲 (B)乙 (C)丙 (D)丁



25. 圖中丙海洋主要位於熱帶氣候區，為東西方貿易往來的交通要道。請問：丙海洋位於哪兩大洲之間？ (A)亞洲、美洲 (B)歐洲、大洋洲 (C)非洲、歐洲 (D)亞洲、非洲

◎河西走廊為一狹長的走廊地形，自古即為東西往來的重要通道。請回答下列問題：

26. 河西走廊形成的主因為何？

(A)地殼隆起而形成 (B)斷層陷落而形成 (C)雨水溶蝕而形成 (D)河流沖積而形成

27. 河西走廊中重要的都市包括武威、酒泉等地，請問這些都市的興起和下列何者關係最大？

(A)水源充足 (B)雨水豐沛 (C)石油產地 (D)水陸運交會點

28. 河西走廊的傳統生活方式為農業，請問發展農業的灌溉水源為何？

(A)祁連山的雪水 (B)喜馬拉雅山的雪水 (C)黃河的河水 (D)塔里木河的河水

29. 河西走廊的農業用水來源，和下列哪一地區較為類似？

(A)河套地區 (B)準噶爾盆地 (C)藏南縱谷 (D)塔里木盆地

◎荷蘭藝術家所創造的黃色小鴨，巡迴世界主要港口，希望傳達愛與和平的信念，在各地都掀起了風潮，可說是當代最成功的現代藝術展覽之一。請回答下列問題：

30. 黃色小鴨在 2007 年開始巡迴世界展出時，海外首站就來到了世界陸半球中心的國家。當時展出的地點位於圖中何處？

(A)甲 (B)乙 (C)丙 (D)丁

31. 黃色小鴨在臺灣結束展覽後，接著到北美西部的洛杉磯展覽，請問黃色小鴨必須橫渡哪一個海洋才能抵達？ (A)太平洋 (B)印度洋 (C)大西洋 (D)地中海

◎宗教對於人民的日常生活影響極大，目前世界上主要有四大宗教。請回答下列相關問題：


32. 亞洲面積廣大，各區域特色不同，其中東亞主要信奉的宗教為下列何者？

(A)佛教 (B)基督教 (C)伊斯蘭教 (D)印度教

33. 伊斯蘭教的宗教建築如右圖所示，主要分布地區中不包括下列何者？

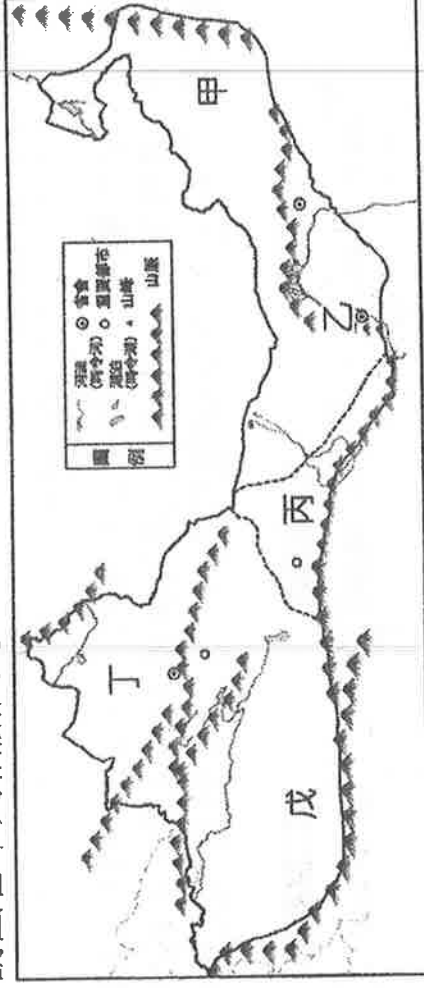
(A)西亞 (B)東南亞 (C)北非 (D)大洋洲

34. 下列哪個宗教的教義規定不能吃豬肉，且每天必須面向聖城麥加朝拜 5 次？ (A)佛教 (B)印度教 (C)基督教 (D)伊斯蘭教



◎小雨在暑假參加「中國西北旅行團」，下圖為西北地區簡圖，

請回答下列相關問題：



35. 小雨到「戊」區旅行，最有可能參與下列哪一活動？

(A)搭乘青藏鐵路，欣賞高原風光 (B)欣賞特別的「那達慕」節慶活動  
(C)體驗住蒙古包的游牧生活 (D)品嚐「瓜果之鄉」香甜的哈密瓜

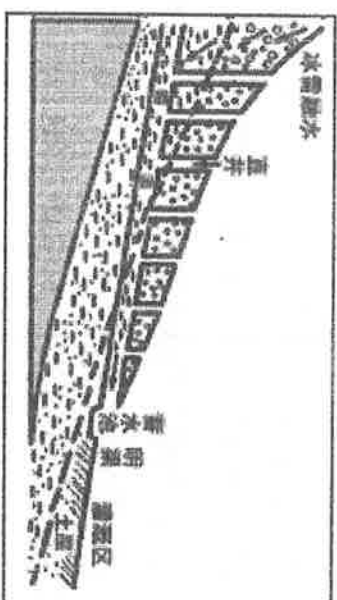
36. 小雨終於看到如書上所說的「塞上江南」，一片綠意盎然的稻田。請問應該位於圖上何區？

(A)甲 (B)乙 (C)丙 (D)丁

37. 小雨想了解古絲路必經的「綠洲城市」，請問這些綠洲城市主要應分布於下列哪些地區？

(A)甲丁 (B)乙丙 (C)丙戊 (D)丁乙

38. 小雨在這次旅程中欣賞到不同的少數民族文化。請問：小雨最有可能在哪裡看到「馬背上的民族」——哈薩克族的特色活動？ (A)甲 (B)乙 (C)丙 (D)丁



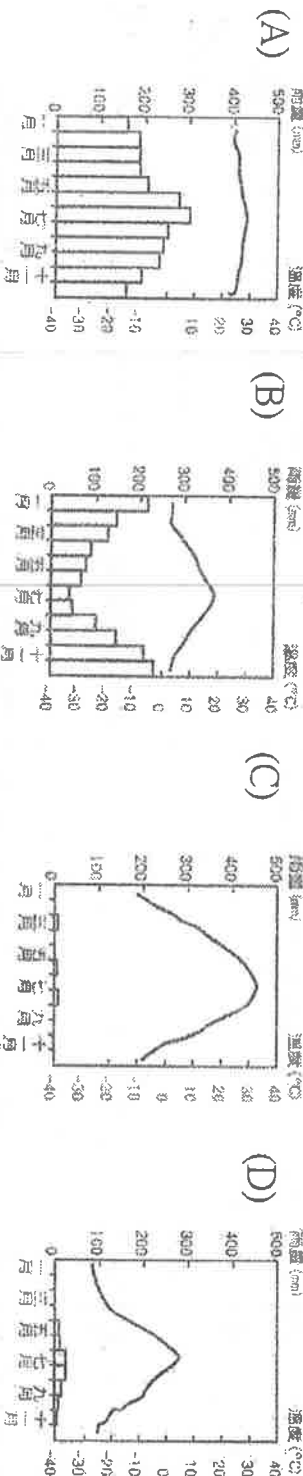
◎右圖為西部地區特殊的灌溉設施，請回答下列問題：

39. 請問該設施的名稱為何？  
 (A)地下渠道 (B)坎兒井 (C)水圳 (D)攔河堰
40. 請問該設施主要位於中國哪一地區？(A)內蒙古高原  
 (B)河套地區 (C)吐魯番窪地 (D)準噶爾盆地
41. 請問該設施主要是利用什麼水源？  
 (A)河水 (B)地下水 (C)雨水 (D)內陸湖水

42. 當地居民設計該設施主要的目的為何？

- (A)開發礦產 (B)避免水分蒸發 (C)防止水土流失 (D)保持水質純淨

43. 請問該地區的氣候圖最有可能為下列哪一張？



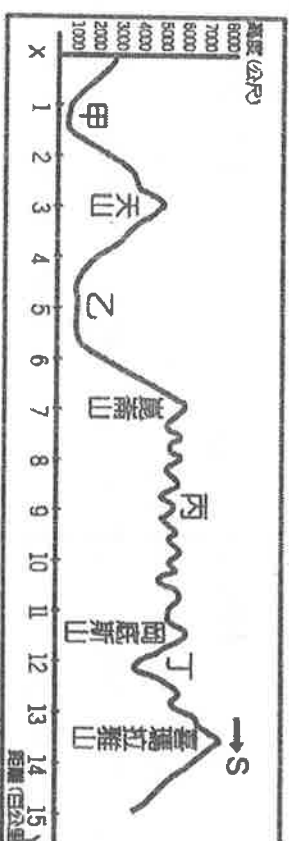
◎右圖為中國新疆與西藏地形剖面圖，請回答下列問題：

44. 「地勢高，平均高度超過4,000公尺，空氣較為稀薄且日夜溫差較大」為圖中何處？

- (A)甲 (B)乙 (C)丙 (D)丁

45. 「此區為兩座山之間的谷地，谷地長千餘公里，地勢西高東低，夏季暖溼之印度洋季風可進入谷地，且平地較廣，是西藏地區之精華區。」請問：上述地區應該位於圖中何處？

- (A)甲 (B)乙 (C)丙 (D)丁




◎受到緯度、地形、風向、距海遠近及洋流的影響，全球可分為多種氣候類型。請觀察下列各氣候圖，並從下列表格配對，並選出正確的氣候特徵及氣候類型。

#### \*氣候特徵

- (甲)終年高溫，乾溼季分明。 (乙)降水少，年溫差極大。 (γ)熱帶雨林氣候 (δ)熱帶莽原氣候  
 (丙)終年高溫多雨，無明顯乾季。 (丁)夏熱冬冷，夏雨冬乾。 (戊)溫帶大陸性氣候 (己)溫帶地中海型氣候  
 (戊)全年乾燥少雨，日溫差大。 (己)夏熱冬暖，夏乾冬雨。 (己)副極地氣候 (己)熱帶沙漠氣候

#### \*氣候類型

- (γ)熱帶雨林氣候 (δ)熱帶莽原氣候  
 (己)溫帶大陸性氣候 (己)溫帶地中海型氣候  
 (己)副極地氣候 (己)熱帶沙漠氣候



46. 沙烏地阿拉伯 麥加 (A) 乙 丙 (B) 乙 戊 丙 (C) 戊 丙 (D) 戊 乙
47. 巴西 庫亞巴 (A) 甲 乙 (B) 甲 乙 (C) 丙 乙 (D) 丙 乙
48. 新加坡 (A) 丙 乙 (B) 丙 乙 (C) 甲 乙 (D) 甲 乙
49. 葡萄牙 里斯本 (A) 己 丙 (B) 己 丙 (C) 丁 丙 (D) 丁 丙
50. 俄羅斯 奧列紐克 (A) 丁 丙 (B) 丁 丙 (C) 乙 丙 (D) 乙 丙