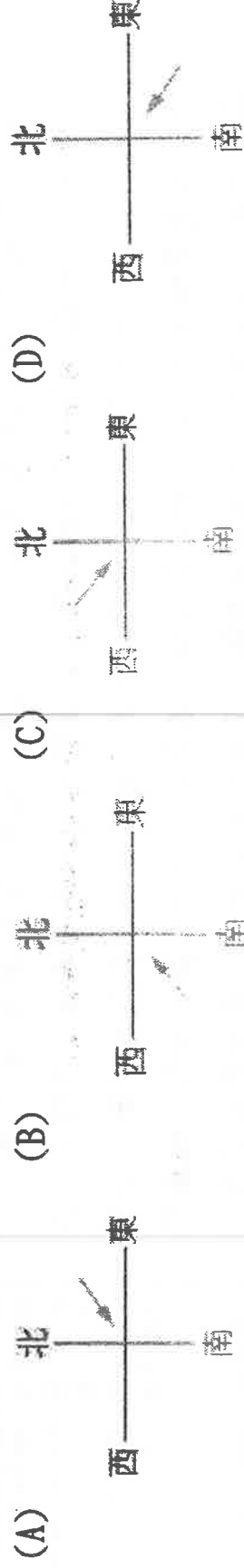


班級：

姓名：

座號：

1. 臺東地區因夏季位於盛行風的背風坡，易形成焚風，造成農作物的損失。請問，上述的盛行風向最適合用下列哪一張圖來表示？



2.

「這裡有山有水，平原遼闊，土層相當深厚，富含腐植質，適於農作，作物以麥、玉米、大豆、稻米及甜菜為主，是著名的穀倉；美中不足的是長冬嚴寒，夏短而暖，降水多半集中於夏季，所以生長季短。」問：引文所描述的地方，最可能出現在下列何地？

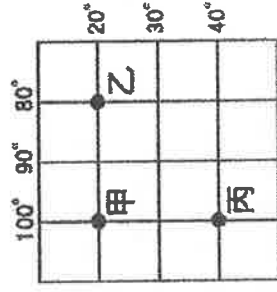
(A) 松遼平原 (B) 黃淮平原 (C) 成都平原 (D) 江漢平原

3. 「集約農業」是指在單位面積的土地上，投入大量的勞力、資金，以提高單位面積產量的經營方式。請依此定義判斷，下列何者最不可能是集約農業？

(A) 游耕農業 (B) 稻作農業 (C) 綠洲農業 (D) 熱帶栽培業。

4. 右圖為一個經緯度的網格系統。請問：關於圖中三地的位置關係，何者正確？

(A) 三地皆位於東半球 (B) 甲的緯度比丙地高
(C) 乙地位於丙地的西南方 (D) 三地皆位在南半球。



5. 右圖為全球各大洲分布圖，赤道通過的地區幾乎均為熱帶雨林氣候，但圖中的甲、乙兩區卻不是此種氣候類型。造成上述狀況的因素為下列何者？

(A) 植被疏密 (B) 海陸分布
(C) 洋流差異 (D) 地勢高低

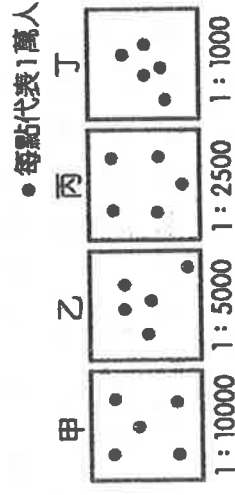
6. 「在全球化的趨勢下，我知道有很多工作會被他的便宜勞工搶走，但從來沒想過電腦工程師也會被外包……面對外籍勞工的競爭，我不知道自己的工作還可以持續多久。」以上是美國工程師吉米的日記內容，文中提到的外籍勞工最可能來自於哪一個國家？

(A) 印度 (B) 中國 (C) 墨西哥 (D) 加拿大。

7. 人口密度的高低影響自然環境的利用程度。請問：附圖中哪一個

地區，最容易產生因自然環境過度利用而造成環境變遷？

(A) 甲 (B) 乙 (C) 丙 (D) 丁。



8. 菲律賓在歷史上始終並未形成「菲律賓文化」。其主

因之一是菲律賓島國地形破碎的地理特性，80 餘種的各方言，使得地區性文化發達，全國性的文化特質卻無法產生。不過菲律賓大部分島嶼居民卻普遍受到某種宗教信仰的約束和影響，與下列哪一個國家的殖民有關？

(A) 美國 (B) 西班牙 (C) 法國 (D) 沙烏地阿拉伯。

9. 「智利的阿加他馬沙漠，寬160公里、長1000公里，這裡的土壤，完全呈現死寂狀態，沒有任何細菌或微生物在裡面。因為這裡是世界上最乾燥的地方，曾有400年未降雨的紀錄，除了南極、北極之外，阿加他馬沙漠成為了世界的「旱極」，當然這裡沒有賣雨衣雨傘的囉，更令人匪夷所思的是，這裡居然還有100多萬以上的人口生活著……」請問：下列哪一個沙漠的成因與阿加他馬沙漠相同？

(A) 中國的塔克拉玛干沙漠 (B) 中亞地區的沙漠

(C) 非洲的那米比亞沙漠 (D) 美國內華達州沙漠。

10. 「這片位於長江和黃河源頭附近的土地，高達 4,000 公尺以上，一望無際，彷彿延伸到世界的盡頭。除了牧民會在夏季帶領牲口到此地外，人煙罕至。」

下列何者是上述牧民日常生活的特色？

- (A) 以犛牛糞塊作為燃料 (B) 利用坎井取得飲用水
(C) 每天面向聖地朝拜五次 (D) 馬匹為主要交通工具。

11. 傳統上，用來釀造葡萄酒的葡萄，其產區主要分布在法國、西班牙、義大利、澳洲、美國等國之地中海型氣候區，夏末秋初為採收的季節。小曼今年在臺灣購買了一瓶進口的葡萄酒，酒瓶上的中文標籤如附圖。根據葡萄採收的季節及標籤提供的訊息判斷，小曼買的葡萄酒，其葡萄產區最可能位在下列何國？

- (A) 法國 (B) 美國 (C) 澳洲 (D) 義大利。



12. 北美自由貿易區成立後，墨西哥憑藉何種優勢吸引外資投資設廠、帶動該國的經濟成長？

- (A) 工資低廉、關稅減免 (B) 農礦原料豐富
(C) 充足的資金與技術 (D) 交通便利。

13. 劉大尉是特種部隊的隊長，奉派到西亞的兩個國家執行任務，這兩個國家是西亞地震頻繁的地區，請問劉大尉最有可能到下列哪兩個國家駐守？

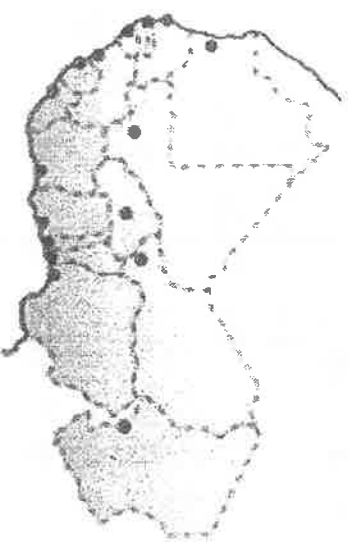
- (A) 伊拉克、阿富汗 (B) 土耳其、伊朗 (C) 以色列、沙烏地阿拉伯 (D) 土耳其、伊拉克。

14. 右圖是西非各國最大都市的分布情形，該分布特色與殖民時期為輸出當地礦產和熱帶栽培業農產品有關。下列哪一地區多數國家的最大都市，其發展歷程及分布特色與西非最為類似？

- (A) 北歐 (B) 西亞 (C) 東南亞 (D) 北美洲。

15. 下列哪個地區性經濟組織中，大部分的會員國已使用統一貨幣，因此內部多數國家的貿易愈加便利？

- (A) APEC (B) NAFTA (C) OPEC (D) EU。



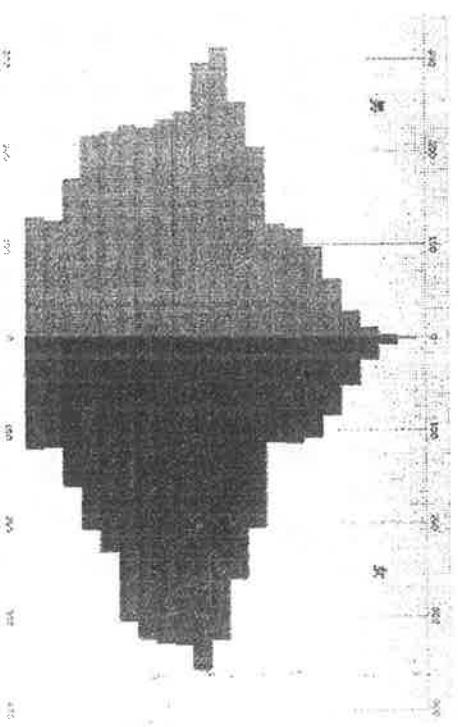
16. 「這裡農民的主要收入在冬季，因為緯度的關係，當地在冬季比其他地區適合蔬菜、水果的栽培，加上這幾年因為臺商投資引進許多新品種，使得瓜果更具競爭力，大量的銷售到其他地區。」由以上敘述判斷，該地最可能位於何處？

- (A) 海南島 (B) 四川盆地 (C) 黃淮平原 (D) 長江三角洲。

17. 某國人口金字塔如右圖，請問該國現在可能有哪些人口問題？(甲)老人安養的問題 (乙)勞力過剩的問題 (丙)人口老化的問題 (丁)性別比例不均的問題 (戊)幼年人口的扶養問題 (己)經濟發展程度較低的問題

- (A) 甲 丁 (B) 乙 丙 (C) 甲 丙 (D) 戊 己。

18. 「這個大陸的南端，是一處險要的『岬角』，在蘇伊士運河通航前的三百多年間，此地為歐亞間航行的必經之地，直至今日仍是世界交通和戰略的要地。」上文所指的岬角應是位於現今何國？



19. 請先判斷出句中所指的歐洲國家，再依緯度從高到低排列。

- 甲、海岸線濱北極海、大西洋及北海，利用北海的石油發展高科技工業。
乙、多石灰岩地形，港灣多，首都為奧運的發源地。
丙、酪農業興盛，土地貧瘠，畜牧業較農業發達，有歐洲牧場之稱。

戊、一半的國土位於阿爾卑斯山區，首都為著名的音樂之都。

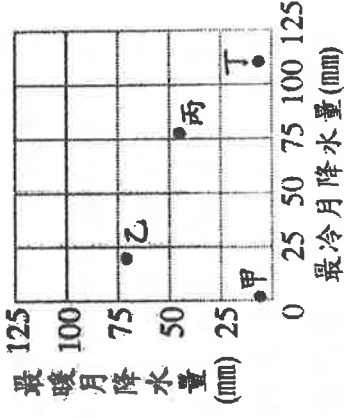
(A) 甲丁丙乙戊 (B) 甲丙丁戊乙 (C) 丙甲丁乙戊 (D) 丁丙甲戊乙。

20. 人口壓力迫使人民對耕地過度使用，導致水土流失或產生土地沙漠化等現象。全球哪兩洲因人口成長速度過快，導致上述環境問題最為嚴重？

(A) 中南美洲、大洋洲 (B) 北美洲、歐洲 (C) 亞洲、歐洲 (D) 亞洲、非洲。

21. 有四個位於溫帶氣候區的城市，分別為海洋性氣候、大陸性氣候、地中海型氣候和沙漠氣候，若將其最暖月和最冷月的降水量標在坐標圖上，可以得到右圖。圖中哪一城市為溫帶地中海型氣候？

(A) 甲 (B) 乙 (C) 丙 (D) 丁



22. 這場戰爭讓中國見識到西方國家的船堅炮利，也開啟了中國近代不

平等條約的序幕。可惜，覺醒的人少之又少，天朝上國仍舊呼呼大睡

中。請問：上述的戰爭所指為何？ (A) 英法聯軍 (B) 鴉片戰爭 (C) 中法戰爭 (D) 甲午戰爭。

23. 有關中共政權成立以後的發展，下列敘述何者正確？ (A) 毛澤東時代以民主改革為政治的主

要手段 (B) 文化大革命的推動主張保存傳統孔孟文化 (C) 鄧小平時代主張經濟開放改革

(D) 六四天安門事件的發生，使中共體制瓦解。

24. 「此一朝代的開國皇帝廢除了丞相，又設立特務機關，監控臣民言行，並以『廷杖』和『文字獄』摧殘文人。其措施之嚴、手段之狠、刑罰之酷、殺人之多，為幾千年歷史所罕見。」請問：老師正在中國史的哪一時期？

(A) 唐朝 (B) 東漢 (C) 明朝 (D) 清朝。

25. 恩平上臺報告有關耶穌生平的事蹟，其中何者錯誤？ (A) 生於羅馬帝國時期 (B) 宣揚平等博愛的理念 (C) 主張上帝耶和華為唯一真神 (D) 耶穌信徒記載耶穌的言行編纂成《舊約》。

26. 浩克要寫一篇關於大坵坑文化人們生活的報告，為了符合史實，下列哪一項敘述不應該出現在報告中？ (A) 製作陶器 (B) 種植穀物 (C) 冶製鐵器 (D) 生火煮食。

27. 老師上課時在黑板上列舉三位歷史人物：張騫、鄭和、利瑪竇。請問：老師所要探討的主題是下列何者？ (A) 國際貿易 (B) 佛教東傳 (C) 文化交流 (D) 改革變法。

28. 念軒上網查詢有關拜占庭帝國的史事，下列哪些資料正確可以作為寫報告的參考？(甲)是個統一的帝國(乙)經濟上工商業發達(丙)信奉東正教(丁)文字上使用拉丁文

(A) 甲乙丁 (B) 乙丙丁 (C) 甲乙丙 (D) 甲丙丁。

29. 清領前期，泉州人阿信移民來臺。他主要信仰的神明，應是下列何者？ (A) 有應公 (B) 保生大帝 (C) 開漳聖王 (D) 三山國王。

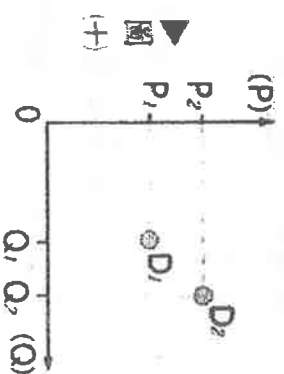
30. 第一次世界大戰的轉捩點是俄國爆發革命，美國加入戰局；那麼第二次世界大戰的轉捩點則是發生哪一事件，促使歐亞兩個原本分離的戰場合流，成為名副其實的世界大戰？ (A) 德國採無限制潛艇政策 (B) 蘇聯與德國簽訂互不侵犯條約 (C) 日本偷襲珍珠港 (D) 義大利入侵衣索比亞。

31. 法國在二月革命後，由何人擔任總統，但他後來卻自行稱帝，結束了共和體制？ (A) 拿破崙 (B) 路易拿破崙 (C) 梅特涅 (D) 路易十六。

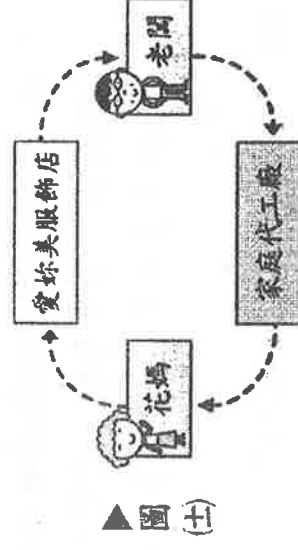
32. 民國43年，美國和臺灣簽訂《中美共同防禦條約》，其目的為何？ (A) 要求臺灣參加韓戰 (B) 幫助臺灣反攻中國 (C) 將臺灣納入反共防衛體系 (D) 與臺灣維持非官方往來。

33. 使外國人可以派兵駐守在北京及附近要地，造成京師門戶洞開，國家根本毫無國防可言的是哪一個條約？ (A) 《璦琿條約》 (B) 《天津條約》 (C) 《馬關條約》 (D) 《辛丑和約》

34. 家住在研究中國歷代貨幣，下列三種紙幣若依發行的先後順序，正確的排列應為何？
 (甲)寶鈔(乙)會子(丙)交子 (A)甲丙乙 (B)乙丙甲 (C)丙甲乙 (D)丙乙甲。
35. 下列關於舊帝國主義與新帝國主義的敘述，哪些是正確的？(甲)新帝國主義者爭奪殖民地，引發國際間的衝突與危機(乙)舊帝國主義國家均在歐洲大西洋沿岸(丙)新帝國主義國家分布在歐、美、亞洲(丁)英、美兩國均是舊帝國主義也是新帝國主義國家
 (A)甲丙丁 (B)甲乙丙 (C)乙丙丁 (D)甲乙丁。
36. 下列哪一個國家在 19 世紀時，控制義大利許多地區，成為義大利統一的最大障礙？(A)西班牙 (B)葡萄牙 (C)奧國 (D)英國。
37. 有一段描述臺灣教育發展史的資料提到：「直到 1941 年後，日本政府為爭取臺灣民心，始將小學校、公學校改制為國民學校，以示平等待遇，實則仍分為第一、二、三號表不同的課程。」根據上文，促成當時臺灣教育措施改變的原因為何？
 (A)內地延長主義 (B)南進政策 (C)無方針主義 (D)皇民化運動。
38. 魏晉南北朝可說是中國歷史上一個分裂的時代，下列敘述何者最能代表這一時代的特色？
 (A)佛教、道教始傳入中國，十分盛行 (B)法學盛行，法治觀念深入人心 (C)外戚強大，干政之風盛行 (D)世家大族門第鼎盛。
39. 高老師在黑板上寫上：蘇格拉底、柏拉圖、亞里斯多德。請問：此節課應該是探討有關希臘的哪一主題？(A)歷史學家的治學方法 (B)哲學的發展 (C)建築藝術的展現 (D)商業的興盛。
40. 就讀美術系的小茵十分欣賞印象派風格的畫作，她應該會經常觀摩以下哪些藝術大師的作品(甲)達文西(乙)莫內(丙)米開朗基羅(丁)梵谷？
 (A)乙丙 (B)乙丁 (C)甲丁 (D)丙丁。
41. 電影《宋家皇朝》側寫從辛亥革命到對日抗戰的中華民國歷史，電影中曾出現一幕是民國 13 年時，孫中山正在主持學校開幕典禮，其夫人宋慶齡及該校校長蔣中正隨伺在側。請問：這一幕與下列哪一歷史事件最為相關？
 (A)北伐統一 (B)十年建設 (C)武昌起義 (D)八年抗戰開始。
42. 葉爾欽稱共產主義是「我們人民的悲劇」，戈巴契夫說「共黨模式已經失敗」，蘇聯人民也普遍厭共。所謂「蘇聯解體，東歐變天」的最大原因為何？
 (A)第三世界的出現 (B)希特勒的下臺 (C)戈巴契夫的改革 (D)冷戰的結束。
43. 林盼在網路上找到一個標章，一旁標示文字為「國際公平貿易認證標章」(如圖(七))，請問：關於此標章之敘述，下列何者錯誤？
 (A)獲利廠商會回饋產地、投入公益
 (B)確保商品的高單價與高利潤
 (C)希望產地農民可獲得合理報酬
 (D)代表為縮小貧富差距而努力的精神。
44. 圖(十)是艾憲對某種生活消費品所繪製的需求價格與數量關係，請問：他所指的消費品可能為下列何者？
 (A)牛排(B)鑽石(C)有機蔬菜(D)衛生紙。
45. 我國政府為保護消費者，依《行政院處務規程》設置行政院消費者保護委員會，而該單位亦於民國 100 年 12 月 31 日併入行政院院本部，將原有業務改制成立「消費者保護處」。請問：下列各選項中，哪一個是屬於其工作項目之一？
 (A)查緝不實廣告 (B)查緝囤積商品
 (C)受理消費者申訴 (D)查緝聯合哄抬物價。



46. 花媽在代工廠上班，假日時會到服飾店消費，而店家老闆必須投入成本去聘人製造衣服設立了家庭代工廠，請問：根據圖(十一)的流程關係判斷，這應是指什麼的流通？



▲圖(十一)

(A)資訊(B)貨幣(C)勞力 (D)商品。

47. 依照罪刑法定原則，毀損罪不處罰過失行為，請問：15歲的小明，某天與同學在街上打球，不慎打破停在路邊的轎車車窗，其結果可能為何？

(A)未成年者免去任何責任(B)由法定代理人承擔刑責(C)保護管束(D)負民事上的賠償責任。

48. 嚴浩參加某政黨青年軍，28歲甫自研究所畢業後即刻被徵召投入選戰中，請問：下列哪一個公職人員的候選人資格他尚不符？

(A)竹北市市長(B)太保市市民代表(C)苗栗縣縣長(D)斗六市市長。


49. 請由圖(十八)所列出的敘述內容判斷，這應該是下列哪個主題的討論？



▲圖(十八)

(A)社區組織(B)社區關懷(C)社區意識(D)社區文化。

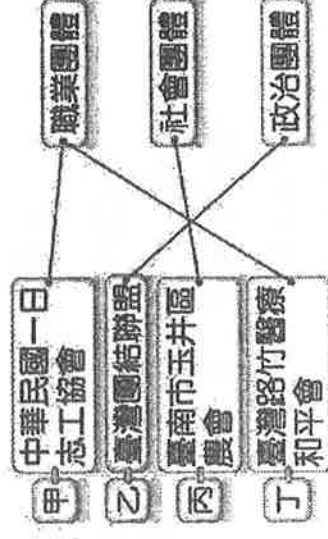
50. 圖(十九)是安安的媽媽在臉書上分享的心情，由圖中內容可知，安安的媽媽可能發生下列哪一種情況？



▲圖(十九)

(A)社會變遷
(B)角色衝突
(C)價值失衡
(D)溝通障礙。

51. 我國依《人民團體法》的規定，團體分有職業、社會、政治三種類別，圖(二十)為各團體類別與事例的配對，其中何者正確？(A)甲(B)乙(C)丙(D)丁。



▲圖(二十)

52. 自政府宣布霸凌將受法律制裁以來，校園出現首宗霸凌案遭移送警局！施暴的13名男女學生到案後依傷害、妨害自由等罪嫌函送地方法院少年法庭審理。由上述內容判斷，施暴的男女將會受到哪一種法律的制裁？(A)《民法》(B)《家庭暴力防治法》(C)《少年事件處理法》(D)《性別平等教育法》

◎近日查獲不肖業者將牛肉灌水增重，對此衛生福利部表示，依據《食品安全衛生管理法》規定，違法業者可處6萬元以上2億元以下的罰鍰，如情節重大更可處7年以下有期徒刑。請問：

53. 如果業者認為罰鍰處分不當，必須先提出下列何者以進行救濟？(A)訴願(B)行政訴訟(C)仲裁(D)民事訴訟


54. 如果要對業者進行司法審判，負責的檢察官須先經過下列哪種程序？(A)自訴(B)告訴(C)公訴(D)告發

55. 妮妮在課堂上發表關於刑事訴訟的某種方式，其發言如圖(二十三)，由圖中內容可知，其言所指為何？(A)告訴(B)告發(C)偵辦(D)自訴。



▲圖(二十三)

56. 政府從事公共建設時，興建所需的用地，多是政府依法進行徵收，並對地主予以補償。政府徵收土地雖然對人民權力有所限制，但並不違反《憲法》，主要是基於什麼原因？(A)防治妨礙他人自由(B)避免緊急危難(C)維持社會秩序(D)增進公共利益。



57. 圖(八)是小米探討國際關係時，用來輔助說明研究議題的圖形。根據圖中內容判斷，他最可能是在探討下列哪一項主題？(A)全球貧富差異(B)國際貨幣貶值(C)經濟成長穩定(D)跨國企業增加。

58. 依據我國均權制度的設計，事物應全國一致性者，由中央管理；有因地制宜之性質歸地方管理，由地方政府來負責。下列何者屬於地方政府的工作範圍？(A)發展文化特色以帶動觀光事業(B)派遣大使進駐於友邦之大使館(C)向外國購買防禦性軍事武器(D)修改我國《憲法》與法律。

59. 美國曾在 19 世紀至 20 世紀初期，為了保障白人的參政權，防止黑人、美洲原住民與墨西哥裔之國民擁有投票權，規定繳納人頭稅者、有讀寫能力者才能投票，唯一例外是在南北戰爭前即擁有選民資格者及其後代者，亦有投票權，此法案被稱為「祖父條款」。請問：「祖父條款」違反了何種投票原則？(A)普遍 (B)平等 (C)直接 (D)無記名。

60. 為維護身心障礙者之權益，保障其平等參與社會、政治、經濟、文化等機會，促進其自立及發展，政府制定《身心障礙者權益保障法》，規定公營、私營部門進用身心障礙者的門檻，將就業機會留給身心障礙者。請問：此做法符合下列何種理念？

(A)維護社會公平正義(B)促進社會階層流動(C)降低大眾失業率(D)區隔特殊族群利益。

閱讀下列選文，回答第 19 至 21. 題：

為刺激經濟景氣，提升人民的消費能力與購物慾望，我國政府於 2009 年對國民與具有長期居留資格的住民全面發放「振興經濟消費券」，每人新臺幣 3600 元，並規定應在同年 9 月 30 日之前使用完畢。一般民眾高興有「錢」可花，但其實在消費券發放的同时，政府亦發行公債，舉債 858 億元，此舉等同於是在向未來借錢。請問：

61. 發放「振興經濟消費券」的主管機關應屬於下列何者？

(A)財政部(B)經濟部(C)中央銀行(D)臺灣銀行。

62. 對於發放「振興經濟消費券」的措施，表示「看得見的手」已介入干預市場經濟制度運作，此「看得見的手」是指？

(A)學者(B)人民(C)政府(D)專家

63. 對於發放「振興經濟消費券」之措施，仍需要由下列何機關監督執行狀況與結果？(A)司法院大法官會議(B)監察院審計部(C)立法院經濟委員會(D)考試院銓敘部。