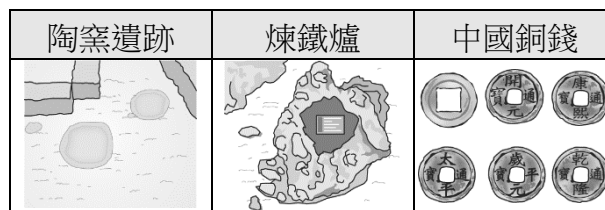


一、單一選擇題：每題2分，共74分

- () 1、將遺址繪製成層層堆疊的文化層，位於最底層的應該是哪一個時代的文物？
(A)電器時代 (B)金屬器時代 (C)新石器時代 (D)舊石器時代。
- () 2、明朝與清朝均曾實施「海禁政策」。關於上述其原因分別為下列何者？
(A)前者為鄭氏父子、後者為倭寇 (B)前者為倭寇、後者為鄭氏父子 (C)前者為日本、後者為西班牙 (D)都是為了鄭氏父子。
- () 3、十七世紀的台灣是海盜及走私者的天堂，如果了解上述現象，我們可研讀誰的傳記？
(A)鄭芝龍 (B)施琅 (C)沈有容 (D)劉銘傳。
- () 4、學者曾指出，新石器時代的指標是「產食經濟的發展」，人類從被動依賴大自然提供食物，轉變成主動的糧食生產者。由此可知：學者主要是強調新石器時代中何者對人類生活的重大影響？ (A)用火 (B)漁獵 (C)農耕 (D)煉鐵。
- () 5、歷史老師要求學生在教室布置一個屬於舊石器時代的文化特區，下列哪一個文化不應該陳列其中？ (A)吃剩的水果殘渣 (B)木柴燃燒後的灰燼 (C)用火燒製而成的陶器 (D)用打製方式製造而成的粗糙石器。
- () 6、透過對哪一樹種的研究，可推論史前時代的台灣原住民與太平洋諸島有交流？
(A)樟樹 (B)台灣杉 (C)檜木 (D)構樹。
- () 7、史前時代各個階段的分界，主要是依據什麼？
(A)文字的紀錄 (B)使用器物類型 (C)人種類別 (D)定居的地點。
- () 8、「秀秀的祖先世居新竹，屬於道卡斯族的後代子孫，但她卻以為自己是漢人，渾然不知自己祖先的歷史。」關於上述現象，該如何解釋最恰當？
(A)平埔族與漢人互動頻繁，被漢化 (B)漢人以武力征服平埔族
(C)平埔族與高山族械鬥，平埔族失敗 (D)平埔族人數少，最後融入高山族。
- () 9、北興戲劇社的同學想表演穿越劇，劇本中想表現「長濱文化人穿越到現代過節日的方式」。下列四個節慶活動，何者最能呼應長濱文化人的生活方式？
(A)清明節吃潤餅 (B)春節領紅包 (C)端午節包粽子 (D)中秋節烤肉。
- () 10、每年政府機關在台南市的古蹟「延平郡王祠」舉行祭祀，這是為了追念何人的功業？
(A)鄭芝龍 (B)顏思齊 (C)鄭成功 (D)沈葆楨。
- () 11、俗話說：「民以食為天。」鄭氏時期是用何種方法來解決糧食短缺的問題？
(A)積極從事土地拓墾 (B)向日本、南洋購買稻米 (C)強逼原住民提供糧食 (D)從中國走私稻米。
- () 12、考古學者在下列哪一個史前文化遺址發現台灣最早的稻米化石？
(A)十三行遺址 (B)大坌坑遺址 (C)南關里遺址 (D)圓山遺址。
- () 13、鄭氏治台時期，曾實施「寓兵於農」的政策，該政策實施的最主要目的與下列何者有關？
(A)生產出口物資 (B)解決糧食問題 (C)取得軍火物資 (D)提高租稅收入。
- () 14、八月一日為原住民族日，紀念這一天《憲法》條文正式將「山胞」修正為「原住民」，確立台灣原住民在法律上的地位。請問：這個事件應該生在哪一個時期？
(A)鄭氏時期 (B)清帝國時期 (C)日治時期 (D)中華民國時期。
- () 15、十七世紀，鄭成功鄭經父子先後來到台灣，建立政權。當時他們除實施墾殖外，亦採行下列何種方法維持財政？ (A)實施公有共享制度 (B)與原住民交換貨物 (C)對外拓展海上貿易 (D)引進西方開礦技術。
- () 16、「這個史前文化會用石板棺把死去的親人埋葬在住家地面下。死者仰身平躺，腳多朝向都蘭山。棺內常有精美的陪葬品，展現他們的工藝技術。」依據上文，下列對於這個史前文化的敘述，何者錯誤？ (A)該文化遺址位於台灣東部 (B)屬於新石器時代的史前文化 (C)當時已有埋葬死者的觀念 (D)陪葬品中有精美的玻璃手環。
- () 17、台灣舊地名往往是追溯歷史的活化石，若要研究西班牙治台的情形，下列何者較沒有參考價值？ (A)雞籠 (B)淡水 (C)大員 (D)蛤仔難。

- ()18、16、17世紀的臺灣為何成為國際競爭的重要據點？ (A)臺灣島內農產豐富 (B)歐洲人稱呼臺灣為「美麗之島」，使得臺灣聲名大噪 (C)臺灣島上並無統一政權，各國都想掠奪臺灣的礦產資源 (D)臺灣的地理位置恰好位於東亞國際貿易航線的樞紐。
- ()19、美美日前至澎湖旅遊，見到一塊「沈有容諭退紅毛番韋麻郎等」碑。請問：碑上所指的「紅毛番」是下列何人？ (A)荷蘭人 (B)西班牙人 (C)葡萄牙人 (D)英國人。
- ()20、下列何者是鄭氏政權初來臺灣最迫切須要解決的問題？ (A)清廷的軍事威脅 (B)倭寇的騷擾 (C)糧食的不足 (D)士兵的水土不服。
- ()21、關於荷蘭占領臺灣的始末，下列論述何者正確？ (A)曾企圖占領澎湖，但因明軍驅逐，轉而占領臺灣 (B)因對日貿易計畫受挫，而減少在臺駐軍 (C)荷蘭占領臺灣期間，經常與葡萄牙商人發生糾紛 (D)領臺期間共16年，比西班牙治臺時期短。
- ()22、珮珮搭乘西部幹線區間車，發現列車不斷經過以「營」為名的車站，例如：左營、林鳳營、柳營、新營。請問：。珮珮搭乘的區間車最可能位於以下哪一路段？ (A)嘉義—臺中 (B)臺中—新竹 (C)高雄—嘉義 (D)新竹—基隆。
- ()23、以下有關長濱文化人的生活：「諾魯(甲)磨製了一些石器，跑到海邊去(乙)捕魚，居然抓到一條大魚，他將魚骨放進(丙)陶器煮湯，(丁)升起了火準備烤魚，並取出(戊)耕種的米，忙碌的準備晚餐。」請問：上述符合史實的共有幾項？ (A)5 (B)4 (C)3 (D)2。
- ()24、神話傳說雖無文字記載，但經過口耳相傳卻是歷久彌新。請問：下列哪一族原住民有「白鹿傳說」，內容為白鹿帶領該族祖先來到日月潭這個美麗聖地？ (A)邵族 (B)鄒族 (C)排灣族 (D)西拉雅族。
- ()25、晶晶最近在閱讀一本依史實時間編寫的《大航海時代的福爾摩沙》，內容有很多引人入勝的台灣歷史故事。請問：以下哪一段情節最晚才會出現？ (A)西班牙士兵亨利進攻蛤仔難 (B)清帝國士兵馬躍跟隨施琅渡過台灣海峽，攻打台灣 (C)日本頒布鎖國政策，日商退出東亞貿易競爭 (D)明朝士兵楊道奉命傳令給荷蘭人，要求撤離澎湖。
- ()26、人類漫長的演化過程中，用來區別「史前時代」和「歷史時代」的重要依據為下列何者？ (A)石器的製作方式 (B)陶器的有無 (C)文字的發明 (D)農業的出現。
- ()27、在清帝國時期的臺灣地方縣志中，常可看到以「生番」、「熟番」的名詞來稱呼原住民，當時清廷區分生、熟番的標準為何？ (A)居住地區的不同 (B)是否歸順朝廷 (C)打獵或農耕的生活型態 (D)以種族血統來區分。
- ()28、亨利王子是國王若昂一世的第三子，他不是王儲，卻在他的國家中有其影響力，建立了全世界首間航海學校、天文臺、圖書館、港口及船廠，也是在他的大力推廣與建立基礎上，他的國家率先找到前進東方的新航路，而且占領中國的澳門作為貿易的據點。根據上述，亨利王子是哪一國家的人？ (A)西班牙 (B)葡萄牙 (C)印度 (D)日本。
- ()29、《東瀛事略》提到：「成功父子闢地海外，自保一隅，延及三世，有明遺老矢志不食周粟者類皆航海東渡，往依鄭氏。臺灣文化之盛，與各行省相埒，皆鄭氏先導之功也。」請問：可以說明上文中畫底線部分的事蹟是下列何者？ (A)鄭芝龍開墾南臺灣成為東亞海域霸主 (B)鄭克塽設立承天府為行政中心 (C)鄭經受封為「延平王」 (D)鄭成功以臺灣作為反清復明的基地。
- ()30、十七世紀時，有封信函中提到：「今年有兩艘船前往我們統治的雞籠，除了補給外，也負責購買中國商品運回我國的根據地馬尼拉，但船隻卻遲遲未回；且原先每年從中國與澳門前來馬尼拉貿易的船隻也還沒進港。我擔心若進口貨物不足，我們會蒙受許多的損失。」根據上文判斷，此封信函最可能是下列何者之間的通信？ (A)葡萄牙使節給明朝皇帝 (B)鄭經給英國東印度公司 (C)臺灣長官給巴達維亞總督 (D)菲律賓總督給西班牙國王。


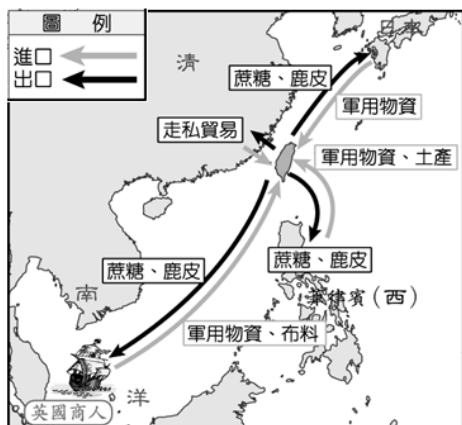
- () 31、左下圖呈現古代人類的幾種生活樣貌，臺灣的大坌坑文化應涵蓋其中哪些活動？
(A)甲乙丁戊 (B)甲丙丁戊 (C)乙丁戊己 (D)丙丁戊己。



- () 32、右上圖為臺灣某一史前文化遺址的圖片，根據其內容判斷，此一文化應為下列何者？
(A)長濱文化 (B)圓山文化 (C)大坌坑文化 (D)十三行文化。
- () 33、荷蘭東印度公司總督曾說：「臺灣真是一頭好乳牛。」這句話表示臺灣為他們公司帶來相當大的利益。這是因為荷蘭人積極經營下列哪些臺灣的特產？甲、蔗糖；乙、稻米；丙、鹿皮；丁、香料。
(A)甲乙丙丁 (B)甲乙丙 (C)甲乙丁 (D)乙丙丁。
- () 34、左下圖是關於十七世紀臺灣地震的紀錄：「這年二月十五日發生強烈地震，這是我們入臺統治以來最大的地震，漢人店鋪倒塌二十多間，還有婦人及小孩被壓死，熱蘭遮城也多處龜裂。長官立刻向總部呈報，要求儘快從暹羅（今泰國）運木材來進行修復工作。」文中的「總部」，最可能位於下圖中甲、乙、丙、丁何處？
(A)甲 (B)乙 (C)丙 (D)丁。



- () 35、右上圖為安安在臺灣歷史書籍中看到的圖片，有關此圖的標題應為下列何者？
(A) 17 世紀荷蘭在東亞的貿易據點分布圖 (B) 南島語族分布範圍圖
(C) 17 世紀葡萄牙在東亞的貿易據點分布圖 (D) 鄭氏政權的疆域範圍圖。
- () 36、臺灣位於西太平洋南來北往的重要交通樞紐，自古以來國際貿易發達，由左下圖中的路線與商品，可推測這應為臺灣在哪一個時期的對外貿易網絡？
(A)荷治時期 (B)鄭氏時期 (C)西班牙治台時期 (D)清帝國早期。

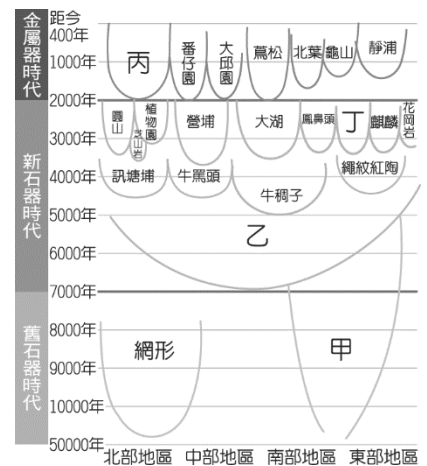


- () 37、佳佳參加社區舉辦的臺南古蹟之旅，右上圖為她參觀某一古蹟時導遊的解說。請問：這座古蹟最初的名稱為何？
(A)熱蘭遮城 (B)普羅民遮城 (C)天后宮 (D)紅毛城。

二、題組，每題2分，共26分

(一) 附圖為臺灣史前文化的時間與空間架構圖。請問：

- () 38、圖中「甲」文化最有可能是何者？
 (A)長濱文化 (B)卑南文化 (C)十三行文化
 (D)大坌坑文化。
- () 39、關於圖中「乙」文化生活的報告，下列哪一項內容不可以出現在報告中？ (A)製作陶器儲水 (B)出現農業種植 (C)使用磨製石器 (D)發現青銅刀柄。
- () 40、臺灣約距今多少年前始進入到新石器時代？
 (A)兩萬多年前 (B)七千多年前 (C)兩千多年前
 (D)四百多年前。
- () 41、具有煉鐵技術與能力的是圖中哪一個史前文化？
 (A)甲 (B)乙 (C)丙 (D)丁。



- (二) 17世紀前期，日本德川幕府因見識到西方火槍的威力，認為西方武器將會破壞日本穩固的社會階級，再加上天主教傳教士屢屢在日本製造事端，因此德川幕府頒布政策禁止其人民到海外貿易，只准荷蘭與中國商人進行貿易。請問
- () 42、文中日本德川幕府頒布的政策為何？
 (A)海禁政策 (B)開港通商 (C)鎖國政策 (D)南進政策。
- () 43、當時日本只開放何地進行貿易？ (A)長崎 (B)東京 (C)神戶 (D)名古屋。
- () 44、文中受到日本這項政策衝擊最大的西方勢力為下列何者？
 (A) 荷蘭人 (B)英國人 (C) 葡萄牙人 (D) 西班牙人。

(三) 課堂上同學們正在討論臺灣某三處史前文化遺址。

請根據附圖中的討論內容，回答下列問題：

- () 45、甲同學所說的遺址應該是下列何者？
 (A)大坌坑文化 (B)卑南文化 (C)圓山文化
 (D)十三行文化。
- () 46、乙同學說的遺址應屬於下列哪一時期？
 (A)舊石器時代 (B)新石器時代 (C)鐵器時代 (D)銅器時代。
- () 47、三位同學們所討論的主題應該是下列何者？
 (A)臺灣新石器遺址的發展 (B)臺灣原住民族的文化 (C) 臺灣青銅文明的進步
 (D) 臺灣史前遺址的特色。



(四) 附圖為《漫畫臺灣歷史》中的一幅漫畫，圖中的人實際上是由廈門來臺的漢人軍隊，他們採取自耕自食的方式生活，目前臺灣仍保有許多和此拓墾方式相關的地名。請問：

- () 48、圖中的拓墾方式，出現在下列哪一時期的臺灣？
 (A)17世紀後期 (B)18世紀前期 (C)19世紀後期 (D)20世紀中期。
- () 49、這些進行拓墾的漢人軍隊，是跟隨下列何人來臺的？
 (A)鄭芝龍 (B)鄭成功 (C)鄭經 (D)鄭克塽。
- () 50、目前臺灣仍保有許多和此拓墾方式相關的地名，這些地名主要位於下列哪一地區？(A)宜蘭 (B)桃園 (C)南投 (D)臺南。

平時生活是農夫



到了戰時是軍人



