


單一選擇題(每題2分，共100分)

一、傳統建築型態可以反映出當地區域特色，受到降水量、地形、氣候等因素影響，其建築所使用的建材及呈現出的建築型式，也都有所不同，圖1為四種中國境內常見的傳統建築，圖2為四大高原分布圖。請問：

1. ( )草原上的民族，因為逐水草而居，經常要搬遷，故傳統民居必須容易拆遷，請問，該民族應該選擇圖1中的何種傳統建築？(A)甲 (B)乙 (C)丙 (D)丁。

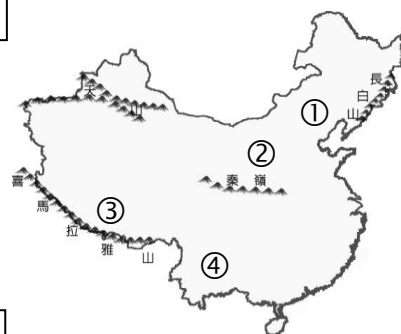


2. ( )中國某地利用黃土不易崩塌的特性，挖鑿而成的傳統民居，通常分布在乾

▲圖1

燥少雨的氣候區，指的是圖1中的哪一民居？(A)甲 (B)乙 (C)丙 (D)丁。

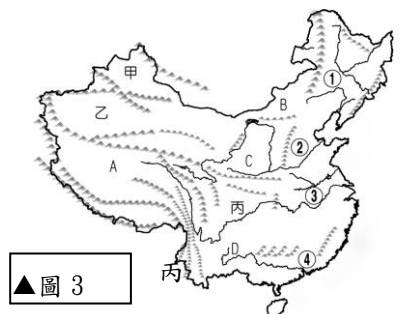
3. ( )承第2題，此民居最可能分布在圖2何地？(A)① (B)② (C)③ (D)④。



▲圖2

二、請根據圖3的中國地形簡圖，回答下列問題：

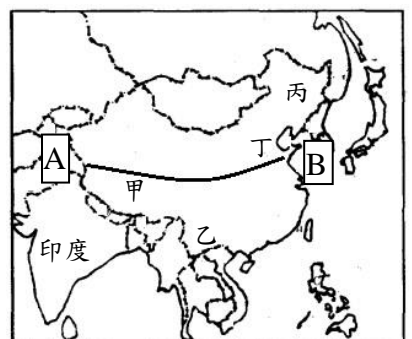
4. ( )觀察圖3中的山脈走向，中國西半部山脈的走向，多以何種方向為主？(A)東—西 (B)南—北 (C)東北—西南 (D)西北—東南。
5. ( )承第4題，中國西半部的山脈走向，是因為什麼板塊推擠歐亞板塊而形成？(A)印澳 (B)北美 (C)太平洋 (D)阿拉伯。
6. ( )觀察圖3中的河川，其主要流向為何？(A)← (B)→ (C)↑ (D)↓。



▲圖3

三、圖5為中國「36°N」剖面線圖，大致沿著圖4的AB線段繪製，形成了高、中、低三階的地勢，請回答下列問題：

7. ( )圖5的→所指的方向為何？(A)東 (B)西 (C)南 (D)北。
8. ( )「低階」的地形主體為何？(A)平原、丘陵 (B)丘陵、高原 (C)高原、盆地 (D)高原、平原。
9. ( )圖5中「中階」的地形有何特色？(A)石灰岩地形 (B)平坦遼闊 (C)寒冷荒涼 (D)受水流侵蝕嚴重。
10. ( )由圖5可知中國地勢西高東低，何者地理現象受其影響？(A)人口分布西部 (B)山脈多呈東西走向 (C)南北作物不同 (D)暖溼的海洋氣流可吹入內地。

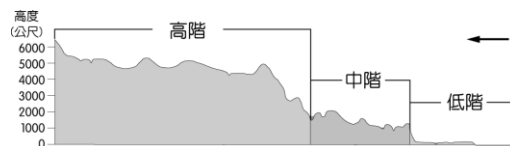


▲圖4

11. ( )水源充足的平原或盆地，利於農業發展，是中國人口集中的地區。請問，圖4中的丙，是哪一平

原？(A)珠江三角洲 (B)長江三角洲 (C)華北平原 (D)東北平原

12. ( )小翰到中國旅遊，看到旅遊導覽寫著：「奔馳在海拔五千多公尺高的鐵路，是歷經數十年打破凍土阻礙，沿途行經浩瀚無垠的戈壁灘、湛藍通透的青海湖，豐富多樣的瑰麗風景，既神祕且震懾人心。」，根據導覽內容，小翰最可能到「中國衛星影像圖」中的何地旅遊？(A)甲 (B)乙 (C)丙 (D)丁



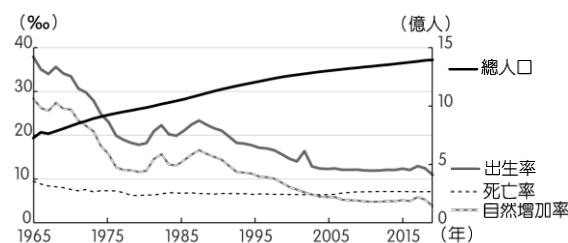
▲圖5

13. ( )2019年非洲爆發嚴重蝗災，造成災害的沙漠蝗蟲喜好溫熱的環境，不僅可遠距離飛行，飛行高度甚至可及2,000公尺高，極易擴散，災害在2020年3月已自非洲蔓延至印度。請你根據上述，觀察圖4中何地最有可能先受到蝗蟲侵擾？(A)甲 (B)乙 (C)丙 (D)丁

四、圖 6 是中國出生率、死亡率、自然增加率和總人口統計圖，圖中顯示中國總人口數接近 14 億，是世界人口總數最多的國家。中國人口數多有許多的優缺點，因此不同時期有不同的人口政策與因應口號。

- 甲、一人超生，全村結紮。                      乙、寧可血流成河，不准超生一個。  
丙、引下來！流下來！就是不能生下來。      丁、實施二胎政策，共築家庭幸福夢。  
戊、生男生女都一樣，女兒也是傳後人。

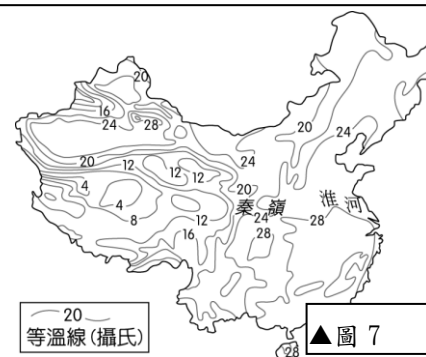
14. ( )圖第 6 中顯示，中國自然增加率已下降很多，但為什麼每年人口數仍增加許多？(A)人口大量移入 (B)死亡率大幅下降 (C)人口總數多 (D)糧食增加  
15. ( )中國總人口數接近 14 億，如此多的人口數有怎樣的優點？ (A)勞動力充足、市場廣大 (B)軍源充足、環境破壞 (C)市場廣大、糧食不足 (D)天然資源不足  
16. ( )由圖 6 可知造成人口成長的主因為何？(A)出生 (B)死亡 (C)移入 (D)移出。  
17. ( )人口過多也有許多的缺點，中國為減少人口增加，因此實施了何項人口政策？  
(A)補助幼兒教育 (B)增加就業機會 (C)老人安養福利 (D)一胎化政策。  
18. ( )承第 17 題，中國推出何口號，以顯示推動此政策的迫切性？(A)甲乙丙 (B)乙丙丁 (C)丙丁戊 (D)甲丁戊



▲圖 6

五、圖 7 為中國某季節的氣溫分布圖，依圖判斷，請問：

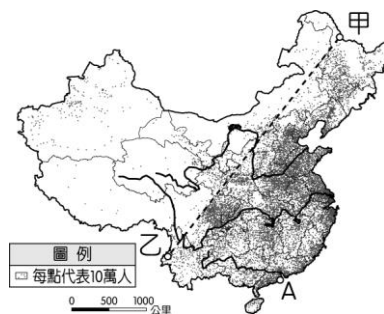
19. ( )由圖 7 可知，中國東半部普遍高溫，依此判斷最可能是哪個月份的氣溫圖？  
(A)一月 (B)三月 (C)七月 (D)十一月。  
20. ( )承第 19 題，造成各地普遍高溫的原因為何？(A)緯度低 (B)距海近 (C)盛行風強 (D)太陽直射北半球。  
21. ( )若依圖中資料加以判斷，氣溫最低的地區主要影響因素應該為何？  
(A)緯度 (B)距海遠近 (C)盛行風向 (D)地形。



▲圖 7

六、全球氣候變遷，新疆塔里木盆地塔克拉瑪干沙漠竟然也爆發洪災。根據大陸中國石化集團官方微博發布的消息，因天山山脈普降暴雨，加上高山雪水融化，疊加形成季節性洪水襲擊，淹水面積廣達 300 多平方公里。

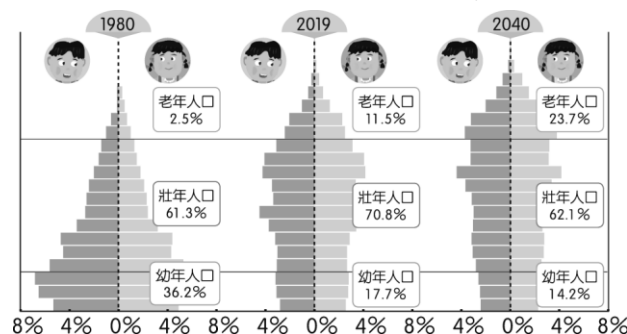
22. ( )塔克拉瑪干沙漠為中國第一大沙漠，該區氣候特徵為何？(A)氣候濕潤 (B)冬天吹東北風 (C)年溫差大 (D)日溫差小。  
23. ( )根據文章判斷，該洪水襲擊最可能發生在哪一個季節？(A)春 (B)夏 (C)秋 (D)冬。  
24. ( )從圖 8 中國人口分布圖中發現，新疆地區人煙稀少，也使得傷害降至最低。請問，中國境內的人口多集中於東半部地區，此種人口分布特色和哪一個因素的關係最小？(A)地勢高低 (B)工商發展 (C)氣溫高低 (D)降水量多寡。  
25. ( )綠洲的人口密集，為中國西半部地區的精華區，也是洪水侵襲的重災區。請問：其分布主要和下列哪一種資源有關？(A)石油 (B)牲畜 (C)水源 (D)林木。



▲圖 8

七、圖 9 是 1980~2040 年中國人口金字塔圖，請回答下列問題：

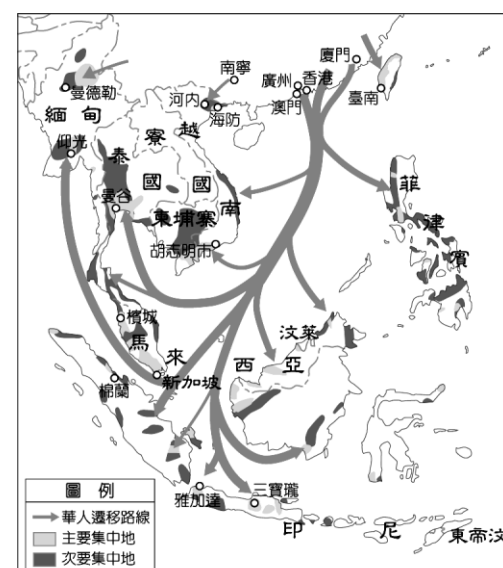
26. ( )由圖 9 的人口金字塔判斷，下列何者為圖中幼年人口所呈現出的趨勢？(A)教育程度低落 (B)人數過多 (C)少子化 (D)性別比失衡。  
27. ( )有關中國人口問題的敘述，何者正確？(A)1970 年代後期人口開始減少 (B)面臨未來勞動力不足的問題 (C)可看到中國有大量移民 (D)死亡率有提高的趨勢。  
28. ( )承第 27 題，為了解決人口問題，中國進行了何項人口政策調整？  
(A)二胎化 (B)改善醫療衛生 (C)均衡區域發展 (D)禁止移民。



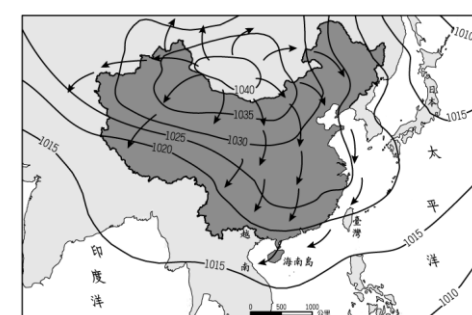
▲圖 9

八、中國人口眾多，但由於各地的自然條件和產業活動差異，促使人口離開家鄉往外尋找生存的機會，形成國內外的人口遷移。圖 10 為明清時期的華人遠渡重洋到東亞或東南亞國家開墾示意圖。

29. ( ) 明清時期，因東南沿海地區人口快速增加，導致居民遠渡重洋移居別處開墾。請問：上述人口遷徙的主要推力最可能為下列何者？ (A) 降水量少 (B) 人口稀少 (C) 糧食不足 (D) 地勢高聳。
30. ( ) 漢人遠渡重洋到東南亞、臺灣開墾，並將漢人的生活習俗、飲食習慣帶到當地。上述現象稱為下列何者？ (A) 文化衝突 (B) 文化擴散 (C) 人口遷移 (D) 人口移動。
31. ( ) 承第 30 題，由圖 10 中的遷移路線判斷，下列何處較不容易見到中國文化的影響與融合？ (A) 寮國 (B) 泰國 (C) 緬甸 (D) 馬來西亞。
32. ( ) 當時的華人要移民東南亞時，受季風風向影響有季節性，根據圖 11 判斷，應該是哪一個季節？ (A) 春季 (B) 夏季 (C) 秋季 (D) 冬季
33. ( ) 圖 11 中的高壓中心位在何處？ (A) 北韓 (B) 蒙古 (C) 印尼 (D) 哈薩克
34. ( ) 根據季節判斷，中國東南沿海地區人民外移東南亞時，當時的季風風向為何？ (A) 東南風 (B) 西南風 (C) 東北風 (D) 西北風。
35. ( ) 印尼最大的唐人街位於雅加達的草埔 (Glodok)。草埔知名的建築物金德院，便是當地最早的華人寺廟之一。除印尼之外，許多東南亞國家也有不少華人居住，請問：這些華人的祖先原先最可能居住在中國境內哪種地理環境？ (A) 水草豐美的草原 (B) 丘陵或沿海平原 (C) 群山環繞的盆地 (D) 寒冷荒涼的高原。

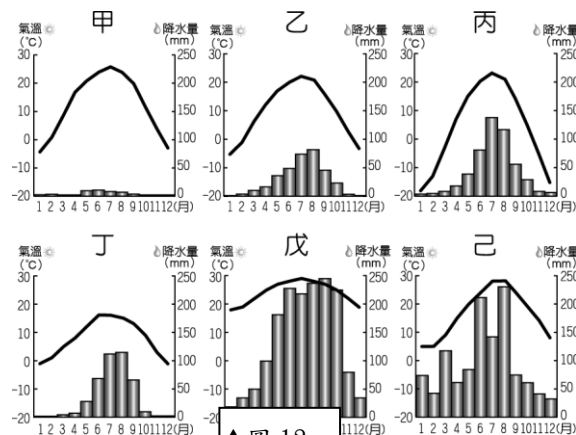


▲圖 10



▲圖 11

九、中國面積廣大，形成多樣性的氣候分布特色。圖 12 為中國境內某六個城市的氣候分布圖，請問：。







▲圖 12



▲圖 13

36. ( ) 影響中國氣候的因素包含了緯度位置、距海遠近及地形起伏等。請問：圖 12 中何者受到地形起伏的影響最大？ (A) 甲 (B) 丙 (C) 丁 (D) 己
37. ( ) 圖 12 中甲為溫帶沙漠氣候，其判斷的依據何者為非？ (A) 一月均溫  $< 0^{\circ}\text{C}$  (B) 年雨量  $< 250\text{mm}$  (C) 七月均溫  $> 20^{\circ}\text{C}$  (D) 年溫差  $< 1^{\circ}\text{C}$ 。
38. ( ) 圖 13 為城市分布圖，請依序配對哈爾濱、上海、三亞的氣候圖，何者正確？ (A) 丙甲戊 (B) 丙己戊 (C) 丁己戊 (D) 乙丁己
39. ( ) 從哈爾濱到上海再到三亞，一月月均溫有愈來愈高的趨勢，這與下列哪項因素最相關？ (A) 經度跨距 (B) 地勢高低 (C) 緯度高低 (D) 距海遠近。
40. ( ) 拉薩位在青藏高原上，有關於青藏高原的描述，下列何者有誤？ (A) 地勢高聳 (B) 夏季溫度較同緯度其他地區低 (C) 氣溫與植被隨高度呈垂直變化 (D) 位在中國三大氣候區的乾燥氣候區中

十、英國廣播公司（BBC）2016 年報導安徽省有座「光棍村」，性別比嚴重失衡。以安徽省為例，都市出生的第一胎性別比為 109，但第二胎的性別比卻變成了 155。

41. ( ) 關於安徽省都市第一胎性別比 109，與第二胎性別比 155，哪兩位同學的敘述正確？  
菲菲：「安徽省都市第一胎出生的男嬰比女嬰少」  
安安：「安徽省都市第二胎出生的男嬰比女嬰多」  
靜靜：「安徽省都市第二胎出生的男嬰比例明顯增加」  
宇宇：「嬰兒性別比的提高可減緩未來單身男子的比例」  
(A) 菲菲、安安 (B) 靜靜、宇宇 (C) 安安、靜靜 (D) 菲菲、宇宇
42. ( ) 根據文章敘述，請判斷以下何者最可能是中國 2000 年後出生的人口性別比？  
(A)  (B)  (C)  (D) 。
43. ( ) 造成中國性別比失衡的主因為何？(A) 出生率高 (B) 老化嚴重 (C) 不婚主義 (D) 重男輕女。
44. ( ) 關於中國人口現況，下列敘述何者正確？(甲) 中國西半部人口遠多於東半部地區；(乙) 中國人口分布極為不均；(丙) 青藏高原並無人口分布；(丁) 中國人口分布受自然環境影響；(戊) 中國東半部人口密度遠高於西半部。  
(A) 甲乙丙 (B) 乙丙丁 (C) 甲丁戊 (D) 乙丁戊。

十一、中國面積相當廣大，傳統產業順應自然環境，各地不同。圖 14 為該國境內的農牧業活動分布圖，請根據圖中資料回答下列問題。

45. ( ) 圖 14 中呈現了中國境內的農業及牧業活動的分布地區，根據其位置判斷，其分界線最接近下列何者？(A) 年降水量 500 毫米 (B) 等高線 500 公尺 (C) 年均溫  $0^{\circ}\text{C}$  等溫線 (D) 一月月均溫  $0^{\circ}\text{C}$  等溫線。
46. ( ) 承第 45 題，其分界線大致為下列哪兩種氣候區的分界？(A) 草原氣候、沙漠氣候  
(B) 草原氣候、高地氣候 (C) 季風氣候、草原氣候 (D) 沙漠氣候、高地氣候。
47. ( ) 畫分水田區和旱田區的界線有：(甲) 等高線 500 公尺 (乙) 年溫差  $20^{\circ}\text{C}$  (丙) 一月月均溫  $0^{\circ}\text{C}$  等溫線 (丁) 年降水量 750 毫米等雨量線。正確的是哪兩項？(A) 甲乙 (B) 丙丁 (C) 甲丁 (D) 乙丙。
48. ( ) 圖 14 中呈現了水田區及旱田區，通常在水田區所種植的主要農作物為下列何者？(A) 冬麥 (B) 玉米  
(C) 春麥 (D) 稻米。
49. ( ) 中國的麵食為相當著名的地方美食，其他如包子、大餅等，亦為該國常見的食物。請問：麵條、包子等食物的原料小麥，主要種植於圖 14 中何處？(A) 甲 (B) 乙 (C) 丙 (D) 丁。
50. ( ) 從事畜牧業為主的丙地，當地乾燥少雨，其原因最主要為下列何者？(A) 地處高緯 (B) 距海遙遠 (C) 地勢高峻 (D) 河川流向。

