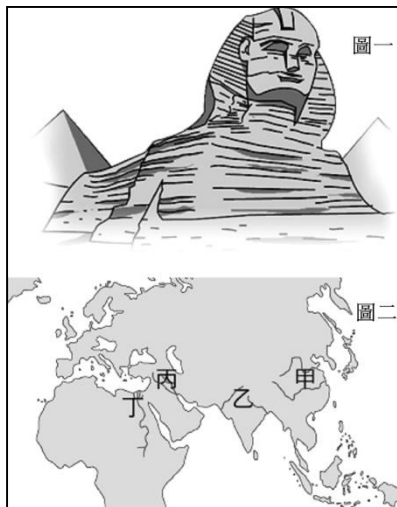


〈試題卷〉

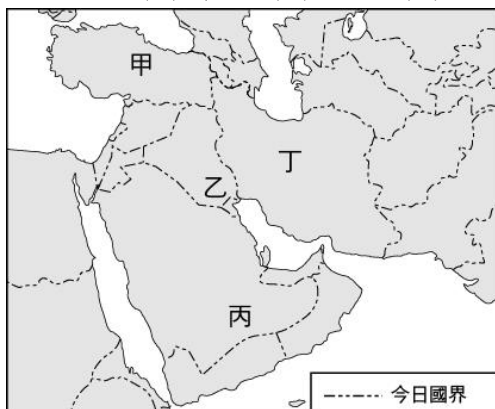
選擇題（一題 2 分，共 100 分）

1. () 某日老師帶領同學至國立歷史博物館參觀「美索不達米亞—兩河流域文物展」，在參觀此展覽活動過程中，同學最可能觀賞到的文物為下列何者？（甲）楔形文字泥板（乙）木乃伊（丙）《漢摩拉比法典》（丁）濕婆神像。（A）甲乙（B）甲丙（C）乙丁（D）乙丙。
2. () 歷史老師上課時講述了「出埃及記」的故事，內容在敘述摩西帶領猶太人逃出埃及，回到巴勒斯坦地區，並創立猶太教的過程。因為猶太人只奉上帝耶和華為唯一真神，請問：這種一神信仰影響了後來那些宗教？（A）佛教、基督教（B）祆教、伊斯蘭教（C）基督教、祆教（D）基督教、伊斯蘭教。
3. () 希臘史學家希羅多德曾經說過：「埃及是尼羅河的贈禮」，請問：這句話代表什麼意義？（A）尼羅河方便埃及人航行於亞、非兩洲（B）尼羅河定期氾濫，帶來肥沃的淤泥（C）尼羅河是天然的屏障，阻絕埃及與外地（D）尼羅河神是宇宙的主宰。
4. () 佩蓉假日時到電影院觀看「特洛伊—木馬屠城記」後，查閱相關資料得知，此影片是根據希臘史詩《伊里亞德》所改編。請問：此史詩傳說是由何人所寫成？（A）希羅多德（B）阿基米德（C）荷馬（D）歐幾里得。
5. () 羅馬人崇拜希臘藝術，但他們講究實際，喜歡具體、實在的物體，所以在各地廣設公共建築，如：公路、引水道、公共浴池…等。請問：在下列選項中，何者不是羅馬人的建築？（A）雅典娜神廟（B）加爾橋（C）萬神殿（D）羅馬競技場。
6. () 小丞某日在一本歷史書籍看到一段文字敘述：「『這個城邦』位於希臘羅伯奔尼撒半島東南部拉哥尼亞平原，是個實施軍事統治的城邦，公民唯一的職業就是戰士，從一出生就受戰爭的訓練…。」，請問：書中所題的『這個城市』應該是下列何者？（A）雅典（B）特洛伊（C）邁錫尼（D）斯巴達。
7. () 西亞古文化所涵蓋的地區非常廣，但也因為地勢平坦，交通便利，導致政權歷經多次更替。請問：西亞古文化所涵蓋的地區未包括下列何者？（A）小亞細亞（B）埃及（C）地中海東岸（D）伊朗高原。
8. () 意涵到某個國家旅遊時，參觀了當地非常著名的古代遺蹟，並拍下如圖一的照片。請問：意涵應是到圖二中的何處旅遊？（A）甲（B）乙（C）丙（D）丁。

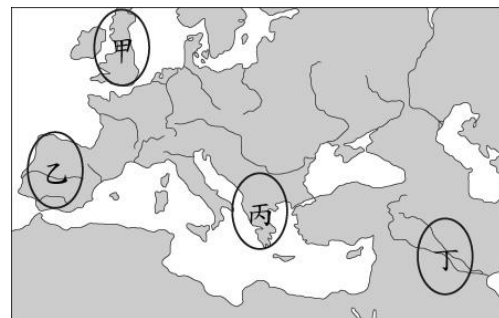


9. () 《斯巴達三百壯士》影片描述世上第一個橫跨歐、亞、非三洲的帝國，在不斷攻城略地後，最終前往希臘半島，要求各個城邦向他們獻降。斯巴達王因為激烈的抵抗，致使暫時阻斷這個帝國的征服之路。請問：這個帝國發源於右上附圖中的哪裡？（A）甲（B）乙（C）丙（D）丁。
10. () 有關古埃及的宗教觀念的敘述，下列何者正確？（A）埃及人認為人死後通過審判才可以復活，於是製作「木乃伊」保存軀體（B）尼羅河神代表循環不息的再生力量，而統治埃及的法老就是尼羅河神之子（C）埃及屬於一神信仰，他們相信太陽神為宇宙的主宰（D）埃及人具有因果報應的觀念。
11. () 《死者之書》是埃及通往永生的手冊，死者要在陰間接受陰間之神奧塞利斯審判，將死者的心臟放到天秤上，如果天秤能保持平衡，就能通過審判，獲得復生。請問下列何者與《死者之書》有關？（A）建造金字塔（B）尼羅河氾濫（C）製作木乃伊（D）書寫象形文。

12. () 西元前八世紀，羅馬人已開始在義大利中部的臺伯河畔建立羅馬城，之後經過幾世紀的發展，這股勢力稱霸整個地中海地區。在這個過程中，政治發展也經歷幾個政體，如果依歷史發展順序排列，下列何者正確？ (A) 帝國→共和→王政 (B) 王政→共和→帝國 (C) 王政→帝國→共和 (D) 共和→王政→帝國。
13. () 「定罪須以條文為準，在未確立一個人有罪前，他都是無罪的。」這個我們耳熟能詳的法律觀念，最早可在哪一法典中找到？ (A) 《漢摩拉比法典》 (B) 《查士丁尼法典》 (C) 《拿破崙法典》 (D) 《十二表法》。
14. () 北星電視臺最近開拍歷史片——羅馬風雲，計畫從古羅馬建城演到四世紀末帝國分裂為止。請問：下列哪個角色在此劇中的登場時間最晚？ (A) 王政時期的國王 (B) 掌有權力的元老院貴族 (C) 羅馬和平時期的皇帝 (D) 羅馬共和晚期崛起的軍人。
15. () 雅典和斯巴達都是希臘時代的重要城邦，關於這兩者的比較，下列何者正確？ (A) 前者實施民主政治，後者戰鬥實力堅強 (B) 前者公民需接受軍事訓練 (C) 兩城邦都是位於義大利半島 (D) 後者官員由抽籤產生。
16. () 利行在歷史書上看到一段介紹：「居住在這個地方的民族，擁有高度的農業文明，觀測月亮運行規則製作陰曆，使用六十進位制，並且在距今約五千年前左右創造出完整的文字系統，人類學家估計，這應該是目前世界上被發現的最早文字。」請問：這個民族居住的地方應該靠近圖（一）中的哪個區域？ (A) 甲 (B) 乙 (C) 丙 (D) 丁。



圖（一）



圖（二）

17. () 古代「這個地區」形成許多城邦，城邦各自為政，彼此之間戰爭不斷。戰爭需要士兵，士兵需要強壯身體，而體育是培養強壯士兵的重要關鍵。之後，準備兵源的軍事訓練和體育競技，與宗教慶典結合，逐漸變為世界性象徵和平與友誼的運動會。請問：上文中的「這個地區」位於右上圖（二）中的何處？ (A) 甲 (B) 乙 (C) 丙 (D) 丁。
18. () 明末利瑪竇、徐光啟曾合譯《幾何原本》前半部，請問：該書的原作者是下列何人？ (A) 阿基米德 (B) 歐幾里德 (C) 希羅多德 (D) 亞里斯多德。
19. () 古埃及時期測量學的成就很高，下列哪個因素和其發達的原因有密切關係？ (A) 為開挖蘇伊士運河 (B) 為興建防禦外敵的城牆 (C) 為製造木乃伊的棺槨 (D) 為丈量氾濫後的土地。
20. () 「西亞地區商業交易頻繁，為了維持日益複雜的社會關係和經濟活動，此地區人民特別重視契約和法律觀念。」根據上述說法，下列哪一項敘述正確？ (A) 古代西亞地區因為人人守法，故商業發達 (B) 古代西亞人民為天性守法的民族 (C) 法律用來規範複雜的社會關係，但與商業經濟無關 (D) 法律的出現與商業活動有關
21. () 請問希臘文化的先驅指的是哪一個地區？ (A) 地中海西岸 (B) 愛琴海地區 (C) 大西洋東岸 (D) 歐洲內
22. () 《伊斯坦堡（舊稱拜占庭）——一座城市的記憶》為奧罕·帕慕克獲得西元 2005 年諾貝爾文學獎的名著，帕慕克以細膩的筆觸描寫這座走過悠悠一千多年歲月的土耳其城市。請問：下列敘述何者正確？ (A) 羅馬皇帝將之擴建，並改名為君士坦丁堡 (B) 伊斯坦堡的歷史可追溯至希臘時代，當時名為尼尼微 (C) 伊斯坦堡位於義大利半島上，位置易守難攻 (D) 四世紀末羅馬帝國分裂，伊斯坦堡為西羅馬帝國首都。
23. () 羅馬帝國的創建者曾自豪的說：「我接受了一座用磚建造的羅馬城，卻留下一座大理石的城。」在他統治的時期，是羅馬經濟上最富庶的時代，當他死去時，元老院決定將他列入「神」的行列，稱他為「奧古斯都」。請問：這位創建者應是何人？ (A) 凱撒 (B) 屋大維 (C) 君士坦丁 (D) 查士丁尼。
24. () 西元四世紀末，羅馬帝國正式分為東西兩部分，而東方的拜占庭帝國在西羅馬帝國滅亡後，繼續在東方持續一千多年的政權，但最後被哪一個民族所滅？ (A) 塞爾柱土耳其人 (B) 阿拉伯人 (C)

日耳曼人 (D)鄂圖曼土耳其人。

25. () 易豪某日在研讀一本世界宗教史書中有一段內容記載：「『？』民族所信奉的宗教戒律“除我之外不可信別的神”、“不可崇拜偶像”，請問：『？』民族，應該是指下列何者？ (A)波斯人 (B)蘇美人 (C)巴比倫人 (D)希伯來人。
26. () 西元前 3000 年以後，不同的民族先後遷入兩河流域，建立政權。這些民族雖然使用不同的語言，但無礙於此地的文化交流與發展。請問：最主要的原因為何？ (A)兩河流域地形平坦 (B)各民族有相同的宗教信仰 (C)各民族使用通用的文字 (D)有專門的翻譯人員。
27. () 埃及古文化曾經有著璀璨的文化開展，其文化的發展甚至對於往後人類的歷史有著顯著的影響。請問下列關於埃及古文化的敘述，何者正確？ (A)埃及人發明了象形文字，此文字系統再經由埃及人的簡化與改良，之後逐漸成為西方拼音文字的基礎 (B)埃及人為了掌握尼羅河氾濫的時間，因而制定太陽曆 (C)古埃及文化在一些科學的成就上並不突出，不過因為需要製作木乃伊的因素，在醫學上有著很高的成就 (D)古埃及信仰以一神信仰為主，獨尊太陽神。
28. () 愛看書的小恩，某日在希臘神話故事中看到這段描述：『一顆刻著「獻給最美麗的女神」的金蘋果，引起美神阿芙羅黛蒂、天后希拉、戰爭女神雅典娜的爭奪，宙斯指示三人找特洛伊王子帕里斯仲裁，阿芙羅黛蒂答應給帕里斯世上最美的女人而得到金蘋果。後來她帶著他去找斯巴達公主海倫，也種下特洛伊戰爭發生的原因』。從這則希臘神話來看，下列敘述何者錯誤？ (A)希臘神明和人一樣具有七情六欲，亦會爭風吃醋 (B)宙斯應為希臘神明的領導者 (C)希臘人的宗教應屬於一神信仰 (D)描述特洛伊戰爭的《荷馬》史詩，取材自希臘神話。
29. () 拜占庭帝國即為東羅馬帝國，持續至西元 1453 年才滅亡。然而，西羅馬帝國便無此幸運，在西元 476 年便已滅亡。請問，西羅馬帝國的滅亡與下列哪一民族的入侵有關？ (A)日耳曼民族 (B)塞爾柱土耳其人 (C)希臘民族 (D)鄂圖曼土耳其人。
30. () 某一部古老的律法指出：「若一個平民打瞎另一個平民的眼睛，前者的眼睛應該被打瞎……若一個人盜竊神廟或宮殿中的財物，該被處死，購買贓物者一併處死……」學者認為，雖然這部律法的報復主義相當強烈，但是律法說明完整，內容涵蓋商業與損害賠償等多個類別，可見這個地區法治程度相當高。請問這部律法最可能來自以下何地？ (A)伊朗高原 (B)埃及 (C)希臘 (D)兩河流域。
31. () 因所在地區的位置、天然資源分布不同，故不同古文化的特色多有差異。下列有關於西亞與埃及古文化的文化特色，何者錯誤？ (A)蘇美：六十進位法 (B)希伯來：創立伊斯蘭教 (C)埃及：象形文字 (D)波斯：創立祆教。
32. () 彥榮剛看完一部電影，內容是講述一個希臘化時期偉大的物理學天才，在一次泡澡中竟然發現了浮力的原理。請問這部影片的主角應是下列何人？ (A)阿基米德 (B)歐幾里德 (C)希羅多德 (D)亞里斯多德。
33. () 屋大維登上羅馬的大位之後，往後的兩百年間，地中海區域沒有再發生任何戰爭，史家稱此時期為「羅馬和平」。請問：此時期是出現在羅馬的哪一個時期？ (A)東羅馬帝國時期 (B)共和時期 (C)王政時期 (D)帝國時期。
34. () 亞歷山大東征為帝國建立廣大的疆土，之後雖面臨分裂的局勢，「希臘化文化」的榮光仍然在世界史上璀璨閃耀。請問：希臘古典傳統與下列哪些文化交流而孕育出希臘化文化？(甲)埃及 (乙)印度 (丙)中國 (丁)西亞。 (A)甲乙 (B)乙丙 (C)甲丁 (D)丙丁。
35. () 有關「陶片流放制」的相關內容，下列敘述何者正確？ (A)此制度最早出現在斯巴達 (B)以投票陶片多寡來決定城邦領袖 (C)希臘化時期的重要制度 (D)由男性公民進行投票決定。
36. () 亞歷山大帝國是世界史中少數橫跨三洲的大帝國，下列關於此帝國的敘述何者錯誤？ (A)在各洲建立希臘化城市 (B)範圍東至印度河流域，西抵義大利半島 (C)此時的科學成就影響後世 (D)鼓勵士兵與被征服地區的女子互相通婚，以促進文化交流。
37. () 此人在羅馬共和晚期獨攬大權，西元前 44 年他被保守派貴族刺殺而死。請問：他應為何人？ (A)君士坦丁 (B)屋大維 (C)查士丁尼 (D)凱撒。
38. () 蘇美人在兩河流域中最早建立城邦，並發展出一系列的文化特色，影響往後兩河流域文化的發展。下列關於蘇美人的敘述，何者正確？ (A)蘇美人依照觀察太陽的結果，首先制定了太陽曆 (B)蘇美人曾制定《漢摩拉比法典》，統整出一套較為完善的法律觀念 (C)蘇美人採用六十進位法 (D)蘇美人並沒有使用任何文字系統，以至於我們只能透過蘇美人所遺留下來的圖畫來一窺其歷史面貌。
39. () 西元前六世紀末，羅馬人驅逐外族國王，自此進入共和時期。共和政府的權力主要掌握在貴族手

中，而羅馬在此時期也積極對外擴張，版圖橫跨歐、亞、非三洲。請問：由貴族所組成的權力組織為何？ (A)共和院 (B)元老院 (C)議會 (D)城邦。

40. () 關於希臘化文化的貢獻，下列敘述何者正確？ (A)荷馬史詩是希臘化時期最重要的文化遺產 (B)促進西亞、中國等文化的融合 (C)阿基米德的《幾何原本》至今仍為幾何學的經典 (D)以幾何學、物理學影響後世最深。
41. () 「腓尼基人」為古文化的一支重要的民族，其時常往返於歐、亞、非三洲，因此成為文化傳播的重要推手。下列關於「腓尼基人」的敘述當中，何者正確？ (A)腓尼基人為古西亞民族，主要居住在非洲與歐洲的交界地區 (B)腓尼基人以擅長陸路貿易經商聞名 (C)古埃及的象形文字透過腓尼基人的簡化後，傳到地中海一帶而逐漸成為西方拼音文字的基礎 (D)腓尼基人主要居住在地中海的西岸。
42. () 歷史老師請同學在上課時以「波斯」為主題上臺報告，請問：下列哪位同學的報告有誤？ (A)在其征服地區採取中央極權統治並消滅各地文化 (B)曾建立橫跨歐、亞、非三洲大帝國 (C)崛起於伊朗高原並曾經征服西亞和埃及等地 (D)信奉祆教，強調善惡二元對立的宗教觀念。
43. () 西歐在成為日耳曼民族世界的同時，在東方的拜占庭帝國仍然屹立不搖。西元六世紀時，有位君王積極恢復羅馬帝國的領土，曾經一度收復義大利、北非和西班牙等地。請問：這位君主應是下列何者？ (A)屋大維 (B)君士坦丁 (C)查士丁尼 (D)狄奧多西。
44. () 曉蕾前往歐洲旅遊，看到附圖中的宗教建築，建築裡面金碧輝煌，有金、銀、象牙、大理石、鑲嵌畫等裝飾，同時具有東正教和伊斯蘭教的建築特色。請問（圖一）：這棟建築應為下列何者？ (A)萬神殿 (B)聖索菲亞大教堂 (C)米蘭大教堂 (D)聖彼得大教堂。



(圖一)

珂竺：他曾經遊覽各地把旅行中所見所聞撰寫成書

家瑞：他的著作以波希戰爭為題材

嘉鈞：他有《歷史學之父》的稱號

45. () 歷史課時同學們正在討論古希臘某位歷史作家，由以上表格中三位同學的討論內容判斷，應該是下列何者？ (A)荷馬 (B)蘇格拉底 (C)阿基米德 (D)希羅多德。
46. () 2021年東京奧運在7月23日展開如火如荼的賽程，而代表中華隊的選手們也在許多項目中拿下輝煌的戰績。請問：有關於這項世界賽事的歷史淵源，以下敘述何者正確？ (A)起源於紀念波希戰爭勝利的儀式 (B)起源於古希臘人的祭神運動會 (C)改良自羅馬競技場的格鬥比賽 (D)為了紀念亞歷山大跨三洲的帝國而開始。
47. () 西元前八世紀時希臘形成許多獨立城邦，請問：主要是什麼原因造成的？ (A)因地形平坦便於許多民族建立城邦 (B)因河水縱橫，分隔不同區域 (C)宗教差異，相互敵視 (D)因希臘多山，地形崎嶇。
48. () 下列關於《漢摩拉比法典》的敘述，何者錯誤？ (A)是由人民共同議訂完成的法典 (B)強調「以牙還牙、以眼還眼」 (C)法典的名稱是以巴比倫王來命名 (D)為了維護日益複雜的社會關係和商業活動而制定。
49. () 金庸小說《倚天屠龍記》中描述六大派圍攻光明頂時，明教教徒曾齊唱：「熊熊聖火，焚我殘軀，生亦何歡？死亦何苦？」，元末流傳於中國的明教與西亞傳入的某教派有關。請問：下列何者是此教派的特色？ (A)此教認為人最終會屈服於黑暗的誘惑，天堂遙不可及 (B)明教教主張無忌須到總教所在的印度才能找到聖女小昭 (C)此教的起源地在小亞細亞地區 (D)此教派將世界區分為善與惡、光明與黑暗。
50. () 請將四個西方早期大帝國，依先後順序排列？(甲)拜占庭帝國 (乙)波斯帝國 (丙)亞歷山大帝國 (丁)羅馬帝國 (A)甲乙丙丁 (B)乙丙丁甲 (C)甲丁乙丙 (D)丙乙甲丁。