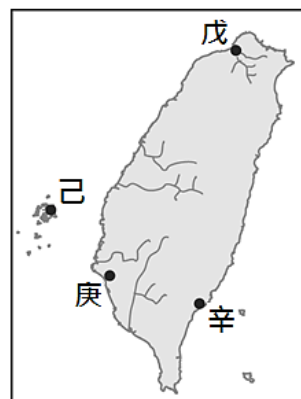


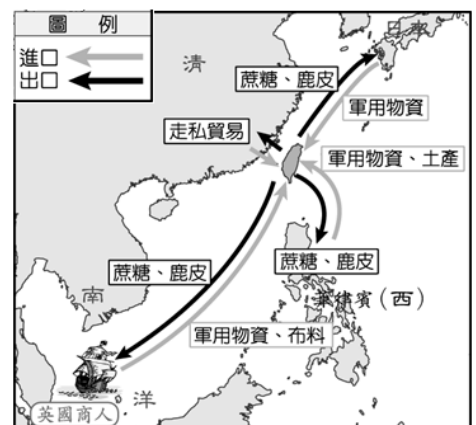
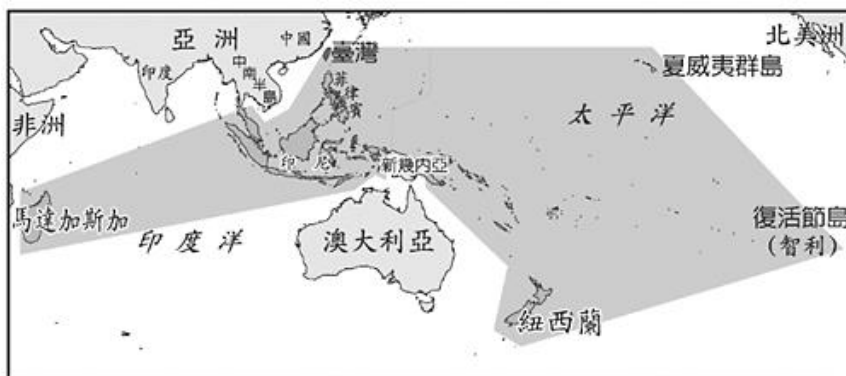
一、單一選擇題：每題2分，共66分

- ( ) 1、今年是西元2023年，那麼民國元年是西元幾年？  
(A)1901 (B)1911 (C)1912 (D)1922。
- ( ) 2、地緣政治要求著在地理空間上的全球性思考，在各強權中，最早具有全球關切的是大航海時代的歐洲殖民主義者。在大航海時代，下列哪一個歐洲國家最先占領台灣？  
(A)日本 (B)荷蘭 (C)西班牙 (D)葡萄牙。
- ( ) 3、淑惠參加歷史探查的課程旅行，途中經過一個濱海鄉鎮～將軍鄉，解說員提到將軍鄉的由來，與清朝某位將軍攻台之功有關。請問：此將軍應是下列何者？  
(A)鄭芝龍 (B)施琅 (C)沈有容 (D)劉銘傳。
- ( ) 4、學者曾指出，新石器時代的指標是「產食經濟的發展」，人類從被動依賴大自然提供食物，轉變成主動的糧食生產者。由此可知：學者主要是強調新石器時代中何者對人類生活的重大影響？ (A)用火 (B)漁獵 (C)農耕 (D)煉鐵。
- ( ) 5、西元1999年中華人民共和國正式收回澳門，結束澳門400多年的被殖民歷史。請問：中共是從哪一個國家手中收回澳門的主權？ (A)葡萄牙 (B)西班牙 (C)荷蘭 (D)英國。
- ( ) 6、透過對哪一樹種的研究，可推論史前時代的台灣原住民與太平洋諸島有交流？  
(A)樟樹 (B)台灣杉 (C)榕樹 (D)構樹。
- ( ) 7、將遺址繪製成層層堆疊的文化層，位於最底層的應該是哪一個時代的文物？  
(A)電器時代 (B)金屬器時代 (C)新石器時代 (D)舊石器時代。
- ( ) 8、蕙如翻閱史料，看到某段屬於原住民的紀載：「接近生番地界的番人村社，在村莊周圍築起柵欄，並派壯丁代弓箭等五器巡邏，隨時迎擊生番…」請問：以上敘述最有可能出自台灣的哪一時期？ (A)史前時代 (B)清領時期 (C)日治時期 (D)中華民國時期。
- ( ) 9、考古學家在今日台南科學園區內的南關里遺址，發現了炭化的稻米化石。請問：下列關於此項發現的敘述，何者錯誤？ (A)屬於新石器時代人類的生活型態 (B)此時人類食物的取得已可自主生產 (C)因食物取得漸趨穩定，文化活動得以快速發展 (D)稻米因種子大、好保存等優點，而成為舊石器時代人類的主食。
- ( ) 10、荷蘭東印度公司的總督稱讚：「台灣真是一隻好乳牛。」其主要原因是？  
(A)貿易利潤豐厚 (B)傳教事業順利 (C)台灣盛產鮮奶 (D)台灣礦產豐富。
- ( ) 11、左下附圖是17世紀歐洲人在東亞的重要貿易據點分布圖。請問：圖中乙地應是哪一國家的據點？ (A)西班牙 (B)葡萄牙 (C)荷蘭 (D)英國。



- ( ) 12、以下是一段17世紀的文獻記載：「西班牙人每年向該地的已婚原住民課徵二隻雞和三甘當米的稅，原住民感到無法忍受，所以襲擊該地的西班牙城堡，殺了三十個西班牙人。」此段記載最可能是描繪右上附圖中何處的情況？（註：甘當：一種量米的容器）  
(A)戊 (B)己 (C)庚 (D)辛。
- ( ) 13、在史前文化博物館裡，可以看到許多石器遺物，在這些遺物中，以圓山文化「石鋤」最引人注意。下列有關「石鋤」的敘述何者正確？ (A)是製作鐵器的工具 (B)主要功能是捕獵野獸 (C)可知已出現農業 (D)此石鋤出現在舊石器時代。

- ( )14、日月潭德化社為某原住民的主要居住地，舊名「化番社」，是日月潭周邊人口聚集最多的村落，到此地旅遊，也有機會欣賞到原住民族的歌舞表演。  
請問：上述的歌舞表演最可能由哪一族人所演出？  
(A)鄒族 (B)邵族 (C)排灣族 (D)凱達格蘭族。
- ( )15、北興國中舉辦戶外教學時來到雲林北港，老師除了介紹此地花生油及著名的北港朝天宮外，還有一位人士的開台紀念碑。此人是海商出身，從日本帶了一群人到台灣，並招募漢人渡台拓墾今雲林、嘉義一帶。請問：此人應是下列何者？  
(A)顏思齊 (B)鄭成功 (C)沈有容 (D)施琅。
- ( )16、郁慕家住高雄市前鎮區，先生在左營區工作，他們經常利用假日回老家台南市新營區探望父母。請問：上述畫雙底線的地名與下列何者有關？  
(A)荷蘭對原住民的教化 (B)西班牙傳播宗教信仰 (C)鄭氏時期的土地拓墾  
(D)大清帝國實施海禁政策。
- ( )17、亦傑想做有關台灣原住民的研究，在圖書館找資料時，他發現有一本名為「高砂義勇隊」的書，亦傑找到的這本書應是描述哪一時期原住民的情況？  
(A)大航海時代 (B)清帝國時期 (C)日治時期 (D)中華民國時期。
- ( )18、「這個史前文化會用石板棺把死去的親人埋葬在住家地面下。死者仰身平躺，腳多朝向都蘭山。棺內常有精美的陪葬品，展現他們的工藝技術。」依據上文，下列對於這個史前文化的敘述：甲、該文化遺址位於台灣東部 乙、屬於新石器時代的史前文化 丙、當時已有埋葬死者的觀念 丁、陪葬品中有精美的玻璃手環。正確者為何？  
(A)甲乙丙丁 (B)甲乙丙 (C)甲乙丁 (D)乙丙丁。
- ( )19、為了讓同學體驗長濱文化人類的生活，學校在中秋假期舉辦了一場體驗營，參加營隊的同學會有下列何者經驗？  
(A)住在洞穴中 (B)種植水稻 (C)與朋友書信往來 (D)手戴瑪瑙戒指。
- ( )20、下列何者是鄭氏政權初來臺灣時，最迫切須要解決的問題？  
(A)清廷的軍事威脅 (B)倭寇的騷擾 (C)糧食的不足 (D)糧食過剩。
- ( )21、以下有關長濱文化人的生活：「呆呆(甲)磨製了一些石器，跑到海邊去(乙)捕魚，居然抓到一條大魚，他將魚骨放進(丙)陶器煮湯，(丁)升起了火準備烤魚，並取出(戊)耕種的米，忙碌的準備晚餐。」請問：上述符合史實的共有幾項？ (A)5 (B)4 (C)3 (D)2。
- ( )22、左下圖為喬恩在臺灣歷史書籍中看到的圖片，有關此圖的標題應為下列何者？  
(A) 17 世紀荷蘭在東亞的貿易據點分布圖 (B)南島語族分布範圍圖  
(C) 17 世紀葡萄牙在東亞的貿易據點分布圖 (D)鄭氏政權的疆域範圍圖。



- ( )23、臺灣位於西太平洋南來北往的重要交通樞紐，自古以來國際貿易發達，由右上圖中的路線與商品，可推測這應為臺灣在哪一個時期的對外貿易網絡？  
(A)荷治時期 (B)鄭氏時期 (C)西班牙治台時期 (D)清帝國早期。
- ( )24、臺灣史前人類最早懂得熟食的可能是下列哪一代表文化？  
(A)長濱文化 (B)圓山文化 (C)卑南文化 (D)十三行文化。

- ( )25、賣座導演打算拍攝《熱蘭遮戰記》，試圖重現鄭成功率大軍渡海來台的過程。請問：根據史實，劇組該前往何處取景？  
 (A)新北淡水 (B)基隆沿海 (C)宜蘭頭城 (D)台南安平。
- ( )26、惠媛到澎湖旅遊，見到一塊「沈有容諭退紅毛番韋麻郎等」的石碑，這是為了紀念一位明朝將領在澎湖打敗入侵這裡的外國勢力。請問：上述的「外國勢力」是指下列何者？  
 (A)荷蘭人 (B)西班牙人 (C)葡萄牙人 (D)英國人。
- ( )27、根據地質學家的推測，下列何種遺跡可作為臺北盆地在史前時代曾為湖泊的證明？  
 (A)八里地區出現生鏽的鐵器碎片 (B)圓山地區出現的貝殼堆積 (C)大坌坑遺址發現的陶器碎片 (D)九份山區挖出的煤礦。
- ( )28、在史前文化演進過程中，哪一種生活型態出現後，因為可養活更多的人口，促使人類社會活動出現更豐富的發展？  
 (A)採集 (B)狩獵 (C)漁撈 (D)農耕。
- ( )29、附圖是臺灣史前文化中出土的物品，若依照文化的演變來看，圖中三項文物出現的時間順序為何？ (A)甲乙丙 (B)甲丙乙 (C)乙甲丙 (D)乙丙甲。



- ( )30、在十三行文化遺址中，出土了瑪瑙珠、玻璃製品，以及其他質料的珠子，還發現金飾、銅刀柄、銅碗、銅鈴、銅幣等來自於南洋或中國的外來物品。由上述內容我們可以做出何種正確的推論？  
 (A)十三行遺址屬於新石器時代的文化 (B)此時期已進入歷史時代  
 (C)該文化與其他地區貿易往來更加密切 (D)十三行文化具有國家的規模。
- ( )31、臺灣是17世紀漢人、日本人、荷蘭人、西班牙人等在東亞地區進行貿易的重要據點。當時臺灣會扮演這種角色的原因，主要是具備了下列哪一項優越的條件？  
 (A)地形地貌豐富 (B)氣候舒爽宜人 (C)交通位置重要 (D)人口眾多。
- ( )32、臺灣大約在四百多年前從史前時代進入歷史時代，主要是因為下列哪一項文明的出現？  
 (A)陶器 (B)鐵器 (C)文字 (D)農耕。
- ( )33、人類進入新石器時代以後有許多重大的變革，而有「新石器革命」之稱。請問：此時期對人類有何重要意義？  
 (A)已知用火取暖、照明與熟食，使生命得以延長 (B)開始使用文字，明確記載當時人們的各種活動  
 (C)進入農業產食階段，人們開始有餘暇從事文明創造 (D)發展嚴密的軍事及國家組織，保障群體的安全。

## 二、題組，每題2分，共34分

(一) 以下是某一時期人民在田間耕作時的對話：

大福：白天種田，晚上還要回部隊操練，好累啊

小康：大家勤勞點，大將軍就要來視察了

阿呆：希望大將軍反清復明的計畫早日實現，我們才能回家鄉。 請問：

- ( )34、上述對話出現在下列哪一時期的臺灣？  
 (A)17世紀後期 (B)18世紀前期 (C)19世紀後期 (D)20世紀中期。
- ( )35、對話中的大將軍是指？  
 (A)鄭芝龍 (B)鄭成功 (C)沈有容 (D)施琅。
- ( )36、此種土地拓墾制度的主要精神是？  
 (A)重農抑商 (B)寓民於兵 (C)兵農分離 (D)寓兵於農。

(二) 17世紀前期，日本德川幕府因見識到西方火槍的威力，認為西方武器將會破壞日本穩固的社會階級，再加上天主教傳教士屢屢在日本製造事端，因此德川幕府頒布政策禁止其人民到海外貿易，只准荷蘭與中國商人進行貿易。請問

( )37、文中日本德川幕府頒布的政策為何？

(A)海禁政策 (B)開港通商 (C)鎖國政策 (D)南進政策。

( )38、當時日本只開放何地進行貿易？ (A)馬關 (B)東京 (C)神戶 (D)長崎。

( )39、文中受到日本這項政策衝擊最大的西方勢力為下列何者？

(A)荷蘭人 (B)英國人 (C)葡萄牙人 (D)西班牙人。

(三) 臺灣目前發現多處的史前文化遺址，歷經舊石器時代、新石器時代、金屬器時代，皆成為臺灣最珍貴的文化遺產。請參考附圖回答下列問題：

( )40、臺灣目前所發現最早的舊石器時代文化遺址位在圖中何處？

(A)甲 (B)乙 (C)丁 (D)戊。

( )41、圖中哪一文化遺址曾出土大型石板棺及玉器？

(A)甲 (B)丙 (C)丁 (D)戊。

( )42、圖中哪一文化遺址發現有煉鐵的遺址可說是臺灣金屬器文化的代表？

(A)甲 (B)乙 (C)丙 (D)丁。



(四) 請閱讀以下短文並回答問題：

1697年（康熙36年），郁永河奉命來臺採集硫磺，他帶領工人由府城安平沿岸北上。他觀察到此處少壯未婚的男子都居住在一間比較大的住屋，叫做「公廨」，這是村民們平常議事的場所。

郁永河歷經艱苦後終於抵達目的地—現今的北投地區，他僱用當地原住民，讓原住民以獨木舟載運硫土到他的工寮換取布匹，再由漢人工人展開提煉硫磺工作。

( )43、郁永河記錄的臺灣西南地區原住民習俗，最可能與下列哪一原住民有關？

(A)凱達格蘭族 (B)和安雅族 (C)西拉雅族 (D)排灣族。

( )44、郁永河所僱用採集、運送硫土的原住民，應為下列何者？

(A)凱達格蘭族 (B)西拉雅族 (C)噶瑪蘭族 (D)排灣族。

( )45、在台灣原住民的稱呼分類中，下列何者與其他三者最不相同？

(A)高砂族 (B)山地同胞 (C)生番 (D)熟番。

(五) 史書記載：福建人何斌曾指一地是「沃野千里，足資根據，又橫絕大海，四通外國，耕種可以足食，興販可以足用，十年生聚，十年教訓，真霸主之區也。番民受紅夷凌辱，每欲反噬久矣，以公威臨之，即如使狼逐羊群也。」公遂誓師東征，攻陷紅夷所築之熱蘭遮城，結束三十八年在其地之殖民。請問：

( )46、「番民受紅夷凌辱」，此「紅夷」是指何人？

(A)日本人 (B)西班牙人 (C)葡萄牙人 (D)荷蘭人。

( )47、上文何斌所言，可能是對何人所說？ (A)鄭芝龍 (B)鄭成功 (C)鄭經 (D)鄭克塽。

(六) 俊宏在一場參觀活動中，看到一副描述某位歷史人物的對聯：

「賜國姓家破君亡，永矢孤中，創基業在山窮水盡，

復父書辭嚴義正，千秋大節，想俎豆於堯天舜日。」 請根據此對聯回答下列問題：

( )48、賜此位歷史人物「國姓」的是？

(A)明朝 (B)清朝 (C)南明政權 (D)VOC總督。

( )49、俊宏參觀的地點應該是？

(A)延平郡王祠 (B)赤崁樓 (C)安平古堡 (D)十三行博物館。

( )50、對聯中的「父」是指何人？ (A)鄭芝龍 (B)鄭成功 (C)鄭經 (D)鄭克塽。