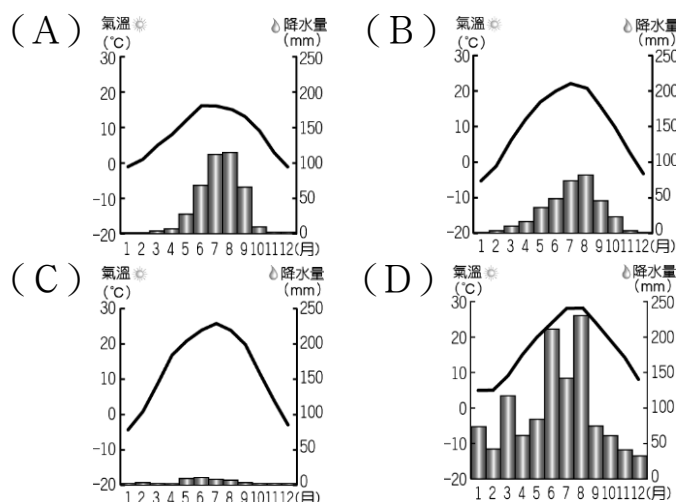



嘉義市立北興國中 112 學年度第一學期地理科國 2 第一次段考

一、單題 (每題 2 分, 共 52 分)

1. () 人口的多寡受到環境負載力的影響, 下列中國四個城市的氣候圖中, 何處的人口分布可能相對較為密集?



2. () 中國各地區的自然環境條件不同, 影響當地的環境負載力高低。如內陸人口稀疏地區, 多以何種產業活動為主? (A) 農業 (B) 漁業 (C) 商業 (D) 牧業。
3. () 明清時期, 漢人遠渡重洋到東南亞、臺灣開墾, 並將漢人的生活習俗、飲食習慣帶到當地。上述現象稱為下列何者? (A) 文化衝突 (B) 文化擴散 (C) 人口遷移 (D) 人口移動。
4. () 中國政府在 1979 年實施人口一胎化政策後, 造成下列哪一顯著的人口變化, 長久下來已影響中國的人口結構? (A) 自然增加率上升 (B) 社會增加率上升 (C) 自然增加率下降 (D) 社會增加率下降。
5. () 中國南部地區常可見到騎樓或高腳屋, 形成當地的聚落特色。這種建築分布和該地區何種氣候現象的關係最大? (A) 年均溫高 (B) 多雨潮溼 (C) 風向多變 (D) 日照較長。
6. () 附圖為中國傳統的農業活動型態, 這個景象最常見於下列哪一個地勢階梯? (A) 高階地形 (B) 中階地形 (C) 低階地形 (D) 沿海離島區。



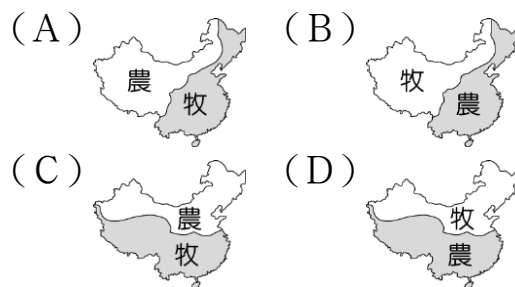
7. () 中國主要的河川受到水氣來源及地形起伏的影響, 多呈現下列哪一種流動方向? (A) 東向西流 (B) 西向東流 (C) 南向北流 (D) 北向南流。
8. () 中國的疆域面積廣大, 自然資源相當豐富。請問: 中國境內哪兩種第一級產業活動大致以年降水量 500 mm 為分界線? (A) 漁業、牧業 (B) 漁業、農業 (C) 農業、林業 (D) 農業、牧業。

9. () 青藏高原的面積達 250 萬平方公里, 約為中國面積的 1/4, 平均高度 4,500 公尺, 有世界「第三極」之稱。請問: 其成因和哪一個板塊擠壓有關? (A) 太平洋板塊 (B) 菲律賓海板塊 (C) 北美板塊 (D) 歐亞板塊。

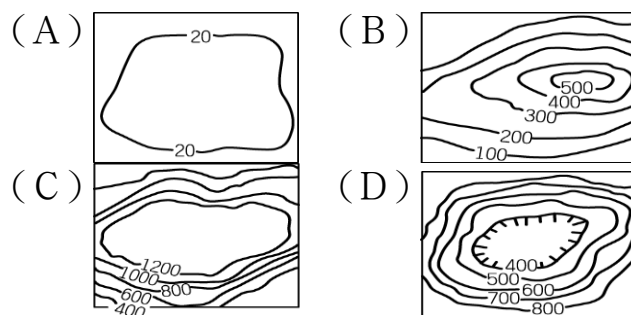
10. () 中國的人口分布受到自然環境的影響, 各地分布較不均勻, 其中人口主要居住在附圖中何處為主? (A) 甲 (B) 乙 (C) 丙 (D) 丁。



11. () 中國農業耕地受到自然條件的影響, 其分布狀況大致呈現下列何種狀態?



12. () 夏季太陽直射北半球, 因此中國各地的氣候普遍高溫炎熱。住在中國的阿民暑假時若想找一個地方避暑, 則下列哪一種地形區最適合?



13. () 在中國第 7 次全國人口普查後公布的統計數據顯示, 2020 年淨流入人口最多的城市在深圳, 高達 1,179 萬人, 是目前很有發展潛力的城市之一。由上述判斷, 深圳具備哪一項拉力吸引人口移入? (A) 醫療建設落後 (B) 科技產業興盛 (C) 生活空間擁擠 (D) 空氣品質清新。
14. () 下列為有關中國人口遷移的相關敘述, 請根據內容判斷, 資料中兩地皆是因為下列何者的關係而造成人口遷移? (A) 人口拉力 (B) 人口推力 (C) 文化擴散 (D) 農業技術進步。

(1) 中國明清時期, 因東南沿海地區人口急速增加, 部分居民遠渡重洋移居東南亞。
(2) 中國文化重心在北方, 但因饑荒或戰亂等因素, 部分人民向南遷移。

15. () 農業活動的分布受到地理條件的影響, 下頁圖為中國某一重要農作物分布, 依其分布位置判斷, 最可能為何種農產品? (A) 稻米 (B) 小麥 (C) 甘蔗 (D) 茶葉。



16. () 中國的山地眾多，其中受到太平洋板塊擠壓歐亞板塊所形成的山脈走向，多為下列何種類型？

(A) (B) (C) (D)

17. () 中國進行無動力飛行器的預賽，所有航空器必須藉助風力的推動前進來進行比賽，獲勝者將取得參加台灣鳥人大賽的參賽權。若比賽是在中國北部地區的山東半島進行，主辦單位規畫的飛行方向是朝西北方海面。請問：此時最可能為哪一個季節？ (A)春季 (B)夏季 (C)秋季 (D)冬季。

18. () 中國整體地形大致呈現西高東低的分布，請問：附圖中的甲區域位於西北邊疆地區，其地形分類應該屬於哪一階地形？(A)高階地形 (B)中階地形 (C)低階地形 (D)沿海離島區。



19. () 中國的疆域範圍廣大，主要分布在北緯 18 度至 53 度之間，影響各地氣候類型的不同。下列四個不同緯度位置中，何者的冬季氣溫會最低？ (A)北緯 23 度 (B)北緯 32 度 (C)北緯 41 度 (D)北緯 52 度。

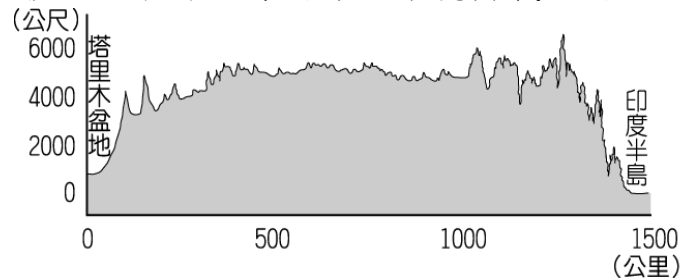
20. () 秦嶺、淮河一線為中國重要的地理分界線，形成南北兩側不同的地理環境。分布於秦嶺、淮河以南地區的稻米，其生長條件主要為下列何者？ (A)最暖月均溫高於 18℃、年降水量小於 500 毫米 (B)最冷月均溫高於 0℃、年降水量大於 750 毫米 (C)最暖月均溫低於 18℃、年降水量大於 500 毫米 (D)最冷月均溫低於 0℃、年降水量小於 750 毫米。

21. () 中國流傳的順口溜：「雖然大權不在手，可誰都得跟他走。他讓往東去，你不敢往西扭。他說要騎馬，爸爸忙趴下。半夜想吃冰淇淋，爺爺提起褲子滿街走。」雖然夾帶著幾分戲謔，卻也道盡了今日中國的人口問題。請問：上述順口溜描述了中

國哪一人口問題？(A)人口分布不均(B)出生率大幅降低(C)老年人口增加(D)男女性別比漸低。

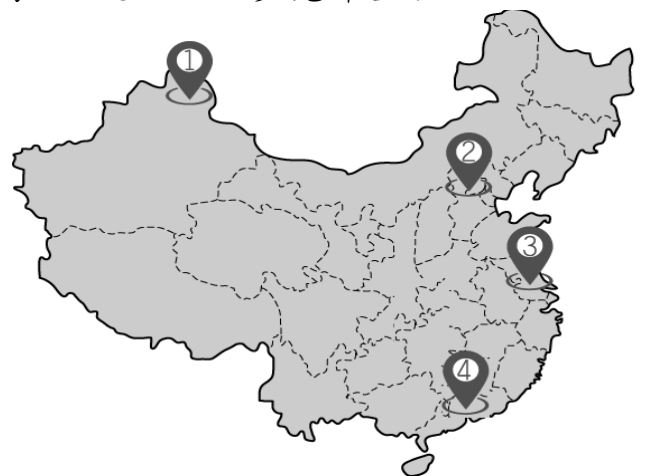
22. () 秦嶺和淮河為中國重要的分界線。請問：其南北水運交通差異大致為下列何者正確？ (A)以北水運較發達 (B)以南水運較發達 (C)南北水運均發達 (D)南北水運均不發達。

23. () 自然環境不同會影響生活資源的多寡，附圖為中國某地形區的剖面圖。請問：下列何者敘述正確？(A)地勢高聳，氣候寒冷 (B)地形平坦，農作種類眾多 (C)交通便利，大量人口移入 (D)地勢高聳，環境負載力高。



24. () 中國農業活動的分布受到自然環境的影響相當大，如要利用兩張不同的地理區地圖來找出最佳的水稻農業耕作地區，則以下列哪兩張地圖最為適合？ (A)地形階梯圖、七月等溫線圖 (B)年溫差圖、水系分布圖 (C)年降水量分布圖、地形階梯圖 (D)人口分布圖、等高線地形圖。

25. () 中國的疆域廣大，各地氣候特色皆不相同。附圖中何處由於地理位置的影響，最冷月均溫多高於 0℃，因此少見降雪？

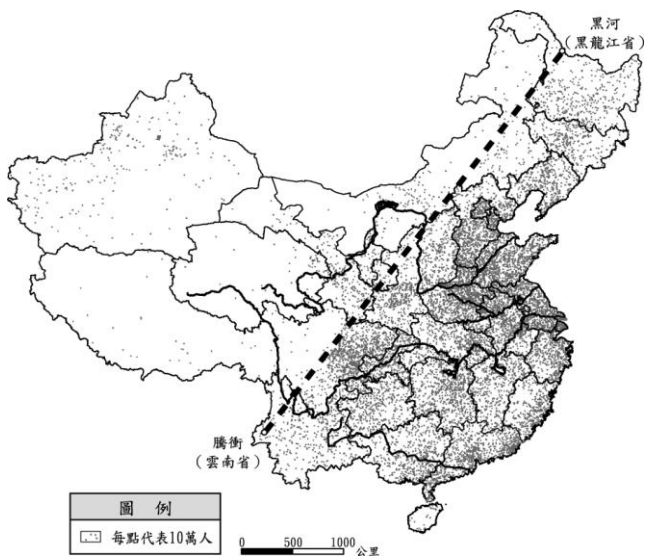


(A)① (B)② (C)③ (D)④。

26. () 中國境內各地居民傳統的生活方式受到地理環境的影響而不同，長江三角洲的民眾多以農業活動為主，而內蒙古高原及新疆一帶則多從事牧業活動，形成當地的區域特色。請問：造成這種產業分布的主要因素為下列何者？ (A)氣溫高低 (B)地勢起伏 (C)人口密度 (D)降水量多寡。

二、題組（每格 2 分，共 48 分）

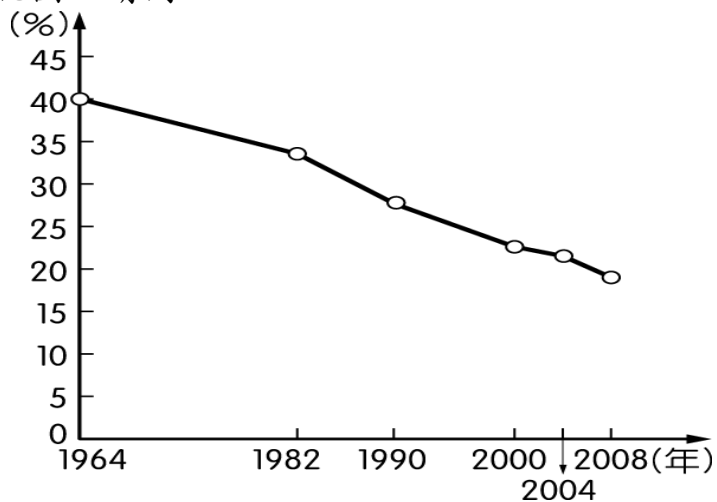
- (1).中國的人口以黑河和騰衝為界，可大致分為西半部及東半部。請分析下頁的中國人口分布點圖，找出西半部與東半部人口總數差異懸殊的原因，回答下列各題：



▲中國人口分布點圖

- 27.() 中國西半部主要地形為下列何者？ (A)平原、丘陵 (B)高原、盆地 (C)平原、高原 (D)台地、丘陵。
- 28.() 中國東半部主要地形為下列何者？ (A)平原、丘陵 (B)高原、盆地 (C)平原、高原 (D)台地、丘陵。
- 29.() 中國西半部主要氣候為下列何者？ (A)潮溼多雨 (B)乾燥少雨 (C)全年有雨 (D)夏乾冬雨。
- 30.() 中國東半部主要氣候為下列何者？ (A)潮溼多雨 (B)乾燥少雨 (C)全年有雨 (D)夏乾冬雨。
- 31.() 中國西半部主要水文為下列何者？ (A)主要河川上游 (B)主要河川下游 (C)濱臨大西洋。
- 32.() 中國東半部主要水文為下列何者？ (A)主要河川上游 (B)主要河川下游 (C)濱臨大西洋。
- 33.() 中國西半部環境負載力為下列何者？ (A)高 (B)低 (C)先低後高 (D)忽高忽低。
- 34.() 中國東半部環境負載力為下列何者？ (A)高 (B)低 (C)先低後高 (D)忽高忽低。

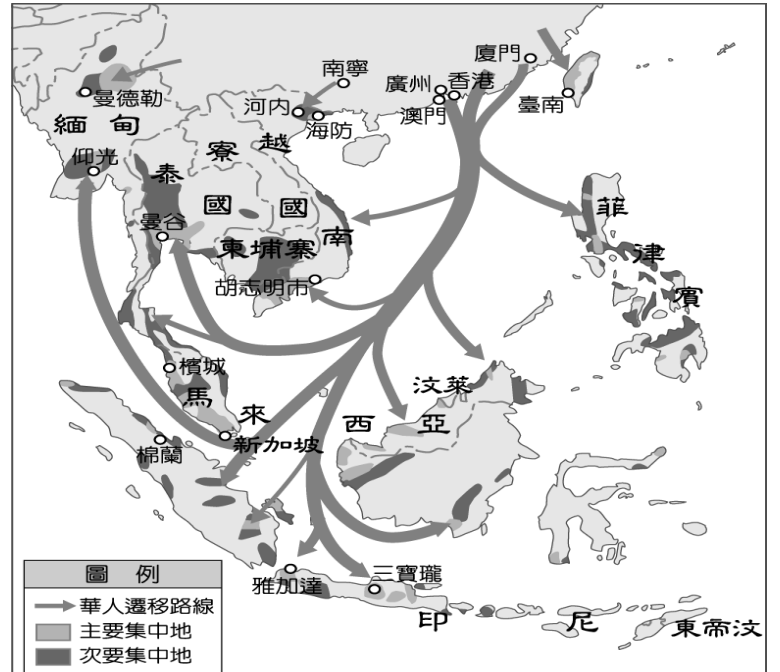
(2).中國自改革開放後，社會愈趨開放，然而各種「小皇帝」現象也令人瞠目結舌，如父母幫小孩追星、徹夜排隊只為了排一個新潮玩物，讓社會觀察家對中國的下一代充滿了不確定感。附圖為中國幼年人口比例的變化圖，請問：



- () (35)由附圖中的中國幼年人口比例變化狀況判斷，若成長的趨勢不變，則該國在2020年可能出現下列何種社會狀況？ (A)勞力逐漸缺乏，產業面臨升級壓力 (B)性別比例漸平衡，外籍配偶需求降低 (C)鄉村缺乏幼年人口，人口分布不均 (D)幼年扶養人口少，老年化逐年下降。

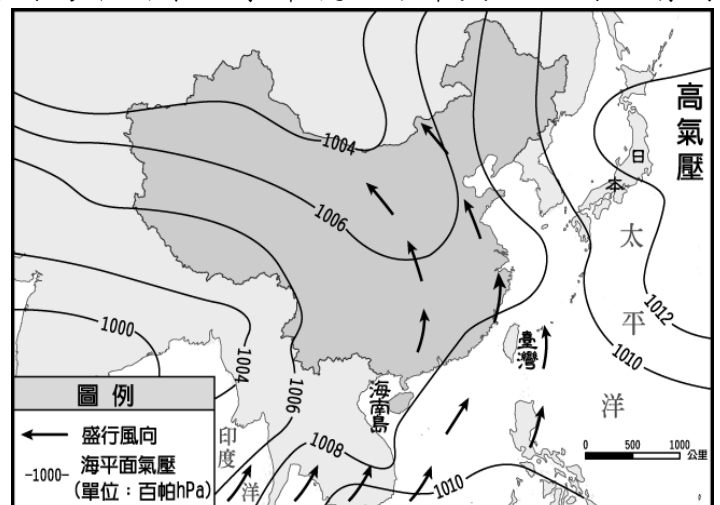
- () (36)中國在2015年結束了一胎化的政策，並加以鼓勵生育，其目的最主要為解決哪些問題？ (甲)高齡化(乙)城鄉人口流動 (丙)勞力短缺(丁)提高教育水準 (A)甲乙 (B)丙丁 (C)甲丙 (D)乙丁。

(3).附圖為華人遷移圖，中國人口眾多且資源分布不均，快速增加的人口造成糧食不足，促使人們離開家鄉尋找耕地或工作機會，而向國外遷移，請問：



- () (37)在明清時期的華人主要是順應哪一個季節的季風，移民到東南亞？ (A)春季 (B)夏季 (C)秋季 (D)冬季。
- () (38)若僅由附圖資訊判斷，華人遷徙到下列哪一個國家最少？ (A)泰國 (B)印尼 (C)寮國 (D)菲律賓。

(4).附圖為中國某個季節氣壓分布與風向圖。請問：



- () (39)由附圖中資料判斷，這是中國主要哪一個季節的氣壓與風向？ (A)春季 (B)夏季 (C)秋季 (D)冬季。
- () (40)依附圖中資料判斷，在中國的東半部地區，此時所吹的風具有下列何種特性？ (A)暖而溼潤 (B)暖而乾燥 (C)冷而乾燥 (D)冷而溼潤。
- () (41)張大遠目前是留學海南大學的學生，依附圖判斷，在這個季節裡，他所在的地區經常吹哪一個方向的風？ (A)西南風 (B)東北風 (C)東南風 (D)西北風。

(5).中國近年來由於經濟快速發展，國民所得大幅提高，因此帶動當地的第三級產業，各地紛紛發展觀光業，成為各省分的發展重點。下列圖(一)為中國某旅行社甲、乙、丙行程的宣傳海報。請問：

甲行程

欣賞第一道楓葉轉紅的美景，在湖光山色之中，享受片刻寧靜

乙行程

跳樓大拍賣~藍天碧海的美景，現在價格僅旺季的一半

丙行程

感受不一樣的夏季，記得帶上外套圍巾，來到人間仙境

▲圖(一)

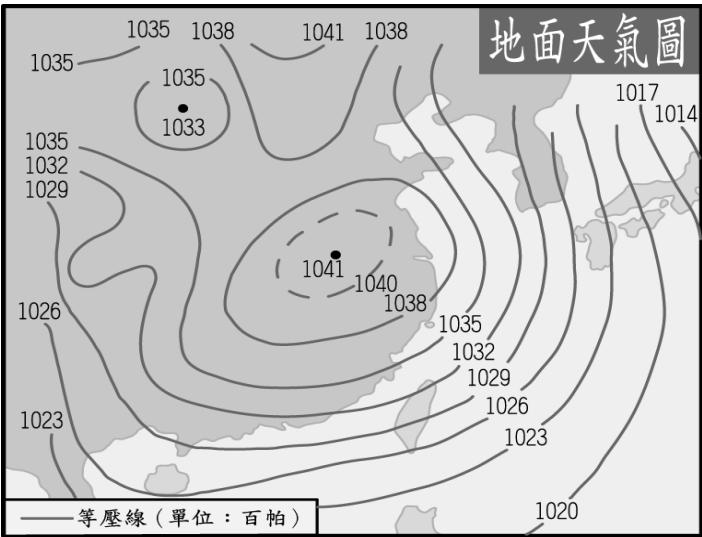
- () (42)王先生夫婦想參加甲行程，下列四個地點中，何處天氣變涼的最慢，最符合甲行程所述？ (A)東北哈爾濱賞楓團 (B)北京古城賞楓團 (C)上海杭州賞楓團 (D)珠江兩廣賞楓團。
- () (43)乙行程的價格在淡旺季時差價特別大，由於當地在歲末寒假時氣溫仍高，因此成為避寒勝地，相關旅遊價格高漲。反之夏季時因為氣候酷熱、多暴雨，故為旅遊淡季。乙行程的目的地最可能為圖(二)中的何者？(A)ㄅ (B)ㄆ (C)ㄇ (D)ㄎ。



▲圖(二)

- () (44)丙行程的旅遊地點主要以夏季為主，冬季時當地的氣候惡劣，不宜觀光。上述地點最可能在下列哪一地形區中？ (A)珠江三角洲 (B)長江三角洲 (C)東南丘陵 (D)青藏高原。

(6).中國的氣候受到海陸性質的差異而有不同的特色，附圖為中國某時期的地面天氣圖，請根據圖中資料回答下列問題：



- () (45)根據附圖的地面天氣圖判斷，最可能為下列哪一段時間內的大氣現象？ (A)1月 (B)4月 (C)7月 (D)10月。
- () (46)根據附圖的天氣圖判斷，當時中國境內的氣候現象最可能為下列何者？ (A)炎熱高溫 (B)降水充沛 (C)海風強勁 (D)寒冷乾燥。
- () (47)當時中國境內最可能出現下列何種氣候災害？ (A)豪雨成災 (B)河水暴漲 (C)作物霜害 (D)土石滑落。

(7).中國面積相當廣大，人口眾多，目前仍是以第一級產業活動為主。附圖為該國境內的農牧業活動分布圖，請根據圖中資料回答下列問題：



- () (48)附圖中呈現了中國境內的農業及牧業活動的分布地區，根據其位置判斷，其分界線最主要為下列何者？ (A)年降水量 500 毫米 (B)年降水量 750 毫米 (C)年均溫 0℃ 等溫線 (D)一月月均溫 0℃ 等溫線。
- () (49)附圖中甲區的地形區為下列何者？ (A)西藏的青藏高原 (B)新疆的塔里木盆地 (C)貴州的雲貴高原 (D)四川盆地。
- () (50)畫分水田區和旱田區的界線有：(甲)年降水量 500 毫米等雨量線(乙)七月月均溫 18℃ 等溫線(丙)一月月均溫 0℃ 等溫線(丁)年降水量 750 毫米等雨量線。正確的是哪兩項？ (A)甲乙 (B)丙丁 (C)甲丁 (D)乙丙。