

一、單選題 (60%)

- 請問畫分人類歷史發展的「史前時代」與「歷史時代」，是依據哪一項重大技能的出現？  
(A)使用火 (B)石器的製作 (C)陶罐的製作 (D)文字的出現。
- 嘉義市有前人遺留下來的「紅毛井」、「紅毛埤」，「紅毛」是指哪一國？(A)日本 (B)荷蘭 (C)葡萄牙 (D)西班牙。
- 美侖美奐的十三行博物館裡，陳列眾多十三行代表性的出土文物，有中國大陸的銅錢、南洋一帶的瑪瑙珠飾、玻璃珠飾等，其中最重要的是鐵渣的出土。請問：這在歷史上具有何種意義？ (A)代表採集生活的發端 (B)象徵磨製石器的出現 (C)反應稻米農作的起源 (D)顯示鐵器時代的開始。
- 鄭氏治臺時，積極推動拓墾事業，逐漸提升臺灣的農業生產量，但當時拓墾的區域仍以哪一地區為主？ (A)臺灣南部 (B)臺灣西北部 (C)臺灣北部 (D)臺灣東南部。
- 

重要事件
★成立於十七世紀初
★ ?
★曾在臺灣、南非好望角等地建立殖民地
★在日本鎖國時期，獲准與日本貿易

- 上表是某一組織的重要事件整理，根據內容判斷，下列何者最適合放入表中的「？」處？  
(A)從印度輸出大量瓷器販賣至中國 (B)以白銀吸引中國商人至馬尼拉交易 (C)以澳門為據點，推動亞洲傳教事業 (D)設亞洲總部於巴達維亞，統籌經營。
- 荷蘭人統治臺灣時期，總督曾說：「臺灣，真是頭好乳牛。」請問：荷蘭人占領臺灣的目的為何？ (A)作為荷蘭的領土之一 (B)成為荷蘭向日本傳教的跳板 (C)以臺灣做為國際貿易的轉運站 (D)成為荷蘭在亞洲的傳教中心。

- 下圖呈現古代人類的幾種生活樣貌，臺灣的大坌坑文化應涵蓋其中哪些活動？ (A)甲乙丁戊 (B)甲丙丁戊 (C)乙丁戊己 (D)丙丁戊己。



- 下圖是全球南島語系分布圖，根據此圖判斷，下列哪一族群不屬於南島語族？ (A)台灣漢人 (B)菲律賓原住民 (C)紐西蘭原住民 (D)臺灣原住民。



- 小玲打算規畫一趟尋訪臺灣史前文化遺址的環島之旅，從臺南市出發，探訪以下的史前文化：(甲)長濱文化；(乙)南關里遺址；(丙)卑南文化；(丁)圓山文化。請問：若以順時針方向進行探訪，小佩走的路徑應為下列何者？ (A)甲乙丙丁 (B)丁丙乙甲 (C)丙甲丁乙 (D)乙丁甲丙。
- 17 世紀前期，臺灣是海商顏思齊、鄭芝龍的大本營。請問：其勢力範圍在今天何處？ (A)臺南、高雄一帶 (B)雲林、嘉義一帶 (C)新竹、苗栗一帶 (D)花蓮、臺東一帶。
- 北星國中校外教學入住圓山大飯店，領隊介紹這裡有重要的史前遺址，請問這處遺址的重要遺物遺跡應該是？ (A)貝塚 (B)石棺 (C)煉鐵場 (D)粗繩紋陶。
- 阿明家裡的菲傭瑪麗亞，除了一口流利的英文，還會說幾句拉丁語，她說她的祖先來自歐洲，曾經殖民過菲律賓，請問是哪一國家？ (A)荷蘭 (B)葡萄牙 (C)西班牙 (D)英國。

13. 下表呈現史前人類生活情形的變化，若要以「舊石器時代→新石器時代」的方式，表示舊石器時代至新石器時代的文化變遷，表中甲、乙、丙、丁何者最為適切？ (A)甲 (B)乙 (C)丙 (D)丁。


甲	種植根莖類作物 → 種植稻米
乙	打製石器 → 磨製石器
丙	燒製陶器 → 冶煉鐵器
丁	不知用火 → 用火煮食

14. 西元紀年是目前世界通用的紀年方式，請問西元前與西元後的分界是根據哪位歷史人物的誕生前後作為區隔？ (A)秦始皇 (B)耶穌 (C)釋迦牟尼 (D)英國女王伊莉莎白二世。
15. 自十六世紀開始，西方列強到東亞競逐，之後哪兩個國家分別占領臺灣的南、北兩地，作為國際貿易與傳教的重要據點？ (A)英國和西班牙 (B)荷蘭和葡萄牙 (C)荷蘭和西班牙 (D)西班牙和葡萄牙。
16. 如下圖，原始人在海蝕洞外活動，志明在打製石器，春嬌用火烤魚。這是指哪一文化人的生活特色？ (A)卑南文化 (B)圓山文化 (C)大坌坑文化 (D)長濱文化。

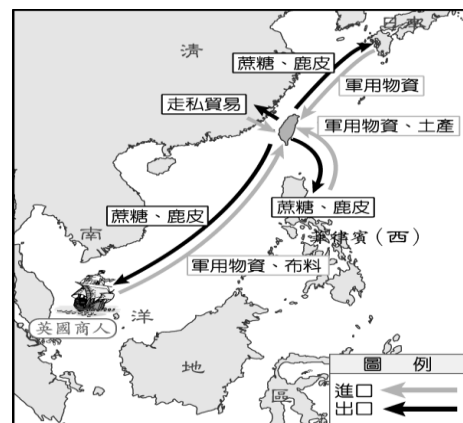


17. 十六~十七世紀的台灣成為西方列強競爭的焦點，請問原因是？ (A)茶葉樟腦利潤豐厚 (B)地理位置相當優越 (C)四季如春氣候宜人 (D)海商及原住民配合度高。
18. 17 世紀時，日本實施鎖國政策，只准許哪兩國可到長崎進行貿易？(甲)荷蘭；(乙)中國；(丙)西班牙；(丁)葡萄牙 (A)甲乙 (B)甲丙 (C)甲丁 (D)乙丁。
19. 下圖為展示於澎湖天后宮的「臺澎第一碑」。請問：此碑應呈現了下列哪一項事件？ (A)西班牙東來亞洲尋求貿易 (B)明軍將領逼退澎湖荷蘭人 (C)荷蘭人攻打澳門葡萄牙人 (D)葡

萄牙強占澳門作根據地。



20. 開始將臺灣原住民分類稱呼為平埔族及高砂族的是下列何者？ (A)日本人 (B)荷蘭人 (C)漢人 (D)西班牙人。
21. 附圖中的路線與商品，可推測這應為臺灣在哪一個時期的對外貿易路線？ (A)荷蘭統治時期 (B)鄭氏政權時期 (C)清帝國早期 (D)清帝國晚期。



22. 荷蘭人占領臺灣期間，在臺灣從事殖民政策，生產多項商品，以供應貿易外銷，外銷商品中，不包括下列哪項？ (A)茶葉 (B)蔗糖 (C)鹿皮 (D)稻米。
23. 請將以下重要文化依時間順序排列：(甲)大坌坑文化 (乙)南關里文化 (丙)長濱文化 (丁)十三行文化。 (A)丙甲乙丁 (B)甲丙乙丁 (C)甲乙丙丁 (D)丙乙甲丁。
24. 鄭氏政權之所以能在臺灣獨自抗清長達 21 年之久，主要是依靠下列哪一項資源？ (A)漢人政治制度的移入 (B)海上貿易的興盛 (C)豐富的礦產資源 (D)文化教育的發達。
25. 臺灣自十七世紀起，一直為各國所競逐的目標，主要原因是臺灣地處中國大陸東南沿海地位

重要，是哪一海域南來北往的交通樞紐？(A)東太平洋 (B)西太平洋 (C)印度洋 (D)大西洋。

26.有一部人物傳記記載：「本名森，字大木。曾與父親在福建擁立唐王，唐王也十分器重他，因而賜國姓朱，……後又被桂王封為延平王，今臺南市有延平郡王祠紀念他。」請問：這部傳記應該是紀錄何人的事蹟？ (A)鄭成功 (B)鄭芝龍 (C)顏思齊 (D)施琅。

27.請將以下重要史實依序排列：(甲)西班牙人登陸北台灣 (乙)施琅攻下台灣 (丙)鄭成功在台建立政權 (丁)荷蘭人登陸南台灣。(A)甲丙乙丁 (B)丁丙甲乙 (C)甲丁丙乙 (D)丁甲丙乙。

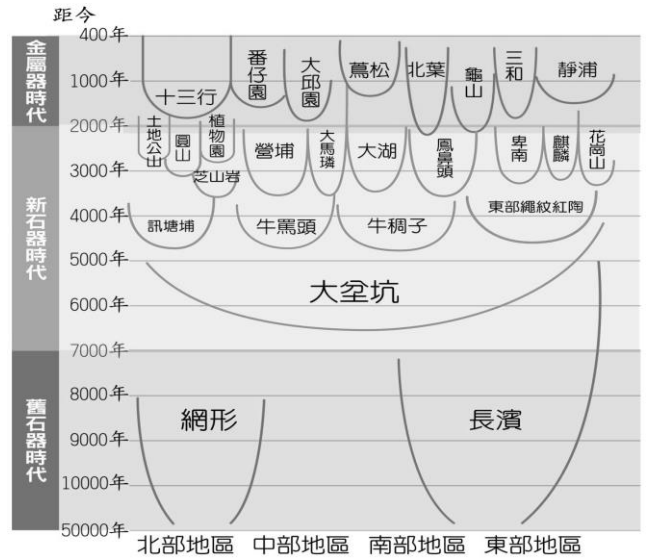
28.鄭氏政權取得臺灣後，糧食匱乏成為當時亟需解決的問題。當時鄭氏政權主要是如何解決糧食不足的問題？ (A)從菲律賓大量進口稻米 (B)以軍屯方式讓軍隊自耕自食 (C)與英國東印度公司簽訂商約 (D)從中國大陸走私糧食補充。

29.下列關於「海商」的敘述，何者正確？ (A)為日本人組成的海盜，肆意搶奪臺灣沿海城市 (B)17世紀初主要以金門、馬祖為根據地 (C)明政府派兵進駐臺灣，海商遂轉移到澎湖 (D)因應明代海禁政策，進行走私而興起

30.想要瞭解史前時代人類的活動情形，最主要的根據是？(A)文字的記載 (B)圖片 (C)遺物和遺跡 (D)神話傳說。

## 二、題組 (40%)

(一)「嘉義市史前考古重大發現 (2021.9.4 中央社記者汪淑芬台北撰稿報導):嘉義市鐵路高架化進度已3成多，鐵道局半年多前有驚人發現，挖到2具遺骸，初判是2500年前的先人，遺骸將在7日出土，委託台灣史前文化博物館南科考古館後續研究及暫存維護。鐵道局指出，因遺骸屬於嘉義市財產，南科考古館完成研究後，會再轉交嘉義市文化局保存。」請以這篇報導回答問題:



31.在嘉義市台斗坑地區的新發現，被定名為台斗坑遺址，其中灰黑陶為主要使用器物，請問是哪一階段文化特色？ (A)舊石器時代 (B)新石器時代 (C)金屬器時代 (D)歷史時代。

32.請運用上方圖表檢視，2500年前的台斗坑遺址接近於圖表中的哪一文化類型？ (A)圓山文化 (B)牛罵頭文化 (C)靜浦文化 (D)大湖文化。



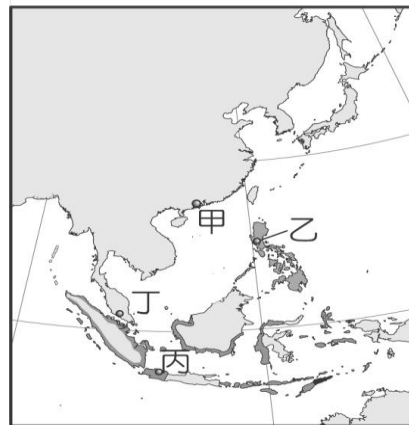
33.台灣近期 918 地震，花東縱谷斷層引起地質專家高度關注，請問上方地圖中，以出土石板棺、玉器為特色的文化遺址在哪一區？ (A)甲 (B)戊 (C)丁 (D)丙。

34.地圖中發現碳化稻米化石的遺址，位於地圖哪一區？ (A)甲 (B)乙 (C)丙 (D)丁。

35.地圖中發現玻璃珠、銅錢，具有貿易行為的文化遺址在哪一區？ (A)甲 (B)丙 (C)丁 (D)戊。

(二)小明的媽媽來自越南，適逢故宮南院今年亞洲藝術節是以越南為主題，小明上官網查詢資料……「越南北部是世界上極少數很早就掌握了燒製陶器秘訣的地區。自陳朝 (1225-1400) 後期的 14 世紀，越南陶瓷已出口到印尼、日本、台灣等地；到了黎初朝 (1428-1527)、莫朝

(1527-1592)，北方的中國正實施海禁，越南陶瓷迅速填補了市場空缺，將貿易網絡擴及東北亞、東南亞、西亞與非洲北部，當中又以東南亞島嶼部為最重要的客戶……」請以這段敘述回答以下問題：



36. 中國實施海禁政策影響青花瓷的外銷，越南青花瓷順勢在國際市場大放異彩，請問 14~15 世紀中國實施海禁的理由是？ (A)阻止鄭成功走私貿易 (B)避免倭寇侵擾沿海 (C)拒絕荷蘭東印度公司貿易傳教 (D)中國對於日本鎖國的報復行動。
37. 清初皇帝曾下令：「不准任何船隻下海，嚴禁任何糧食闖關，凡是違反禁令者，一律連坐處死，務必使海上那批人，在糧盡援絕以後鳥獸散。」文中的「海上那批人」指的是何者？ (A)日本人 (B)荷蘭人 (C)西班牙人 (D)臺灣鄭氏。
38. 故宮博物院瓷器展廳裡有一件十七世紀日本外銷到歐洲的伊萬里瓷，在瓷盤中央有一個很明顯的 VOC 符號，這顯示出哪一個國家扮演著歐亞貿易交流的重要角色？ (A)英國 (B)荷蘭 (C)葡萄牙 (D)西班牙。



39. 16 世紀初，葡萄牙人及西班牙人分別在東亞占領貿易據點與中國貿易，請問分別是上方地圖何處？ (A)甲、乙 (B)甲、丙 (C)乙、丙 (D)甲、丁。
40. 請問 VOC 的亞洲總部在地圖上何處？ (A)甲 (B)乙 (C)丙 (D)丁。

(三) **2021.8.1 原住民族委員會於圓山飯店舉辦「81 原住民族日：正名 27 週年回顧與前瞻」活動**，除了現場各駐台大使出席外，總統蔡英文以及行政院長蘇貞昌也透過預錄致詞表示，原住民族在台灣民主轉型中扮演重要角色，也肯定在本次 **2020 東京奧運** 上的傑出表現。例如：**舉重奪金的郭婞純(阿美族)**、**柔道奪銀楊勇緯(排灣族)**、**100m 國手楊俊瀚(阿美族)**、**100m 國手謝喜恩(阿美族)**、**跆拳道國手蘇柏亞(阿美族)**、**400m 跨欄國手陳傑(阿美族)**、**柔道國手林真豪(阿美族)**、**拳擊國手陳念琴(阿美族／布農族)**、**自由車國手馮俊凱(泰雅族)**、**射箭國手林佳恩(泰雅族)**、**舉重國手江念欣(布農族)**、**舉重國手高展宏(布農族)**、**舉重國手方瑋靈(鄒族)**等。

原住民族在現今的政治、經濟產業、國防事務，以及第一線的防疫崗位上的參與都有傑出的成就，應受到同等關注。呼籲國人為原住民選手喝采時，更要一起認識原住民族的歷史與文化，看見各領域原住民族的活躍。(2021.08.01 中央廣播電台報導)

41. 在南太平洋群島的族群裡，也可以看見擁有臺灣基因的構樹所製造的衣服，推測臺灣可能是何族群的起源地？ (A)南島語族 (B)南亞語族

(C)亞非語族 (D)漢藏語族。

- 42.原住民族留下許多口耳相傳的古老傳說，其中以百步蛇為族群圖騰並且代表貴族階級不凡出身的是哪一族的傳說？ (A)賽夏族 (B)排灣族 (C)賽德克族 (D)泰雅族。
- 43.臺灣的原住民，依其主要生活區域的不同，可分為平埔族和高山各族。其中有關平埔族的敘述，下列哪一項正確？ (A)其漢化的時間較高山各族稍晚 (B)早期生活在平原、丘陵地區 (C)大約可分為泰雅、布農等十六族 (D)移入臺灣的時間在漢人之後。
- 44.清帝國統治時，將臺灣原住民族區分為「生番」及「熟番」，依據的標準為何？ (A)居住地區 (B)是否歸順政府 (C)打獵或農耕 (D)語言系統。
- 45.故事是這樣開始的…「據說某原住民的祖先本來居住在今天臺南附近，很久以前，他們的獵人追逐著一隻白鹿，正當精疲力竭時，眼前出現一片美景，湖光山色，風光明媚，湖裡還有取不盡的大魚，因此他們最後在湖邊定居下來」。請問這是哪一族的故事？ (A)排灣族 (C)凱達格蘭族 (C)西拉雅族 (D)邵族。

(四)淡水竹圍國小舉行校外教學活動，地點是充滿珍貴古蹟以及見證台灣歷史發展的台南市，享受遠近馳名的府城小吃也是這次小旅行的重頭戲…請回答下列問題



- 46.北部來的訪客發現台南一帶地名中有「營」與「鎮」，引起學生們興趣與討論，請問哪位學生的說法正確？ (A)清帝國領臺時期移民田地 (B)鄭氏治臺期間的軍屯政策 (C)荷蘭統

治期間的土地政策 (D)臺灣原住民族所新開闢的部落。

- 47.地圖中的“乙”是荷蘭人當初登陸台灣最早建造的軍事基地，請問名稱是？ (A)熱蘭遮城 (B)聖多明哥城 (C)紅毛城 (D)普羅民遮城。
- 48.地圖中的“甲”處古蹟，今天被稱為？ (A)安平古堡 (B)赤崁樓 (C)英國領事館 (D)弘學樓。
- 49.請問該地區早期居住的原住民是？ (A)和安雅族 (B)西拉雅族 (C)達悟族 (D)賽德克族。
- 50.台南府城小吃能讓饕客遠道而來，請問台南設立「府」行政區，最早可追溯自哪一政權？ (A)荷蘭人 (B)葡萄牙人 (C)鄭成功 (D)清朝。