

一、單選題，每題 2 分

1. ( )因為資源稀少，人們必須面臨種種的選擇，這是經濟學的基本概念。附圖的遊戲場內有四名兒童，若他們想一起使用相同的遊戲設備，何者會出現資源稀少的問題？



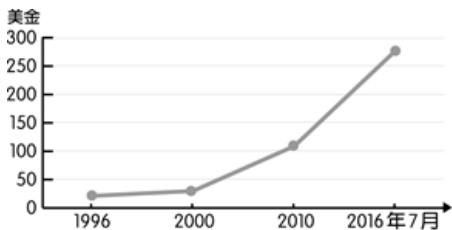
- (A)鞦韆 (B)碰碰車 (C)蹺蹺板 (D)搖搖馬。
2. ( )浩誠跟母親回到臺東老家參加豐年祭，同時也享受了新鮮空氣，而住在臺中的小燕卻需要花錢購買空氣清淨機。從經濟學的角度來看，下列敘述何者正確？
- (A)浩誠在臺東享受的新鮮空氣具備稀少性 (B)臺中因為空氣汙染，清新的空氣不具備稀少性 (C)臺東的空氣品質佳，清新的空氣不具備稀少性 (D)小燕需要付出代價來取得新鮮空氣，因此不具備稀少性。
3. ( )王老闆開設的文具店位於某國中對面，因此店內銷售的商品必須迎合青少年喜歡新奇的心理，才有可能創造收益。上述王老闆販賣的商品，主要是考量下列哪個課題而決定？ (A)生產什麼 (B)如何生產 (C)為誰生產 (D)哪裡生產。
4. ( )下列四家航空公司的宣傳標題，何者是透過價格因素來提升消費者的購買意願及數量？
- 甲：你買去程機票，回程交給我們買單！本航空讓你出國無負擔！
- 乙：現在訂票，可憑票根使用貴賓室及專屬快速通道，讓你出國盡享尊榮！
- 丙：本公司的飛機座位不僅寬敞，更結合時下最新潮的漫畫作品做為機身彩繪！
- 丁：本航空特別與知名燒肉店合作，讓各位貴賓在 35,000 呎的高空也可以一享口福！
- (A)甲 (B)乙 (C)丙 (D)丁。
5. ( )新型冠狀病毒疫情嚴峻，政府實施口罩實名制政策，每人 14 天內可以保持健保卡購買 10 片口罩，每片售價 4 元。祥修在咖啡廳打工，時薪 160 元，若他選擇請假前往實體藥局排隊購買口罩，且排隊需花費 2 小時。請問：祥修購買口罩的機會成本為何？
- (A)40 元 (B)160 元 (C)200 元 (D)360 元。

題組：請回答 6~8 題

下文為一切都是誘因的問題一書的部分內容，請閱讀文章後，回答問題：

葛尼奇和阿雅蕾特自從結婚有了小孩之後，幾乎沒有悠閒的時刻，有一天，兩人很想到海邊放鬆一下，送女兒到幼兒園之後，便到海灘曬太陽、享用美味的餐點，卻延誤了接女兒回家的時間。等到兩人趕到幼兒園時，看到園長蕾貝卡還留在園裡照顧自己的女兒，覺得非常內疚。幾個星期以後，園長宣布：「從今以後，家長來接小孩時，只要遲到 10 分鐘以上，幼兒園就要加收 3 美元的罰款。」

6. ( )這項家長遲到罰款的規定，屬於何種性質的誘因？ (A)正向金錢誘因 (B)負向非金錢誘因 (C)負向金錢誘因 (D)正向非金錢誘因。
7. ( )園長蕾貝卡公布此罰則，主要是希望可以達到何種目的？ (A)增加幼兒園的營利收入 (B)減輕家長遲到的愧疚感 (C)減少家長延遲接送的行為 (D)延長兒童待在幼兒園的時間。
- 園長蕾貝卡宣布罰則後，葛尼奇和阿雅蕾特認為晚接小孩的代價只有 3 美元，還滿划算的，所以他們不再像從前那樣拚命趕路，而是選擇把事情完成後再去接小孩，只要有繳罰款，就不用感到愧疚。而有這樣想法的家長不只他們兩人，因此遲到、延後接小孩的家長數目不但沒有減少，反而急遽升高。
8. ( )在規定罰則之前，促使遲到的葛尼奇夫婦趕往接送的誘因為何？(A)金錢誘因\_罰 3 美元 (B)非金錢誘因\_愧疚感 (C)正向誘因\_親子團聚 (D)沒有誘因。
9. ( )「以胰島素來說，為何完全一樣的藥在加拿大的售價是美國的十分之一？」美國聯邦參議員伯尼·桑德斯指出美國胰島素歷年來的價格變化，並譴責藥廠的貪婪。根據美國雜誌的調查，美國有 58.5% 的破產主因是醫藥花費，44.3% 是疾病導致工作損失，總計有六成的破產原因與醫療疾病相關。因此，桑德斯在 2016 和 2020 年的總統大選，都把可負擔的醫療保健政策做為競選主軸，呼籲大家關注不合理藥價的議題。(資料來源：美國胰島素貴 10 倍桑德斯怒斥藥廠貪婪，中央廣播電臺，2019/07/29。)
- 假設：美國國會通過法令要求胰島素的價格應該降低為原價格的十分之一，則廠商願意生產的胰島素數量應該會產生何種變化？(★愈多表示數量愈多)



	(A)	(B)	(C)	(D)
管制前產量	★★★	★★	★★★★	★★
管制後產量	★★★★	★★★★★	★	★★★★

題組：請回答 10~11 題

自 2019 年底爆發新型冠狀病毒疫情以來，口罩成為最重要的防疫物資之一。以下為我國口罩政策的轉變過程：

時間	口罩政策
1 月 24 日	行政院祭出口罩禁止出口政策
1 月 28 日	開放於超商購買口罩，每片 8 元
1 月 31 日	政府宣布徵用國內口罩
2 月 1 日	經濟部統一口罩價格為 6 元
2 月 6 日	開始實行口罩實名制
6 月 1 日	口罩定額徵用至年底，其餘數量回歸市場交易

10. ( ) 6 月 1 日前的口罩政策，是由誰主導資源分配的方式？ (A) 政府主導 (B) 消費者主導 (C) 生產者主導 (D) 消費者與生產者共同主導。
11. ( ) 6 月 1 日後，除了定額徵用的口罩數量以外，其餘口罩回歸市場自由交易，此時市面上自由交易的口罩價格應由何者決定？ (A) 政府決定 (B) 消費者決定 (C) 生產者決定 (D) 消費者與生產者共同決定。
12. ( ) 智慧型手機當道，相對應的產品也上市熱銷，例如日本設計出一款手套，手套指頭前端包覆有感應金屬，讓使用者在天冷時戴著手套也能使用手機。請問：根據上述，此款手套的設計，主要考量哪一種選擇課題？  
(A) 如何生產 (B) 生產什麼 (C) 為誰生產 (D) 何時生產
13. ( ) 因為資源的「稀少性」，使得我們必須以最有效的方式來運用資源，而對於資源「稀少性」的解釋，下列何者錯誤？ (A) 縱使是百萬富翁，也有感到稀少的時候 (B) 稀少是指相對於人們想要的數量，無法讓人毫無節制地予取予求 (C) 資源不足以滿足人類欲望，那資源就具有稀少性 (D) 稀少性取決於資源總數量的多寡。
14. ( ) 敏熙到四家公司應徵，在不考慮其他因素的情況下，單以薪水作為衡量的標準，選擇各公司的機會成本如附表所示，下列哪一敘述正確？  
(A) 四家公司中有一家薪水是 29,000 元 (B) 甲公司給的薪水是四家公司中待遇最低 (C) 乙、丙、丁中某家薪水是 32,000 元 (D) 依薪水高低，甲公司是敏熙的最佳選擇。
- |      | 甲公司      | 乙公司      | 丙公司      | 丁公司      |
|------|----------|----------|----------|----------|
| 機會成本 | 28,000 元 | 32,000 元 | 32,000 元 | 32,000 元 |
15. ( ) 關於我們在生活中所面臨的各種選擇，下列敘述何者正確？ (A) 相對於我們所要做的許多事情，時間是有限的資源 (B) 當我們在做選擇時，所放棄的代價中價值最高的部分是應得的利潤 (C) 政府在做決策的過程，只需考慮其公共利益，不需考慮機會成本 (D) 選擇的目的是要在無窮的資源之中，找出對我們最有利的事物，以提升生活福祉。
16. ( ) 義昇原本在新竹園區上班，每月薪水高達新臺幣 6 萬元，且一年可領 15 個月的薪水。但為了實現自己的夢想，他申請赴美就讀碩士課程，估算完成學業大約要花三年的時間，而學費一年需要花費新臺幣 50 萬元。若是從金錢上來估算，義昇赴美留學三年的機會成本是多少？ (A) 420 萬元 (B) 240 萬元 (C) 270 萬元 (D) 170 萬元。
17. ( ) 小余下載一款模擬挖礦工人的遊戲，遊戲中小余要扮演一名老礦工，個人進行挖掘鑽石珠寶任務，但過程中有許多陷阱，還有各種地形，所以小余須動動腦才能順利完成任務。請問：這款遊戲的玩家必須針對各式陷阱與地形的搭配，決定繼續挖掘或是停止。若是從經濟學理論考量，小余在操作時必須審慎考慮下列何者？  
(A) 只考慮實際支付的代價 (B) 決策時的機會成本 (C) 不考慮隱藏在選擇後所放棄的代價 (D) 資源的數

- 量多寡。
18. ( ) 秀琪在超商店打工，工作內容包含整理賣不出去的即期商品，根據附圖對話內容，若以經濟學概念理解店長的建議，下列敘述何者正確？ (A) 非金錢誘因不足，造成該款三明治乏人問津 (B) 店長嘗試以正向金錢誘因增加三明治的銷售量 (C) 店長的做法是吸引對金錢誘因不感興趣者 (D) 一般而言，消費者會選購誘因最低的商品。
- 新進的三明治料好實在，價格跟其他的一樣，但就是賣不出去。

搭配飲料折價10元就沒問題了，很多消費者都會挑有優惠折扣的購買。

秀琪 店長
19. ( ) 一名建商於受訪時做出以下表示，由內容可知，該業者的見解最能說明何種現象？  
(A) 對生產者而言，當商品價格高時，會提高生產量 (B) 為凸顯個人財富，民眾會選擇購買價格高的房子 (C) 政府規畫經濟建設時與建商合作，共同炒作房價 (D) 當建築原料便宜時，建商選擇多蓋房子節省成本。
20. ( ) 新型冠狀病毒傳入臺灣，初期全國口罩數量不足，民眾因恐慌瘋狂搶購，政府便緊急籌組口罩國家隊，多家工具機廠商、口罩製造商和其員工、民間團體以及國軍等不僅提供器具、材料組裝機臺，也放棄休假或與家人相聚時間，全力為國人生產口罩。根據上述，口罩國家隊的行動若以經濟學中的「選擇」來說明，下列何者正確？  
(A) 口罩國家隊的人力、物力、財力、心力均為自由財 (B) 因疫情之故，口罩國家隊將可以創造自身利益的資源奉獻給民眾 (C) 政府與國家隊共同將口罩打造成經濟財，取之不盡 (D) 製作口罩所需耗費的資源並無法做為其他用途使用
21. ( ) 飯店業者常針對不同時段的來客數量設定不同的價格，希望盡可能提高住房率。附表為某飯店原本房價及優惠後房價，根據表中資料判斷，若不考慮其他條件，下列何者最可能是該飯店推出優惠方案之前的住房情況？
- | 時段 | 原本房價 (元) | 優惠後房價 (元) |
|----|----------|-----------|
| 甲  | 4,000    | 2,800     |
| 乙  | 4,000    | 2,000     |
| 丙  | 4,000    | 3,600     |
- (A) 

時段	住房率
甲	40%
乙	90%
丙	70%
- (B) 

時段	住房率
甲	70%
乙	40%
丙	90%
- (C) 

時段	住房率
甲	70%
乙	90%
丙	40%
- (D) 

時段	住房率
甲	90%
乙	40%
丙	70%

22. ( ) 附圖中的小嵐和大可兩人應是在討論哪一項選擇課題？(A)為何生產  
(B)生產什麼(C)為誰生產  
(D)如何生產



23. ( ) 在豐大學畢業後找到類似的四個工作，其月薪與機會成本分別如附表所示，結果正昌最後選擇乙工作。請問：表中的「戊、己」分別為多少元？

	甲工作	乙工作	丙工作	丁工作
月薪 (元)		戊	30,000	31,000
機會成本 (元)	35,000	32,000	己	

- (A) 32,000、31,000 (B) 35,000、32,000  
(C) 32,000、35,000 (D) 35,000、35,000。
24. ( ) 世卿在上課中抄筆記，內容為「資源的定義」，結果抄得太急，導致錯誤百出，只有下列何者正確？  
(A)指自然界蘊藏的礦產 (B)通常只具有單一用途  
(C)能夠滿足所有的欲望 (D)可以選擇用途。

25. ( ) 盈齊正在考量學校的畢業節目，對



著附圖中的三份企畫書猶豫不決，不知如何取捨。請問：盈齊所考量的是下列哪一項生產課題？

- (A)生產什麼(B)為誰生產(C)為何生產(D)如何生產
26. ( ) 當我們所使用的資源，無法滿足我們的欲望，或是所擁有的物品數量少於我們所希望的數量時，會迫使我們面臨經濟學上的何種問題？(A)成本 (B)消費  
(C)選擇 (D)生產。
27. ( ) 「資源有限，欲望無窮」，稀少性使我們必須做出選擇，而「稀少性」的定義為下列何者？(A)資源總數量的多寡 (B)資源無法滿足人們的欲望 (C)資源無法符合政府所定的標準數量 (D)無法銷售出去的資源
28. ( ) 俗話說「天底下沒有白吃的午餐」、「有得必有失」，皆與下列哪一個經濟觀念最相關？(A)外部效益 (B)外部成本 (C)受益原則 (D)機會成本。
29. ( ) 過農曆年時，表姊說：「拿了年終獎金後，我就要跳槽到別家公司。」舅媽說：「那妳得好好做功課，計畫一下。」小傑問：「換工作要計畫什麼？」舅舅說：「要看看新公司的待遇、薪水、發展是否比原來的公司更好。」請問：舅舅說明的是換工作需考慮下列何種課題？(A)受益原則 (B)外部效益 (C)機會成本 (D)外部成本。

30. ( ) 幾位同學試著分析學校對學生日常行為提供的誘因，下列哪一位舉的例子屬於負向誘因？(A)思涵：整潔比賽得名，週三可以穿便服 (B)依婷：大隊接力冠軍的獎品是飲料一箱 (C)隆俊：上學連續遲到被懲罰做勞動服務 (D)吉誠：教室布置比賽優勝，記嘉獎一次。

31. ( ) 消費者在購物時，通常會根據商品價格決定購買的數量，因此許多廠商善用這一普遍的法則銷售商品，下列哪一方式屬之？(A)草莓季來臨，超商推出草莓口味霜淇淋 (B)中元節感恩活動，罐頭、泡麵折價 5 元 (C)新年新氣象，全系列乳製品換全新包裝 (D)購物網站上線，隨時隨地都能盡情採買。


32. ( ) 附圖中，同學們對雞排的需求多寡受到下列哪一項因素的影響？



- (A)家庭收入狀況  
(B)個人偏好 (C)預期心理 (D)商品價格。

33. ( ) 可以決定生產甚麼、如何生產、為誰生產，進而製造或提供商品的經營者，稱為下列何者？  
(A)生產者 (B)需求者 (C)消費者 (D)創業者。

34. ( ) 學校召開班代會議，由附圖對話判斷，各班代表最可能是面臨何種問題而進行討論？



- (A)資源分配 (B)校園霸凌 (C)性別歧視  
(D)師生衝突。

35. ( ) 幾個同學正在思考社會資源的分配問題，下列何人的說法最為正確？(A)阿菁：任何資源的分配只能以效益為考量原則 (B)阿妍：社會資源分配的規則應由政府全權決定 (C)阿涵：用投票方式決定社會資源的使用最公平 (D)阿岑：分配社會資源應顧及是否符合公平正義。

題組：請回答 36~37

現代人生活忙碌，某一業者發現許多上班族沒有時間準備晚餐，便開始販售各種洗切完畢且搭配好的菜盤，消費者只要簡單烹煮即可享用。該業者很重視產品製造流程的衛生環境，全程以機器代替人工，因此受到單身及小家庭的上班族歡迎。請問：

36. ( ) 業者針對上班族的需求而販售上文產品，為下列哪一種選擇課題？

(A)生產什麼(B)為誰生產(C)何時生產(D)如何生產

37. ( ) 上文業者以機器代替人工生產產品，為下列哪一種選擇課題？

(A)生產什麼(B)為誰生產(C)何時生產(D)如何生產



題組：請回答 38~40

爺爺出國旅遊，帶回一塊絲綢布，大家七嘴八舌討論怎麼處理，媽媽說：「(甲)這塊布料是要用來做衣服好呢？或做被套好呢？」爸爸答說：「這麼昂貴的布，做被套好像太浪費了！」媽媽又說：「(乙)若是做衣服，是要用手工縫製呢？或用裁縫車縫製呢？」爸爸又答：「手工縫製較能看出質感吧！」媽媽說：「(丙)做衣服是要做洋裝好呢？或做套裝好呢？」爸爸說：「(丁)看妳是要自己穿或做給女兒或是奶奶穿而決定囉！」請問：

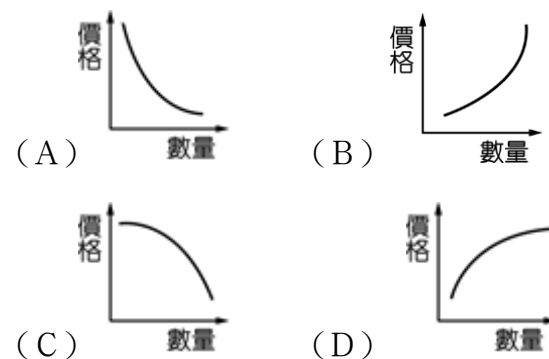
38. ( ) 爸爸針對媽媽的問題，強調須有「取捨」的回答，就是經濟學中的哪一種概念？ (A) 選擇 (B) 資源 (C) 消費 (D) 欲望。
39. ( ) 根據上文，何者是說明「如何生產」的選擇課題？ (A) 甲 (B) 乙 (C) 丙 (D) 丁。
40. ( ) 根據上文，何者是說明「為誰生產」的選擇課題？ (A) 甲 (B) 乙 (C) 丙 (D) 丁。

題組：請回答 41~42

3 月 15 日是世界消費者日，國內外消費者保護團體均會舉辦主題活動說明消費者權利的重要性。國內也有許多團體持續為消費者權益而努力，希望民眾和生產者共同思考消費的議題，因此，消費者開始關注生產者為增加效益而做出的剝削行為，寧願選擇價格高而不會在生產過程傷害勞工、動物和環境的商品；在另一方面，鼓勵漁業生產者，配合國際及政府對海洋保護區的規畫與安排，讓魚群能有時間繁衍成長，避免同業因爭搶海洋資源，過度捕撈而最終造成枯竭。也許某些方式可以捕獲更多魚量，但只有對生態友善，才能讓人類和環境永續共存。請問：

41. ( ) 根據上文判斷，消費者寧願購買較貴的商品，原因為何？ (A) 認同生產者在品質上的要求 (B) 在商品種類可以有更多選擇 (C) 重視生產過程中的公平正義 (D) 理解商品原料來源極為稀少
42. ( ) 由上文可知，國際與政府對海洋資源的安排，所考量的重點最可能為下列何者？ (A) 技術交流 (B) 產量提升 (C) 環境保護 (D) 產業升級。
43. ( ) 志偉想要區分「自由財」和「經濟財」的差別，因此他先舉出「自由財」的例子，下列何者應是他所舉的例子？ (A) 空汙嚴重地區的「清潔空氣」 (B) 連年乾旱國家的「民生用水」 (C) 曬乾陽臺衣物的「溫暖陽光」 (D) 工作整年得到的「年終獎金」。
44. ( ) 仁澤新成立的外送平臺，只提供本區上班族專屬優惠，因為他們忙碌的工作型態，是平臺最主要的使用者。對於仁澤考量的方向，下列敘述何者正確？ (A) 設定主要的消費族群 (B) 選擇利益最大的產品 (C) 使用品質最好的原料 (D) 決定最佳的生產方式。
45. ( ) 美食節目訪問多間知名伴手禮店家，受訪的老闆都強調店內商品是自家全程製作，雖然過程繁複辛苦，但也因此得到最好的品質，絕對不會去買半成品加工或者拿別家做好的商品來賣。上述受訪者的堅持，在生產課題的考量上，應與下列何者最相關？ (A) 安排最熱門的銷售管道 (B) 選擇最適合的生產方式 (C) 決定最容易製作的商品 (D) 設定主要的消費族群。

46. ( ) 自行車旅遊、運動一向是歐洲人的最愛，廠商預見人口老化時代將至，積極搶攻電動自行車市場，讓退休老年人也能享受騎車樂趣。請問：上文中廠商生產電動自行車是從下列哪一項選擇課題去思考？ (A) 為誰生產 (B) 生產什麼 (C) 如何生產 (D) 由誰生產。
47. ( ) 臺灣民眾擔心美國進口豬肉的安全性，因此在日常採買時會特別選購臺灣豬肉食用，導致臺灣豬肉及其製品的售價開始上漲。一般而言，對於這樣的變化，下列何項推論正確？ (A) 生產者會增加臺灣豬肉的生產，民眾則會減少購買量 (B) 生產者會增加臺灣豬肉的生產，民眾也會增加購買量 (C) 生產者會減少臺灣豬肉的生產，民眾則會增加購買量 (D) 生產者會減少臺灣豬肉的生產，民眾也會減少購買量。
48. ( ) 西元 2004 年時，新加坡成立一間以低票價為訴求的航空公司，但其服務內容少了空姐送餐點、飲料，如果顧客有餐飲需求，只能在機上訂餐盒。由於票價低廉，所以短程的飛行常常客滿。上述這種價格與數量的關係，可用下列哪一圖形來表示？



49. ( ) 北興社區發展協會免費提供一個娛樂室，可讓社區居民在裡面聚會或辦活動，由於設備新穎，大家搶著預約，因此發生爭執。召開社區大會時有人建議，發展協會可以採小時計費，每小時 500 元，或許能改善這個問題。由上述判斷，該提議的概念最接近下列何項敘述？ (A) 政府以公權力規範社區資源的運用 (B) 以使用者付費決定社區資源的分配 (C) 收費機制將導致公共利益受到損害 (D) 居民應增強社區意識抵制發展協會。
50. ( ) 近年來，自然景觀休閒遊憩「遊客總量管制」的觀念漸受重視，亦即在不破壞自然環境的前提下，評估該景觀可以承受的限度來安排遊客人數，如福山植物園便是採行事先申請、限額入園的做法。請問：上述內容最能顯示下列何種意涵？ (A) 土地過度使用超過負荷 (B) 珍惜資源以求永續經營 (C) 國土使用規畫日漸完備 (D) 週休二日休閒模式改變。