

◎ 單選題，第1-20題每題3分，第21-40題每題2分。

1. 最新研究報告指出，非洲國家從一九九〇至二〇〇五年間的內戰衝突，已耗費大約三千億美元開銷，嚴重影響非洲的經濟發展。請問：此一情形與下列哪一因素最有關？

- (A) 缺乏勞力和市場 (B) 人口素質差 (C) 礦產資源短缺 (D) 國界劃分未考慮族群分布

◎ 題組題：西元2013年12月，伊波拉病毒在西非引爆大流行，此乃伊波拉出血熱史上最嚴重的一次爆發，臨床致死率高達1%，根據世界衛生組織的統計，截至西元2015年7月30日，全世界已有11,295人死亡，主要集中在幾內亞灣沿岸三國：賴比瑞亞、獅子山及幾內亞(右下深色處)，這三個國家以銷售礦產、熱帶栽培作物為國家主要收入。請回答下列問題：

2. 幾內亞灣沿岸三國，所種植的熱帶栽培業作物最可能為下列何者？

- (A) 柑橘、橄欖 (B) 棉花、花生
(C) 咖啡、可可 (D) 小麥、椰棗。

3. 下列何者並非「非」伊波拉病毒在非洲快速傳播的原因？

- (A) 無有效疫苗可預防 (B) 居民衛生知識不佳
(C) 當地醫療醫源缺乏 (D) 過度開發造成生態破壞。

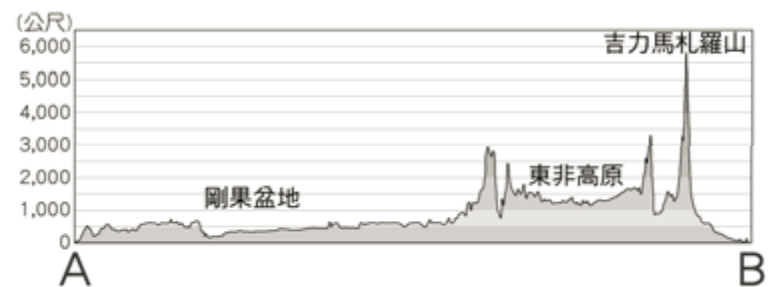


4. 2014年的伊波拉疫情在3月於西非的幾內亞爆發。時至2015年1月6日，全球確診個案已上升至21,097多宗，超過8,200人死亡，比過往20年以來的總和還要高。請問：該現象與下列哪一項原因最相關？

- (A) 交通大幅改善，國際交流頻繁 (B) 國際社會不願伸出援手
(C) 非洲醫療資源較從前落後 (D) 部落社會拒絕西方醫療。

5. 右圖為非洲某地的地形剖面圖，根據圖中資訊判斷，圖中的B處是何海域？

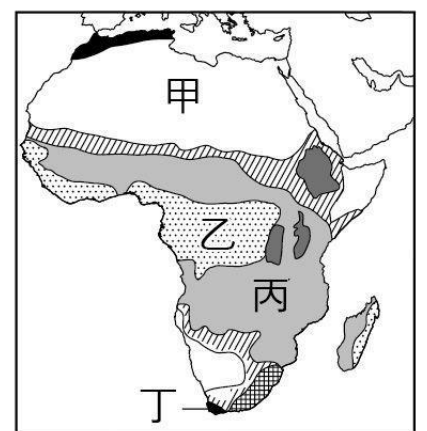
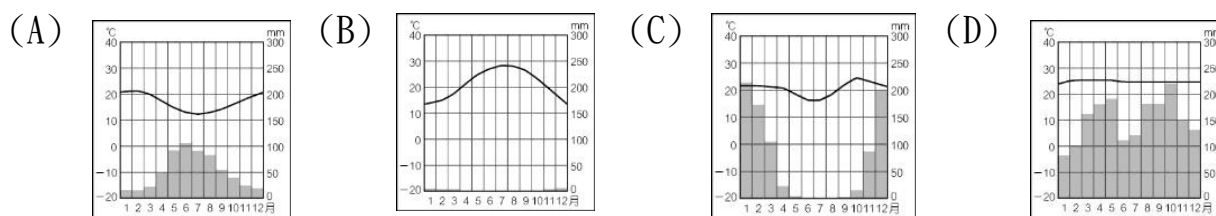
- (A) 地中海 (B) 印度洋
(C) 大西洋 (D) 太平洋。



6. 曼德拉是世界上最受尊重的政治家之一，他帶領南非結束〇〇制度，走向多元的民主制度。1993年，曼德拉被授予諾貝爾和平獎。1994年5月10日曼德拉成為南非首位黑人總統，達到他傳奇人生的高潮。請問〇〇是何種制度？

- (A) 民族自決 (B) 節能減碳愛地球
(C) 種族隔離政策 (D) 經濟自由主義。

7. 右圖為非洲氣候，請問下列何者乙區氣候圖



8. 美國作家海明威有一部中篇小說，名為《吉力馬札羅的雪》，內容提到此山位於炎熱赤道旁的第一高峰，山頂卻終年積雪，被坦尚尼亞的遊牧民族馬賽人稱為『上帝的居所』，請問該山脈位於非洲哪一個地形區？

- (A) 撒哈拉盆地 (B) 東非大裂谷 (C) 剛果盆地 (D) 喀拉哈里盆地。

9. 世界咖啡出口大國之一的衣索比亞，每年生產大約35萬噸的咖啡，其中三成出口到世界各國，咖啡經濟占了該國GDP的一半以上。當地大規模的種植咖啡可能對國家造成下列何種影響？

- (A) 農業型態商業性極低 (B) 經濟易受國際市場價格影響
(C) 糧食作物產量增加 (D) 農民易擺脫貧窮。

10. 二十一世紀後，大量資金與技術的投入使漠南非洲呈現跳躍式發展，當地居民常以何種方式進行語言溝通？

- (A) 書信 (B) 電報 (C) 手機 (D) 室內電話。

11. 迦納是全球僅次於象牙海岸的可可豆產國，供應量占全球的1/5，每年靠出口可可豆創造20億美元營收，但與全球巧克力市場營收超過1千億美元相比連1/50都不到。迦納副總統巴伍米亞（Mahamudu Bawumia）表示：「石油輸出國組織（OPEC）只控制全球30%到40%的石油供應量，卻能主導油價。假設產油國有OPEC，我們也該有COPEC（可可豆輸出國組織）。」（工商時報2019.12.29）請問：為何西非國家控制世界70%的可可豆生產，農民卻依舊貧困？

- (A) 西方大企業操控產品價格 (B) 可可豆的價值極低
(C) 缺乏生產巧克力關鍵技術 (D) 戰亂頻繁生產量少。

12. 承上題，西非各國為提高收入，只能大規模砍伐樹林，進行整地種植更多可可樹。請問：遭受破壞的植被景觀為何？

- (A) 雨林 (B) 草原 (C) 沙漠 (D) 苔原。

13. 「族人在耕種之前，先把森林中一小塊地面上的樹燒掉，然後種山芋和樹薯。他們以掘棒、鋤等傳統農具耕作並不施肥，並不施肥，數年後，當土壤變得貧瘠時農民便須移至它地，另闢田地。」請問：非洲此種農業方式分布在哪一種氣候區？

- (A) 熱帶沙漠 (B) 熱帶雨林 (C) 地中海型 (D) 高地氣候。

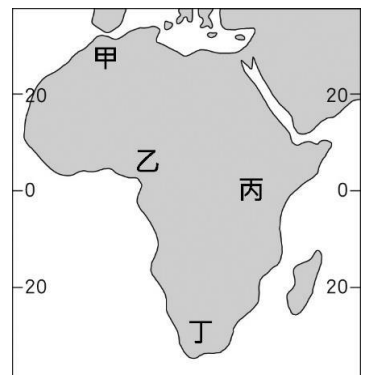
14. 鄭和下西洋是指中國在明代早期1405年至1433年間的七場連續的大規模遠洋航海，跨越了東亞地區、印度次大陸、阿拉伯半島、以及東非各地。鄭和抵達漠南非洲東岸所見到的海岸特色最可能為下列何者？

- (A) 廣闊的沙灘海岸線平淺 (B) 海岸線平直且海岸陡峭
(C) 海岸線曲折且灣澳眾多 (D) 海水低淺紅樹林遍布。

15. 非洲地形相當單調，若由北向南前進，依序將會經過哪三個盆地地形區？

- (A) 撒哈拉盆地、剛果盆地、喀拉哈里盆地 (B) 撒哈拉盆地、喀拉哈里盆地、剛果盆地
(C) 剛果盆地、撒哈拉盆地、喀拉哈里盆地 (D) 喀拉哈里盆地、撒哈拉盆地、剛果盆地。

16. 公平貿易是一種有組織的社會運動，倡議消費者以「合理價格」向生產者購買貼有公平貿易標籤的商品。公平貿易提供生產者一種永續的方法來改善他們的生計，讓他們真正有機會脫離貧窮，不再需要依靠捐款者的捐助。公平貿易有三大含義：友善生產者、友善消費者以及友善環境。以「合理價格」向生產者收購農產品，禁止使用童工從事生產活動；耕地施作有農藥使用規範及水土保持措施；對消費者而言，我們能清楚知道咖啡的產地，喝得更安心與健康。請問：你所喝到的公平貿易咖啡為高地氣候區產物，其標註的產地最可能位於右圖中何處？



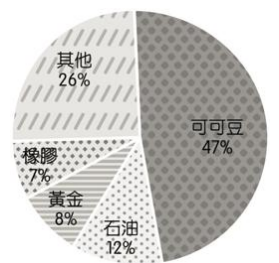
- (A) 甲 (B) 乙 (C) 丙 (D) 丁。

17. 臺灣世界展望會自民國79年起舉辦「飢餓三十——人道救援行動」，匯集國內各界民眾的愛心，救助非洲地區。請問：下列何者「不是」非洲急需救助的主要原因？

- (A) 衛生低落及醫療不足 (B) 長期乾旱衍生饑荒
(C) 全球暖化導致水患 (D) 經年戰亂摧殘家園。

18. 右圖為漠南非洲某國家主要出口品項比例圖。請問：此圖可以判斷出下列哪些訊息？

- (A) 進口貿易品項，容易賺進大量外匯 (B) 該國最可能分布在非洲的南部
(C) 經濟結構具殖民地式經濟特徵 (D) 國內糧食供給充足且能出口。



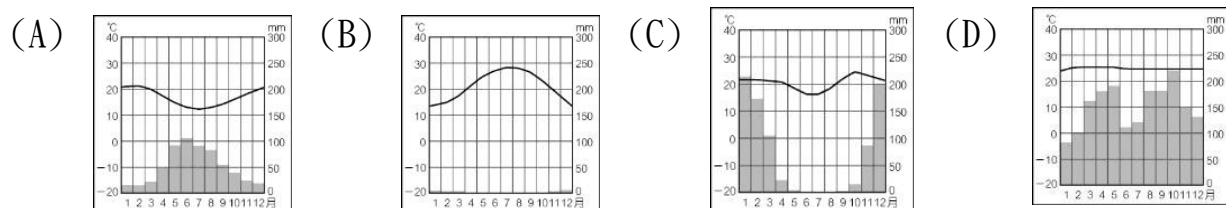
19. 非洲受到下列哪一個地形的阻擋影響，造成南北間族群及文化上形成極大的差異？

- (A) 吉力馬札羅火山 (B) 東非大裂谷 (C) 剛果盆地 (D) 撒哈拉沙漠。

20. 「漠南非洲因為乾旱而引發饑荒，在馬拉威、莫三比克、賴索托等國在每年九月至隔年的二月是所謂的饑月份，每天往往只能吃一頓飯。專家表示非洲國家加入WTO後，將影響地主使用土地的方式，用來生產利於出口的產品，饑荒問題將更加惡化。」請問：有上文可知，為何非洲國家加入WTO後將是饑荒變更加嚴重？

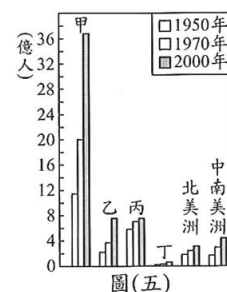
- (A) 更多移民至南非人口暴增 (B) 糧食作物改種經濟作物
(C) 肥料費用增加無力改善土地 (D) 外援減少時努力不足

21. 好望角在非洲南非共和國的西南端，北距開普敦48km，瀕大西洋，在開普半島的盡頭處，是南非最著名的旅遊勝地之一。在蘇伊士運河未開通以前，好望角是歐洲通往東方的海路必經之地；至今，特大油輪若無法進入蘇伊士運河，仍需繞行好望角。由好望角的位置推判，下列哪一張是當地的氣候圖？



22. 右圖是六大洲在不同年分的人口數統計圖，根據人口成長變化速度趨勢判斷，圖中乙應是代表下列何者？

- (A) 歐洲 (B) 亞洲 (C) 非洲 (D) 大洋洲。



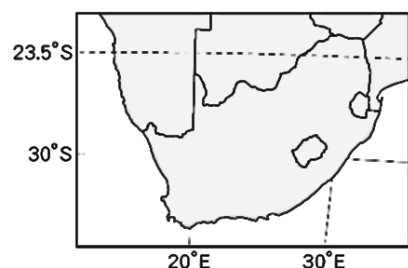
23. 剛果河為漠南非洲流域面積最寬廣及流量最大的河川，其成因和該河川位於哪一種氣候區內的關係密切？

- (A) 高地氣候 (B) 熱帶沙漠氣候
(C) 熱帶莽原氣候 (D) 熱帶雨林氣候。

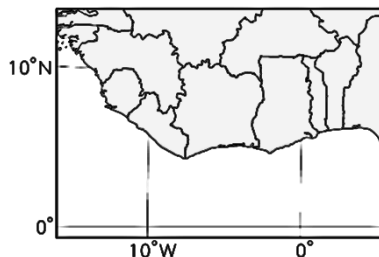
24. 以下哪一沙漠的成因不同於南部非洲喀拉哈里沙漠？

- (A) 北非撒哈拉沙漠 (B) 中國塔克拉瑪干沙漠
(C) 西亞阿拉伯沙漠 (D) 印度塔爾沙漠。

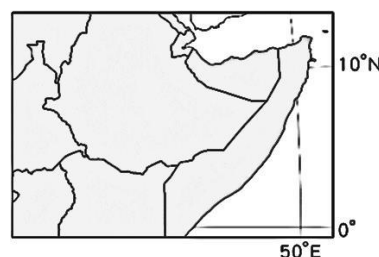
25. 下面圖(甲)~(丙)為漠南非洲三個地區的位置圖，請問哪個地區的沿海平原是西非人口集中的精華區？



(甲)



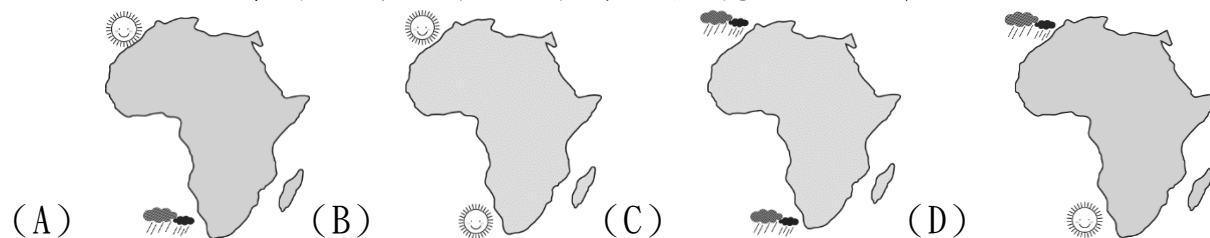
(乙)



(丙)

- (A) 甲 (B) 乙 (C) 丙 (D) 以上皆非。

26. 非洲的氣候大致呈現南北對稱特色，其中溫帶地中海型氣候區由於宜人，成為主要的度假勝地。請問：非洲在一月時，其境內的溫帶地中海型氣候狀況下列何者最為正確？



- (A) (B) (C) (D)

27. 小新在超市買咖啡豆看到包裝上的標籤如右圖。雨林聯盟認證指本咖啡包裝袋裡部分或全部的咖啡是來自符合保護農民、森林、野生動物和當地社區的農場生態，並且環境可持續的永續發展。而下列關於公平貿易標章的敘述，何者正確？



- (A) 確保企業主得到最大利益 (B) 使漠南非洲農民獲利被壓縮
(C) 經銷商以優惠價格買到原料 (D) 生產者在貿易上得到較公平待遇。

28. 二十一世紀最為嚴重的新冠病毒疫情，重創各國的經濟活動，由於國家邊境的封鎖，讓國際運費節節上升，導致小麥、玉米等糧食作物價格上漲，對於糧食進口大宗的非洲國家影響甚大，紛紛陷入告急階段，估計撒哈拉沙漠以南將高達4,000萬人面臨饑荒問題。下列何者為該地區糧食依賴進口最主要的原因？

- (A) 生長季節過短 (B) 缺乏勞力資源
(C) 大量種植經濟作物 (D) 地勢高低起伏。

29. 漠南非洲發展雖具挑戰，但本身優勢仍吸引各國前來投資，請問：下列何者是其優勢之一？

- (A) 基礎設施完善 (B) 高技術人才
(C) 勞動力充沛 (D) 氣候溫和濕潤。

30. 在漠南非洲各國，不難發現基督宗教的蹤跡。有關漠南非洲的基督宗教，最有可能在何時傳播至此？
(A) 羅馬帝國時期 (B) 伊斯蘭帝國時期
(C) 西方殖民時期 (D) 現代民族國家時期。
31. 兩屆奧運馬拉松金牌(2016、2020)肯亞男子長跑好手基普柯吉 (Eliud Kipchoge)，於 2022 年柏林馬拉松的比賽中，以 2 小時 01 分 09 秒打破了自己保持的男子世界紀錄。科學家發現東非肯亞選手的肺活量比其它地區的選手要更好，請問該地區有何自然條件對提升選手的肺活量有幫助？
(A) 乾燥炎熱的沙漠 (B) 海拔高的高原地形
(C) 溼熱的雨林 (D) 平直的海岸。
32. 根據右圖移動的箭號路徑判斷，胖虎沿路的氣候變化應為下列何者？
(A) 年降水量先增後減 (B) 雨季降水量一直在減少
(C) 最冷月均溫一直在降低 (D) 最暖月均溫先降後上升。
33. 承上題，請問哪一個人的移動路徑海拔高度會越來越高，需要先準備高山症的應對藥物？
(A) 靜香 (B) 大雄 (C) 胖虎 (D) 小夫
34. 右圖為漠南非洲境內國家的疆界畫分圖，其中許多國家的邊界多為筆直的線段。請問：造成這種現象的原因為何？
(A) 斷層裂谷 (B) 河川經過
(C) 山脈阻擋 (D) 殖民歷史。
35. 「鑽石恆久遠，一顆永流傳」是電視上常見的廣告詞。非洲若依其地理位置可分為東非、西非、北非、中非、南非等區域，請問其中哪些地區擁有豐富的鑽石礦，成為當地重要的經濟資源？
(A) 東非、西非 (B) 北非、南非
(C) 中非、南非 (D) 北非、東非。
36. 右圖為非洲肯亞的人口金字塔圖。請問：從右圖可以判斷出下列哪項人口事實？
(A) 人口自然增加少 (B) 出生率高，死亡率低
(C) 屬於低金字塔 (D) 通常出現在已開發國家。
37. 近年來臺灣連鎖量販店陳列各國酒品，產地皆有標示。在非洲的貝比隆斯托莊園以盛產葡萄酒為名，請問：貝比隆斯托莊園最有可能位於右圖中何處？
(A) 甲 (B) 乙 (C) 丙 (D) 丁。
38. 荷馬《奧德賽》第六卷寫道『光榮的俄底修斯開口說話，對同行的僕人：「站著吧，姑娘們，站出一點距離，容我洗去肩上的鹽垢，塗上橄欖油。我的皮膚已久無半點油脂。我不打算在你們面前洗澡，那會使我害臊，光著身子，在髮辮秀美的姑娘們身旁。」聽了這番話，姑娘們轉身離去，回告年輕的主人。』橄欖為溫帶地中海區常見的作物，根據上文提供資訊，該地最可能位於下列哪種氣候區，方為適合文中作物的生長環境。

