

〈試題卷〉

選擇題（一題 2 分，共 100 分）

- （ ）佛教是臺灣的重要宗教信仰之一，下列關於佛教的敘述，何者正確？（A）現今印度地區信仰人口最多的宗教（B）反對婆羅門教所主張的靈魂輪迴、因果報應等觀念（C）西元一世紀由釋迦牟尼所創（D）主張眾生平等，強調修行的重要，以超脫生死輪迴的痛苦。
- （ ）最早定居在兩河流域的蘇美人，其發明被其他民族所沿用。下列關於蘇美人在文化上的貢獻，何者正確？（A）創立最早的一神信仰（B）創立祆教（C）制定陰曆（D）制定《漢摩拉比法典》。
- （ ）近年來由於廢死聯盟團體主張廢除死刑引起很大的爭議，但目前看來仍以反對廢除死刑者占多數，因為「殺人者死，傷人及盜抵罪」的罪刑報償原則仍被國人視為維持社會秩序的基礎。其實這樣的原則最早是由哪個民族將其明文記載在法典上？（A）羅馬人（B）巴比倫人（C）蘇美人（D）希伯來人。
- （ ）請問：亞歷山大推動文化融合的措施，如鼓勵民族通婚等方式，與中國歷史上哪一位君主的政策類似？（A）漢武帝（B）秦始皇（C）元世祖（D）北魏孝文帝。
- （ ）裕翔參加旅行團出國旅遊，到了某個國家時，導遊說：「羅馬人在這裡留下許多遺跡，有引水的管道、競技場，各種神廟建築。」請問：裕翔可能身處在何處？（A）西班牙中部（B）印度南部（C）非洲中部（D）阿拉伯半島南部。
- （ ）某日，永婕在書中看到一段記載：「……西元 476 年這個年代對羅馬歷史具有關鍵性的影響……」。請問：此關鍵性的影響為何？（A）西羅馬帝國滅亡（B）東羅馬帝國滅亡（C）屋大維接受元老院獻上「奧古斯都」的尊號（D）羅馬帝國正式分裂為二。
- （ ）古代這個地區形成許多城邦，城邦各自為政，彼此之間戰爭不斷。戰爭需要士兵，體育活動是培養強壯士兵的重要關鍵。之後，準備兵源的軍事訓練和體育競技，與宗教慶典結合，逐漸變為象徵和平與友誼的運動會。請問：上文中的「這個地區」位於附圖（一）中的何處？（A）甲（B）乙（C）丙（D）丁。



圖（一）

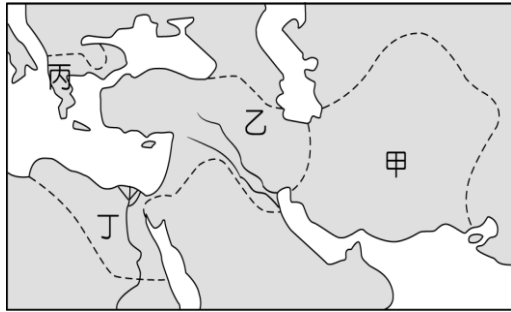


圖（二）

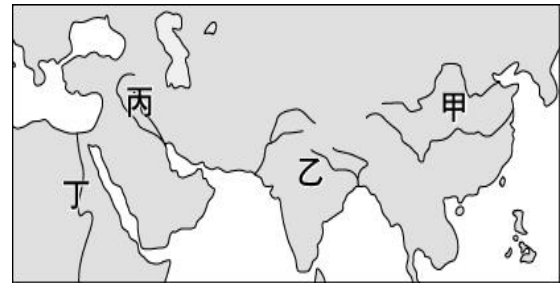
- （ ）上課時，老師展示某時期的地圖，如附圖（二）所示，圖中疆域的範圍，曾是哪一大帝國的領土？（A）埃及王國（B）波斯帝國（C）亞歷山大帝國（D）羅馬帝國。
- （ ）印度古文明曾在西元前 2300 年左右出現，但之後因來自西北方的民族入侵而滅亡。請問：西元前 2300 年左右，印度古文明在哪一個地區曾發展出城市文明？（A）恆河流域（B）印度河流域（C）尼羅河流域（D）兩河流域。
- （ ）某個文明出土的人形棺上，刻著一段文字：「偉哉我的父親奧塞利斯！你的身體屬於你，你將不朽不滅，身體不會有蛆、不會膨脹、不會發臭、不會腐敗。」請問對當時的人們而言，要保持死者的肉身不會腐化最主要的原因為何？（A）肉身是靈魂的容器，要好好保存，等待死者復活（B）人們認為死者只是沉睡了，有一天會再醒過來，所以要好好照顧他（C）死者的身體保持得愈完整，代表死者的地位愈高（D）死者作惡多端，人們不願意死者安息。
- （ ）明偉某日觀看了一部以古希臘城邦為時代背景的影片，在這部影片中他可能會看到那些場景？（甲）奧林匹亞舉行盛大的敬神祭典（乙）看見希羅多德在街上辯論人生的意義（丙）均衡、對稱的帕德嫩神廟（丁）有人在研讀荷馬的史詩（A）甲乙丙（B）乙丙丁（C）甲丙丁（D）甲乙丁。
- （ ）請問：世界上早期最完整的成文法典，並成為歐洲各國制定法律參考的來源，是以下哪一部法典？（A）十二銅表法（B）漢摩拉比法典（C）查士丁尼法典（D）拿破崙法典。

13. () 歷史課堂上同學們以「波斯」為主題進行報告，請問下列何者的說明有誤？ (A)佑雯：曾建立一個橫跨歐亞非三洲的大帝國 (B)雲谷：西元六世紀崛起於小亞細亞，積極推行波斯文化 (C)銘安：信奉祆教，強調善惡二元對立的宗教觀 (D)義詳：這個國家曾經征服兩河流域和埃及等地。
14. () 雅典和斯巴達都是古希臘的重要城邦，關於這兩者的比較，下列何者正確？ (A)兩城邦都是位於伯羅奔尼撒半島 (B)前者實施民主政治，後者以勇武著稱 (C)前者公民需接受軍事訓練 (D)後者官員由抽籤產生。
15. () 西元前八世紀，羅馬人已開始在義大利中部的臺伯河畔建立羅馬城，之後經過幾世紀的發展，這股勢力稱霸整個地中海地區。在這個過程中，政治發展也經歷幾個政體，如果依歷史發展順序排列，下列何者正確？ (A)帝國→共和→王政 (B)王政→帝國→共和 (C)共和→王政→帝國 (D)王政→共和→帝國。

*附圖(三)中的帝國涵蓋歐、亞、非三洲，請回答 16~17 題



圖(三)



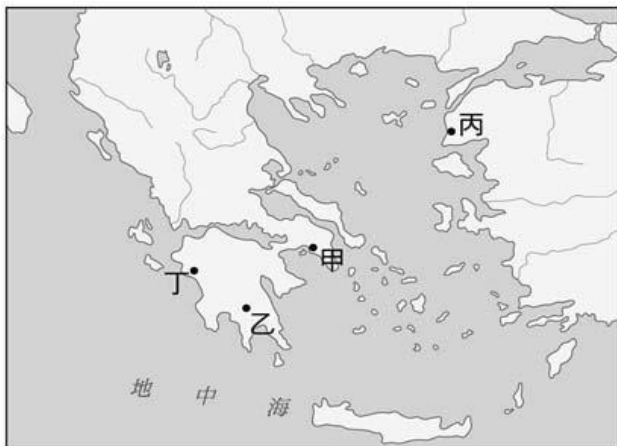
圖(四)

16. () 甲、乙、丙、丁四區是哪一位君王所建立的帝國？ (A)成吉思汗 (B)亞歷山大 (C)居魯士 (D)屋大維。
17. () 這個帝國所使用的官方語言應為下列何者？ (A)拉丁文 (B)埃及文 (C)波斯文 (D)希臘文。
18. () 峻睿到博物館參觀某古文化展覽，看見了一塊泥板文物，上面有古人用蘆葦刻壓的文字，文字筆畫大多為具三角形的線條。請問：這個古文化最可能位於附圖(四)中哪個代號的位置？ (A)甲 (B)乙 (C)丙 (D)丁。
19. () 如果你是羅馬帝國時代的公民，將不會有下列何種生活經驗？ (A)到公共浴池消磨時間 (B)到圓形競技場觀看鬥士格鬥 (C)到羅馬城內建造大型建築物 (D)參加奧林匹亞的敬神祭典。
20. () 「神啊，整個世界均在您的掌握之中。因為這一切都是您創造的。當您自東方升起，一切便充滿生氣，當您自西方隱退，一切便歸於死寂。神啊，您是生命的源頭，人類沒有了您，便一天也活不下去。神啊，您創造了這個世界，同時把它交付給您的愛子……求您保佑您的愛子及他忠心的妻子，埃及第一夫人，長命百歲，永享康年。」以上是某位法老留下的頌詩，他所讚頌的應為下列何者？ (A)尼羅河神 (B)太陽神 (C)冥界之神 (D)濕婆神。
21. () 下列關於西亞文化遺產、民族、活動地區的配對，哪些是正確的？(甲)六十進位法→蘇美人—兩河流域(乙)《漢摩拉比法典》→巴比倫人—伊朗高原(丙)猶太教→希伯來人—地中海東岸(丁)祆教→波斯人—小亞細亞 (A)甲乙 (B)丙丁 (C)甲丙 (D)乙丁
22. () 請問：為什麼希臘會發展為各自獨立的小城邦，而不是一個大帝國？ (A)水源充足，習慣散居 (B)宗教差異，相互敵視 (C)因地形平坦，缺乏天然屏障 (D)希臘多山，地形崎嶇。
23. () 俊豪將四個西方早期大帝國，依建立的先後順序排列，下列何者正確？(甲)亞歷山大帝國(乙)波斯帝國(丙)西羅馬帝國(丁)羅馬帝國 (A)乙甲丁丙 (B)乙丙甲丁 (C)丙甲乙丁 (D)甲乙丙丁。
24. () 小恩在假日跟隨父母至一座具有希臘風格的遊樂園區遊玩，在園區中他走到了一處名為特洛伊城堡的室內遊樂館，並在館外看到一隻巨型的木馬，但小恩不曉得這隻巨型木馬代表什麼意義？後來查閱相關資料，得知原來這和「特洛伊戰爭—木馬屠城記」有關，而此事件是由希臘史詩《伊里亞德》所改編，是在敘述特洛伊城人民英勇抗敵的事蹟。請問此史詩是下列何人所寫？ (A)柏拉圖 (B)歐幾里德 (C)西羅多得 (D)荷馬。
25. () 臺大考古學系欲前往古西亞文明的發源地，下列哪一地區不是其目的地之一？ (A)伊朗高原 (B)地中海西岸 (C)兩河流域 (D)小亞細亞。
26. () 古埃及的測量、醫學、曆法、文字等文明成就都相當卓越，即使已過了數千年，仍為後世讚嘆不已。請問：有關古埃及文化的敘述，何者錯誤？ (A)為了要建造金字塔，與丈量氾濫後的土地，故測量技術發達 (B)由木乃伊的製作，顯示醫學知識很先進 (C)長期觀察河水氾濫的時間，發展出曆法 (D)用削尖的蘆葦桿在溼軟的泥板上書寫，發明了楔形文字。

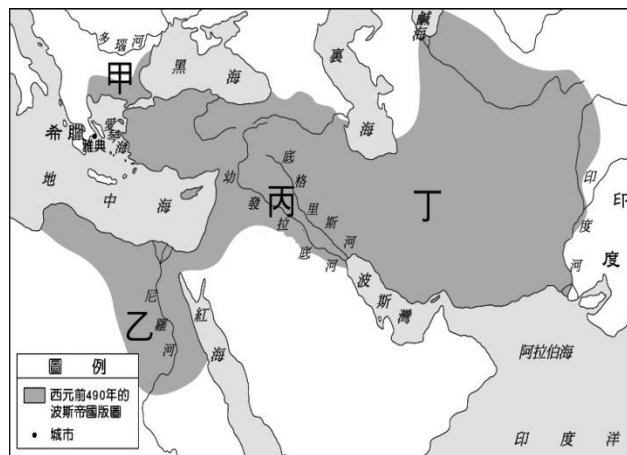
27. () 溫泉關戰役是斯巴達國王帶領著國內三百壯士抵禦數量多出數倍波斯軍隊的戰役，經此一戰雖然殿後的斯巴達軍隊全軍覆沒，但在歷史上留下了英勇的名聲。請問：如果語岑想要閱讀更多相關史料，她應該要鍵入哪一個關鍵字？ (A)伯羅奔尼撒戰爭 (B)波希戰爭 (C)亞歷山大東征 (D)特洛伊戰爭。
28. () 歐幾里德在亞歷山大港教書並度過一生，致力於科學的研究，其著作被認為是史上最成功的教科書。請問：關於歐幾里德的生平與影響，下列何者錯誤？ (A)他生活在希臘化時期 (B)明末來華傳教士利瑪竇曾與徐光啟將他的名著翻譯成中文 (C)他提出槓桿、浮力等原理 (D)他著有《幾何原本》，至今仍為幾何學的權威作品。
29. () 博鈞看世界新聞時發現有一個民族分散在全世界，但多數人都保持傳統的習俗，也希望可以與同民族的人結婚。他們以「上帝的選民」自居，信仰唯一的真神耶和華，在亡國千年之後，終於在 20 世紀時建國。請問：此民族應是指下列何者？ (A)希伯來人 (B)波斯人 (C)埃及人 (D)印度人。
30. () 下列是有關「古埃及人的宗教信仰」的資料，其中只有哪一項是正確的？ (A)古埃及社會為多神信仰，其中最受人崇敬的是善神與尼羅河神 (B)尼羅河神代表循環不息的再生力量，而統治埃及的法老，就是尼羅河神之子 (C)埃及人認為人死後通過審判才可以復活，於是製作「木乃伊」保存軀體 (D)他們認為宇宙與人類都是由耶和華所創造。
31. () 阿利安人進入印度之後，採取一連串的種族歧視措施，其主要原因為何？ (A)土著的文化過於強勢，威脅阿利安人 (B)為了徹底同化原有的土著 (C)為了維護阿利安人的統治地位 (D)為了將土著徹底消滅。
32. () 希臘的史學家希羅多德曾經說過：「埃及是尼羅河的贈禮。」這句話道盡了埃及與尼羅河的關係。請問希羅多德的這句話，我們可以如何解讀？ (A)尼羅河定期氾濫帶來肥沃的淤泥 (B)尼羅河從不氾濫因而相當安全 (C)尼羅河方便埃及人航行於亞非兩洲 (D)尼羅河是天然的屏障阻絕埃及與外地。
33. () 古代希臘哲學家善於思考，下列何者是他們最喜歡探討的主題？ (A)探索宇宙的起源 (B)如何苦修以得到神的救贖 (C)追求個人的政治前途 (D)倫理道德與人生意義。
34. () 西羅馬帝國於西元 476 年滅亡後，東羅馬帝國直到西元 1453 年才被哪一民族所滅？ (A)日耳曼人 (B)鄂圖曼土耳其人 (C)阿拉伯人 (D)波斯人。
35. () 「法老權力集中，掌控政府，建立強大軍隊，採取馬拉戰車，使用鐵製武器，向外征戰，是古埃及版圖最遼闊的時代。」上述景象，出現於古埃及歷史的哪一個階段？ (A)城邦時期 (B)古王國時期 (C)中王國時期 (D)新王國時期。
36. () 印度阿育王主政時期設立許多「阿育王柱」，上面刻有敕令和教諭，宣揚佛法的慈悲智慧。關於阿育王對佛教的影響，下列敘述何者錯誤？ (A)他有感於人世間生老病死之苦，因而創立佛教解救眾生 (B)他在位時修訂佛教基本教義和戒律 (C)他派遣眾多僧侶到國外弘揚佛教 (D)他促使佛教傳播到東亞各地。
37. () 古印度出現了兩個重要的宗教——婆羅門教與佛教，此兩者有所因襲也有所差異，其中最大的差別為何？ (A)輪迴的觀念 (B)眾生平等的訴求 (C)因果報應的理論 (D)多神信仰。
38. () (甲)埃及 (乙)中國 (丙)西亞 (丁)希臘。希臘化文化是融合以上哪些地區的文化而形成的？ (A)甲乙丙 (B)甲乙丁 (C)甲丙丁 (D)乙丙丁。
39. () 隨著羅馬帝國擴張，某民族使用的語言也成為世界共通語言，即便後來歷經外族入侵，帝國消逝，這個語言依然廣泛地在中世紀西歐使用。請問：該語言為下列何者？ (A)楔形文 (B)埃及文 (C)希臘文 (D)拉丁文。
40. () 某日，小丞看到一則新聞報導：「近來印度性侵案頻傳，屢屢躍上國際新聞版面，當地學者認為，重男輕女與種姓制度是這股亂象的元凶，在錯誤觀念尚未被導正前，即使提高刑責也無法改變現狀。」有關新聞中提及的「種姓制度」，具有下列哪一特色？ (A)創造出平等和諧的社會 (B)與婆羅門教有密切關係 (C)分為貴族、庶人、奴隸三階級 (D)平民可以藉由才能與努力成為貴族。
41. () 西元前 27 年，屋大維開啟了羅馬帝國時代。請問：此時正值中國的哪一時期？ (A)唐朝 (B)明朝 (C)漢朝 (D)秦朝。
42. () 「他」是一位羅馬共和後期有實力的軍人，曾經掌握大權，但因「他」的獨裁專政而遭到暗殺。請問：此人為下列何者？ (A)屋大維 (B)凱撒 (C)君士坦丁 (D)亞歷山大。
43. () 兩河地區是古文化的起源地之一，有許多民族先後入主過這塊土地，若按照順序排列最可能是下列何者？ (A)蘇美人➡波斯人➡巴比倫人 (B)希伯來人➡蘇美人➡巴比倫人 (C)巴比倫人➡蘇美人

➡波斯人 (D)蘇美人➡巴比倫人➡波斯人。

44. () 古埃及人居住在沙漠中，由於生活相當不易，因而形成了一個集權的政府組織。沙漠中的艱難環境，也大大的影響了埃及人的文化與宗教。請問：以下有關古埃及宗教的敘述，何者有誤？ (A)法老以太陽神之子的身分治理埃及 (B)埃及人相信死而復生，因此製作木乃伊 (C)尼羅河代表的是破壞一切的破壞神 (D)埃及屬於多神信仰，他們相信太陽神是宇宙的主宰。
45. () 古埃及文化受到尼羅河影響深遠，是「大河文化」的代表。下列何者的出現和發展，與尼羅河較無直接關係？ (A)周而復始的生命觀 (B)象形文字的使用 (C)高度發展的農業 (D)曆法的制定。
46. () 北星電視臺最近開拍歷史片——羅馬風雲，計畫從古羅馬建城演到四世紀末帝國分裂為止。請問：下列哪個角色在此劇中的登場時間最晚？ (A)羅馬和平時期的皇帝 (B)王政時期的國王 (C)掌有權力的元老院貴族 (D)羅馬共和晚期崛起的軍人。
47. () 「腓尼基人」為古文化的一支重要的民族，其時常往返於歐、亞、非三洲，因此成為文化傳播的重要推手。下列關於「腓尼基人」的敘述，何者正確？ (A)腓尼基人為古西亞民族，主要居住在伊朗高原 (B)腓尼基人以擅長陸路貿易經商聞名 (C)古埃及的象形文字透過腓尼基人的簡化後，傳到地中海一帶而逐漸成為西方拼音文字的基礎 (D)腓尼基人主要居住在地中海的西岸。
48. () 附圖(五)是希臘城邦示意圖。最能代表民主的城邦是在什麼地區？ (A)甲 (B)乙 (C)丙 (D)丁。



圖(五)



圖(六)

49. () 波斯帝國是歷史上第一個橫跨歐、亞、非三洲的大帝國。請問：波斯帝國的發源地，位在附圖(六)中的何處？ (A)甲 (B)乙 (C)丙 (D)丁。
50. () 下列關於《漢摩拉比法典》的敘述，何者錯誤？ (A)為了維護日益複雜的社會關係和商業活動而制定 (B)強調「以牙還牙、以眼還眼」的報復原則 (C)法典的名稱是以巴比倫王來命名 (D)是由人民共同議訂完成的法典。