

嘉義市立北興國中一一一學年度第一學期第二次段考歷史科一年級_____班_____號 姓名：_____

一、單選題 每題 2 分 共 70 分

1、附圖是子淇去圖書館做有關臺灣行政區劃報告時所找到的地圖。請問：他的報告內容可能是臺灣歷史發展中的哪一時期？



(A) 鄭氏時期 (B) 雍正時期 (C) 嘉慶時期
(D) 康熙時期。

2、根據上圖，嘉義縣名稱的出現，與哪一事件有關？

(A) 英法聯軍 (B) 海盜出沒 (C) 戴潮春事件
(D) 林爽文事件。

3、清帝國是第一個將臺灣納入中國版圖的朝代。請問：清帝國哪一位皇帝在位時將臺灣納入版圖？

(A) 康熙 (B) 雍正 (C) 乾隆 (D) 嘉慶。

4、阿順仔是高雄內門人，小時候聽阿公說起當地一位反清的大人物，他有一項絕技，就是能命令鴨子排排走，猶如命令軍隊一樣。在清朝時，替當地百姓發聲，抗議政府的吏治不良，可惜，能力有限，還是被滿清平定。

請問：阿順仔如果身在滿清，應是哪一行政區？

(A) 彰化縣 (B) 台灣縣 (C) 高雄縣 (D) 鳳山縣。

5、有關清廷頒布的「渡臺禁令」，下列敘述何者符合史實？

(A) 除配偶外，規定禁止攜帶男眷 (B) 禁令執行常時寬時嚴，移民偷渡情形仍普遍 (C) 渡臺證照規定結婚者才能來臺 (D) 女子不需要申請渡臺證照，就可移民來臺。

6、有句臺灣諺語說：「無某（妻子）、無猴（兒子）、無厝（房子）。」這是描述清帝國早期臺灣社會中的人物，而這樣的人物常常是當時社會的隱憂，請問：這是指哪一種人？

(A) 原住民 (B) 羅漢腳 (C) 傳教士 (D) 出家人。

7、日本於同治年間以「懲辦兇手」為由入侵台灣。請問：兇手是指？

(A) 麻豆社 (B) 牡丹社 (C) 新港社 (D) 馬賽人。

8、台灣初納入清廷版圖時，是隸屬哪一省？

(A) 福建 (B) 廣東 (C) 江蘇 (D) 台灣。

9、鄭氏在臺期間，常與原住民發生衝突，與鄭氏發生衝突最為激烈的是？

(A) 麻豆社 (B) 大肚王 (C) 新港社 (D) 馬賽人。


10、十七世紀時，台灣的梅花鹿大量被獵殺，主要是因為鹿皮的外銷量多，主要銷售到哪一國家？

(A) 日本 (B) 英國 (C) 荷蘭 (D) 西班牙。

11、清朝初期對台灣的治理態度是，為防台而治台，從何時開始，清朝意識到台灣的重要性？

(A) 14 世紀後期 (B) 19 世紀後期 (C) 17 世紀初
(D) 18 世紀初。

12、附圖為《新約聖經》〈馬太福音〉，它是用羅馬字母拼寫原住民語言而成。請問：我們若想進一步了解此種文件的歷史背景，應該查閱何者統治臺灣時的資料？



(A) 荷蘭 (B) 葡萄牙 (C) 西班牙 (D) 英國。

13、清雍正 5 年間，如果新竹一帶發生暴動，應由哪裡的地方官府處理？

(A) 淡水廳 (B) 噶瑪蘭廳 (C) 鳳山縣 (D) 諸羅縣。

14、清朝在西元 1858 年後，台灣陸續開放四個通商口岸，請問：以下哪一個港口不在列？

(A) 雞籠 (B) 鹿港 (C) 安平 (D) 淡水。

15、劉銘傳於光緒年間來台，完成北部的鐵路建設。請問：劉銘傳完成哪一段鐵路？

(A) 基隆-蘇澳 (B) 基隆-新竹 (C) 台北-新竹
(D) 基隆-台北。

16、阿淇是晶晶國中的學生，下週是晶晶國中的兩天一夜校外教學，這次行程有提到二鯤鯓炮台、二沙灣砲台，阿淇已先行查閱資料但是漏掉二鯤鯓炮台的設置背景，請同學幫助阿淇查閱二鯤鯓炮臺的設置背景是因為哪一事件？

(A) 朱一貴事件 (B) 海盜事件 (C) 清法戰爭
(D) 牡丹社事件。

17、屏東縣外海的小琉球島上有一處著名的景點烏鬼洞，這裡傳說有矮黑人被燒死於此，但是，經過曹永和的研究顯示：1630-1640 年間，這裡本來是有原住民居住的，但是，□國因為其船民在島上遇害，於是從台灣派兵鎮壓，導致島上的原住民被屠殺甚至被迫遷移，從此島上沒有原住民居住。請問：□國，是指？

(A) 中國 (B) 荷蘭 (C) 日本 (D) 英國。

18、歐洲人東來貿易，在亞洲佔領據點貿易，但是除了貿易之外，還有另一目的傳教，請問：西班牙來到台灣北部傳播□□教？□□是指。

(A)天主教 (B)基督教 (C)回教 (D)佛教。

19、劉銘傳治臺時，曾經大力推行許多現代化建設。而當時住在臺北的居民，可能會有怎麼樣的生活經驗？

- (A)坐火車到新竹遊覽
(B)打電報給臺南的親友
(C)曾目睹西班牙人占領臺灣南部
(D)禁止進入原住民居住的地區

20、阿淇仔利用假日進行田野調查報告，下圖是阿淇仔拍攝於基隆地區的法國公墓，此公墓創建於光緒11年，大家幫阿淇仔查詢一下，這與哪一場戰爭有關？



- (A)日軍侵台 (B)英法聯軍 (C)清法戰爭
(D)鴉片戰爭。

21、赤崁樓前的記功碑，是乾隆年間，為了紀念福康安掃平某民變事件而建的，請問：這是指哪一次民變？

- (A)郭懷一事件 (B)朱一貴事件 (C)林爽文事件
(D)戴潮春事件。



22、林聰明是清雍正年間的漳州人，若他想要到臺灣開墾田地，依當時政府規定，他須具備何種條件？

- (A)在臺灣有親戚 (B)已婚且育有子女 (C)提出開墾計畫書
(D)需有渡臺證照。

23、臺灣開港通商後，英國在打狗港附近設立□，來負責通商、外交等事務。請問：□是指什麼機構？

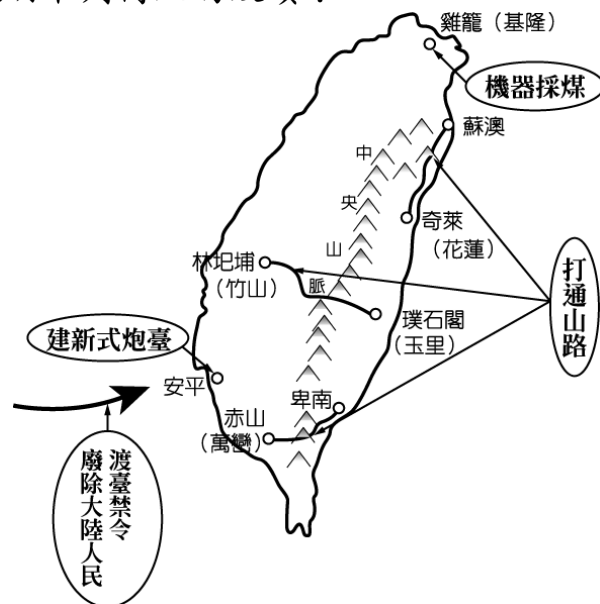
- (A)洋行 (B)領事館 (C)外交衙門 (D)洋務處。

24、阿義仔來臺灣時，隨著開墾隊伍來到噶瑪蘭廳，與來自漳州的朋友合作，甚至必須與原住民、泉州互相爭鬥，在不斷的互爭或合作，才能在此土地生活。請問：阿義仔可能是在哪一位皇帝在位時來台？

- (A)雍正 (B)康熙 (C)嘉慶 (D)乾隆。

25、附圖是阿淇在書上看到的一幅圖。這幅圖最可

能是說明下列何人的政績？



- (A)郭懷一 (B)施琅 (C)沈葆楨 (D)劉銘傳。

26、17世紀荷蘭傳教士喬治·甘治士是第一位來臺灣傳教的基督教牧師，他以自己在新港社的經驗，寫下《台灣略記》，書中描述當地的人民：「福爾摩沙人都很友善、忠實、善良。他們對外來人很好客，以十分的誠意按照他們的方式拿出食物與飲料。」請問：上述所描述的福爾摩沙人是指？

- (A)大肚王所統治的居民 (B)馬賽人 (C)西拉雅族人
(D)牡丹社人。

27、下表是清帝國不同時期對移民臺灣的政策，根據下表，請說明為何會有此變化？

時間	政策內容摘要
康熙年間，領有台灣初期	頒布「渡台禁令」，欲渡台者需要申請證照
光緒元年	來自唐山的居民，可以自由移民台灣，開墾土地

- (A)台灣開港 (B)日軍侵台 (C)清法戰爭
(D)英法聯軍。

28、比較朱一貴事件和林爽文事件，兩者有何共同的特色？ (A)均為漢人反抗清廷的民變 (B)目的均為反抗荷蘭的統治 (C)是因姓氏不同所發生的械鬥 (D)都是為了抵抗海盜的騷擾而起的民變。

29、光緒年間，臺灣已是當時清帝國最現代化的地區之一，這與當時劉銘傳等人在臺灣的積極建設，有密不可分的關係。請問：下列何者是劉銘傳在臺灣的建設？ (A)開闢聯絡東部的三條道路 (B)興建億載金城 (C)購買輪船，設立郵局 (D)廢除渡台禁令

30、阿順仔家族世居福建泉州，因為耕地不足生活越來越困難，有一天他看到朝廷張貼公告(如附圖)，打算申請渡海去臺灣打拼，希望能改善家人的生活。請問：下列何者不可能是他選擇打拼的地點？ (A)台灣縣 (B)諸羅縣 (C)彰化縣 (D)鳳

山縣。

公 告

欲渡臺者，先給原籍
地方照單，徑分巡臺廈
兵備道稽查，依臺灣海
防同知審閱批准，潛渡
者嚴懲。

康熙二十三年頒布

31、清帝國時期，英國人路易應聘到臺灣某地擔任教師。他寫信回家，信中提及「此地剛成立的電報學堂要徵求一位專家，郵政總局也剛剛成立，因此通信很方便；此外，在此生活並不寂寞，除了一些外國商人外，還有幾位鐵路專家，我們彼此都有往來。」請問：路易寫信的地點應是下列何者？

(A)臺中 (B)臺北 (C)高雄 (D)台南。

32、根據上題，當時台灣的電報線最南可以到達哪一個城市？

(A)臺南 (B)旗後 (C)打狗 (D)恆春。

33、清康熙皇帝時期，鄭氏降清，清廷內部曾經出現棄、留臺灣的爭議，最後主張保留臺灣的施琅提出哪一個重要的論點，讓康熙皇帝決定將臺灣納入清帝國版圖？

(A)台灣的土地經濟價值高 (B)臺灣戰略地位重要 (C)台灣的人民善良 (D)臺灣是一頭好乳牛。

34、光緒年間，清、法兩國開戰，波及台灣，使清廷更加重視臺灣，於是提升臺灣的行政層級，宣布臺灣建省。請問：下列何者為首任巡撫？

(A)劉銘傳 (B)沈葆楨 (C)顏思齊 (D)陳永華。

35、根據上題，下列何者不在清法戰爭波及的地方？

(A)宜蘭 (B)基隆 (C)澎湖 (D)淡水。

36、老師要請學生來講解在黑板上的地圖（如附圖），依圖中資料判斷，下列哪一位同學的說法正確？

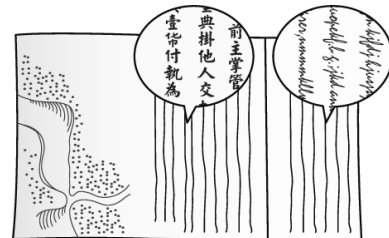


(A)寶珍：「此為劉銘傳治臺時期的地圖。」

(B)鳴傳：「這是牡丹社事件後，沈葆楨增設行政區域後的地圖。」 (C)嘉億：「澎湖首次設廳。」 (D)珠蘿：「嘉義設縣是因為英法聯軍之役的關係。」

二、整合題 每題 2 分 共 30 分

(一) 油土伯是清帝國時期來臺的漢人，他和當地原住民買賣土地，土地契約如附圖所示，他發現圖中右側原住民的文字不是漢字，而是像外國人一樣橫式書寫。請問：



37、與油土伯買賣土地的原住民，最可能居位在下列何處？ (A)臺東 (B)宜蘭 (C)澎湖 (D)臺南。

38、圖中原住民所書寫的文字，最早是由下列何者所教授的？ (A)荷蘭人 (B)日本人 (C)西班牙人 (D)葡萄牙人。

(二)請閱讀下列資料後回答問題：

資料一：

雖然臺灣周遭島嶼很多，但實際上掌握了沿海四省的要害之處。……臣認為放棄此地將釀成大禍，保留此地則能永遠固守邊疆。

資料二：

臺灣地區東部急需開墾，請解除舊禁，以完全消除敲詐、勒索等違法行為，並廣泛招攬有意願開墾的人民。

資料三：

想要渡海到臺灣的人，要先通知原戶籍地，並經過地方官員審查批准，如果是偷渡來臺的人將會受到嚴厲懲罰。

39、資料一中的「臣」為下列何人？

(A)施琅 (B)林爽文 (C)沈葆楨 (D)劉銘傳。

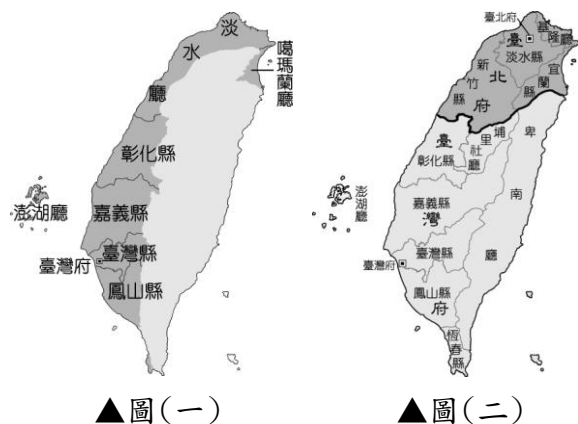
40、資料二中的「舊禁」所指為何？

(A)渡臺禁令 (B)劃界封山 (C)海禁政策 (D)棄留爭議。

41、資料二中的上奏者是因為何事來到臺灣？

(A)朱一貴事件 (B)牡丹社事件 (C)英法聯軍 (D)清法戰爭。

(三)圖(一)及圖(二)分別是臺灣在兩個不同時期的行政區域示意圖。請問：



▲圖(一)

▲圖(二)

事。」請問：

49、上述所指的「紅毛」，是指統治過臺灣的何者？ (A)荷蘭人 (B)日本人 (C)西班牙人 (D)葡萄牙人。

50、這個時期，帶領漢人從事大規模抗暴運動的為何人？ (A)顏思齊 (B)郭懷一 (C)沈有容 (D)鄭成功。

42、臺灣的行政區劃由圖(一)演變至圖(二)，是受到哪一事件衝擊的結果？

(A) 1857 年的英法聯軍之役 (B) 1874 年的日本侵臺 (C) 1884 年的清法戰爭 (D) 1894 年的甲午戰爭。

43、臺灣的行政區劃由圖(一)演變至圖(二)，顯示出臺灣歷史的哪一種發展？

(A) 漢人移墾的禁令已廢除 (B) 清帝國對台灣的治理顯得草率 (C) 劉銘傳因而來台督辦軍務 (D) 劃界封山更加嚴格。

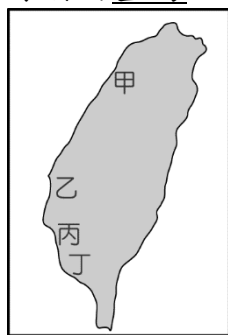
44、圖(一)中澎湖廳的設置在哪一事件之後？

(A) 朱一貴事件 (B) 林爽文事件 (C) 戴潮春事件 (D) 郭懷一事件

45、從圖(二)來看，哪一皇帝時完成這樣的行政區劃？

(A) 乾隆 (B) 康熙 (C) 同治 (D) 光緒

(四)附圖為清帝國時期的臺灣地圖。請問：



46、清帝國將台灣納入版圖時，設有一府，請問：於圖中何處？

(A) 甲 (B) 乙 (C) 丙 (D) 丁。

47、圖中甲區在何時改設為淡水廳？

(A) 清康熙年間 (B) 清嘉慶年間 (C) 清雍正年間 (D) 清光緒年間。

48、圖中乙區在乾隆晚期改稱為何者？ (A) 打狗縣 (B) 嘉義縣 (C) 彰化縣 (D) 諸羅縣。

(四)「在臺灣的某個時期，臺灣南部一位頗負聲望的社會領袖，向漢民眾說道：『臺灣以前是個蠻荒之島，幸好有我們漢人的農業開墾。如今紅毛喧賓奪主，據地為有並且橫徵暴斂，逼我們走上絕路，與其束手待斃，不如奮起一戰。』於是議決起