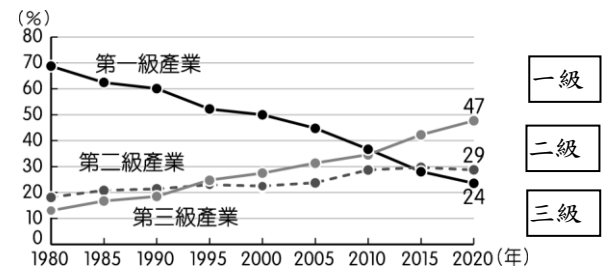


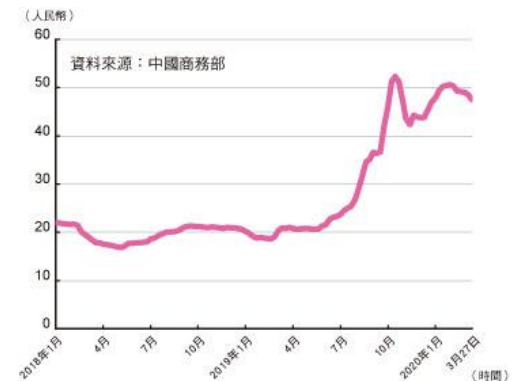
題組題(每小題2分，共50題)

一、中國自 1980 年代開始實施經濟上的改革開放，改變了中國的經濟面貌。圖 1 為中國三級產業就業人口比例變化圖，請問：



▲圖 1

- () 1. 根據圖1，以下敘述何者正確？ (A)農業人口減少 (B)工業人口最多 (C)服務業落後 (D)畜牧業發達。
- () 2. 承第1題，上述問題可以用下列何種方法因應？ (A)環保化 (B)生態化 (C)機械化 (D)都市化。
- () 3. 隨著經濟發展，農業面臨不同挑戰，中國為了確保糧食與肉類供應無虞，大量收購囤積全球穀物，此行為與下列哪項因素最不相關？ (A)農業用水遭排擠 (B)耕地轉做他用 (C)農村人口幼齡化 (D)農業環境生態惡化。
- () 4. 隨著經濟的發展，中國對畜牧業的需求量與日俱增。然而 2017 年及 2019 年中國境內出現大規模的禽流感及非洲豬瘟等問題，與下列何種養殖方式的關係最大？ (A)多樣化 (B)集約化 (C)環保化 (D)都市化。
- () 5. 承第4題，非洲豬瘟疫情影響，中國豬肉價格呈現如圖2的趨勢。關於圖2，下列敘述何者正確？ (甲)中國豬肉價格上漲兩倍多 (乙)此價格趨勢體現國外大量進口中國豬肉 (丙)養殖業屬於工業的一種 (丁)此價格趨勢會導致其他豬肉產品價格上漲 (A)甲乙 (B)乙丙 (C)丙丁 (D)甲丁



▲圖 2

二、中國的一線城市「北上廣深（北京、上海、廣東、深圳）」(圖 3)恐重新洗牌，2020 年前半年

GDP 重慶一度反超廣州，雖然廣州最後險勝，但已經可以窺見重慶未來躋升前四名成為「北上重深」的可能，如今中國 GDP 達兆元的城市已經有 24 個。



▲圖 3

- () 6. 上述文中所述的城市多位於下列四大經濟區中的何者？ (A)東部經濟區 (B)西部經濟區 (C)中部經濟區 (D)東北經濟區。
- () 7. 下列哪一個都市是中國的政治中心，有大量頂尖大學，近年朝向資訊科技業發展？ (A)北京 (B)上海 (C)廣東 (D)深圳
- () 8. 上海快速發展成中國重要的金融中心，這和當地的哪一個優越條件關係最大？ (A)原料 (B)交通 (C)動力 (D)勞工。
- () 9. 重慶的崛起代表中國近年的發展政策有所成，開發內陸重點都市，其主要是為了解決何種問題？ (A)減緩人口老化 (B)降低環境汙染 (C)平衡區域發展 (D)改善邊境衝突

三、中國的經濟發展由改革開放政策揭開序幕，然而由於各地發展的時間及條件各異，形成不同的發展差異。圖 4 為該國主要四大經濟區分布。請問：

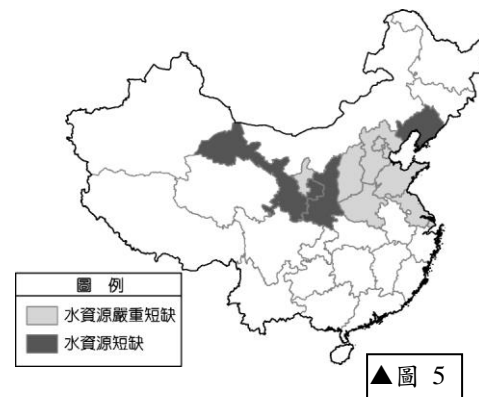


▲圖 4

- () 10. 圖4中哪一個區域工業發展較早，但卻隨著時間的變化而由盛轉衰，因此目前的發展方向為協助該地區轉型，以振興當地的工業活動為主？ (A)甲 (B)乙 (C)丙 (D)丁。
- () 11. 圖4中哪一個地區坐擁豐富資源，但因對外交通不便，經濟發展腳步較緩慢？ (A)甲 (B)乙 (C)丙 (D)丁。
- () 12. 圖4中丙地區近年來具備下列何者有利條件，因此吸引東部的工廠遷移至此，成為未來發展潛力最被看好的地區，有利當地的經濟崛起？ (A)工資較低 (B)市場廣大 (C)人口稠密 (D)技術進步
- () 13. 此四大經濟區中，東北地區適合重工業的發展，這是受到哪一項工業區位條件的影響？ (A)交通 (B)勞工 (C)政策 (D)原料。
- () 14. 目前中國正積極全面性的發展經濟，希望帶動各地工商業活動。為達成相關產業的全面發展及擴散，減少區域差異，則以下列何者措施最為重要？ (A)興建交通運輸 (B)引進國際移工 (C)農業強制轉為工商業 (D)推廣農民移居大城市。

四、圖 5 是中國水資源短缺省市圖，回答下列問題。

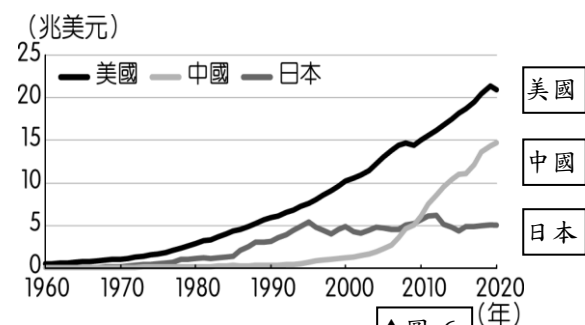
- () 15. 中國水資源短缺的問題主要以哪一區域較嚴重？ (A) 北部 (B) 南部 (C) 西部 (D) 中部。
- () 16. 中國水資源短缺受哪一自然因素影響最大？ (A) 地形 (B) 氣候 (C) 土壤 (D) 生物。
- () 17. 中國水資源短缺較不受哪一人文因素影響？ (A) 人口 (B) 農業 (C) 交通 (D) 工業。



▲圖 5

五、圖 6 是 1960 年～2020 年美國、中國及日本 GDP 變化圖，回答下列問題。

- () 18. 哪一年，中國已超越日本，成為世界第二大經濟體，並成為全世界最大的消費市場？ (A) 1970 年 (B) 1980 年 (C) 2000 年 (D) 2010 年。
- () 19. 中國 GDP 總額極高，位居世界第 2 位，但每人平均 GDP 卻遠低於世界各國。此現象和中國哪一個環境特色最為相關？



▲圖 6

- (A) 平原狹小 (B) 人口眾多 (C) 政治型態 (D) 沙漠廣大。
- () 20. 近年來，中國人民收入增加，促進了消費能力，一躍成為「世界市場」，與下列哪一現象有關？ (A) 一胎化 (B) 一帶一路 (C) 改革開放，經濟成長 (D) 西部大開發。

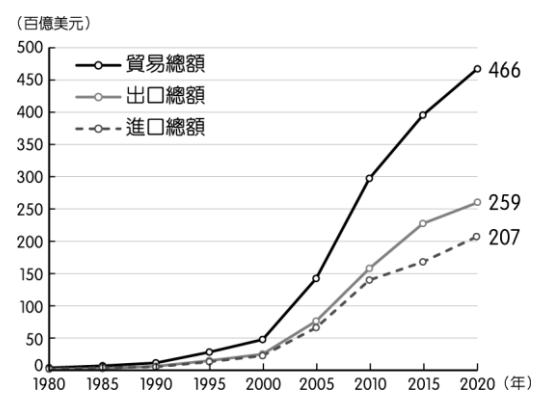
六、中國在工業化的發展過程中，初期主要是以重工業為主，服務業後來居上，形成產業結構的改變趨勢。東部地區第三級產業的增長速度最快，在許多城市已超過工業。

中國在工業發展的條件中，2012 年勞動年齡人口（15～64 歲）有 9.37 億，即使一胎化後勞動年齡人口比重逐漸下降，但其總量仍相當驚人，成為經濟發展的推力。然而傳統產業正面臨嚴重危機，如紡織工業產值增加幅度為－6.2%；紡織出口額更是快速下滑 10.9%；如何發展新產業並扶持傳統產業成為相關單位進入 21 世紀後的挑戰。

- () 21. 文中中國的產業結構正面臨變遷，目前主要都市都以何種產業的生產值所占的比重最高？ (A) 農業 (B) 輕工業 (C) 服務業 (D) 重工業。
- () 22. 文中中國工業發展的過程中，因為具備下列何項有利條件，因此容易吸引外資投資，而有著「世界工廠」的美稱？ (A) 生產技術先進 (B) 交通便利 (C) 勞動人口總數多 (D) 產品附加價值高。
- () 23. 文中的產業活動中，以紡織工業衰退最為嚴重，造成中國紡織產業漸沒落的原因為下列何者？ (A) 暖化棉花減產 (B) 環境保育觀念 (C) 勞工薪資提高 (D) 專業化的生產。

七、圖 7 為中國的進出口貿易總額統計圖，中國在經濟改革開放後，逐漸成為世界主要生產基地後，進而帶動全國的經濟發展，30 年後中國成為各國兵家必爭之地的「世界市場」，貿易總額逐年攀升。請問：

- () 24. 圖 7 中，中國從 1980 年開始，成為世界主要生產基地，出口總額因而大幅增加。請問：當時中國經濟發展的有利條件中不包含下列何者？ (A) 設立經濟特區 (B) 國內資金多 (C) 天然資源豐富 (D) 廉價的勞工。
- () 25. 若依圖 7 中的貿易數據變化加以判斷，中國經濟改革開放後主要的貿易狀況為何？ (A) 進口大於出口 (B) 出口大於進口 (C) 財富減少 (D) 債務增加

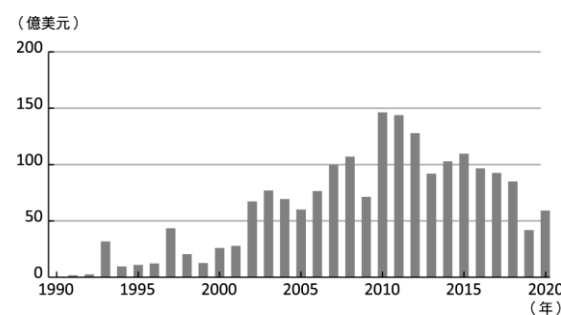


▲圖 7

八、圖 8 是歷年臺商對中國投資金額統計圖，臺灣雖然在 1950～80 年代與中國經歷長時間的軍事對立，但隨著兩岸局勢和緩，自 1990 年代起，我國開始准許人民赴中國投資，投資金額也在 2008 年後屢次突破百億美元，然而近年出現不同的發展趨勢。請參考圖 8 回答問題：

- () 26. 初期台商投資設廠，考慮中國當時的優勢，最可能投資的考量因素為何？ (A) 資金 (B) 技術 (C) 勞工 (D) 市場。
- () 27. 台商初期時多將工廠設置於中國東南沿海，可能與中國實施經濟改革開放政策，在東南沿海設立下列哪一種特區有關？ (A) 自治區 (B) 經濟特區 (C) 亞太經濟合作區 (D) 特別行政區。
- () 28. 承第 27 題，當時台商最有可能將工廠設在下列哪一個城市，以便就近往返臺灣與家人團聚？ (A) 廈門 (B) 喀什 (C) 深圳 (D) 珠海。

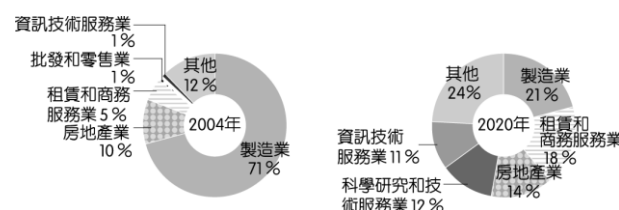
- ()29. 根據圖8，可以推斷出 2010 年以後，臺商對中國的投資呈現哪種發展趨勢？(A)下降趨勢 (B)上升趨勢 (C)維持穩定 (D)投資一直偏少
- ()30. 承第29題，該現象主要受到哪一因素影響？(A)礦藏資源枯竭 (B)基本工資上漲 (C)服務業興起 (D)代工廠技術不良。
- ()31. 承第30題，為因應此發展趨勢，臺灣對中國大陸投資的項目出現何種轉變特色？(A)勞力密集產業轉向原料密集產業 (B)資金密集產業轉向技術密集產業 (C)勞力密集產業轉型技術密集產業 (D)技術密集產業轉向資金密集產業



▲圖 8

九、圖 9 是 2004、2020 年外國對中國投資行業比例圖，回答下列問題

- ()32. 請找出 2004 年外國最主要投資哪一個行業？(A)製造業 (B)房地產業 (C)資訊技術服務業 (D)租賃和商務服務業。
- ()33. 與2004年相比，2020 年外國投資哪一種產業增加比例最高？(A)製造業 (B)房地產業 (C)資訊技術服務業 (D)租賃和商務服務業。
- ()34. 由圖9可知，外資對中國投資的類別從2004到2020 年產生了很大的轉變，究其原因跟以下何者無關？(A)中國經濟起飛 (B)人民所得增加 (C)內需市場成長 (D)自然資源豐富
- ()35. 從外資2020年對中國的投資類別來看，可以反映出外資看中中國龐大的消費潛力，請問，中國由「世界工廠」轉變成「世界市場」的原因？(A)面積廣大 (B)現金交易 (C)人民所得增加 (D)一胎化政策。
- ()36. 承第35題，中國龐大的消費能力，使阿里巴巴、淘寶等網路購物平臺在中國蓬勃發展，這是何種交易活動的興起？(A)批發 (B)零售 (C)量販店 (D)電子商務。



▲圖 9

十、中國的吉利汽車於 2010 年，收購有「瑞典國寶」之稱的富豪汽車 (Volvo)。而中國家電大廠美的集團，也在 2016 年買下德國工業機器人巨擘庫卡 (KUKA)，震驚德國各界。

中國企業擁有龐大的財力，並以此併購各國具有指標性、高技術性的公司，這些行為反映出中國企圖以「買」來提升自身技術、擴大市場。然而，跨國併購也提高中國對其他國家的政治影響力，使各國更加留心經濟活動背後的潛在影響。

- ()37. 以中國的吉利汽車為例，其企業收購有「瑞典國寶」之稱的富豪汽車，可以提升本國企業的哪些區位要素呢？(甲)勞力成本 (乙)研發技術 (丙)消費市場 (丁)原料成本。(A)甲乙 (B)乙丙 (C)丙丁 (D)甲丁。
- ()38. 文中的外國企業接受併購，除因企業急需資金維持運營外，也與看好中國某些優勢有關。請問：中國具有何種優勢？(甲)勞工素質 (乙)研發技術 (丙)市場規模 (丁)消費能力。(A)甲乙 (B)乙丙 (C)丙丁 (D)甲丁
- ()39. 美的集團收購庫卡後，除了可以擴大集團規模，也希望藉助庫卡的資源，提升本身自動化效能，以因應國內逐年上調的「甲」壓力。請問：「甲」可能為下列何者？(A)原料成本 (B)動力成本 (C)勞工成本 (D)環保成本
- ()40. 承第39題，在因應「甲」壓力下，未來哪一種企業較不會被納入中國併購的名單中？(A)愛德華成衣工廠 (B)湯姆生電動汽車 (C)捷速個人電腦公司 (D)湛藍高精密光學鏡頭。

十一、中國 2013 年提出一帶一路政策，陸路通往歐洲，海路則串連東南亞經非洲到達歐洲，期望能與沿線國家增進交通、能源、貨物、人員的交流，增強彼此經濟活動的規模。請回答下列問題：

- ()41. 閱讀上文可知，中國提出「一帶一路」政策的主要目的為何？(A)串聯五大洲進行貿易 (B)強化各國資源的流通 (C)加強與紐澳的區域合作 (D)促進中國東北地區的發展。
- ()42. 「一帶」是希望借用古代「絲綢之路」的概念，發展與周邊國家的經濟合作關係。試問：下列何者為「一帶」會經過的行政區？(A)新疆維吾爾自治區 (B)西藏自治區 (C)黑龍江省 (D)福建省。
- ()43. 「一路」是「海上絲路」，自中國東南沿海出發，往南經過南海再往西通過蘇伊士運河直達歐洲。請問：海上絲路中會經過下列哪兩片海域？(A)太平洋、印度洋 (B)北極海、太平洋 (C)大西洋、印度洋 (D)太平洋、大西洋。
- ()44. 一帶一路對中國可能產生以下哪些影響？甲、勞工薪資下降 乙、連接鄰國交通 丙、能源取得更便利 丁、增加國際影響力 (A)甲乙丙 (B)甲丙丁 (C)甲乙丁 (D)乙丙丁

十二、中國從 2000 年初開始積極引導國內的剩餘資金向外投資，並於 2013 年提出一帶一路政策，期望藉由陸路及海路兩線，參與沿線國家的基礎建設，以取得穩定能源供給，消化國內過剩工業產能，同時擴大貿易市場。

起初相當順利，然而受到全球疫情肆虐，中國經濟成長放緩，於此同時，部分參與一帶一路的國家，原本就經濟落後，而過高的開發金額，加上疫情影響經濟，瀕臨破產邊緣，只好租或出售產權予中國還債，例：希臘將皮雷夫斯港過半所有權售給中國、斯里蘭卡將漢班托塔租給中國 99 年，這都引起當地人民的反彈。

面對一帶一路在開發中與已開發國家已開始受阻，因此，中國轉而前往東協，並於 2022 年 1 月加入「區域全面經濟夥伴協定」，期待透過技術合作、貿易關稅減免、降低市場進入門檻，建立廣大的自由貿易區，並為一帶一路找新出路。

- ()45. 由文可知，中國當時提出一帶一路政策，可以解決國內面臨的何項困境？(A)過低的工資 (B)豐富的資源 (C)過剩的產能 (D)萎縮的農業。
- ()46. 根據文意，中國以何方式來解決國內困境，增強國家經濟發展？(A)放寬一胎化 (B)提高工資 (C)奪取礦權 (D)參與各國基礎建設
- ()47. 一帶一路計畫的參與國家普遍經濟發展程度不高，這些國家希望藉由引入中國資金促進國內經濟發展，但卻也面臨到許多變數與問題，其中不包括以下哪一項？(A)參與國面臨龐大債務負擔 (B)中國左右參與國政治與經濟發展 (C)參與國與中國發生利益糾紛 (D)參與國引進大量國際移工。
- ()48. 下列何者代表「區域全面經濟夥伴協定」？(A)EU (B)WTO (C) RCEP (D)CPTPP
- ()49. 下列哪些為加入自由貿易組織可能帶來的效益？甲、進口貨物售價降低 乙、促進各國人員疏通 丙、改善各國經濟發展 丁、保護國內弱勢產業 (A)甲乙丙 (B)甲丙丁 (C)甲乙丁 (D)乙丙丁
- ()50. 承第49題，中國前往會員國投資以獲取加入此協定的效益，下列何國「不是」其考慮對象？(A)日本 (B)韓國 (C)美國 (D)紐西蘭