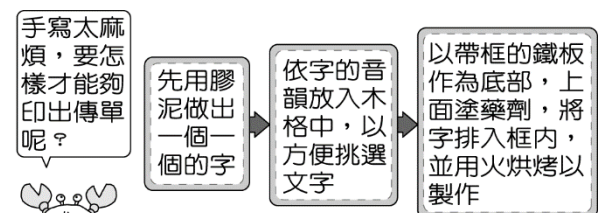
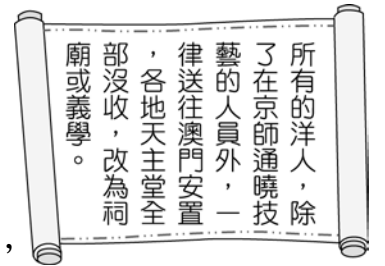
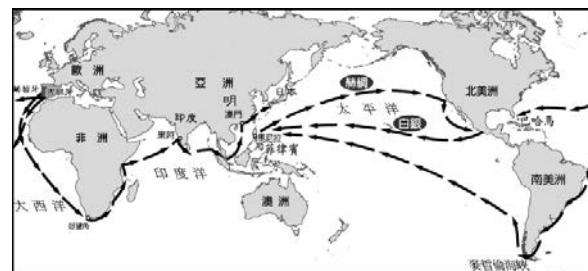


一、單一選擇題：（每題2分）

- 永漢和朋友聊到現在的生活情況，很無奈地抱怨說：「那些政府官員都被鞭子把持，財政都是那些眼睛奇怪顏色的外國人，我們這些生在珠江流域的漢人簡直比豬狗還不如。」請問：永漢生活的時代大約是何時？(A)聯金滅遼後(B)燕雲十六州成為遼國領土後(C)忽必烈滅南宋後(D)聯蒙古滅金後。
- 右圖是中國歷史上某一史事的相關內容，請根據內容判斷，該史事最可能是下列何者？(A)明代提倡佛教(B)清代下令禁教(C)元代實施種族政策(D)漢代設立太學。
- 小揚在《中國歷史故事》看到一則「陳橋兵變」的故事如下：「西元 960 年，北漢與遼國軍隊聯合南下入侵後周，後周某禁軍統帥□□□率兵北上抵禦。傍晚時行軍至陳橋驛(今開封東北)眾將領與士兵以黃袍加在□□□身上，擁立他為皇帝。之後□□□率兵回京，逼後周皇帝讓位，改國號為宋。根據史實判斷，「陳橋兵變」的典故，出自於何人篡奪政權成功？(A)忽必烈(B)鐵木真(C)趙匡胤(D)朱元璋。
- 「在□此人統一蒙古各部落之前，蒙古草原上諸部並立，各部落間征戰不休，一直到□此人才統一各部落；之後，此人和其繼任者對外展開多次軍事行動，橫掃歐亞大陸。」請根據史實分析，關於上述資料的說明，何者正確？(A)□此人為鐵木真，建立元朝，被稱為「成吉思汗」(B)「展開多次軍事行動」最遠曾達北歐(C)滅南宋後，完成中國的統一，定都於大興城(D)蒙古是第一個統治整個中國的草原民族。
- 下列關於宋代的思想變革的敘述，何者最為恰當？(A)儒學再度興盛，佛家思想因此沒落(B)思想上的變革，儒、佛思想逐漸融合(C)由於佛教思想盛行，逐漸取代了傳統的儒家思想(D)由於佛教思想盛行，儒家呈現衰微不振的現象。
- 「女真，古代西北游牧民族，早期名稱眾多。遼國強盛時，女真有生、熟兩部，以是否編入戶籍為大略區別。生女真在北宋初年，完顏阿骨打統一生女真故部，叛遼建金國；之後滅遼，屢屢南侵，發動靖難之變虜走欽、徽二帝，北宋滅亡。面對金國南侵勢烈，南宋與之簽訂「紹興和議」，之後與後來崛起的契丹聯手，覆滅金國。至明初分化為建州女真、海西女真、野人女真三部，後又因為地域而更為分化，建州女真在努爾哈赤的帶領下，再度崛起建國。西元 1636 年皇太極稱帝，建號大清，並改族名為滿洲。」請問以上資料，以方框圈選之處，錯誤的有幾個？(A)2(B)3(C)4(D)5。
- 小珍在歷史博物館展櫃中看到「活字印刷術」的介紹（如右圖），請問：這項技術傳入歐洲與何者最相關？(A)蒙古西征(B)怛羅斯之役(C)阿拉伯商人(D)西方傳教士。
- 阿旺閱讀「中國歷代皇帝列傳」，其中有一段提到：「此皇帝出身民間，是中國第二位平民皇帝。他擊敗群雄，並將蒙古勢力趕出長城以北，與蒙古形成長期對峙的局面。」請問：阿旺所讀到的是哪一位皇帝的傳記？(A)秦始皇(B)漢高祖(C)宋太祖(D)明太祖。
- 「怒髮衝冠，憑欄處、瀟瀟雨歇。抬望眼，仰天長嘯，壯懷激烈。三十功名塵與土，八千里路雲和月。莫等閒、白了少年頭，空悲切。靖康恥，猶未雪。臣子恨，何時滅！駕長車，踏破賀蘭山缺。壯志飢餐胡虜肉，笑談渴飲匈奴血。待從頭、收拾舊山河，朝天闕。」上述這首《滿江紅》是岳飛留下的詞。請問：在岳飛去世前，朝廷對於詞中所提及的敵人所採取的策略是下列何者？(A)簽訂和平條約，維持一百多年的和平(B)聯合其他游牧民族，以對抗該部族(C)皇室南遷，形成雙方對峙的局面(D)朝野凝聚共識，傾全國之力與之對抗。
- 《吃一場有趣的宋朝飯局》一書的作者在該書一開始就建議讀者，想穿越的人最好穿越到宋代，不但食物比較好吃，娛樂也比以前多很多。請問：下列何者不可能該書描寫的內容？(A)在人口聚集的住宅區開店，清晨就開業，直到深夜才打烊(B)到街上看說書人說書(C)筵席上會出現占城品種的白米飯(D)麻布仍是一般庶民服飾穿著唯一選擇。
- 大軒和家人利用暑假期間，到中國旅行，順便參觀歷史課本上所提及的古蹟，實踐「讀萬卷書，不如行萬里路」之說。他們來到「天下第一關」山海關，領隊先生介紹明代有位將領曾經「衝冠一怒為紅顏」，開山海關引清兵入關。請問：此將領為下列何者？(A)李自成(B)施琅(C)吳三桂(D)鄭芝龍。



12. 對於「朝貢貿易」的解釋，下列何者正確？(A)政策的實施促進了明清時期東亞貿易更蓬勃發展(B)明代與清初時，民間的海外貿易幾乎停頓，只剩下藩屬鄰邦對中國的進貢(C)這種政策的目的是為了對付蒙古(D)外國必須接受中國的冊封，才能藉進貢的名義與中國進行貿易。
13. 市舶司始設於唐，負責管理商船、檢查入港的貨物，以及徵稅等事宜，其功能類似今日的海關。請問，宋代在何處設置市舶司？(A)汴京、廣州(B)廣州、泉州(C)大都、泉州(D)汴京、上海。
14. 理學之所以能在元代之後繼續流傳，是因為元代政府實施了下列哪一項政策的助益？(A)推崇以經學傳家的世家大族(B)以《四書集注》作為科舉考試的標準(C)積極展開漢化運動(D)實行公平公正的科舉制度。
15. 右圖為某博物館舉辦展覽的宣傳海報，展覽主題是慶祝該歷史事件 600 周年。展覽手冊中的介紹，提到了以下內容：(1)爪哇有「三寶瓏」、「三寶洞」的地名(2)南海海底發現不少中國瓷器的碎片(3)今非洲東岸肯亞地區的部落，發現可能有中國人的後裔。請問：從以上的資料，我們可推論此展覽主題的歷史人物為下列何人？(A)鄭和(B)魏忠賢(C)李自成(D)吳三桂。
16. 明朝有同鄉組成的商幫，清帝國時期的臺灣有郊商，為何會發展出類似的商業組織？(A)結盟進行國際貿易(B)出售相同商品(C)彼此能削價競爭(D)避免同業惡性競爭。
17. 宋代國勢積弱不振，對邊疆民族的侵擾通常以「歲幣」來換取屈辱的和平，首開此種惡例的是哪一位帝王？(A)宋真宗(B)宋神宗(C)宋高宗(D)宋太祖。
18. 13 世紀義大利某教堂的神父告訴信徒，虔誠向上帝禱告並懺悔，便可躲過帶著火炮（火藥），來自東方的「黃禍」。下列哪一項是神父所指的「黃禍」？(A)張騫出使西域(B)怛羅斯之役(C)鄭和出使西洋(D)蒙古西征。
19. 「天下窯器（瓷器）所集，其民繁富，甲於一省。……萬杵之聲殷地，火光燭天，夜令人不能寢」故有『四時雷電鎮』之稱」。請問：有關上述資料時代背景的解釋，何者正確？(A)宋元時期手工業分工日益細密，專業市鎮紛紛興起(B)當時因商業蓬勃發展，形成地域性的商人集團，以山東商人與徽州商人最著名(C)有許多歐洲商人以產於美洲的白銀來購買中國的絲綢、瓷器(D)因海禁政策之故，只有官方主導的貿易，完全看不到民間的海上貿易活動。
20. 隨著大航海時代來臨，西方傳教士也積極到東亞尋求傳教的機會，其中以利瑪竇的影響最大。關於利瑪竇在中國的作為，下列何者敘述錯誤？(A)為長老教會的傳教士(B)允許祭祖、祭孔(C)穿戴儒生服飾(D)繪製《坤輿萬國全圖》。
21. 明代曾經實施「海禁」政策，其目的為何？(A)防禦蒙古(B)防禦女真(C)防禦倭寇(D)打擊鄭氏。
22. 阿榮在《中國歷史地圖集》中看到一幅地圖（右圖），請問：圖中的路線代表什麼意義？(A)阿拉伯人的貿易路線(B)鄭和出使西洋的路線(C)蒙古西征路線(D)西班牙、葡萄牙人的新航路。
23. 書明是個虔誠的穆斯林，他對於伊斯蘭教在宋元時期的發展充滿好奇，請幫書明判斷，下列哪些資料有誤？(A)宋代的天文學家依據伊斯蘭曆法，重新制定中國曆法(B)宋代因穆斯林商人東來貿易者眾多，伊斯蘭教也隨之廣泛流傳(C)元代時，中國的穆斯林統稱為回回(D)中國現存最早具有阿拉伯建築風格的清真寺是位於泉州的清淨寺。
24. 中國有一句俗諺：「好男不當兵，好鐵不打釘。」從歷史發展而言，這句話可能源自於哪一個朝代的政策所使然？(A)元朝：漢人民族意識強烈，不願與異族政權合作(B)宋朝：偏重文人政治、優禮士大夫，一般家庭多不願子弟從軍(C)唐朝：社會經濟繁榮，一般寧可棄文武而從商賈(D)魏晉南北朝：世族子弟皆養尊處優，軍士多由寒門充任。
25. 宋代隨著社會經濟的恢復，農業和手工業逐漸發展，尤其是因為下列何者的發生，使糧食得以充足，出現了「蘇常熟，天下足」的說法？(A)自美洲傳入新作物(B)國家經濟重心此時才開始移至南方(C)占城早熟稻的引進(D)棉花種植漸廣。
26. 明清時期隨著商業的繁盛，商人逐漸形成地域性的商幫組織，商業經營方式亦漸趨專業化。請問：當時以何地的商人所組成的商幫組織最著名？(A)山西(B)山東(C)廣東(D)湖南。
27. 17 世紀時西方商人來東亞地區貿易，他們買走了南洋群島的香料和中國的生絲、瓷器，同時，一種貴重金屬則湧入中國，對中國貨幣經濟造成了重大的影響。請問：下列敘述何者有誤？(A)此貴重金屬為黃金(B)此貴重金屬來自美洲(C)此貴重金屬取代了紙幣，形成了與銅錢並用的制度(D)此貴重金屬為白銀。



28. 右圖為元世祖《出獵圖》的一部分，圖中身穿白衣者的男女為元世祖和他的皇后，身邊的侍衛膚色深淺不一，代表元代種族多元的情況。請問：元代為了有效率管理人民而實行的政策，下列敘述何者正確？
(A)蒙古人和其他人的地位並無分別(B)綠眼珠的中亞人掌管政府財政
(C)在黃河流域的契丹人被分派到重要的政府職位(D)在長江流域的漢人透過科舉成為政府高官。



29. 西方傳教士來到中國，為求傳教順利，經常與中國士大夫結為好友，向中國士大夫介紹西洋的天文、曆法、數學、地理學等。請問：以下何者最能代表西方傳教士和中國士大夫的合作？(A)《四書集注》(B)《回回藥方》(C)《清明上河圖》(D)《幾何原本》。
30. 承上題，上述與西方傳教士合作的中國士大夫是哪一位？(A)周敦頤(B)張擇端(C)朱熹(D)徐光啟。
31. 小欣在博物館看到《清明上河圖》，畫中有繁華熱鬧的街景，街上有正店（酒樓）、聽說書、客棧、當舖、行腳僧、官差出巡等。請問：上述畫作所描繪的應該何時？哪一城市？(A)唐代、長安(B)北宋、汴京(C)南宋、臨安(D)清代、北京。
32. 楊振寧是美籍華裔的第一位諾貝爾獎得主（物理學），他曾來臺演講，指出：「西元 1600 年到 1900 年，中國抗拒引入西方科學。」、「西元 1607 年《幾何原本》在中國只譯出前六卷，到西元 1857 年才譯出後九卷，前後相隔 250 年之間，歐洲不但誕生了近代科學，也徹底改變了生產方式。」請問：造成中國與西方的文化交流中斷，是因哪位皇帝驅逐傳教士離華所造成？(A)清康熙皇帝(B)清雍正皇帝(C)清乾隆皇帝(D)明永樂皇帝。
33. 承上題，這位皇帝為何下令驅逐傳教士？(A)因傳教士涉及宮廷政爭(B)因傳教士不願跪拜皇帝(C)因傳教士大量介紹西方學術威脅中國傳統文化(D)因傳教士竊取製作絲綢的技術。
34. 阿輝是明代的船工，受雇於國際貿易船隊。請問：下列何者不是他的生活中會發生或聽聞之事？
(A)玉米、番薯等作物經由絲路傳入中國(B)從中國出口的商品以瓷器、絲綢為主(C)他的老闆和外國商人貿易都使用白銀貨幣(D)當時的中國已出現許多專業市鎮。
35. 右圖為某一朝代發行的寶鈔，雖然具備攜帶方便的特性，但當時的政府並沒有通貨膨脹的概念，因此濫印紙鈔，最後導致嚴重的通膨，進而使人民心生不滿，加速國家覆滅。這個朝代為何？(A)南宋(B)北宋(C)元(D)唐。
36. 15 世紀(甲)歐洲人發現通往亞洲的新航路，(乙)他們帶著美洲發現的白銀，透過亞洲殖民據點的轉運，(丙)大量購買中國的獸皮、香料等物品，白銀也因此大量輸入中國，(丁)形成銀銅雙本位制度。請問：上述畫線部分何者錯誤？(A)丁(B)丙(C)乙(D)甲。



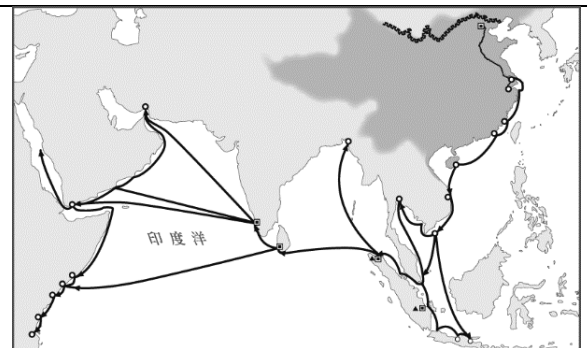
滿清以少數民族的身分入主中原，為了以少數人統治多數人，制訂許多手段來統治臣民。請根據下列資料回答 37~38 題：

資料一：1726 年雍正年間發生「查嗣庭試題案」。禮部侍郎查嗣庭到江南某省主持科考，試題中先有「正」，後有「止」字，後又有人查出查嗣庭的文集《維止錄》，有許多「狂妄悖逆」之語，有人說標題「維止」，是「雍正」兩字，少掉上端，意思是要斬首雍正皇帝，雍正大怒，令嗣庭斬首，後嗣庭病死獄中。

資料二：康熙 17 年。編修巨集，用以網羅人才，尊崇儒學，一面推動尊君之心。並續辦科舉，安定士人民心。

37. 資料一指的是哪一種手段？(A)薙髮留辮(B)舉行科舉(C)禮遇遺臣(D)摘取文字羅織罪名。
38. 清朝統治採取的手段除了文中所述以外，還包括下列何者？(A)以宗教手段籠絡漢民族(B)設立海禁防範倭寇(C)薙髮留辮(D)收復臺灣。

右圖為中國史上規模最大的出使團路線，根據記載，出使團船隻滿載要給各國的禮物，也裝備武器，如遇到抵抗則攻擊。請回答 39~40 題：



39. 這支出使團是由哪一皇帝所派遣？(A)明太祖(B)明成祖(C)清世祖(D)清聖祖。
40. 這支出使團獲得的真正實質成就為下列何者？(A)明帝國與歐洲國家建立外交關係(B)倭寇遭到打擊(C)藩屬國家數量大減(D)沿海居民紛紛移至東南亞發展。

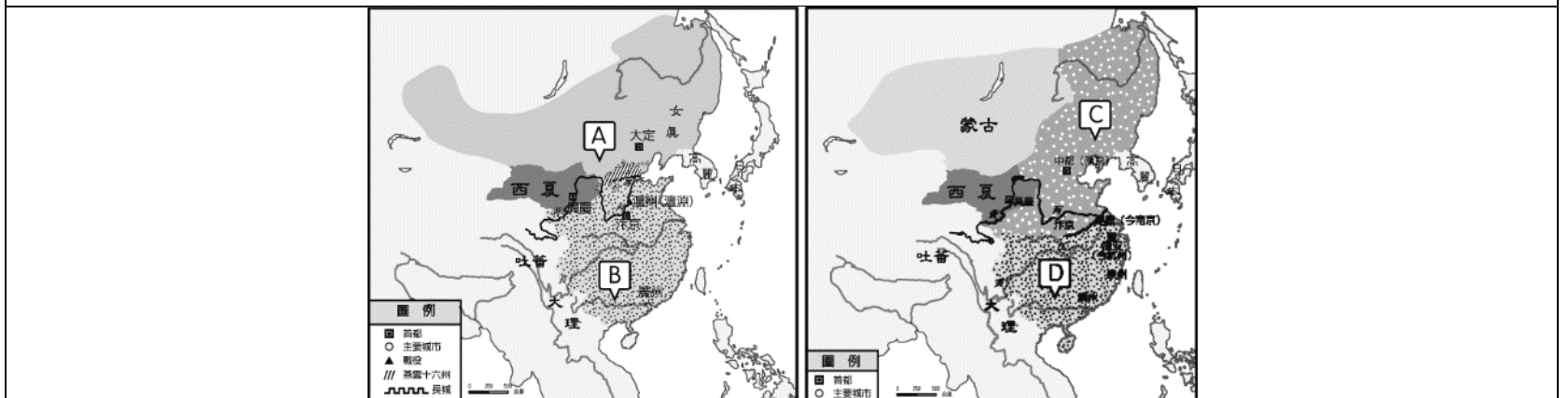
1633~1854 日本實施鎖國，由於當時□□在出島有常駐醫生，一些日本政府高官往往在當地缺乏醫生時，向出島常駐醫生求助。有時候日本醫生無法解決的疾病，也會尋求出島上的醫生一起思考有無解決之道。請回答 41~43 題：

41. 請問，當時日本下令鎖國的原因是下列何者？(A)沿海倭寇猖獗，嚴重影響國防(B)天主教傳至日本，與當地文化產生衝突，引起社會不安(C)為反制中國在貿易上的壓迫(D)歐美各國以武力侵略。
42. 文中□□應該是何國？(A)西班牙(B)荷蘭(C)美國(D)英國。
43. 出島應該靠近日本的哪座城市？(A)長崎(B)京都(C)廣島(D)大阪。

一千多年前，一個游牧部落在中國東北方建國，是為「甲國」。「甲國」人完顏阿達里是一個有理想、有抱負的有為青年，他打算過了這個冬季之後，前往南方的邊境以獲取「乙國」的稻米、棉布、瓷器等用品。

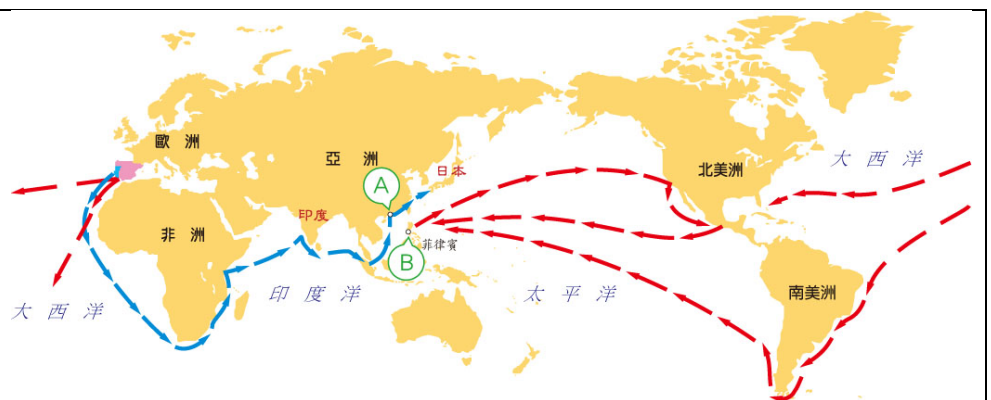
後來，「甲國」對「乙國」發動戰爭，完顏阿達里也從軍征戰，報效國家。在這場戰爭中，他目睹族人攻陷「乙國」的首都，並擄走了「乙國」的皇帝。完顏阿達里原本以為，此後能至南方享用當地的物產，但最後因局勢演變，完顏阿達里的願望終未能實現。

(參考資料：林俊雄，草原王權的誕生：斯基泰與匈奴，早期游牧國家的文明。)



44. 文中提及的「甲國」是由哪一草原民族建立？(A)女真(B)契丹(C)匈奴(D)党項。
45. 文中出現的「甲國」與「乙國」，分別指地圖中的哪些國家？(A)A, B(B)A, D(C)C, B(D)C, D。
46. 文中提及的戰事，最後的結果為何？(A)「甲國」滅「乙國」，成為第一個統治整個中國的草原民族
(B)「甲」、「乙」兩國簽訂盟約，是中國首度與周邊國家建立對等關係(C)「乙國」救回皇帝，並反敗為勝，打敗了「甲國」(D)「乙國」政權南遷，與「甲國」形成南北對峙。

16 世紀時，一位西班牙商人安東尼奧，深信「誰擁有海洋，誰就擁有全世界」，於是籌措資金，準備前往亞洲採購商品，再將這些商品賣往歐洲賺取下一趟航行的經費。



47. 安東尼奧想購買中國的商品，但為何不能直接進入中國的港口購買？(A)因海商勢力強大，須繳交過路費(B)須先加入中國的商人集團「商幫」，才能拿到貿易許可(C)因當時中國政府為防備倭寇，實施管制措施(D)須透過西方傳教士引介，否則西方商人無法直接與中國貿易。
48. 請判斷航路圖中的A、B兩處港口管理機構，請問，何處會同意讓安東尼奧的商船停靠與貿易？為什麼？(A)A處；此地離中國很近，可透過當地商人的協助(B)B處；可透過此地西方傳教士引介，而進入中國貿易(C)B處；此地為西班牙殖民地(D)A處；此地為西班牙殖民地。
49. 安東尼奧順利來到中國後，在採購瓷器時，曾聽聞：「某地是有名的瓷都，瓷器製作分工細密，每一道手續皆有專人處理。」請問：某地最有可能是下列何處？(A)盛澤鎮(B)景德鎮(C)泉州港(D)汴京城。
50. 安東尼奧等歐洲商人在大航海時代下的貿易中，帶至亞洲販售的農產品中，下列何者原產地不是美洲？(A)稻米(B)玉米(C)番薯(D)馬鈴薯。