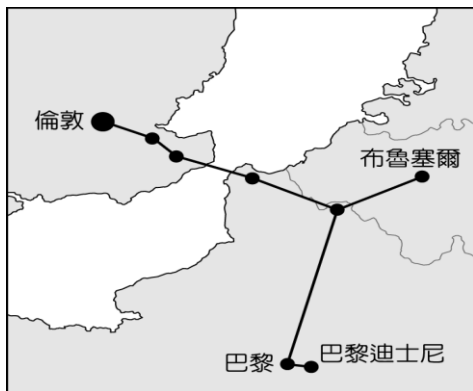


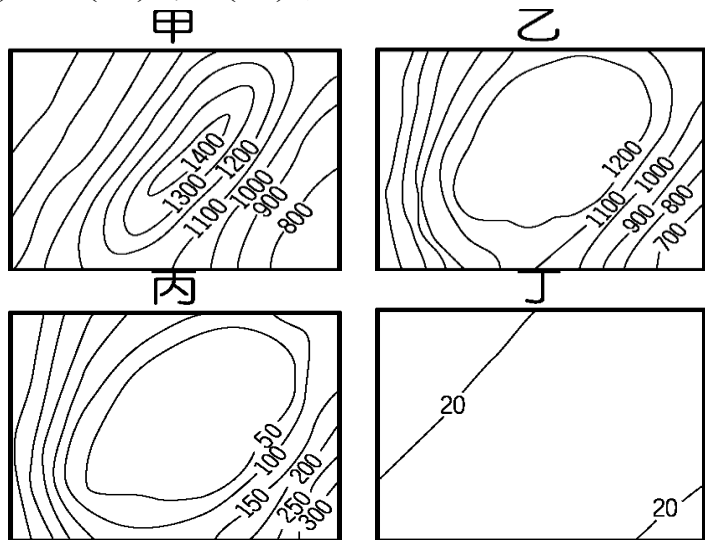
嘉義市立北興國中 111 學年度第一學期國三地理第 2 次段考

一、單題（每題 2 分，共 64 分）

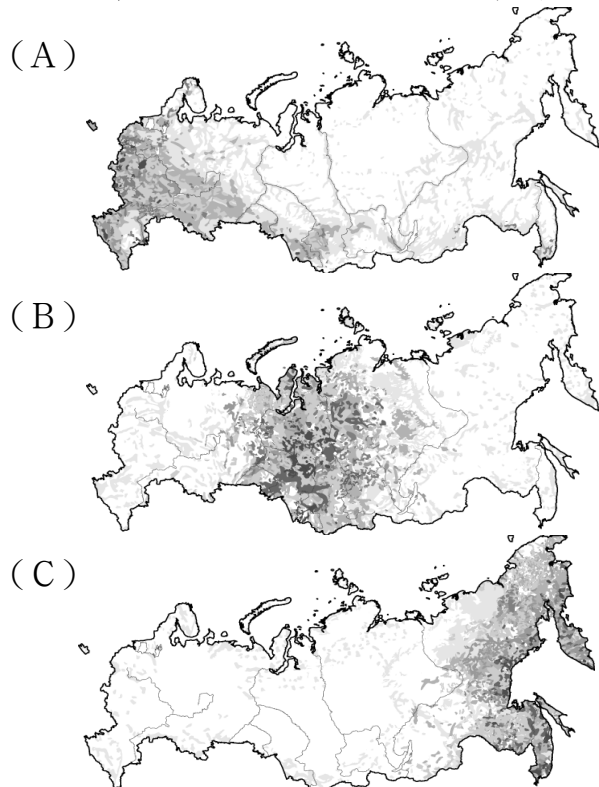
1. ( ) 附圖為歐洲境內某條重要的交通路線示意圖，請依據圖中資料判斷，這條交通路線必須興建隧道以穿越哪一個海域？  
(A)英吉利海峽 (B)麻六甲海峽 (C)南海 (D)太平洋。



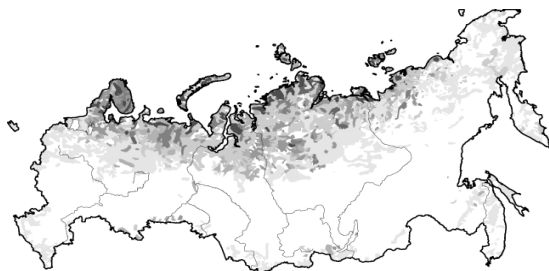
2. ( ) 小叮嚀參加了俄羅斯北部廣大的西伯利亞開發計畫，從莫斯科出發，一路搭乘西伯利亞鐵路向東前進，直到太平洋岸的海參崴港。請問：他在沿途中所見到的地形種類不包括下列何者？(A)甲 (B)乙 (C)丙 (D)丁。



3. ( ) 羅傑斯 (Rogers) 為世界著名的探險家，第一次橫渡西伯利亞的日誌記載：「穿越沼澤遍布的平原後，來到溝谷縱橫的高原地區，最後到了橫渡高大的山脈終點，讓陪著我們一路走來的吉普車陷入困境。」請根據上文判斷，其前進方向為何？(A)由南向北前進 (B)由西向東前進 (C)由北向南前進 (D)由東向西前進。
4. ( ) 俄羅斯為世界上面積最大的國家，但是人口卻僅 1.4 億人，遠低於中、美等國。下列為該國主要人口分布概況的點圖，其中何者最為正確？



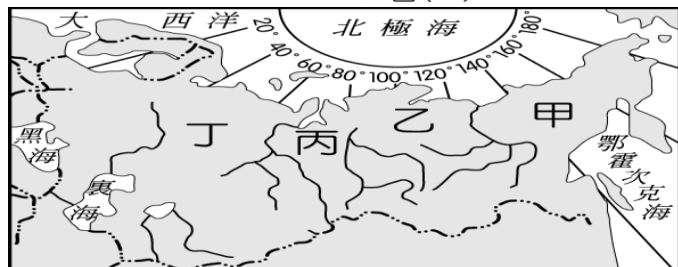
(D)



5. ( ) 王先生來到俄羅斯的聖彼得堡，該都市被稱為俄羅斯「面向西方的窗口」，且由於歷史悠久，許多建築物亦被列入世界遺址，充滿文化意義的古蹟遍布各地。附圖即為該都市的地理位置，依圖中資料判斷，其濱臨的海洋為下列何者？(A)地中海 (B)波羅的海 (C)南海 (D)北極海。

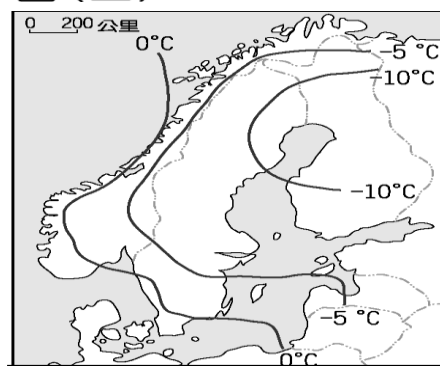


6. ( ) 圖(一)是俄羅斯板塊分布圖，請由該圖判斷，影響到圖(二)中何地的地形發展？  
(A)甲 (B)乙 (C)丙 (D)丁。



▲圖(二)

7. ( ) 北歐的緯度高，其 1 月月均溫分布如附圖所示，影響該地區氣溫分布的主要因素為下列何者？(A)西風 (B)地形 (C)暖流 (D)緯度。



8. ( ) 《經濟學人》雜誌公布 2012 年全球最宜居的城市如附圖，其中第 4 名的巴黎氣候宜人、景色優美。巴黎氣候特色為何？  
(A)冬季乾燥少雨 (B)降水量東多西少 (C)冬夏季溫差大 (D)夏季溫暖有雨。

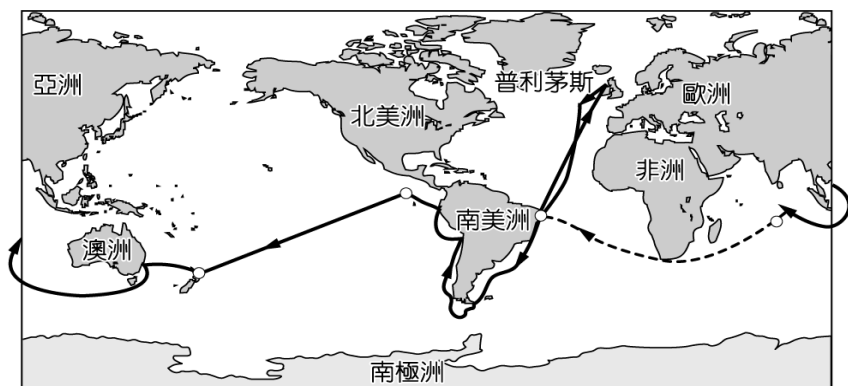
1	香港	
2	荷蘭 阿姆斯特丹	
3	日本 大阪	
4	法國 巴黎	
5	澳洲 雪梨	

9. ( ) 世界著名的坎城影展就在法國南端的蔚藍海岸舉辦，來自世界各地知名影星到此參展，成為當地的年度盛事。附圖照片為當地夏季乾暖、海灘美麗景色，請問：圖中的海洋為下列何者？(A)紅海 (B)北海 (C)黑海 (D)地中海。



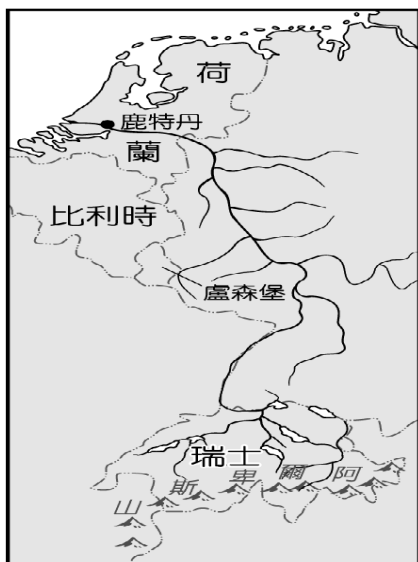
10. ( ) 英國的汽車相關產業勞工高達 82 萬人，對英國經濟貢獻良多。目前有跨國企業揚言將取消英國的汽車生產基地，是因英國退出歐盟後將會失去下列何項優勢？ (A) 不再使用歐元為英國貨幣 (B) 與歐盟成員國貿易不再免關稅 (C) 歐盟總部將由英國倫敦移往他處 (D) 英國工業產品規格會與歐陸不同。

11. ( ) 英國艦艇由該國沿海的港口——普利茅斯出發，開啟了環遊世界旅程，若根據附圖中資料判斷，該艦前往南美洲時須經過哪一個海洋？ (A) 地中海 (B) 大西洋 (C) 太平洋 (D) 印度洋。




12. ( ) 進入 21 世紀後，人口結構對於各國的發展影響漸大，因此受到全球重視。請問：北歐各國引以為傲的社會福利政策目前備受考驗，是受到哪一人口問題的影響？ (A) 幼兒出生率居高不下 (B) 社會增加率大幅上升 (C) 人口性別比不平均 (D) 人口高齡化比例高。

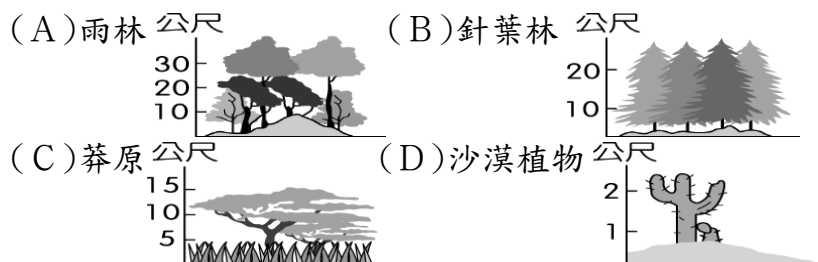

13. ( ) 歐洲大陸的水運交通相當發達，是經濟發展的重要命脈。附圖為西歐最重要的河道流域圖，該河道構成了下列哪一組運輸路線？ (A) 剛果河—大西洋 (B) 萊因河—北海 (C) 多瑙河—黑海 (D) 波河—地中海。



14. ( ) 阿爾卑斯山橫亘在西歐與南歐之間，卻沒有造成歐洲人南來北往交通的障礙，關鍵就在於如附圖所示的南北向谷地，該地形是何種作用力所造成的？ (A) 斷層作用 (B) 火山作用 (C) 冰河侵蝕作用 (D) 河川侵蝕作用。



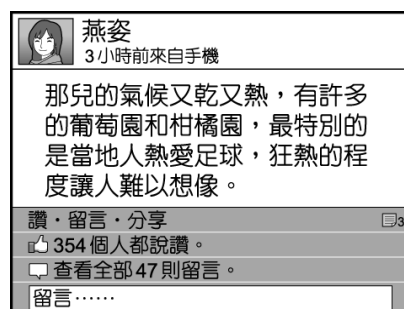
15. ( ) 俄羅斯娃娃是由多個相同圖案的空心木頭娃娃，一個套一個組合而成，是俄羅斯最具代表性紀念品（如圖）。根據俄羅斯的自然環境判斷，此木頭屬下列哪一種植物林相？



16. ( ) 東歐範圍位居歐洲內陸，有許多國家分布。請問：目前多將這些國家合併畫為同一地理區最主要的理由為下列何者？ (A) 自然環境平坦，往來交通無阻礙 (B) 歷史上曾為蘇聯附庸，限制各國經濟發展方向 (C) 多宗教信仰，生活作息一致 (D) 多為單一族群，少有戰亂。

17. ( ) 臺灣電子大廠鴻海在 2000 年即前往捷克投資生產，更在 2002 年完成新廠房的擴建，成為歐洲市場的蘋果電腦生產基地。請問：鴻海公司前往東歐捷克設廠的主要原因為何？ (A) 勞力低廉、關稅優惠 (B) 工業重鎮、技術落後 (C) 溫帶海洋性氣候、溫和多雨 (D) 管理先進、資金充足。

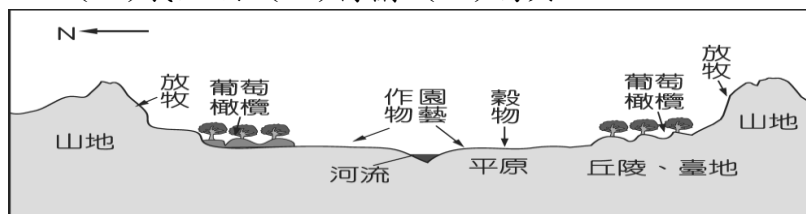
18. ( ) 燕姿在臉書上分享她暑假到歐洲拍攝廣告的旅遊經歷如附圖。請問：燕姿所描述的地區，最可能位於何處？ (A) 西歐 (B) 東歐 (C) 北歐 (D) 南歐。



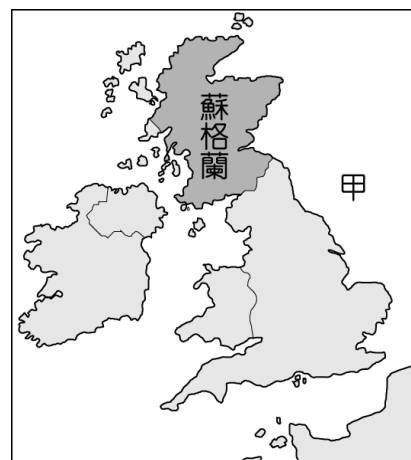
19. ( ) 歐洲某國的汽車工業相當發達，由於擁有品質極佳的煤礦，因此有利其產業活動，銷售量為全球第一，日前卻爆出汽車排氣檢測數值造假的風波，產品形象大受打擊。請問：上述國家最可能位於圖中何處？ (A) 甲 (B) 乙 (C) 丙 (D) 丁。



20. ( ) 歐洲某國家的農牧業活動分布如附圖，請問：該地區最可能位於歐洲哪個國家？ (A) 波蘭 (B) 義大利 (C) 荷蘭 (D) 瑞典。



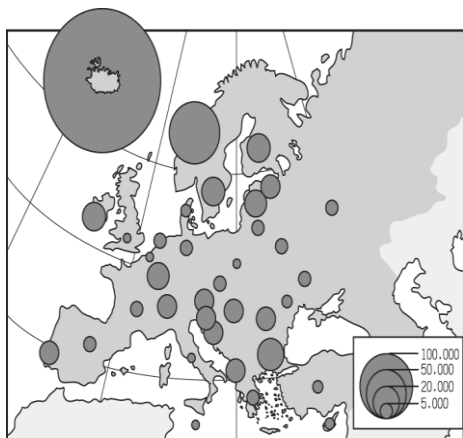
21. ( ) 附圖為英國領土示意圖，2016 年英國支持退出歐盟的一方在公投險勝，造成贊成留在歐盟的蘇格蘭地區欲發起獨立公投。由於蘇格蘭在甲海域擁有石油，因此對退出英國後的財政狀況深具信心。請問：甲是哪一海域？ (A) 波羅的海 (B) 地中海 (C) 北海 (D) 北極海。





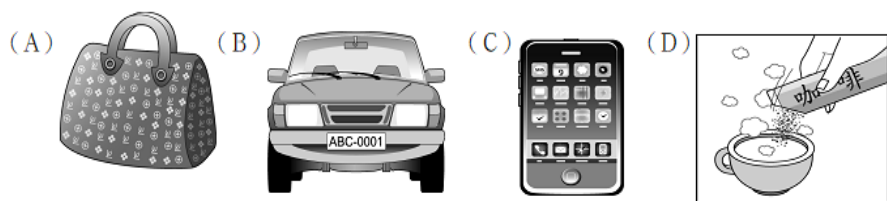
22. ( ) 東歐的捷克為工業大國，由於共產時期累積下來許多工業基礎，今日吸引許多企業到該國投資生產，以便產品能就近行銷歐洲市場。請問：若根據上文敘述判斷，這些工業產品的運輸路線多朝哪一方向運至歐洲主要市場銷售？(A)東方 (B)西方 (C)南方 (D)北方。

23. ( ) 附圖為歐洲境內每人平均水資源數量的空間分布圖，大致呈現西多東少，而各地水資源多寡多和雨量關係密切。請問下列何項因素與雨量的關係最大？  
(A)洋流性質 (B)氣溫高低 (C)西風吹拂 (D)經濟發展。



24. ( ) 小慈在研究了環境條件與人口分布的相互關係後，認為「氣候條件惡劣地區往往人口稀少」，為了支持自己的論點，他應該舉下列哪一個地區為例？(A)東歐 (B)西歐 (C)南歐 (D)北歐。

25. ( ) 德國以雄厚的科技能力加上實事求是的民族性，使德國工業以創新及高品質著稱。請問：其生產的主要商品應該為下列何者？

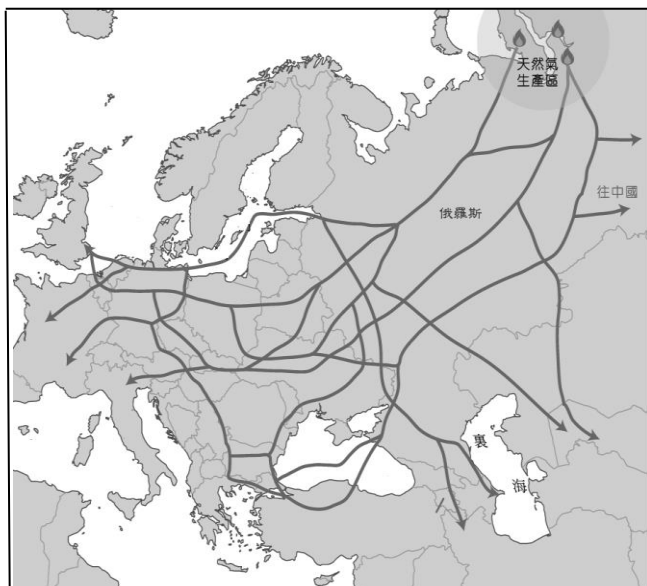


26. ( ) 八月最後一個星期三為西班牙著名的番茄節，當天許多遊客皆會前往瓦倫西亞，參加這個相當特殊慶典。請問：在當地番茄的生產過程中，以下哪一措施最為重要？(A)興建灌溉設施 (B)大規模機械化 (C)溫室栽培催熟 (D)土壤大量施肥。

27. ( ) 「有人說西風是上帝對歐洲人的恩賜；但對中國人來說，伴隨西風而來的卻常是漫天黃沙。」造成上述差異的原因為何？(A)歐洲位於大陸的東岸；中國位於大陸的西岸 (B)歐洲的西風來自海洋；中國的西風來自陸地 (C)歐洲西風集中於冬季；中國西風集中於夏季 (D)歐洲的緯度位置較高；中國的緯度位置較低。

28. ( ) 快報：「俄羅斯西伯利亞地區在春季時部分河道冰封，使得上游河水無法順利流入海洋，造成沿岸水患損失慘重。」請問：這種現象是因為河川流向為何？(A)由北而南 (B)由南而北 (C)由東而西 (D)由西而東。

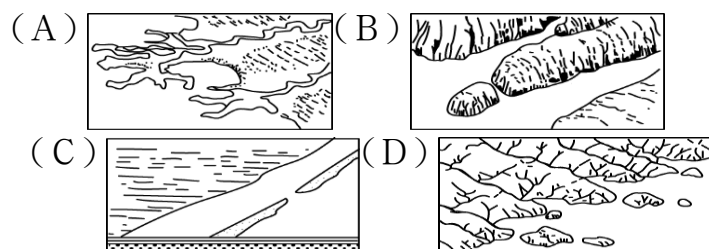
29. ( ) 附圖是俄羅斯天然氣管線分布圖，下列哪一個國家相當依賴俄羅斯進口的天然氣？  
(A)挪威 (B)芬蘭 (C)冰島 (D)德國。



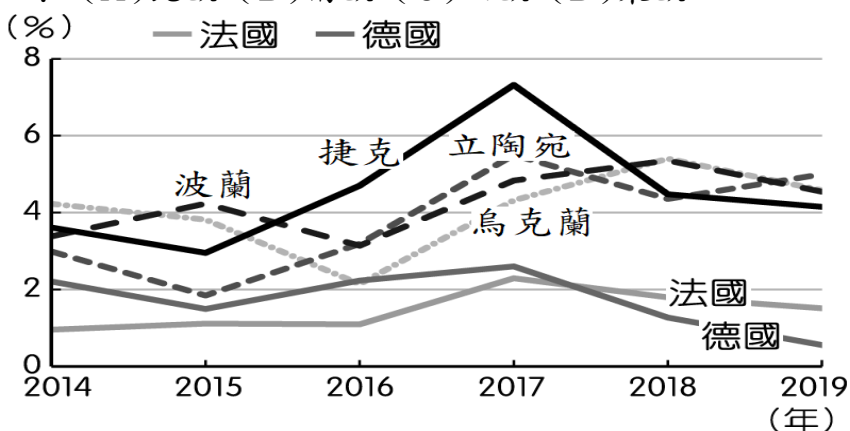
30. ( ) 附表是歐洲三個都市的位置及氣候基本資料。根據其相對位置判斷，表中的「X」應為下列何者？(A)年溫差(°C) (B)年均溫(°C) (C)一月均溫(°C) (D)年降水日數(日)。

都市	倫敦	德國柏林	波蘭華沙
經緯度	51°N，0°	53°N，13°E	52°N，21°E
X	13.0	18.3	21.3
年降水量(mm)	754	591	515

31. ( ) 歐洲挪威沿海地區，冰河延伸至海岸，遇到海水面上升影響，沿海谷地被海水淹沒，形成海灣，此海灣的示意圖為下列何者？

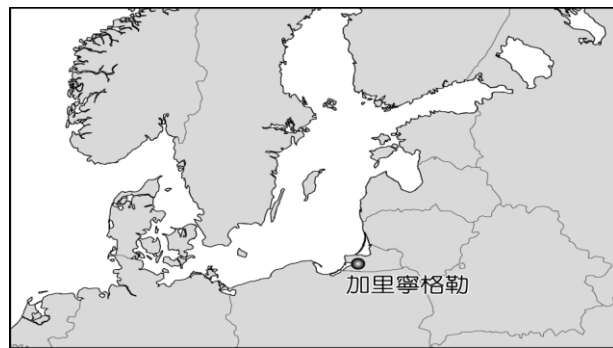


32. ( ) 附圖是歐盟六個國家經濟成長率變化圖，請問：哪一區國家近年來經濟成長率較高，經濟快速成長？(A)北歐 (B)南歐 (C)西歐 (D)東歐



## 二、題組（每格2分，共36分）

(1). 21世紀俄羅斯隨著大量天然資源出口帶動經濟發展後，已逐漸朝向往日的區域強權發展，也因此引起了周圍國家的緊張。日前俄羅斯在西邊的領土——加里寧格勒



（位置如附圖所示），部署帶載核彈頭的長程飛彈，鄰近國家立刻發出聲明，對該項措施表示抗議。請問：

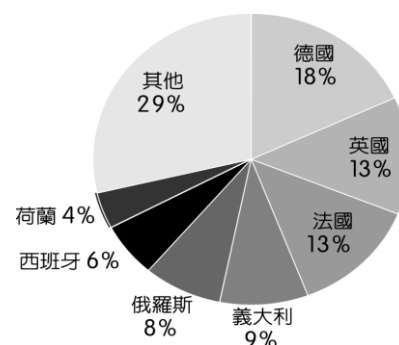
33. ( ) 俄羅斯近年來主要受惠於何種資源的大量開採並對外銷售，因此累積了眾多的外匯，經濟實力大增？(A)晶圓 (B)咖啡 (C)鑽石 (D)石油。

34. ( ) 俄羅斯在加里寧格勒部署帶載核彈頭的飛彈，下列其中哪一國家因距離最近威脅最大？  
(A)芬蘭 (B)荷蘭 (C)波蘭 (D)烏克蘭。

(2). 附圖是世界銀行2019年歐洲人均GDP分布圖：

35. ( ) 由圖中判斷，下列哪一個國家經濟發展最差？(A)英國 (B)荷蘭 (C)法國 (D)西班牙。

36. ( ) 由圖中判斷，哪一區國家國民所得普遍較高？(A)東歐 (B)北歐 (C)南歐 (D)西歐。





(3).歐洲是世界人口分布最平均的一洲，附圖是部分國家出生率與死亡率圖。請問：

37. ( ) 圖中自然增加率最高的兩個國家有哪些？(A)法國、英國 (B)瑞典、美國 (C)印度、肯亞 (D)德國、義大利。

38. ( ) 醫療進步的國家為何死亡率比出生率高？(A)幼年人口多 (B)壯年人口多 (C)老年人口多 (D)愛滋病肆虐。

(4).俄羅斯為全世界面積最廣大的國家，境內豐富資源和獨特的自然環境，形成該國發展的特色：

39. ( ) 俄羅斯境內最主要的氣候為下列何者？(A)熱帶莽原氣候 (B)溫帶大陸性氣候 (C)溫帶季風氣候 (D)溫帶地中海型氣候。

40. ( ) 西伯利亞今昔發展差異極大，對該地區發展影響最大的主要交通工具為下列何者？(A)公路 (B)航空 (C)鐵路 (D)河運。

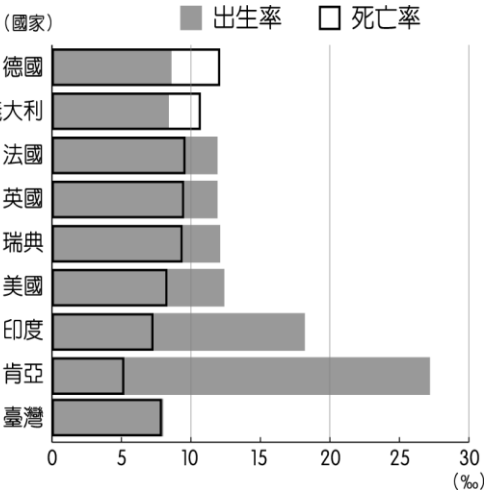
(5).東歐近年經濟發展，成為新興的工業地帶：

41. ( ) 東歐在蘇聯解體之前，是實施下列那一種經濟？(A)社會經濟 (B)自由經濟 (C)計畫經濟 (D)市場經濟。

42. ( ) 東歐各國在共產制度解體後，紛紛加入歐盟，而這些國家的何項區位條件較西歐國家具有優勢，因此吸引廠商前往投資？(A)技術進步 (B)勞工優秀 (C)原料豐富 (D)工資低廉。

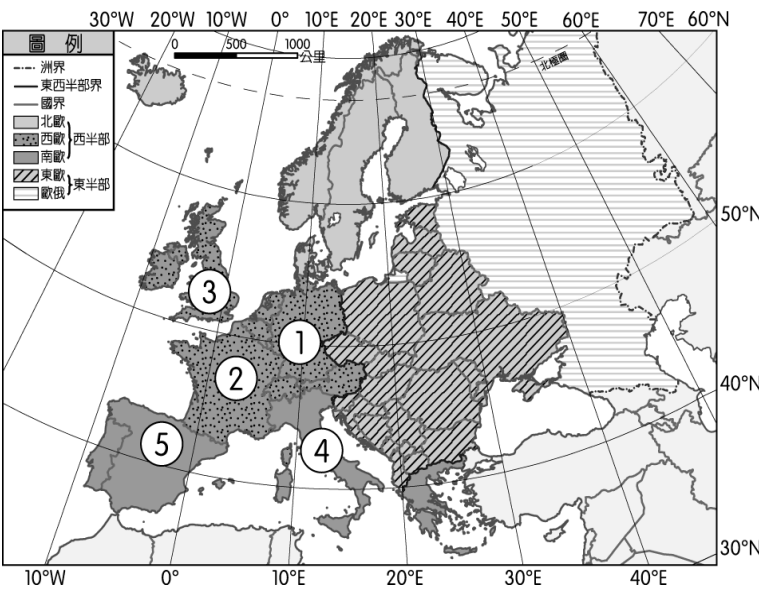
(6).人類古文明分布和當地自然環境關係密切，請問：

43. ( ) 附圖是中世紀羅馬人所繪古地圖，為早期世界三大洲的相對位置，其中T字型部分為海洋或河流，其餘部分為三大陸塊。請問：圖中甲地為下列何者？(A)大洋洲 (B)南極洲 (C)美洲 (D)亞洲。



44. ( ) 歐洲和亞洲同位於歐亞大陸板塊上。請問：歐洲哪一個國家和古宗教文明發源地的西亞距離最近？(A)英國 (B)德國 (C)希臘 (D)挪威。

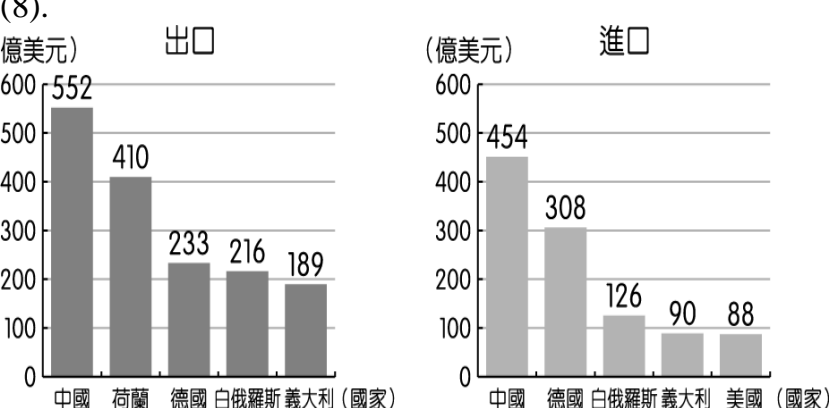
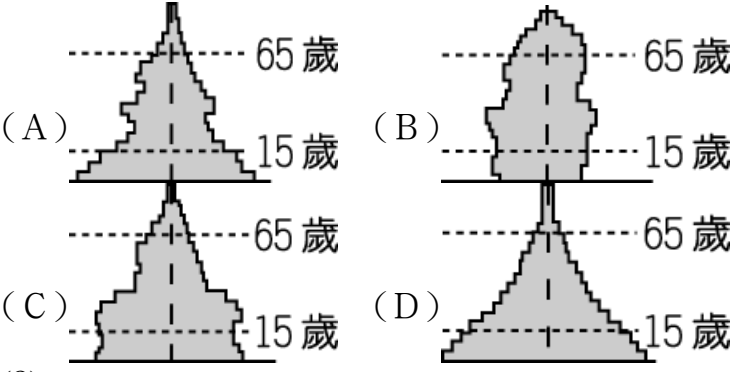
(7).歐洲國家數量眾多，各國面積及人口數差異大。除了俄羅斯外，歐洲人口最多的五個國家如附圖所示。這五個國家皆位於西半部歐洲，面臨著



老年人口增加、自然增加率趨緩，甚至呈人口負成長的現象。請根據附圖回答下列問題：

45. ( ) 歐洲的人口分布較其他洲平均，其可能的原因為何？(A)火山眾多、土壤肥沃 (B)緯度較高、傳染病少 (C)氣候溼潤、平原廣大 (D)高溫多雨、農業發達。

46. ( ) 若要畫一張代表這五個國家的人口金字塔圖，下列何種類型最符合其國家人口發展現況？



47. ( ) 根據上圖，下列哪個國家與俄羅斯進行貿易後，讓俄羅斯有最多的盈餘？(A)中國 (B)德國 (C)義大利 (D)白俄羅斯。

48. ( ) 2018年俄羅斯貿易總額達6,586億美元，其中出口金額為4,271億美元、進口金額為2,315億美元。請問：俄羅斯的貿易結果為何？(A)順差 (B)赤字 (C)逆差 (D)入超。

(9). 請閱讀下方文章回答問題：

瑞典國王查理十二世於1708年11月入侵俄國，因無法長期對抗惡劣的自然條件，軍隊由原來的4.1萬人變成1.7萬人。

經過一百多年後，1812年春季，法國的拿破崙帶領60萬軍隊，預計要在5個星期內攻下俄羅斯。直至8月，拿破崙雖順利進入莫斯科，但俄國人棄城而走，並破壞任何可能對法國軍隊有用的東西。在法國軍隊無法取得作戰時必需的糧草、禦寒衣物下，10月拿破崙命令大軍撤出莫斯科。11月俄羅斯降下初雪，馬匹倒地而死、大炮陷入雪中、士兵們染病凍死，最後剩不到10萬士兵返回法國。

49. ( ) 法國因優越位置而有得天獨厚的氣候，大部分地區冬無嚴寒，夏無酷暑，年溫差小，屬終年有雨的溫帶海洋性氣候。請問：法國的降水量主要受到哪個風向的影響？(A)東風 (B)西風 (C)南風 (D)北風。

50. ( ) 馬克是名歷史學者，他花了2年時間多次探訪法軍1812年經過的路線。請問：他可能會感受到哪些氣候變化？(A)法國年溫差較俄羅斯大 (B)法國的降水較集中夏季 (C)俄羅斯年溫差較法國大 (D)俄羅斯降水較集中冬季。