

## 一、 單選題（每題 2 分，共 50 題）

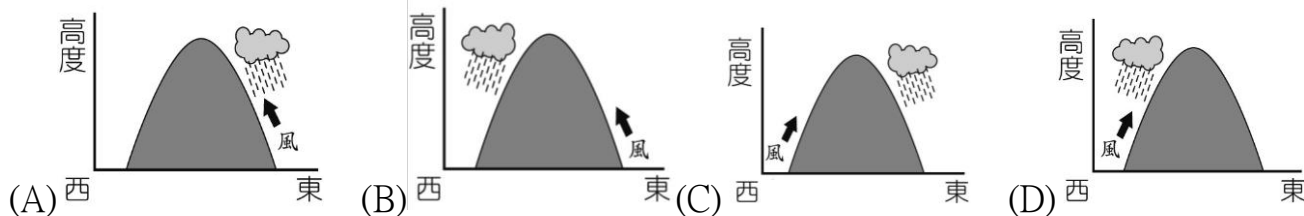
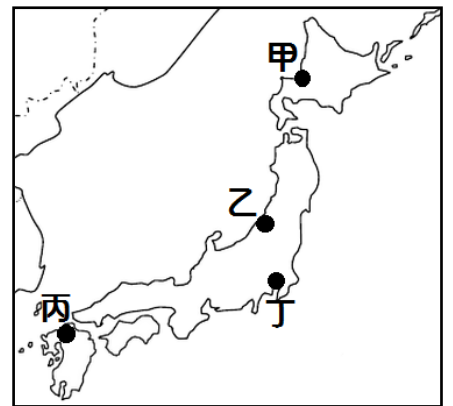
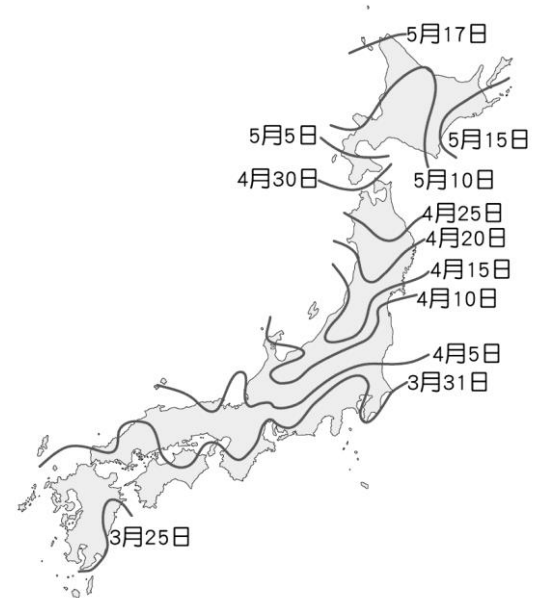
※天氣變化多端，我們時常仰賴氣象預報來安排行程、選擇服裝穿搭，洗衣服、洗車等日常生活瑣事，也和氣象預報息息相關；降雪、賞櫻、楓紅的季節有日期預測出遊攻略，颱風、地震等天災也少不了氣象局提供的情報。但是，你知道除了基本的氣溫和降雨量，日本氣象協會還貼心列出「睡眠指數」、「服裝指數」、「火鍋指數」、「啤酒指數」、「喉糖指數」，甚至是「冷熱溫差造成皮膚乾裂指數」嗎？

「睡眠指數」是透過入睡時的溫度和起床時的氣溫做為評斷數

據，提供「必須整夜開暖氣；早晚開暖氣；睡前開暖氣；早上稍冷，不開暖氣也能睡得好」的參考指數。

「冷熱溫差造成皮膚乾裂指數」更是相當貼心。溫差驟降時容易造成皮膚乾燥甚至裂傷，日本氣象協會也會參考前一天的溫差、當日的日夜溫差、和屋內屋外的平均溫差等數據，分為五種程度的危機提醒，像是位於本州島的★市在冬季時就常被列為危機程度最高的城市，時常做足保濕準備是相當重要的。請問：

1. 日本人喜歡在櫻花樹下賞櫻，氣象廳每年都會針對各地櫻花開放的時間進行預測，如右圖所示，請問：四大島中最早可以看到櫻花綻放的地區為何？ (A)九州 (B)本州 (C)四國 (D)北海道。
2. 承上題，該現象與哪一項因素最為相關？ (A)緯度 (B)地形 (C)季風 (D)洋流。
3. 「睡眠指數」是透過入睡時的溫度和起床時的氣溫做為評斷數據……請問：下列何地最可能是「必須整夜開暖氣」的地區？ (A)九州 福岡市 (B)四國 高知市 (C)北海道 札幌市 (D)沖繩 那霸市。
4. 承上題，當地「必須整夜開暖氣」原因為何？ (A)距海較近 (B)地勢最高 (C)緯度較高 (D)開發程度較高。
5. ★市在冬季時就常被列為皮膚乾裂危機程度最高的城市，該城市最可能是右圖何地？ (A)甲 (B)乙 (C)丙 (D)丁。
6. 承上題，★市皮膚乾裂的成因與下列何圖最相關？



7. 氣象預報顯示日本大部份地區正受到今冬最強等級寒流影響，氣象廳呼籲人們留意天氣對交通的影響，尤其是 12 月 19 日 (甲)面向太平洋一側的交通問題。此外當局也呼籲人們 (乙)警惕強風、海嘯和雪崩等狀況。氣象廳表示，冷空氣正在流入日本，主要為 (丙)北海道和四國島東側的地區帶來大雪。 (丁)關東地區一側將放晴，但天氣會變冷。請問：上述畫線部分何項敘述正確？ (A)甲 (B)乙 (C)丙 (D)丁。

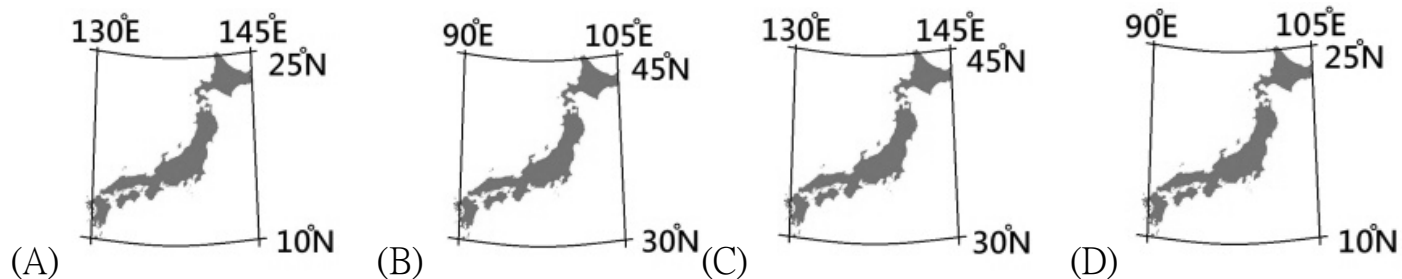
※今年的漢字（日語：今年の漢字）是日本漢字能力檢定協會從 1995 年起，每年向日本全國徵集的一個代表性漢字，用以表現該年世態及人們的感受。投票選出的代表性漢字會在 12 月 12 日（漢字日）於最大島京都市清水寺公佈，日本 2022 年度漢字正式公布，由森清範貫主在清水寺國寶「清水舞台」上，揮毫寫下「戰」一字，象徵 2022 年的俄烏戰爭、「甲」國頻射飛彈等國際大事。『戰』是繼恐怖攻擊頻傳的 2001 年以來，兩度獲選日本年度漢字。請問：


8. 文中的「甲」國最有可能是哪一國家？ (A)美國 (B)越南 (C)北韓 (D)南韓。
9. 清水寺最可能是位於哪一島嶼？ (A)北海道 (B)本州 (C)四國 (D)九州。
10. 日本使用漢字自於中國；而在南韓，農曆過年、端午、中秋則並列為年度三大節日，歲時節慶與中國相似。此外，中、日、韓三國的人們為了適應各自不同的自然環境，也發展出各具特色的住屋形式與設施。請問：三個國家在文化、制度上相仿或相似的原因為何下列何者？ (A)地理位置相近 (B)地形種類相同 (C)氣候條件相似 (D)人民種族相同。

※西元 2022 年 3 月 16 日晚間 23 時 36 分，日本福島縣外海發生規模 7.3 強震，震源位於牡鹿半島南南東方 60 公里附近(右圖★處)，最大震度 6 級(日本分級為 6 強)，深度 60 公里，福島縣和宮城縣預測恐有一公尺海嘯，當局發布警報呼籲民眾立即避難。地震發生後，關東地區逾 209 萬戶停電，羽田機場暫時關閉跑道檢查，東海道新幹線部分停駛。請問：



- 11.「316 地震」是發生在哪一個海洋上的淺層地震，因為引發海嘯而造成嚴重的傷亡？ (A)日本海 (B)黃海 (C)東海 (D)太平洋。
- 12.根據附圖推論，發布海嘯警報的福島縣和宮城縣，應位於何處？ (A)北海道 (B)本州 (C)四國 (D)九州。
- 13.根據附圖及文章推論，地震後哪一個城市可能漆黑一片？ (A)札幌 (B)東京 (C)大阪 (D)福岡。
- 14.此則新聞快訊發布時，是臺灣的 22 點 36 分。由此可知日本的正確經緯度應為下列何者？



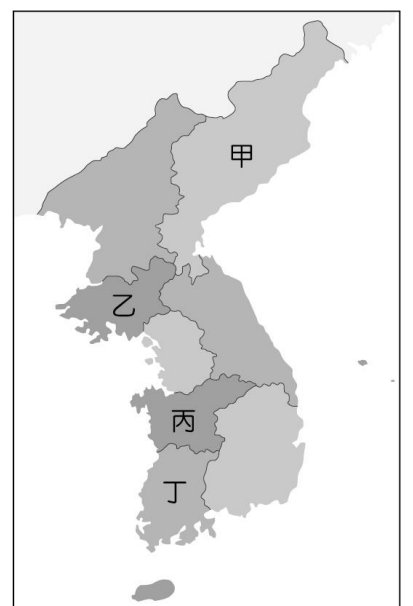
- 15.造成日本地震活躍的原因為何？ (A)日本位於海陸交界帶 (B)日本地處板塊擠壓帶 (C)日本沿海有寒暖流交會 (D)日本三面環海為一海島國家。
- 16.日本主要的自然景觀常常吸引眾多國際觀光客一探究竟，造就日本龐大的觀光收益。下列哪一個景觀的形成與地震帶最無關？ (A)「」此符號代表溫泉，上方畫了三道熱氣，是代表一天當中泡湯的最好時段為：晚餐前、晚餐後，以及睡覺前，總共三次，可以見得日本人非常喜歡泡溫泉。(B)日本文學《竹取物語》中，有許多關於火山口冒煙和震動的記錄，文中許多武士將長生不死的靈藥在最接近天的富士山上燃燒，因此，這座山名為「富士山」、「不死山」或「不盡山」。(日語中，「不死」和「不盡」的發音都與「富士」接近) (C)關東平原上以東京為中心的首都圈幾乎全為都市用地所覆蓋。在周邊的沖積平原上有一部分的稻作農業存在，而在台地則多為旱田 (D)日本政府投入 1220 億日元(約 284 億台幣)巨資、花費了近 30 年時間、北堤全長 990 米、南堤全長 670 米、高 63 米.....固若金湯的世界第一防波堤。

※日、韓與台灣都有使用筷子，但是相互之間有一些不同。

日本人在吃飯時，一般都把飯菜湯碗全放在一個托盤上，每個人吃自己面前的一份，既不會像中國人一樣圍著大桌子一起吃，也沒有給別人夾菜的習慣，所以筷子就沒必要設計得太長。且日本人吃的食物通常小巧精緻，尖細的筷頭用來剔撥食物更方便，同時他們也很喜歡吃海魚，設計成尖頭更適合扎魚肉、剃魚刺。

而朝鮮半島早期房子的構造是廚房與飯廳、客廳分開，端菜時為了防止筷子滾落才設計成扁的。且當地從以前開始就是食用泡菜為主食，當地有句俗話說：「泡菜是半個糧食」，泡菜又是需要醃漬、放置的食品，因此使用金屬能方便驗毒，不過更實際的原因可能在於清洗容易，因為韓式料理多使用醃漬、大量醬料，若長期使用木筷的話容易有洗不乾淨的疑慮。與台、日不同，韓國人吃飯從不端起碗來，筷子是為了「把菜夾進碗裡」而存在，夾完菜再換成湯匙將食物放入口，韓國飲食文化認為只有乞丐才會拿碗(因當地「捧碗」即「要飯」之意)，因此吃飯時他們多用湯匙挖飯，避免手、嘴巴靠近飯碗。請問：

- 17.朝鮮半島從以前開始就是食用泡菜……。請問：這與下列哪一條條件最有關？ (A)梅雨季長，食物保存不易 (B)冬季嚴寒，缺乏新鮮蔬菜 (C)降水量稀少，無法種植蔬菜 (D)夏季酷熱，食物容易敗壞。
- 18.承上題，右圖何地最晚製作當年度的泡菜？(A)甲 (B)乙 (C)丙 (D)丁。
- 19.正統韓國餐桌上，最不可能見到下列哪一道韓式料理？ (A)蛋包飯 (B)人參雞 (C)泡菜湯 (D)辣炒年糕。



- 20.根據上文所述，對於日、韓與台灣筷子的認知下列何者正確？ (A)日本的木筷子最長，而且筷子尖非常的鋒利 (B)入境隨俗，在韓國吃飯一定要將碗端起來 (C)韓國吃飯時和台灣一樣，多用筷子將食物放入口中 (D)韓國筷子扁平，一般是金屬筷子。
- 21.文中提到「尖細的筷頭用來剔撥食物更方便，同時他們也很喜歡吃海魚，筷子設計成尖頭更適合扎魚肉、剃魚刺。」請問：日本愛吃海魚的原因與下列何者最無關？(A)氣候較暖溼(B)海岸線曲折(C)寒暖流交會(D)捕撈技術佳。



※韓國的新冠肺炎(COVID-19)疫情在西元 2020 年 8 月中再度上升，且以人口稠密的都市區域為中心迅速擴散，為了挽救疫情造成的經濟停滯與衝擊，總統文在寅提出推動數位與綠色新政，重新思考能源、基礎建設與產業發展的機會，也同步回應氣候變遷的危機，南韓的「綠色新政」宣示要在 2050 年成為東亞與東北亞地區第一個「去碳化(淨零碳排)國家」。

新冠肺炎(COVID-19)亦影響韓式美妝業「K-beauty」。西元 2020 年，南韓化妝品出口額約為 76 億美元，僅次於法國與美國，位居全球第三。其中，中國占南韓化妝品出口總額約 50%，而對俄羅斯、哈薩克、日本、英國、加拿大、美國等國的出口額也有所增長。若依化妝品的出口類型來看，護膚產品出口較西元 2019 年增加 17.6%，護髮產品增加 19.2%，洗澡產品增加 65.6%，彩妝產品則減少 5.3%。有趣的是，洗澡類產品增加與彩妝產品減少的原因，與新冠肺炎(COVID-19)疫情改變生活習慣與型態有關。請問：

22.根據上文，由於疫情再起，韓國政府防疫當局再次面臨難關。請問：韓國政府最需要對下列哪一個區域進行封城管制活動？ (A)京都 (B)開城 (C)首爾 (D)平壤。

23.韓國綠色新政宣示要在西元 2050 年成為東亞與東北亞地區第一個「去碳化(淨零碳排)國家」。請問：下列哪一項重大產業採用綠色能源後，將可大幅減少碳排放量，有助於達成政策目標？ (A)成衣 (B)手機 (C)電影 (D)汽車。

24.針對此報導所指「對日本的出口額有所增長」的說法，研究日本市場的專家分析其原因，發現與○○有關，也進一步證實○○的影響已延伸至美妝層面。請問：○○最可能為下列何者？ (A)韓劇 (B)日劇 (C)產業空洞化 (D)智慧型農業。

25.若此篇報導可作為地理報告的引用資料，下列哪一個報告主題較不適合引用此資料？ (A) COVID-19 對韓國產業的影響 (B)韓流影響全球消費習慣：以化妝品為例 (C)「K-beauty」：韓式美妝之名稱探究 (D)西元 2020 年韓國化妝品出口額的變化。

26.韓國前總統文在寅對 COVID-19 大流行的反應，在任內受到國內外稱讚。但在執政黨舞弊仍疑雲重重的狀況下，文在寅在任期最後特赦前總統朴槿惠，並剝奪檢方直接偵查權，遭質疑是為躲避卸任後的牢獄之災。另外 2022 年 8 月韓國政府特赦三星集團領導人李在鎔(因涉嫌賄賂前總統朴槿惠的閨密而被定罪入獄)，韓國政府同時發布聯合新聞稿說：「為了藉活化經濟來克服經濟危機，最近緩刑期限結束的三星電子副董事長李在鎔，將得以復職。」請問：上述顯示出韓國產業的哪一項特色？

(A)以加工出口業為主 (B)政府刻意扶植大型財團 (C)人口老化嚴重 (D)政府執政清廉。

27.承上題，韓國政府的經濟政策，可能會產生哪項缺點？ (A)在國際上的能見度降低 (B)國力增強致使貧富差距減少 (C)慈善機構取代政府提供社福體系 (D)國家經濟易受到少數公司營運影響。

※屋久島是日本的多山之島，全島 75%面積為海拔超過 1,500 公尺的高山，最高峰達 1,935 公尺，擁有從副熱帶季風氣候到寒帶氣候等不同氣候，並形成多元的自然生態系統，約有 20%的區域，被聯合國教科文組織登錄為世界遺產。島上目前 90%的面積為森林所覆蓋，不過有許多的森林，是在 1960 年代末某一產業式微後，才在島上重新進行栽植。請問：

28.屋久島最可能是位於右圖中的何處？(A)甲 (B)乙 (C)丙 (D)丁。

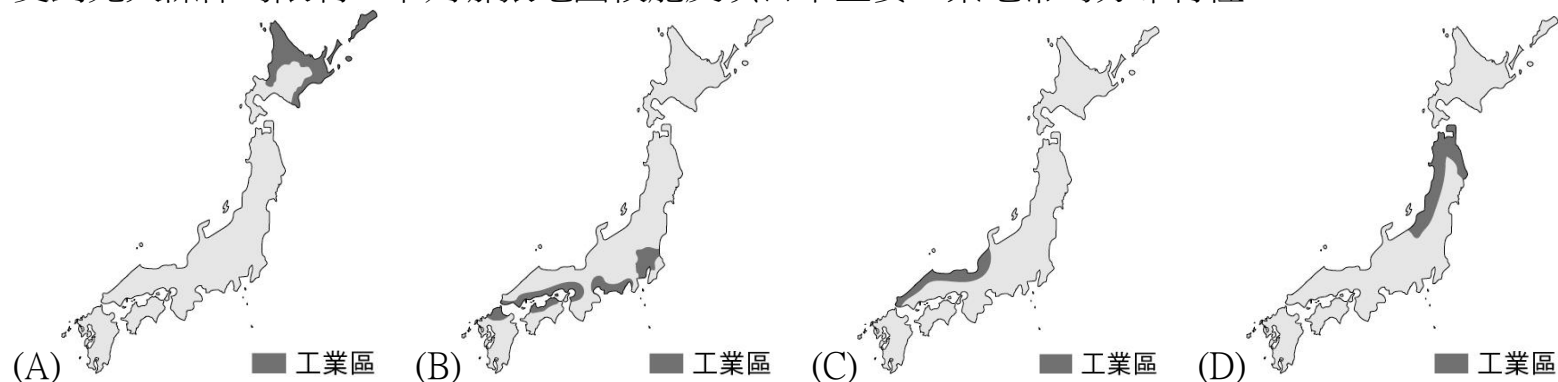
29.文中提及的產業最可能是下列何者？(A)漁業(B)林業(C)礦業(D)牧業。

30.推論屋久島擁有多樣氣候與多元自然生態系統，其最主要原因為何？

(A)島嶼東西很寬 (B)島嶼南北很長 (C)地勢起伏很大 (D)親潮流經。



31.受到先天條件的限制，下列哪張地圖較能反映日本主要工業地帶的分布特性？



32.承上題，由工業區分布可知，日本工業發展的關鍵區位條件為何？

(A)原料 (B)勞力 (C)交通 (D)動力。

33.承上題，這個分布現象可能反映哪些事實？ (A)缺乏原料、外銷為主 (B)水力豐沛、內需強勁 (C)人口老化、技術先進 (D)板塊擠壓、山多平原少。

※阿虎為了報告東北亞的經濟發展，搜尋了西元 2020 年聯合國的人均國內生產總值(人均 GDP)資料，如附表所示。透過該數據資料，可以評比東北亞三個國家在經濟發展及人民所得的大致情形。請問：

國家	人均 GDP(美元)
甲國	618
乙國	39990
丙國	31947

34.表中的甲國最有可能是哪一國家？(A)日本(B)俄羅斯(C)北韓(D)南韓。

35.甲國在「全球飢餓指數」惡化的排名中位居第二。造成甲國所得低、糧產不足，常有饑荒的問題，除了政治制度的影響外，與下列何項自然因素關係最密切？ (A)颱風侵襲次數多 (B)生長季短、平原少 (C)火山活動與地震頻繁 (D)年降水量少於 500 毫米。

36.乙國的經濟發展在東北亞各國中，表現最為強勢。下列何者並非乙國經濟發展良好的原因？(A)科技技術精良 (B)天然資源豐富 (C)海上交通方便 (D)國際貿易發達。

37.乙、丙兩國在人均 GDP 這項數據上，排名均在世界前 30 名之列。成就目前這兩個國家亮眼經濟數據的產業，並未包含下列何者？

(A)成衣紡織 (B)鋼鐵造船 (C)汽車工業 (D)高科技電子。

38.何者不是乙、丙兩國皆具有的經濟發展特色？ (A)原料多需仰賴進口 (B)產品多以外銷世界為主 (C)出口高附加價值產品為主 (D)兩國人口眾多，現在以「世界市場」聞名。

※「日本任天堂的 Switch 深受消費者喜愛，美國是任天堂第一大買家，占核心業務營收的 43%，歐洲和日本市場分別占 27%和 21%。然而，由於新冠肺炎(COVID-19)疫情影響到部分工廠的營運，導致任天堂在中國的零組件供應商產能大幅下降，無法維持任天堂在越南組裝工廠的產能。」請問：

39.根據上面敘述，下列關於國際分工的說明何者正確？

(A)中國設計，日本製造 (B)美國設計，日本製造(C)日本設計，越南製造(D)日本設計，美國製造。

40.承上題，日本任天堂的營運比較貼近下列何者？

(A)大量聘僱外籍移工，持續發展勞力密集產業 (B)將所有勞力密集產業外移至美國 (C)製造部門移至鄰近各國，研發部門續留國內 (D)不斷提高產業薪資，吸引不同產業的勞動力移入。

41.台北國際動漫節將在 2023 年 1 月 27 日 至 1 月 31 日舉辦。主辦單位推出相關活動的訊息：

I.★式抽獎活動！總計抽出電玩主機、高級公仔，也會陸續配合設計師推出★限定品、電競手機。

II.在★熱銷的漫畫《後宮之烏》改編為動畫，片尾曲《夏之雪》演唱歌手將登上動漫節舞台！

III.由★新銳漫畫家獻上超人氣青春恐怖漫畫《光逝去的夏天》，將於台北國際動漫節獨家首賣！

請問：上述三項活動中★最可能為下列何者？ (A)南韓 (B)日本 (C)中國 (D)北韓。

42.北韓的民生工業較薄弱，日常用品常需要依賴進口。下列哪個國家的產品最容易出現在北韓的日用品市場中？ (A)南韓 (B)中國 (C)日本 (D)臺灣。

43.日本政府發布的《觀光白皮書》內呈現不同外國旅客主要的消費方向。澳洲人是所有旅客中花最多錢在住宿方面的，臺灣人則主要買藥品和保健相關產品，而歐美旅客訪日的最大動機則是「體驗日本的文化和歷史」。請問：下列何者較不符合歐美旅客感興趣的旅遊內容？

(A)傳統溫泉體驗 (B)和服體驗 (C)體驗茶道 (D)阿蘇火山健行體驗。

44.日本農業有許多特色與限制，下列何者為非？ (A)積極從事有機、無毒農業 (B)農產品質優良、價位高 (C)氣候溫涼可種小麥、溫帶水果 (D)開闢梯田後可大規模機械化耕作。

45.日本的經濟發展有許多困難與挑戰，下列何者是日本人面臨的問題？

(A)內戰頻仍 (B)少子化 (C)技術落後 (D)工資過低。

46.主打機器人協助販售的商店，最近在日本掀起一股改革的旋風，部分連鎖超商開始引進機器人服務消費者。請問：下列何者並非導致這個現象的因素？

(A)降低運輸成本 (B)人口老化 (C)勞動力不足 (D)自動化技術先進。

47.南韓的影視產品在亞洲掀起一陣韓流熱潮，相關的娛樂產品在亞洲國家大賣。請問：影劇娛樂產業的發展，對於南韓何項產業的助益最大？ (A)電子業 (B)資訊業 (C)農牧業 (D)觀光業。

48.相對於南韓夜晚的燈火通明，夜間衛星影像拍攝到的北韓幾乎全境一片漆黑，可能與下列選項中的哪一個因素有關？ (A)經濟發展遲緩 (B)節能減碳 (C)礦產豐富 (D)重工業發達。

49.南、北韓在經濟發展上的比較，下列何者正確？

	(A)天然資源	(B)產業重心	(C)企業規模	(D)經濟成長
北韓	有林木資源	重工業	大型財閥	外銷為主
南韓	有煤、鐵礦	高科技	中小企業	內需市場大

50.日本的旅遊業一年吸引超過 3,100 萬人次參訪，許多遊客還會一再拜訪。請問：下列何者並非日本旅遊業吸引人一再拜訪的因素？(A)多熱帶島嶼 (B)良好的治安 (C)整潔的環境 (D)貼心的服務。