

一、單題（每題 2 分，共 100 分）

臺北時間 2023 年 3 月 26 日上午 8 點，宏都拉斯宣布與臺灣斷交。不到半天，中華人民共和國即跟宏都拉斯外交部長雷依納（Eduardo Enrique Reina）簽署建交文件的畫面就傳出。臺灣最近一次失去邦交國，是 2021 年年底，與同是中美洲國家的尼加拉瓜斷交。這次與宏國結束外交關係，也是過去 7 年內，臺灣失去的第 9 個邦交國。


1. () 臺灣面對上述狀況的發生，現階段不可能以下列哪種方式面對？（A）堅持一個中國原則，中華民國政府為中國政權唯一合法代表 （B）善盡國際義務 （C）積極參與國際組織與活動 （D）派遣醫療團與農技團。
2. () 中華民國臺灣原本在聯合國享有崇高的地位，後來卻陷入國際孤立的困境，目前僅存 13 個邦交國，這樣的情況與下列哪些事有關？（甲）1950 年韓戰爆發；（乙）1954 年簽訂《中美共同防禦條約》；（丙）1971 年中華民國退出聯合國；（丁）1978 年中華民國與美國斷交
（A）甲 （B）乙丙 （C）丙 （D）丙丁。
3. () 根據報導：「臺灣身為宏都拉斯白蝦最大出口市場，宏國上宣布與我國斷交後，兩國 2008 年簽訂的自由貿易協定恐受連帶影響，當地倚賴養蝦業為生的成千上萬人已開始擔心未來生計。」從上述內容可以分析，近年我國改採務實作法，以下列哪一項優勢做為突破中共外交封鎖的利器，以確保我國的國際地位？（A）悠久歷史 （B）多元文化 （C）軍事國防 （D）經濟自由化。

八二三砲戰，又稱第二次臺灣海峽危機（英語：Second Taiwan Strait Crisis）。中國人民解放軍與中華民國國軍以隔海砲擊為主要戰術行動，因此稱為砲戰。中國人民解放軍首先發起砲戰，中華民國國軍隨即開始反擊。砲戰初期，解放軍攻擊島上軍事目標，後期著重封鎖海運線。砲戰期間，雙方海軍艦艇和空軍也多次戰鬥。10 月初，解放軍宣布放棄封鎖，改為「單打雙不打」（逢單日砲擊，雙日不砲擊），逐漸減少攻勢。至此，中華民國成功守衛前線地區。中華人民共和國維持單打雙不打，直到 1979 年 1 月 1，通過《告臺灣同胞書》正式宣布停止砲擊。此次戰役是國共雙方陸海空軍至今最後一次大型軍事衝突，期間雙方的軍事衝突侷限於海上，並逐漸停止。

4. () 請問發生八二三砲戰的時間，臺灣內部不會遇上下列哪個狀況？（A）積極扶植輕工業、生產民生必需品，限制外國的相關產品口 （B）白色恐怖時期雷震案發生 （C）推動十大建設計畫，帶動景氣復甦 （D）加入世界貿易組織。
5. () 依上文內容，八二三砲戰結束為 1979 年 1 月 1，中共通過《告臺灣同胞書》正式宣布停止砲擊。請問戰爭的結束跟哪個國際局勢發展，密切相關？（A）聯合國正式成立 （B）中華民國退出聯合國 （C）美國與中華人民共和國建交 （D）冷戰時期的結束。
6. () 中共領導人習近平說：「我們要扎實推進“一國兩制”實踐和祖國統一大業。要全面準確、堅定不移貫徹“一國兩制”、高度自治的方針。支持□、□特別行政區發展經濟、改善民生，更好融入國家發展大局。實現祖國完全統一是全體中華兒女的共同願望，是民族復興的題中之義。要貫徹新時代黨解決□問題的總體方略，堅持一個中國原則和“九二共識”，積極促進兩岸關係和平發展，堅決反對外部勢力干涉和“台獨”分裂活動，堅定不移推進祖國統一進程。請問上述扎實推進“一國兩制”的三個□最適合填入下列何者？（A）香港、新加坡、日本 （B）香港、澳門、臺灣 （C）澳門、新加坡、菲律賓 （D）香港、臺灣、新加坡。
7. () 1949 年國民黨從大陸撤退之初，除少數國民黨高級軍官可以把眷屬帶在軍中以慰寂寞外，絕大部分官兵皆為「孤家寡人」，生活十分乏味。軍方為了維護戰地第一線的社會秩序，調劑官兵生活，安撫他們的心靈，自 1950 年初就策劃設置了戰地妓院。□從僅有兩個妓院，經過大肆發展，國民黨軍隊在後期總共設立設立了六處分院，「妓女達兩百多人」。「軍中樂園」於 1990 年 9 月 30 日宣布廢除為止，戰地妓院存在了四十年之久。為了避免駐守□的單身官兵一時間難以適應，戰地妓院還特地轉由民間經營了一段時間。直到次年 11 月底，戰地妓院才全部停止營業。請問上□最適合填入下列哪個地區？（A）澎湖 （B）廈門 （C）金門 （D）綠島。
8. () 下列重大事件，若按時間先後順序排列，正確為何？（甲）終止動員戡亂；（乙）中華民國與美國斷交；（丙）雷震案；（丁）三七五減租政策推行。
（A）甲乙丙丁 （B）乙丙甲丁 （C）丁丙乙甲 （D）丙丁甲乙。
9. () 在越南，臺灣人俗稱的「臺商學校」—胡志明市臺灣學校，設立於 1997 年，為教育部立案的私立學校，自幼稚園國小、國中到高中 15 年一貫，提供當地的臺商子女能與國內教育體系接軌的正規教育。使用的課本也都和臺灣的學校相同，師資主要是由經國內公開甄試的臺籍教師，以及另外自聘的外籍教師組成。除了越南胡志明市之外，另外在印尼雅加達、泗水，馬來西亞吉隆坡和檳吉，共有五所

海外臺灣學校。。這是為要配合政府所要推動的何項政策？ (A)東向 (B)西向 (C)南向 (D)北向。

- 10.()臺灣經濟命脈「新竹科技重鎮」持續發展，高所得的竹科、台元等，再加上竹北四大科技園區挹注，成為了全臺關注的焦點話題，年薪約 200 萬甚至更高成為網路熱門話題，持續穩坐全臺最富有聚落，也讓竹北有「新天龍國」稱號。請問新竹科技園區的設置，政府積極推動產業升級政策，是在下列哪個時期？ (A)1970 年代 (B)1980 年代 (C)1990 年代 (D)2000 年代。
- 11.()當□首次以中華民國總統身份訪問新加坡的時候，由於兩國沒有正式外交關係，加上新加坡政府不願得罪中共，因此當地媒體以「來自臺灣的總統」稱之。當被問到媒體的稱呼時，□說出「不滿意但可接受」的名句，從此成了臺灣突破國際封鎖的敲磚石。當年兩岸依舊在國際場合明爭暗鬥、互挖邦交國牆角，中華民國正面臨大幅流失邦交國的危機。□倡導務實靈活的外交策略，不拘泥於「漢賊不兩立」的傳統外交思維，有段時間確實讓中共疲於奔命。只不過，國際社會實在難以突破中共劃下的「一中原則」框架，或許也是□自始至終的痛吧！請問□最適合填上何人？ (A)蔣經國 (B)李登輝 (C)陳水扁 (D)馬英九。
- 12.()曾氏兄弟的媽媽祖籍為中國上海，每當農曆過年到來，他們就會購買機票，從臺灣桃園直飛中國上海，與家人一起團圓過節。請問：這樣的交通方式最有可能出現在下面哪個時代？ (A)民國 80 年代 (B)民國 70 年代 (C)民國 60 年代 (D)民國 90 年代。
- 13.()辰晉的阿祖曾經參加過古寧頭戰役，也因此失去了右邊的手臂，但阿祖並未因此覺得難過，因為他覺得自己為中華民國政府立下了汗馬功勞。請問：古寧頭戰役的時間與所代表的意義為何？ (A)1958 年，此役後中共不再輕言犯臺 (B)1950 年，臺灣納入東亞防共體系的一環 (C)1971 年，此役打了將近二十年的時間 (D)1949 年，有助國民政府順利遷臺。
- 14.()一個國家在發展經濟的初期，為避免本國產業受到外國勢力的競爭，通常會採取保護政策，限制國外的相關產品進口。臺灣經濟發展在哪一階段即呈現上述現象？ (A)1980 年代 (B)1970 年代 (C)1960 年代 (D)1950 年代。
- 15.()1960~1970 年代是臺灣經濟起飛的年代，隨著所謂的「臺灣錢淹腳目」，對人民生活造成影響。請問：這些影響不包括下列何者？ (A)工廠汙染 (B)國民所得增加 (C)破壞古蹟 (D)生態浩劫。
- 16.()附圖為自兩岸分治以來，第一次舉行正式會談的相關圖片。請問關於此次會面的敘述何者正確？



- (A)中華民國代表為海基會董事長辜振甫先生 (B)中國大陸代表為國務院臺灣事務辦公室發言人汪道涵先生 (C)會面的時間兩岸處於政治對峙期 (D)進行會談的地點為馬來西亞。
- 17.()國民黨、民進黨 2024 總統人選底定，國民黨候選人侯友宜、民進黨候選人賴清德的兩岸政策倍受關注。前副總統呂秀蓮受訪時表示，目前還沒有一個候選人針對如何確保兩岸和平提出具體方法，世界情勢天翻地覆地變化，沒有一個政策應該墨守成規，應該要與時俱進。請問：關於歷年來兩岸關係的演變，下列敘述何者正確？ (A)目前兩岸仍是漢賊不兩立的立場，臺灣主張「反攻大陸」，中國方面則希望「解放臺灣」 (B)美國與中共建交後，臺灣主張「三不政策」，中共強調「三民主義統一中國」 (C)中共與美國建交前，對臺提出「三通四流」 (D)確保臺灣主權獨立，維護兩岸和平是當前的走向。
- 18.()下列何種作為對於增進臺灣的族群和諧有實質的意義？ (A)明訂原住民語言為官方語言 (B)避免與中共接觸，以免被其分化 (C)消弭所謂閩南、客家、外省與原住民的文化差異 (D)尊重原住民的地位並保障其政治參與。
- 19.()益全是個鐵道迷，對於臺灣鐵道的歷史發展倒背如流，隨便瞄一眼，就知道下面關於鐵道敘述，正確的選項為何？ (A)臺灣最早的鐵路為劉銘傳規劃臺北到臺中的路線 (B)北迴鐵路為十大建設的項目之一 (C)臺灣西部縱貫鐵路電氣化為日治時期完成 (D)南迴鐵路為十大建設的項目之一。
- 20.()媒體報導：「臺灣缺乏長遠與整體規畫，石化廠、儲槽與市民、購物中心共同生活，石化原料穿越高雄市精華地帶。2014 年高雄大氣爆爆出臺灣經濟與都市發展的大矛盾，昔日十大建設變成了今天高雄市民大夢魘，滿布地下的管路，有如不定時炸彈。但貿然停止地下管路，仁武、大社馬上面臨停工危機，光是拆除管路不能解決問題，臺灣應該跟上國際潮流，讓石化業遠離人群，建立一貫化的專區，集中管理。」請問上述報導提出的問題，應與十大建設中哪個項目關係最密切？ (A)大造船廠

(B)核能發電廠 (C)縱貫鐵路電氣化 (D)石油化學工業。

21. ()辰豪跟同學研究網路購物，辰豪阿公好奇走近一看，剛好看到螢幕出現右圖畫面，喚起他的童年回憶，阿公開始跟辰豪發牢騷：「在我小的時候，窮得要命，家裡什麼都買不起，不像你們這麼好命，還可以網路購物…。」請問：辰豪阿公的童年回憶最有可能是下面哪個時期？

(A)1940 年代 (B)1980 年代
(C)1970 年代 (D)1950 年代。



22. ()桃園國際機場（英語：Taoyuan International Airport，IATA 代碼：TPE；ICAO 代碼：RCTP），是位於中華民國桃園市大園區的國際機場，距臺北市區約 35 公里，為臺灣國際航空樞紐，現由桃園國際機場公司經營。啟用時以前中華民國總統蔣中正之名冠名為中正國際機場，2006 年 10 月改為現名。2019 年度的總旅客吞吐量超過 4,868 萬人次，無論面積或運量上，均是臺灣最大的民航機場。請問該機場建置的時代背景為何？ (A)臺灣推動產業升級經濟行轉型 (B)保護國內工業發展 (C)推動土地改革提高農業生產 (D)推行基礎建設以發展重工業。

- 23.()附表是某些年分臺灣佃農每年每公頃收益統計，表中的數字演變反映出政府的哪一項政策？

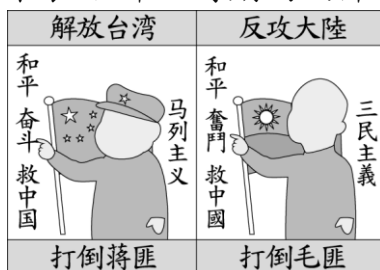
年代	佃農稻穀收益數
1948 年	1,947 公斤
1949 年	2,788 公斤
1953 年	3,991 公斤
1968 年	6,925 公斤

(A)推動十大建設，帶動國內景氣復甦 (B)興修水利工程並提高農會功能 (C)推動六年經建計畫以振興農業 (D)國民政府推動土地改革政策。

- 24.()1992 年 4 月 26 日：由環境保護聯盟發起的「四二六反核大遊行」，下午在臺北市開走。而近年來，隨著環保意識抬頭，臺灣更多次進行一連串的抗爭活動，例如反六輕、反核四等社會運動。請問：這些抗爭最早在何時成為臺灣人記憶的一部分？

(A)1980 年代 (B)1970 年代 (C)1960 年代 (D)1950 年代。

- 25.()以庭繪製了附圖中的兩幅海報，這可用來表示哪一時期的兩岸關係？



(A)民國 38-68 年 (B)民國 68-76 年 (C)民國 76-97 年 (D)民國 97-112 年。

- 26.()隨著臺灣的經濟發展，臺灣的電力來源已經由火力取代水力發電，然而臺灣雖然產煤但幾乎不產石油，火力發電的燃料需仰賴進口，而當時因為□，為了確保能源的穩定供應以及更大的發電量以支持發展中的臺灣，國民黨政府決定興建核能發電廠來因應需要。請問□應該填上下列何者？ (A)中華民國退出聯合國 (B)中華民國與美國斷交 (C)八二三炮戰的爆發 (D)國際油價居高不下。

- 27.()承上題，該核能發電廠，位於下哪個地區？ (A)屏東縣恆春鎮 (B)新北市石門區 (C)高雄市小港區 (D)高雄市前鎮區。


- 28.()臺灣曾實施某個土地改革政策，要求地主保留水田三甲或旱田六甲，其餘則由土地債券、公營事業股票予以替換徵收，但有研究顯示，當年高達 7 成共有地所有權人的土地面積在 1 甲以下，卻因政府定義被視為「地主」，結果被迫交地給另一人，好些原所有者因此輕生、發瘋。請問這個土地改革政策為何？又在何時實施？ (A)公地放領，民國 40 年代 (B)耕者有其田，民國 50 年代 (C)土地收歸國有，50 年代 (D)耕者有其田，民國 40 年代。

- 29.()2016 年總統就職典禮中的國歌，由屏東縣地磨兒國小合唱團、屏東希望兒童合唱團以改編的排灣族古謠，與景美女中、南投高中拔河隊所唱的國歌巧妙組合，天籟般的歌聲和創新的編曲贏得滿堂喝采，許多人甚至感動落淚。蔡英文也在講稿中強調：「就職典禮上，原住民族的小朋友在唱國歌之前，先唱了他們部落傳統的古調。這象徵了，我們不敢忘記，這個島上先來後到的順序。」下列關於原住民族在各時期的稱呼，何者為非？ (A)日治時期稱為平埔族與高砂族 (B)民國 50 年代稱為原住民族 (C)清領時期稱為生番或熟番 (D)民國 40 年代稱為山地同胞。

- 30.()近二、三十年來，我國政府以經濟實力為後盾，積極爭取參與國際組織與活動的機會，並派遣各種

技術團隊協助友邦。我國政府此舉的用意為何？ (A)阻撓中共外交發展 (B)增加有機糧食生產量 (C)解決因糧荒而造成的難民問題 (D)拓展我國發展的國際空間。

- 31.()下列哪些措施，使得臺灣在 1960 年代能較其他發展中國家搶先一步取得吸引外資的有利地位？
(A)縱貫鐵路電氣化 (B)加工出口區的設置 (C)加入 APEC (D)新竹科學工業園區的成立。
- 32.()「高雄加工區」是臺灣第一個加工區，年設立後替臺灣經濟貢獻良多，在臺灣傳統產業外移及產業轉型下，楠梓加工區及高雄加工區在 2021 年同步更名為科技產業園區。經濟部加工出口區管理處 2022 年舉辦年終記者會，處長楊伯耕指出，今年全臺園區成長績效亮眼，公司數成長 4%達到 750 家，營業額、貿易額、出口數、員工數皆創歷史新高，全年營業額將首破新台幣 5 千億元，員工數達 9 萬人，高雄「加工出口區」盛況再現。請問下面哪個時段最適合填入？
(A)1950 年代 (B)1960 年代 (C)1970 年代 (D)1980 年代。
- 33.()「某位總統在聲明中提及：『中華民國不論在任何情況下絕對不與中共政權交涉，並且絕對不放棄光復大陸，與解救同胞的神聖任務，這個立場絕不會變更。』在國民黨中常會中，談話更進一步演成三不政策。」請問：這是哪位總統為了因應何種變局所作出的政策？ (A)李登輝，中國成立海協會 (B)蔣中正，中國武力解放臺灣的宣示 (C)陳水扁，中國進行飛彈試射 (D)蔣經國，中國改採和平統戰。
- 34.()昱辰到大陸旅遊時遇到了糾紛，回臺灣後，她可以向哪個單位尋求協助？ (A)國務院臺灣事務辦公室 (B)大陸委員會 (C)海峽兩岸關係協會 (D)海峽交流基金會。
- 35.()2002 年年底，臺灣發生一連串假米酒事件……，由於米酒價格偏高，導致不肖商人製造、販賣危害健康，甚至奪去人命的廉價假酒。事實上，臺灣的米酒價格在 2001 年時一瓶僅 21 元，但 2002 年起即暴漲約 7 倍。請問：造成此種現象的原因為何？ (A)中華民國與美國斷交，造成通貨膨脹嚴重 (B)稻米大量減產，米價升高，進而帶動米酒價格暴漲 (C)全球疫情導致物價提高 (D)臺灣加入世界貿易組織。
- 36.()素蘭是辛家老二。成績很好，可惜在大專聯考前得了瘋癲。辛先生極力籌錢給女兒看病，素蘭在家人的照顧下漸漸好了起來。後來素蘭到訓練班學打字認識了朱同學，朱同學在得知素蘭患病的情況下仍屢次提出要娶素蘭，辛先生便同意把女兒嫁給他。本以為辛家的苦難就此結束，可素蘭婚後被丈夫虐待，瘋癲再次發作。辛嫂得知把素蘭接回了家，辛家再次面對苦難。辛先生拐了腳、家中重擔落到長子，素蘭也無好轉跡象，終日只會唱〈素蘭要出嫁〉的歌謠。上述為小說《素蘭要出嫁》的概要，該本小說書寫的背景為，臺灣面對外交挫敗掀起鄉村尋根運動，主題皆以以小人物及其生活為主，用俗言方音描述人物百態，蘊涵批判意識。請問《素蘭要出嫁》這本小說，最可能是下列哪個年代的作品？(A)民國 40 年代 (B)民國 50 年代 (C)民國 60 年代 (D)民國 70 年代。
- 37.()臺灣的經濟發展，是以農業發展為根基，以農業來培養工業。請問：下列何項經濟政策的實施，是臺灣經濟型態逐漸由農業轉變為以工業為主的關鍵時期？ (A)進口替代 (B)出口導向 (C)十大建設 (D)產業升級。
- 38.()附圖為臺灣某一時期的經濟建設，圖中的院長是領導此建設的關鍵人物。請問：這位院長應該是下列何人又擔任哪個職務？



- (A)蔣中正，行政院長 (B)蔣經國，立法院長 (C)李登輝，立法院長 (D)蔣經國，行政院長。
- 39.()中國大陸公布 2023 年的「十一」長假可以連休八天，從 9 月 29 日放到 10 月 6 日，請問因為 10 月 1 日可以連休這麼久的原因為何？ (A)中國共產黨建黨紀念日 (B)中華民國建國紀念日 (C)中華人民共和國建國紀念日 (D)毛澤東誕辰紀念日。
- 40.()當臺灣面對中共的和平統戰威脅，採取「三不政策」加以回應。請問：「三不政策」的內容為何？
(A)不統一、不交流、不通話 (B)不通航、不通郵、不通商 (C)不接觸、不通商、不妥協 (D)不接觸、不談判、不妥協。
- 41.()芮芮跟家人到臺灣的戰地前線觀光，參觀了當地著名的鋼刀廠，看到老闆示範切割廢棄炮彈的彈殼、鍛造鋼刀等過程，還一邊解說這些廢棄炮彈可做鋼刀，是因為這裡曾經發生一場戰役，在短短的 44 天內就遭受 47 萬 4 千 9 百餘發的炮彈轟炸。根據上文，臺灣的戰地前線之所以會被轟炸，是因為政府遷臺初期，兩岸關係處於下列何種情況？ (A)政治對峙 (B)談判協商 (C)經貿交流 (D)武力對抗。

- 42.()美國搖滾巨星貓王艾維斯普里斯萊 Elvis Presley 於 1977 年 8 月 16 日猝逝，當時消息震驚全球，然而他的音樂和藝術成就持續影響，許多經典歌曲也在串流發燒，共超過 10 億收聽次數，總長度相當於 4 千年的時間。在臺灣和美國最高的點擊金曲正式經典情歌《Can' t Help Falling in Love》，總次數超過 9 千萬次。請問民國 50 年代，美國文化在臺灣如此盛行的原因，不包含下列何者？
(A)美援協助臺灣 (B)美國加入越戰、駐臺美軍驟增 (C)臺灣實施經濟開放政策造成的影響 (D)中華民國政府只允許美國文化傳入。
- 43.()在美國與中華民國斷絕邦交之後，美國通過哪一文件以保持和臺灣之間經貿及文化關係的法源依據？
(A)《臺灣關係法》 (B)《反分裂國家法》 (C)《中美共同防禦條約》 (D)《國家統一綱領》。
- 44.()隨著經濟發展，城市容易吸引就業人口，遂形成人口集中都市的現象。城市容易吸引人口集中的原因不包括下列哪一項？ (A)教育資源多 (B)空氣清新 (C)就業機會高 (D)便捷的大眾運輸。
- 45.()2022 年第 59 屆金馬獎將於 9 月 27 日下午 5 點半公布入圍名單，頒獎典禮將會在 2022 年 11 月 19 日於臺北國父紀念館舉行。今年值得期待的電影有改編自真實事件的恐怖片《咒》、張孝全主演的《罪後真相》、柯震東《黑的教育》、周興哲主演的《我吃了那男孩一整年的早餐》等等，請問下列關於金馬獎的描述，何者為非？ (A)金馬兩字源自於金門、馬祖兩地的字首 (B)為使電影界效法國軍精神、復興中華，而命名金馬獎 (C)金馬獎提名僅限臺灣電影及臺灣演員 (D)金馬獎已成兩岸文化交流的重要場域。
- 46.()1990 年代以後，臺灣參加了哪些國際組織，使臺灣經濟進一步邁向自由化與國際化？
(甲)亞太安全合作會議；(乙)世界衛生組織；(丙)亞太經濟合作會議；(丁)世界貿易組織
(A)甲乙 (B)丙丁 (C)甲丙 (D)乙丁。
- 47.()1954 年，臺灣與美國簽訂《中美共同防禦條約》，美國正式將臺灣納入哪一區域的反共防衛體系？
(A)東南亞 (B)東亞 (C)南亞 (D)東北亞。
- 48.()麥寮鄉公所接受中央社記者訪問表示，台塑六輕廠區敦親睦鄰基金從民國 99 年起每年發給每名麥寮鄉親 7200 元，用以補貼健保費、家庭用電費，只要是在 99 年以前設籍麥寮，或是購屋且設籍滿 2 年及房屋所有權人配偶、直系血親都可申領。請問：政策的決定，代表何種議題的抬頭？ (A)教育 (B)文化 (C)環境 (D)外交。
- 49.()有一篇新聞報導寫道：「4 月份，國民黨退伍老兵何文德等人自發組織了「外省人返鄉探親促進會」，向政府要求返鄉探親。在當年的母親節，上萬老兵上街以「母親節遙祝母親」的名義，在國父紀念館舉行集會。看著這批與他出生入死的老部屬晚景淒涼，□無限感慨，他屢次要求退輔會主動關心退伍老兵的需求，禁止採取武力驅離的方式對付這些老兵。晚年的□希望盡速解決探親問題，除了歷史使命感之外，還有種時不我與的深切緊張；他對自己身體健康情形悲觀，也讓他覺得時間所剩無多。同年，□宣布開放大陸探親，打破臺海冷戰僵局，開啟兩岸交流之門，造福近 40 萬老兵。」請問□最適合填上何人？ (A)蔣經國 (B)李登輝 (C)陳水扁 (D)馬英九。
- 50.()臺灣派駐外國的農技團歷史悠久，在此期間歷經機構演變，合作地區與國家擴增、合作項目增加，乃至於技術團隊整併等，然而國際農業合作乙項發展至今仍是我國對外援助工作最重要的一環，其資源分配超過 5 成，主要係因與我合作之友邦國家農業在其 GDP 之佔比仍高，對各國經濟發展仍扮演相當重要之角色，因此，我國之國際農業合作是順應此種事實在執行。由於農業科技日新月異，展望未來，本項合作模式亦必須與時俱進，除加強人才培育建立完整援外人才庫，加強新科技之運用，如精準農業、遙測技術、大數據、區塊鏈及人工智慧 (AI) 之推動等，並掌握援外發展趨勢，符合永續發展目標之執行，讓我國之援外國際農業合作得以永續經營。請問：這應該是屬於何種外交型態？
(A)鞏固外交 (B)統戰外交 (C)彈性外交 (D)務實外交。