

題組題(每小題2分，共50題)

一、印度的電影產量世界第一，一年可產出 1,000 部電影，一天超過 1,000 萬觀眾進戲院看電影。電影對印度人來說是重要的休閒活動，也常能體現印度的社會現況。請閱讀下方的電影介紹。回答下列問題：

片名： <u>三個傻瓜</u>
故事大意：傳統的印度社會總認為子女未來當工程師或醫師，人生才是成功，主角們雖就讀頂尖理工學校，卻為自己興趣夢想努力的故事。

- ( ) 1.電影裡，主角們就讀的頂尖理工學校，其實是參考相當知名的印度理工學院而來。印度政府為了進一步扶植高科技產業，將航太總部設立在某城市，經過數十年努力耕耘，該城市也成為全印度的資訊科技中心。文中所提及的「某城市」最可能為下列何者？(A)孟買 (B)新德里 (C)邦加羅爾 (D)瓦拉納西。
- ( ) 2.印度除了積極培養高科技人才外，還有哪些優勢吸引美國企業與之合作？(甲)工資低廉 (乙)基礎建設完善 (丙)可通行英文 (丁)動力資源充足 (A)甲乙 (B)乙丙 (C)丙丁 (D)甲丙。

片名： <u>來自星星的傻瓜 PK (PK)</u>
故事大意：一名外星人來到地球並和一名記者成為朋友，對種種宗教迷信表示質疑。

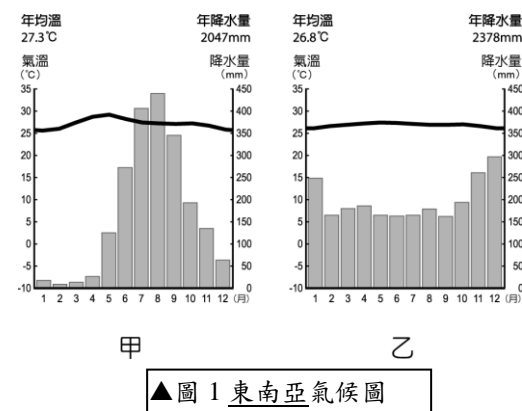
- ( ) 3.南亞各國家的主要宗教信仰不同，以下何者配對正確？(A)印度-天主教 (B)孟加拉-印度教 (C)不丹-佛教 (D)斯里蘭卡-伊斯蘭教。
- ( ) 4.南亞宗教的多元，雖有助於文化的多樣性，但卻也造成哪兩個國家衝突不斷？(A)印度-巴基斯坦 (B)孟加拉-巴基斯坦 (C)不丹-尼泊爾 (D)斯里蘭卡-馬爾地夫

片名： <u>我和我的冠軍女兒 (Dangal)</u>
故事大意：主角 <u>瑪哈維亞</u> 訓練兩位女兒 <u>吉塔</u> 和 <u>芭碧塔</u> 成為摔角選手。

- ( ) 5.吉塔和芭碧塔參加朋友婚禮，發現朋友 12、13 歲就被迫嫁給陌生男人，一輩子操勞繁重家務，才了解爸爸的嚴格訓練是希望她們改變「印度女孩出生就是為了嫁人」的命運。請問：該電影反映印度社會對待不同性別的態度有何差異？。(A)男女平權 (B)重男輕女 (C)重女輕男 (D)人生而平等。
- ( ) 6.印度的憲法雖明定人生而平等，但受種姓制度影響，印度社會還是普遍存有社會階級的制度，這對當今的印度社會造成何種影響？ (A)社會穩定 (B)經濟發達 (C)人才不易流通 (D)百姓互相尊重。


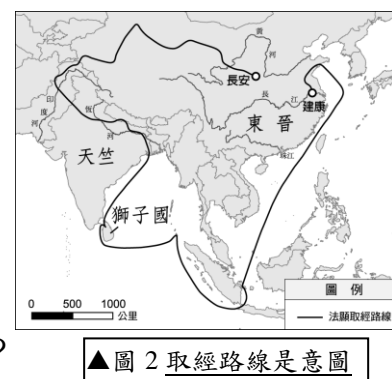
二、東南亞因大部分位處北回歸線至南緯 10 度之間，太陽長年直射，以熱帶氣候為主。甲、乙圖為東南亞某兩地的氣候圖，請回答下列問題：

- ( ) 7.從甲氣候圖中，可以看出該地哪些氣候特徵？甲、全年高溫，四季如夏 乙、屬於溫帶季風氣候 丙、降水季節分布不均 丁、年溫差大，日溫差小 (A)甲乙 (B)乙丙 (C)丙丁 (D)甲丙。
- ( ) 8.甲圖和乙圖最主要的差異是什麼？ (A)年均溫高低 (B)是否有乾季 (C)年溫差大小 (D)降水量多寡
- ( ) 9.乙圖的降水季節分布與臺灣哪個縣市最類似？(A)基隆市 (B)嘉義市 (C)台南市 (D)高雄市



三、法顯是魏晉南北朝時期的和尚，於 399 年從長安（今西安）出發，經由絲路前往天竺（今印度）求法，在天竺居住 10 年後，從恆河往南航行到獅子國（今斯里蘭卡）。413 年，法顯從獅子國返回建康（今南京）。回國後，他將西行取經的見聞寫成佛國記，是現存最早關於中國與南亞海陸交通的文獻。請觀察法顯取經路線示意圖，並回答下列問題：

- ( ) 10.離開獅子國後，法顯最可能又經過了哪個群島？(A)馬爾地夫島群 (B)東印度群島 (C)菲律賓群島 (D)千島群島
- ( ) 11.承第 10 題，該地會出現的天然植被型態與下列哪一張圖所呈現的樣貌最相符？



- ( ) 12.法顯於夏季乘船返回建康，是為了避開冬季的何種盛行風向？(A)東北季風 (B)西北季風 (C)東南季風 (D)西南季風。

#### 四、請閱讀下方文章回答問題：

瓦拉納西是印度著名的歷史古城，享有「印度之光」的稱號。信奉甲宗教的教徒們認為瓦拉納西死去，並在印度人視為「母親之河」的乙河河畔火化，能夠超脫生死輪迴的循環，獲得救贖。此外，他們也相信在這條河川沐浴後，即可洗滌汙濁的靈魂。

然而，由於絡繹不絕的信徒在該河川火化與沐浴，加上其他社會變遷，使河川遭受嚴重的汙染，並威脅居民健康，成為印度當局棘手的公共衛生難題。



- ( ) 13. 根據文中的描述，甲宗教應為何種宗教？ (A)佛教 (B)印度教 (C)伊斯蘭教 (D)基督宗教
- ( ) 14. 「在印度人視為『母親之河』的乙河河畔火化，能夠超脫生死輪迴的循環，獲得救贖。」請問：乙河的名稱應為何？(A)恆河 (B)印度河 (C)湄公河 (D)薩爾溫江
- ( ) 15. 承第 14 題，該條河川汙染嚴重的原因，除了宗教的因素外，還可能與哪些社會變遷有關？(A)經濟衰退 (B)人口增加 (C)牧牛業發達 (D)農業快速發展

#### 五、東南亞國家協會（以下簡稱東協），是東南亞國家組成的區域性國際組織，促進各國經濟上的合作關係


國名	人口數（萬人）	土地面積（千 km <sup>2</sup> ）	人均國民所得毛額（美元）	主要宗教（按比例排名）
甲國	587	0.7	59,590	佛教、基督宗教、伊斯蘭教、道教、印度教
乙國	47	5.7	32,230	伊斯蘭教、基督宗教、佛教
馬來西亞	3,352	329.8	11,230	伊斯蘭教、佛教、基督宗教、印度教
丙國	6,948	513.1	7,260	佛教、伊斯蘭教
丁國	27,512	1,904.6	4,050	伊斯蘭教、基督宗教
菲律賓	11,082	300.0	3,850	基督宗教
越南	10,279	331.2	2,590	佛教、基督宗教
寮國	757	236.8	2,570	佛教
柬埔寨	1,730	181.0	1,530	佛教
緬甸	5,707	676.5	1,390	佛教、基督宗教

（資料來源：美國中央情報局，2021 年；亞洲開發銀行，2021 年）

- ( ) 16. 有關東協十國的資料如附表，請問：甲應該為哪國？ (A)印尼 (B)汶萊 (C)泰國 (D)新加坡
- ( ) 17. 東協十國的宗教信仰多元複雜，除了國際貿易帶來不同的宗教外，也與曾受到西方列強的殖民統治有關，至今殖民歷史仍然影響當地發展。請問：下列哪項東南亞特色與殖民歷史最無關？ (A)大量人民到海外提供勞務 (B)具有天主教信仰及英語等文化 (C)大都市多為鄰近港口的港埠型都市 (D)發展大規模的熱帶栽培業，種植油棕等經濟作物。
- ( ) 18. 東協各國的石油資源多位於下列哪一海域？ (A)紅海 (B)南海 (C)黃海 (D)阿拉伯海。
- ( ) 19. 東協各國之間之所以能彼此協調包容、和平共處，下列哪一個原因最可能是重要背景？ (A)宗教上皆信仰伊斯蘭教 (B)歷史上多數有被占領或殖民的經驗 (C)地形上為彼此相連的大平原 (D)位置上皆濱印度洋，共享海洋資源。

#### 六、彤彤寒假與爸媽到東南亞某國旅遊，行前參考所學的地理教材，旅途中再透過導遊的解說，完成一趟很棒的知性之旅。下方是彤彤的旅遊日記，請回答下列問題：

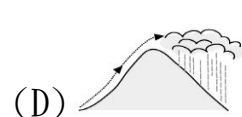
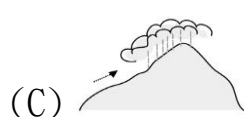
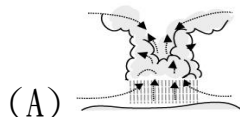
第一天：剛下飛機就可以感受到當地溼熱的天氣，導遊說這裡接近赤道，全年高溫多雨，很常在午後下起雷陣雨。果真吃完中餐後，就下起滂沱大雨，下雨過後天氣也變涼爽了。

第二天：今天早上到首都的伊斯蒂克拉爾清真寺參觀，聽說這是東南亞最大的清真寺！中午到了餐廳吃飯，菜單上有明顯的  圖案，後來發現所有的零食也幾乎都有這標誌呢！

第三天：今天看到了壯闊的火山地形，路邊有一些小販在賣小花束，當地有把花丟進火山口祈福的習俗。愈接近火山口，硫磺的味道會愈來愈重，還可以聽到活火山轟隆隆的聲響。

第四天：回到首都附近後，參觀老城，發現很多歐式的建築，導遊說這個國家曾經為荷蘭殖民地，想到歷史老師說過臺灣也曾經被荷蘭統治過呢！

- ( ) 20. 根據彤彤日記的描述，她可能去哪個國家？ (A)印尼 (B)泰國 (C)菲律賓 (D)新加坡
- ( ) 21. 該國家的主要氣候類型為何？ (A)熱帶季風 (B)熱帶雨林 (C)副熱帶季風 (D)溫帶季風。
- ( ) 22. 若依據氣流的上升原則判斷，該國的降雨成因與下列哪一張示意圖最相符？



- ( ) 23. 有清真標誌的餐廳最不可能出現下列哪種菜色？ (A)椰漿西米露 (B)沙嗲雞肉串 (C)燒烤牛肉串 (D)香煎豬五花
- ( ) 24. 當地火山地形豐富，和哪個因素最有相關？ (A)終年低溫 (B)島嶼眾多 (C)全年有雨 (D)位處板塊交界帶。

七、2021 下半年，不斷傳出台灣人受高薪工作誘騙到柬埔寨詐騙園區，遭到毆打、拘禁、轉賣、限制人身自由。去年東盟峰會前，隨著警方掃蕩，去年底稍微降溫！沒想到國門解封，不法集團似乎又蠢蠢欲動，請問：



- ( ) 25. 柬埔寨位在圖中何處？(A)甲 (B)乙 (C)丙 (D)丁。
- ( ) 26. 許多人因高薪誘惑而受騙，是因為東協國家近年的經濟發展相當迅速，許多外資企業將電子代工廠設置在柬埔寨等東南亞國家。請問：東協國家發展工業的優勢為何？甲、便宜的勞動力；乙、豐富的資源；丙、完善的交通；丁、高科技技術 (A)甲乙 (B)乙丙 (C)丙丁 (D)甲丁
- ( ) 27. 近來因詐騙事件曝光，讓柬埔寨的觀光事業深受影響。請問：下列關於柬埔寨當地的旅遊特色何者正確？ (A)以伊斯蘭教為國教 (B)四季高溫、全年有雨 (C)語言文字以華文為主 (D)迎風搖曳的水稻秧苗
- ( ) 28. 柬埔寨的重要景點吳哥窟結合了當地與印度教文化，此現象的形成與哪一個因素最相關？(A)地理位置 (B)季風風向 (C)地勢起伏 (D)河流流向。

八、東南亞自古深受中國、印度及西亞文化的影響，近代又受西方國家殖民，宗教與生活呈現多元性。圖為東南亞宗教分布圖。請問



- ( ) 29. 圖中甲、乙、丙三地居民主要的宗教信仰為何？(A)伊斯蘭教、天主教、佛教 (B)佛教、天主教、伊斯蘭教 (C)天主教、伊斯蘭教、佛教 (D)伊斯蘭教、佛教、天主教。
- ( ) 30. 「臺灣有許多來自東南亞的國際移工，昔日很多人會以瑪莉亞(Maria)來稱呼這個國家的女性移工，而之所以會有此一說法是因為在二、三十年前，該國家是天主教國家，在當時，幾乎每個出生的小孩，都要接受教會的洗禮，在受洗後，舉辦儀式的天主教會便會賦予『瑪莉亞』作為她們的『First name』，象徵著她們對天主信仰滔滔江水連綿不絕的崇敬。」請問：文中提及被稱為瑪麗亞的國際移工多來自於下列哪一個國家？ (A)泰國 (B)越南 (C)菲律賓 (D)新加坡。
- ( ) 31. 「這個國家的菜色料理非常多元，受到中國影響而有春捲、粽子、河粉等食物，甚至廟內文字也用漢字書寫，也曾受到法國殖民，改以煉乳調味的咖啡配上加入醃蘿蔔、蔬菜以及豬肉的法國麵包，超有飽足感。」請問：文中所述是下列哪一個國家？ (A)越南 (B)印尼 (C)菲律賓 (D)馬來西亞。

九、印尼婆羅洲原本美得像人間天堂，動植物種類繁多，但近年當地林地被濫砍，生態受到嚴重威脅。《國家地理雜誌》攝影師克魯姆說：「地球上最富饒的地方正在縮小，被夷平、被燒毀，只為了單一農作——油棕。」請問：

- ( ) 32. 婆羅洲當地人放火燒林，利用焚燒後的空地和草灰進行耕種，大規模栽油棕，應屬於下列哪一種產業的作物？ (A)稻作農業 (B)綠洲農業 (C)酪農業 (D)熱帶栽培業。
- ( ) 33. 承第 32 題，下列何者不是此產業生產的代表性作物？ (A)橡膠 (B)香蕉 (C)咖啡 (D)小麥。
- ( ) 34. 承第 32 題，此項產業是東南亞國家重要的農業之一，下列何者並非其特色？ (A)出口導向 (B)商業化經營 (C)機械化耕種 (D)市場風險高。

十、根據世界氣象組織的認定，印度東北部的乞拉朋吉保持著全世界連續兩天的最高降水紀錄：西元 1995 年 6 月 15 日和 16 日，當地累計降水 2,493mm。

- ( ) 35. 乞拉朋吉常年多雨、降水豐沛的最主要原因是下列何者？ (A)位居赤道，對流旺盛 (B)居迎風坡，多地形雨 (C)梅雨鋒面，綿綿多雨 (D)熱帶低壓，帶來水氣。
- ( ) 36. 下列何者是為乞拉朋吉帶來豐沛降水的季風風向？ (A)↖ (B)↗ (C)↘ (D)↙。
- ( ) 37. 根據自然環境判斷，乞拉朋吉附近的丘陵最主要經濟作物為何？ (A)小麥 (B)棉花 (C)茶葉 (D)黃麻。

十一、東南亞的湄公河超過一半的航道都在中國境內，中國作為上游的沿岸國，「對下游國家有相當大的影響力」，有鑑於大量人口的生存依賴於湄公河，尋找「替代食物和經濟來源」迫在眉睫。

- ( ) 38. 上述內容與中南半島河川源自中國哪一地形區最有關聯？ (A)橫斷山脈 (B)青藏高原 (C)東南丘陵 (D)嶺南丘陵。
- ( ) 39. 受到地形與殖民歷史影響，中南半島各國的最大都市多分布於下列何種地形？ (A)頂部平坦的高原 (B)流水匯聚的盆地 (C)利於防禦的丘陵 (D)緊鄰海岸的三角洲。
- ( ) 40. 承第 39 題，這些大都市分布於此種地形，最可能的原因是什麼？ (A)避免水患 (B)冬季溫暖 (C)抵禦強盜 (D)利於農業。

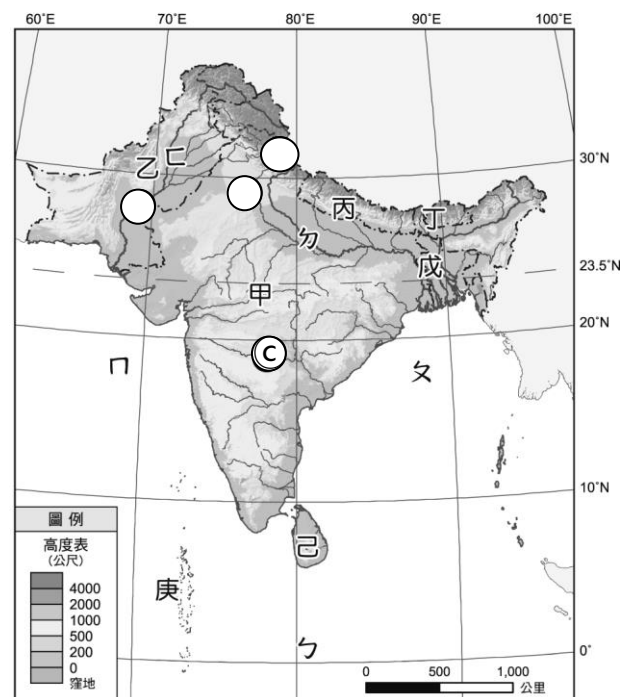


十二、根據西方研究報告指出，東南亞「新興亞洲」與南亞「邊境亞洲」地區正面臨氣候的重大變遷，洪水、乾旱、強烈颱風等天然災害頻仍，印尼發生極度降雨的機率將比現在提高 3 至 4 倍；估計到西元 2050 年時，邊境亞洲區 5 億~7 億人每年約有 20% 的機率可能遭遇熱浪侵襲，亞洲人均 GDP 較低的國家面臨風險最大且貧窮民眾將受害最重。請問：

- ( ) 41. 下列哪一個新興亞洲國家遭受颱風侵襲最頻繁，而導致國家極大的損失？ (A)日本 (B)緬甸 (C)菲律賓 (D)巴基斯坦。
- ( ) 42. 南亞地區哪幾個月因正逢雨季，洪水問題更形嚴重？ (A)11~2 月 (B)3~5 月 (C)4~8 月 (D)6~10 月。
- ( ) 43. 哪一個國家氣候較為乾旱，當地民眾將暴露在嚴重的熱浪侵襲下，受害最嚴重？ (A)越南 (B)印尼 (C)馬來西亞 (D)巴基斯坦。

十三、附圖為南亞地區，ㄅ~ㄎ為水域代號；甲~庚為國家代號；a~d 為地形區代號。請依據附圖的標示，回答問題

- ( ) 44. 部分地理環境特殊的地區常有特有的稱謂，附圖中所指的地區其特有的稱謂最可能為下列何者？ (A)次大陸 (B)東亞橋梁 (C)歐亞陸橋 (D)世界屋脊。
- ( ) 45. 「這個地區是熔岩所形成的古老陸塊，由於地質年代久遠，因此在該地形區的東北部有豐富的煤、鐵等礦產，而肥沃的熔岩風化後形成沃土，尤其西北隅的黑棉土，適合栽種棉花。」文中提及的地區應為下列何者？ (A)a (B)b (C)c (D)d。
- ( ) 46. 在南亞地區若想要見到熱帶風情的珊瑚礁島國景觀，應前往下列哪一個國家？ (A)甲 (B)丙 (C)丁 (D)庚。
- ( ) 47. ㄎ河流域農產豐富，從下游至中、上游，其農作物的類型如何轉變？ (A)棉花→水稻 (B)小麥、雜糧→水稻與黃麻 (C)水稻與黃麻→小麥、雜糧 (D)水稻→茶葉。
- ( ) 48. 承第 47 題，該流域農作物呈現這樣的變化，主要受什麼因素影響？ (A)地形 (B)雨量 (C)人口 (D)土壤。



十四、美國為了抗衡中國提出的「一帶一路」倡議，擴大對中國的戰略圍堵，提出了兩大洋相連的「印太戰略弧」。請問：

- ( ) 49. 美國提出「印太戰略」構想，意圖使哪兩大海域成為穩定與開放的區域？(A)印度洋-大西洋 (B)大西洋-太平洋 (C)印度洋-太平洋 (D)印度洋-北極海
- ( ) 50. 根據圖中所畫虛線(印太戰略弧)來判斷，中國若要以經濟合作提升競爭力突破「印太戰略弧」為目標，最應該與下列哪一個國家合作？ (A)南韓 (B)泰國 (C)孟加拉 (D)巴基斯坦。

