

一、配合題：每題 2 分

1. 下列是臺灣部分行政區的機關名稱，請從答案選項中做正確的配對。(注意題號)

A. 行政機關 B. 立法機關 C. 行政機關之派出單位

() (1) 基隆市議會

() (2) 屏東縣政府

() (3) 臺北市大安區公所

() (4) 恆春鎮民代表會

() (5) 臺灣省政府

() (6) 臺中市和平區民代表會

2. 我國有很多行政區都稱為「市」，請從答案選項中做正確的配對。(注意題號)

A. 直轄市 B. 縣(市) C. 鄉(鎮、市)

() (7) 馬公市

() (8) 臺南市

() (9) 新竹市

() (10) 宜蘭市

() (11) 嘉義市

() (12) 南投市

二、選擇：每題 2 分

13. () 怡如在網路上看到網友分享的投票懶人包圖片，請問：圖中的「投票注意」，是提醒投票人要遵守選舉的哪項原則？(A) 平等原則 (B) 直接原則 (C) 普通原則 (D) 無記名原則。

14. () 新北市全力打造「全臺借書最強卡」，繼 2017 年與基隆市、2018 年與臺北市展開閱讀資源共享的區域合作後，2019 年持續將閱讀服務向南延伸到桃園市，透過四縣市的跨域合作，來營造北北基桃

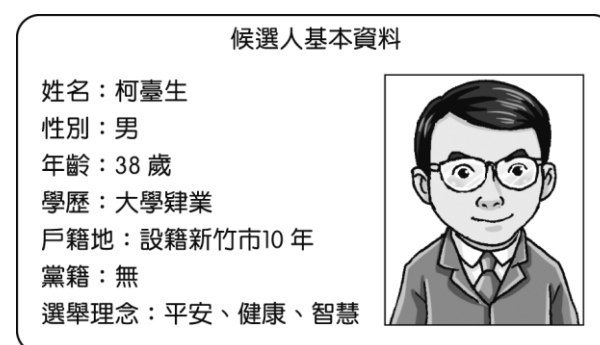
的閱讀生活圈。未來只要透過一張借書證，就可以互相借閱四市圖書，給予民眾 2,000 萬本書的多元選擇，將有近千萬的民眾可受惠。有關該措施所反映出的地方政府職權，下列何者最為正確？(A) 此政策為教育文化項目，是中央政府的權限 (B) 透過跨區域合作的方式，可以擴大圖書資源 (C) 資源共享法律上只限於同一生活圈的北北基 (D) 此為跨縣市的區域合作，需由中央政府推動。

15. () 柯臺生是科技公司的老闆，他為了實現服務社會的遠大抱負，決定投入直轄市市長的選舉。但是當他到選務機關辦理登記時，承辦人員看完他的基本資料後，卻告知他資格不符無法參選。請問：柯臺生是因為哪項資格而無法參選？(A) 沒有政黨推薦 (B) 戶籍設籍未符合規定 (C) 參選年齡未達法定門檻 (D) 學歷未達大學畢業門檻。

16. () 在 2018 年底的大選與公投正如火如荼開票時，竟有網友公然在網路上發文，亮出自己公投圈票的照片，其廢票意圖明顯。該名網友必須了解哪項選舉投票的原則，以免再犯？(A) 普通原則 (B) 平等原則 (C) 直接原則 (D) 無記名原則。

17. () 2013 年，中國提出「一帶一路」政策。至 2019 年 8 月，已有 136 國與其簽署合作文件。澳洲試圖反制中國在太平洋地區的影響力，而未加入此行列，但澳洲國內的州政府卻避開中央政府，私自與中國簽署參與「一帶一路」的諒解備忘錄，澳洲總理對此舉加以批評。請由上述例子判斷，下列何者為中央政府的職權？(A) 辦理社會救助 (B) 舉辦藝文活動 (C) 修建橋梁道路 (D) 與他國簽署條約。

18. () 我國曾有地方行政首長，拒絕進入地方議會列席備詢，最後遭監察院彈劾並移送懲戒法院，記申誡乙次。該地方首長遭監察院彈劾的原因，最有可能是下列哪個選項？(A) 地方議會為地方的



行政機關，負有監督之責 (B)基於立法權對行政權負責，地方首長違反地方制度法 (C)推動地方自治事項的地方政府，應接受議會的質詢及監督 (D)地方首長不進議會，地方政府轄下的鄉(鎮、市)公所無法推動地方業務。

19. ()商業周刊與參玖參公民平臺共同編製「地方財政昏迷指數」，調查顯示苗栗縣負債從 200 多億元增加到 600 多億元，財政狀況是全臺唯一進入「瀕臨腦死」的縣市。腦死定義為「到急迫改革的程度，若不立即重新設定財務策略，或中央政府及時給予援手，該縣市的財務運作將停頓終止。」而縣議員調到一筆「25 年來沒有刪過的預算」資料，才發現預算裡竟然包含「退休公教人員聯誼」等跟縣政無關的項目。根據上述，苗栗縣財政出現問題的主因為何？ (A)苗栗縣自籌財源困難 (B)預算缺乏監督，財政惡化 (C)中央政府統籌分配稅款過少 (D)地方財政必須全額依賴中央支援。

20. ()選舉主管機關官員在發布直轄市市長、市議員選舉公告後提醒：「在選舉公告發布後，從該直轄市轄區內的 A 選舉區遷到 B 選舉區，不具市議員選舉投票權，預防以不正當方式遷戶口，達到一些目的。」為了杜絕上述的情況發生，我國依法採行下列哪項規定來加以預防？ (A)一定要達到 20 歲的法定年齡 (B)投票時必須攜帶身分證及印章 (C)戶籍設立符合法定期間的要求 (D)具有本國出生證明的合法公民。

21. ()志傑在查詢選舉原則時，看到附圖的一段文字敘述。根據敘述，這段文字在說明哪項選舉原則？

基於國民主權原理，具有國籍的公民均應享有選舉權。在此原則支配下，不得以階級、宗教、財產等因素限制人民選舉權，但是基於人民意志的表達，而限制年齡、受監護宣告者的選舉權，仍被允許。

(A)平等原則 (B)普通原則 (C)直接原則 (D)祕密原則。

22. ()附表是三位公職人員的發言內容，就內容判斷，參選各公職人員的最低年齡限制由大到小排序應為何者？ (A)甲 > 乙 > 丙 (B)乙 > 甲 > 丙 (C)丙 > 乙 > 甲 (D)甲 > 丙 > 乙。

甲	我有權任命行政院院長
乙	我會嚴格把關縣府預算
丙	我將推動興建本直轄市公宅

23. ()報載：1920 年美國通過《美國憲法》第十九號修正案，賦予婦女投票權。為慶祝該法案通過 100 周年，華盛頓特區的博物館透過展覽呈現婦女如何爭取投票權的故事。上述內容與下列哪一項選舉原則相關？ (A)普通原則 (B)平等原則 (C)直接原則 (D)無記名原則。

24. ()泱泱當選市長後，發現地方政府已累積嚴重債務，於是設法開拓財源，以減輕財政困難。下表是他的開源措施，其中何者是藉由公共造產方式達成目的？ (A)甲 (B)乙 (C)丙 (D)丁。

項目	內容
甲	聘請藝人擔任觀光大使，帶動人潮
乙	提案立法加重娛樂稅稅率
丙	增設觀光摩天輪，向使用者收費
丁	向中央政府爭取計畫補助

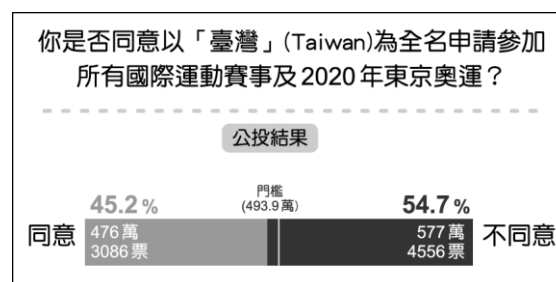
25. ()教育部公告新型冠狀病毒 (COVID-19) 停課標準：「高中以下班級有一名師生確診，該班停課十四天；一校有兩名師生確診，全校停課十四天。」對此，各縣市教育單位積極針對停課補課、輔導及評量方式等，研擬應對措施。請問：教育部和各縣市教育單位的分權方式屬於下列何者？ (A)有限政府 (B)權力分立 (C)均權制度 (D)水平分權。

26. ()每到傍晚，阿光只要一聽到垃圾車的音樂響起，就趕緊出門丟垃圾。「垃圾清運」這項工作，是由下列何者負責？ (A)行政院 (B)立法院 (C)省政府 (D)各地方政府。

27. ()凡事務有因地制宜之性質者，屬於地方權限。請問：下列哪一選項最能看出上述特點？ (A)颱

風來襲，地方政府會視情況來決定是否放假 (B)中央政府制定福利政策 (C)內政部規畫國家公園收百元門票 (D)中央政府修改《教育經費編列與管理法》。

28. () 2018 年舉辦的全國性公民投票案數量為 10 案，附圖為其中某一主題與投票結果，根據內容判斷，下列敘述何者正確？
 (A)未來將以「臺灣」之名參加國際運動賽事 (B)此結果由地方選舉委員會公告 (C)此投票展現間接民主的理念 (D)此議題 2 年內不得再提出。



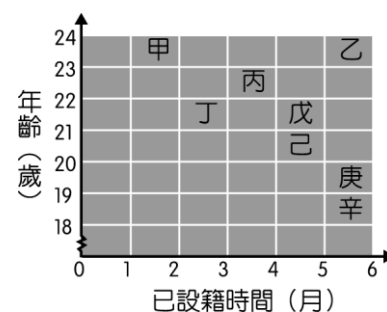
29. () 畢業許久的國中同學舉辦同學會，有幾位剛好都在政府部門工作。請就右表的内容判斷，哪位同學的職務為地方政府首長？ (A)萬福 (B)小哲 (C)阿強 (D)明順。

姓名	職權範圍
萬福	修改《全民健康保險法》
小哲	遭遇急難時發布緊急命令
阿強	通過地方政府的預算案
明順	辦理 covid 疫苗施打

30. () 關於行政機關與立法機關的配對，下列何者正確？ (A)馬公市公所—馬公市議會 (B)嘉義市政府—嘉義市民代表會 (C)屏東縣政府—屏東縣議會 (D)宜蘭市政府—宜蘭市議會。

31. () 小靜去年大學畢業後便出國留學，但今年適逢四年一次的總統大選，為了不想錯過此次選舉，小靜竟然要就讀高中的妹妹小雅代替自己去投票。請問：小靜的做法違反了選舉的哪一項原則？
 (A)直接 (B)無記名 (C)普通 (D)平等。

32. () 對於即將舉辦的民意代表選舉，八位年輕人心中各有支持的理想候選人，右圖是他們在投票日當天的投票資格示意圖。由圖中資訊判斷，下列哪一組人皆能參與投票？ (A)甲、乙 (B)丙、丁 (C)戊、己 (D)庚、辛。



33. () 地方政府的施政與民眾息息相關，下列民眾生活中的大小事，與地方政府的工作項目歸屬，哪些配對是正確的？ (甲)安全衛生—麻疹疫苗施打及疫情防治宣導 (乙)社會服務—為鼓勵生育發放生育津貼 (丙)教育文化—即將畢業的小六生到國中辦理報到 (丁)經濟發展—強震過後，消防隊員進行救災工作 (A)甲乙丙 (B)乙丙丁 (C)甲丙丁 (D)甲乙丁。
34. () 在投票日當天，選民紛紛前往投票所，投下神聖的一票。請問：投票時一定要攜帶下列何者？ (A)印章 (B)護照 (C)國民身分證 (D)投票通知單。
35. () 公民參與選舉時，除了須達法定年齡之外，還要具備其他資格。下列相關敘述，何者正確？ (A)具中華民國國籍者才能投票 (B)被褫奪公權者無投票權 (C)住在國外的公民沒有投票權 (D)受監護宣告者也有投票權。
36. () 透過民意代表代替人民行使權力的制度，有時可能無法完全反應人民的意志，所以許多國家會採取某些措施以補救該項缺失，進而達成「直接民主」的理念。下列哪一項措施最能達成上述目標？ (A)組織人民團體 (B)開放報禁黨禁 (C)落實言論自由 (D)舉行公民投票。
37. () 選舉期間，政府為了端正選舉風氣，不斷呼籲選民要慎重行使手中的選票，要能認清候選人所開的「支票」是不是空頭支票。而上述所說的「支票」是指下列何者？ (A)候選人的政見 (B)期約賄選的款項 (C)所屬政黨的規模 (D)未來將發給選民的生活補助費用。
38. () 小菲剛選上立委，由此可知小菲至少年滿幾歲？ (A)21 歲 (B)23 歲 (C)26 歲 (D)30 歲。

三、題組：每題 2 分

1. 行政院 2013 年 1 月 3 日通過桃園縣升格直轄市案，正式升格為「桃園市」。民政局請民眾配合於升格後，再將「區」字遮蓋於門牌「鄉、鎮、市」上面，以符合升格現況。立法院在 2014 年三讀通過公職人員

選舉罷免法修法，增列直轄市山地原住民「區民代表」及「區長」選舉，以落實保障原住民族政治參與的精神，並積極回應原住民社會意見，享有地方自治權限。

()39. 下列關於桃園市的層級敘述，何者正確？ (A)與新竹縣屬於同一層級的地方自治團體 (B)原鄉(鎮、市)改為「區」後，區長全由市長派任 (C)落實民意政治，原各縣「鄉(鎮、市)民代表會」保留 (D)除了附屬在國立大學下的高中，原本的國立或縣立高中應改為「市立」。

()40. 下列有關直轄市山地原住民區的敘述，何者正確？ (A)享有地方自治團體的地位 (B)區長可以自行決定是否放颱風假 (C)行政機關為區民代表會，立法機關為區公所 (D)區長不是直轄市市長派任，故不用執行市政府的委辦事項。

()41. 住在桃園市的丹丹明年要上高中，他利用假日至想就讀的學校參觀，發現校址由原先的桃園縣桃園市改為桃園市(甲)；學校名稱從國立改為市立，隸屬單位由原先的教育部管轄，改為歸市政府管轄。請問：學校名稱由國立改為市立，與下列哪一政治理念最相關？ (A)地方自治 (B)中央集權 (C)主權在民 (D)五權分立。

2. 阿寶是 15 歲的國中生，家中有熱衷收看政治類新聞的爸爸，喜歡在閒暇時參加社區內的同好會一同討論政治，也會透過社群媒體留言與其他網友互動分享。請問：

()42. 下列哪一選項最適合形容阿寶爸爸？ (A)社區參與程度高 (B)民主素養程度高 (C)政治參與程度高 (D)熱心公益。

()43. 阿寶從小耳濡目染之下對政治也產生了一些興趣，下列何者是他目前適合從事的活動？ (A)參與集會遊行 (B)加入政黨 (C)投票選出市長 (D)成為里長候選人。

3. 滿滿在選前收到一張選舉的文宣，如附圖：

㊦ 選舉我們會有兩張選票

()44. 圖中被墨漬遮蔽的內容應為下列何者？ (A)立委 (B)市議員 (C)總統 (D)市長。

()45. 政黨的政黨票得票比例必須超過多少才能得到席次？ (A)3% (B)4% (C)5% (D)6%。

4. 新聞報導：新竹縣內灣風景區每年有百萬遊客造訪，但老街外圍的公園、步道、公有停車場設施老舊。為改善觀光環境，縣政府擬定計畫，獲得交通部核定補助六成經費，其餘由縣款支應，期望藉此提升觀光產業的發展。請問：

()46. 改善計畫的經費大半來自哪個部分？ (A)中央補助 (B)地方稅收 (C)公共造產 (D)財團捐贈。

()47. 由縣款支應的經費須經哪一機關負責審查通過？ (A)新竹縣政府 (B)新竹縣議會 (C)立法院 (D)新竹市議會。

5. 王大明參加本次公職人員競選，希望在當選之後，能為社會大眾服務。請問：

()48. 依據《公職人員選舉罷免法》規定，王大明尚未達到鄉(鎮、市)長候選人的年齡參選資格。請問：他要參加的公職人員選舉應為下列何者？ (A)議員 (B)直轄市市長 (C)縣(市)長 (D)總統、副總統。

()49. 在公職人員選舉資格的規定中，王大明須設籍於該選區多久以上？ (A)3 個月 (B)4 個月 (C)5 個月 (D)6 個月。

()50. 在候選人登記參選之後，接下來的選舉流程，下列何者正確？ (A)投票→開票、計票→競選活動→公告結果 (B)公告結果→競選活動→投票→開票、計票 (C)競選活動→公告結果→投票→開票、計票 (D)競選活動→投票→開票、計票→公告結果。

一張投給候選人			一張投給政黨		
1	2	3	1	2	3
●	●	●	●	●	●
			政黨 A	政黨 B	政黨 C