

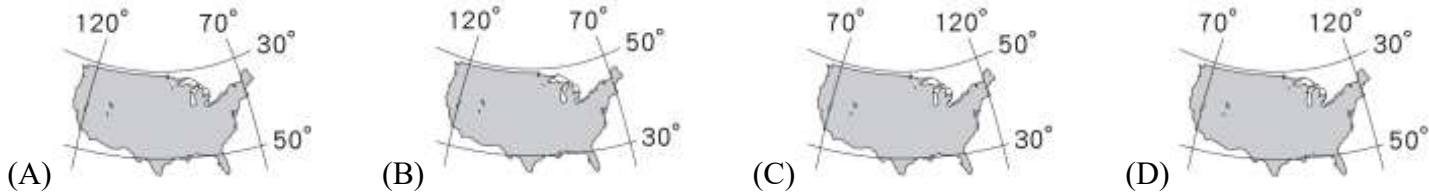
◎單一選擇題：1-25 題，每題 2 分，26-45 題，每題 2.5 分，共 45 題

- 十六世紀以來，北美洲大量接受來自世界各地的移民，使其成為多民族的匯集地。請問：目前北美洲的種族構成中，哪一族群所占的比例最高？(A)歐裔白人 (B)非裔黑人 (C)印第安人 (D)因紐特人
- 美國、加拿大邊境，有著名的五大湖區，請問：五大湖形成的主要原因是下列何者？
(A)火山作用 (B)板塊擠壓 (C)冰河作用 (D)風力侵蝕
- 1906 年，美國舊金山發生芮氏規模 7.8 的強烈地震，死傷慘重。請問，北美洲最容易發生強烈地震的地區，應位在下列何處？ (A)東部丘陵 (B)西部山地 (C)中部平原 (D)東部高原
- 小雨自美國西岸搭飛機至東岸，依序會經過下列哪些地理區？
(A)北美大平原、洛磯山脈、阿帕拉契山脈 (B)阿帕拉契山脈、洛磯山脈、北美大平原
(C)洛磯山脈、北美大平原、阿帕拉契山脈 (D)洛磯山脈、阿帕拉契山脈、北美大平原
- 關於北美洲的農業特色，以下敘述何者正確？
(A)地廣人稀，農作物收成有限，還需仰賴大量進口 (B)單位面積生產量低，以粗放方式經營
(C)糧食作物以自給為主，經濟作物則大量外銷 (D)大規模種植單一作物，並投入大量勞力
- 右圖中的甲地為美國退役飛機存放的地點之一，以便這些飛機做後續的處置與再利用。根據當地的地理環境特色判斷，選擇該地點存放與下列何者關係最密切？
(A)氣候乾燥少雨，避免零件鏽蝕 (B)位在北美大平原上，土地平坦廣闊
(C)位於加州矽谷，維修技術較好 (D)鄰近墨西哥灣，交通便利
- 新聞報導：「一場強力風暴於 12 月 10 日晚間席捲美國地區，分別在 5 個州市引發了至少 24 場龍捲風，各地均傳出嚴重災情。這次龍捲風跨越長度超過 352 公里，是史上路徑最長的龍捲風之一。」
請問：北美洲最容易發生龍捲風的地區主要為何處？
(A)大平原中南部 (B)洛磯山區 (C)太平洋沿岸 (D)五大湖區
- 承上題，這次龍捲風出現在 12 月中且規模較大，較為罕見。請問：北美洲最容易發生龍捲風的季節應該為何？ (A)冬、春之交 (B)秋、冬之交 (C)夏、秋之交 (D)春、夏之交
- 美國加州的葡萄酒業是由近 700 家釀酒廠、數千位葡萄種植業農家所組成，規模龐大。該地區的葡萄種植很需要完善的灌溉系統，主要與下列哪一項自然環境特徵有關？
(A)降雨集中夏季 (B)時常發生水旱災 (C)平原狹小 (D)夏乾冬雨
- 『湯姆歷險記』是一部美國著名的兒童文學小說。故事敘述主角湯姆，經常與朋友們進行冒險旅程。喜歡惡作劇的湯姆常常幻想自己是一位海盜，在密西西比河玩起海盜遊戲。請問：下列有關密西西比河的敘述何者『正確』？ (A)銜接五大湖到大西洋，是航運價值很高的河川 (B)流經美國西南部，切割出雄偉的大峽谷地形 (C)流貫北美大平原，最後注入哈得孫灣 (D)支流眾多，流域廣大，是北美大平原區的天然航道
- 承上題，此河川的流域面積廣大，流經地區也是北美重要的農業帶分布區，但下列哪一個北美農業帶並『不』位於其流域範圍之內？ (A)棉花帶 (B)玉米帶 (C)地中海型農業帶 (D)小麥帶
- 黃石公園是美國第一座國家公園，以溫泉、間歇噴泉聞名於世。會有這樣的自然景觀與下列哪一個事實關係最密切？ (A)位居板塊交接帶上 (B)山地面積比例高 (C)大多位於中緯度地區 (D)多為古老的陸塊
- 右表為北美洲四個沿海城市的經緯度資料，請問：哪一個城市最易遭受颶風侵襲？ (A)甲 (B)乙 (C)丙 (D)丁。
- 從歐洲出發越過大西洋的貨櫃輪船，若想採最短距離航行至北美洲五大湖區，則輪船必須行經下列哪一條河川？
(A)亞馬遜河 (B)聖羅倫斯河 (C)密西西比河 (D)科羅拉多河
- 北美洲的農業經營具備以下哪些特色？(甲)科技化 (乙)市場導向 (丙)少量多樣化作物種植 (丁)集約方式經營 (戊)機械化耕作 (A)甲、乙、丙 (B)乙、丙、丁 (C)甲、乙、戊 (D)甲、丁、戊



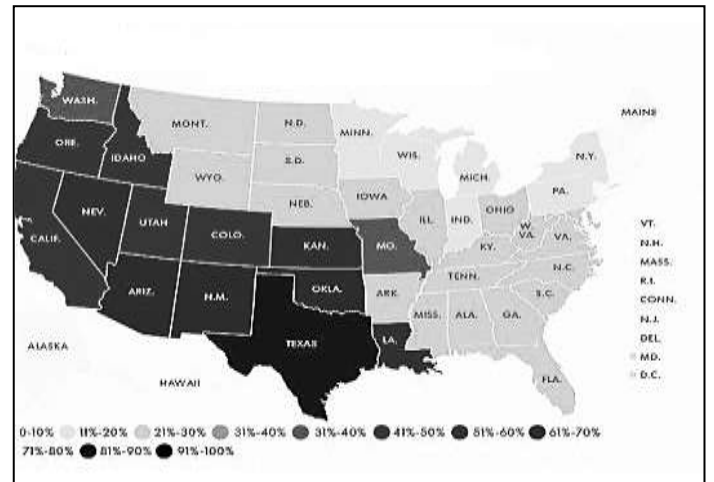

城市	經緯度
甲	34°N, 118°W
乙	30°N, 90°W
丙	47°N, 71°W
丁	49°N, 123°W

16. 下列美國的經緯度位置標示，何者正確？



17. 美國的農牧業活動興盛，產品行銷世界多國賺取外匯。
右圖為美國某年乾旱的影響範圍及程度(顏色越深，乾旱程度越嚴重)，請問當年何種農業帶受到的影響最『小』？
(A)地中海型農業帶 (B)畜牧帶 (C)小麥帶 (D)酪農帶

◎ 下圖為北美洲沿北緯 35 度的緯度位置，所繪製出來的地形剖面圖。甲~戊代表不同的地理區。請回答下列問題：(18-20 題)



18. 箭頭所指的方位應為下列何者？ (A)東 (B)西 (C)南 (D)北
19. 北美洲某個地理區，北部有海灣、湖泊等，地形較零碎，南部為廣大沖積平原。
請問此地理區所在的位置是 (A)甲區 (B)丙區 (C)丁區 (D)戊區
20. 下列關於各地理區的敘述何者正確？ (A)甲地為歐洲移民最早登陸的地區 (B)乙地為板塊交界帶，蘊藏豐富礦產 (C)丙地為聖羅倫斯河沖積而成的平原 (D)丁地為阿帕拉契山脈，為古老陸塊，起伏較小
21. 在美國每 100 公頃的農地只有 1 人耕種，所以美國農人噴灑農藥的工作利用飛機完成，如右圖所示。此種耕種方式屬於下列何種農業類型？
(A)集約農業 (B)粗放農業 (C)放牧業 (D)精緻農業
22. 美國 NBA 籃球隊的命名與自然環境、都市發展特色有關。如「火箭隊」是指此隊位於美國的太空梭發射基地 NASA 所在的城市。請問「火箭隊」位於下列哪一個都市？(A)波士頓 (B)洛杉磯 (C)休士頓 (D)西雅圖
23. 美國『好萊塢』HOLLYWOOD 是世界重要的電影工業地帶，許多知名電影公司聚集於此。
請問：好萊塢位在美國哪一個都市？ (A)波士頓 (B)華盛頓 (C)舊金山 (D)洛杉磯
24. 右圖為美國某都市的著名地標，此都市也是全球金融中心，「華爾街」更是影響世界經貿的核心。請問：此都市為？ (A)紐約 (B)舊金山 (C)華盛頓 (D)芝加哥
25. 美國和加拿大高度機械化種植小麥，收成量大。請問：造成北美洲地區多使用機械耕作的主要原因為何？ (A)政府政策主導 (B)勞動力不足 (C)耕地零碎分散 (D)小麥的生長特性



◎右圖為美國重要都市分布圖，請回答下列相關問題：(26-29 題)

26. 嘉義子弟吳哲民在美國高科技業群聚地創立倍加 (BEZALEL) 公司，其創業團隊在 2013 年研發出無線充電器「Ark」，只要把手機放在上面就可充電。

其創業地點位於圖中何處？(A)甲 (B)丁 (C)戊 (D)己

27. 美國前總統川普在 2017 年 6 月宣布退出「巴黎協定」，根據美國的經濟研究表示，該協定將造成美國工人收入減少，以及經濟衰退等問題。因此退出此協定對能源使用量大的美國傳統工業，如鋼鐵、汽車工業而言，可減少環保費用的支出，是一大利多。請問美國主要鋼鐵工業重鎮位於圖中何處？(A)甲 (B)丙 (C)丁 (D)戊
28. 美國的礦產資源豐富，除了阿拉斯加盛產石油之外，圖中哪一處亦為石化產業重鎮？
(A)甲 (B)丁 (C)戊 (D)己
29. 承上題，該地區石化產業發達，主要是下列哪一個工業區位考量？(A)原料 (B)勞工 (C)技術 (D)市場

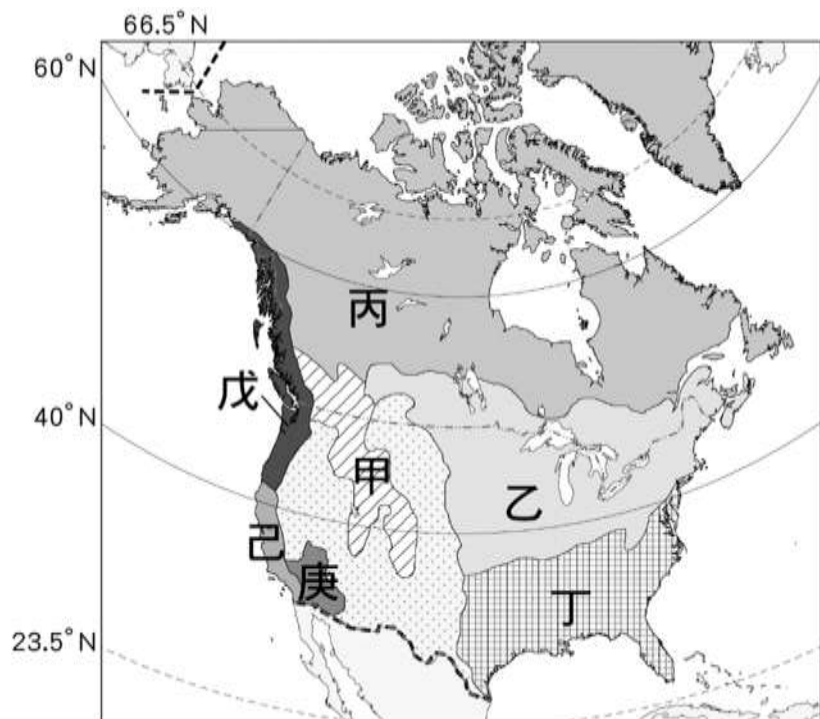


◎美國一直是農、畜產品出口的超級大國。其所出口的小麥，讓美國有『世界麵包籃』之稱；葡萄的產量也近 700 萬噸，也是世界第四大葡萄酒生產國。右圖為美國農作帶分布圖，請回答下列問題：(30-34 題)



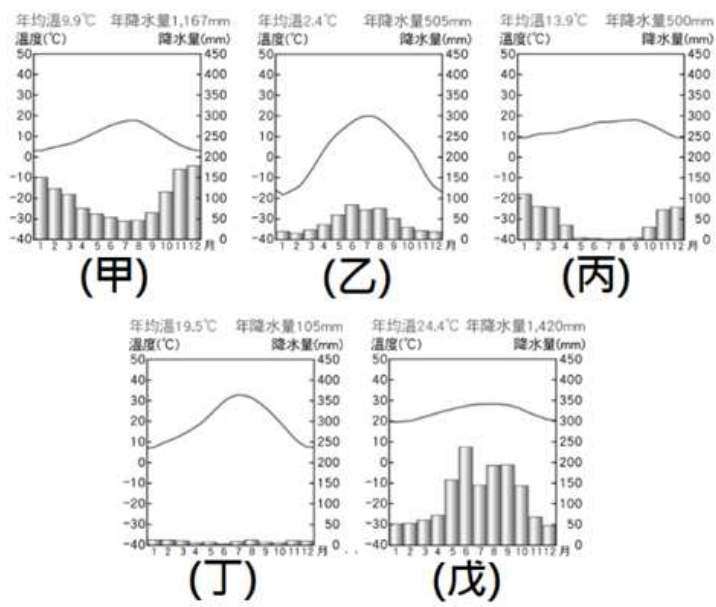
30. 請問美國小麥帶位於圖中那些區域？
(A)辛壬 (B)丙戊 (C)丙丁 (D)乙丁
31. 甲區的產品，以提供都市人口需求為主，因此分布在大都市的鄰近郊區。請問：甲區是哪一個農作帶？(A)玉米帶 (B)副熱帶農業帶 (C)酪農帶 (D)地中海型農業帶
32. 美國早期為了種植棉花的需要，從非洲輸入大量奴工。依據這個背景因素推論，早期的黑人最可能集中於圖中哪一代號區？(A)戊 (B)丙 (C)己 (D)辛
33. 美國大量農牧產品進軍臺灣，其中產地主要在壬區的產品是下列何者？(A)葡萄(B)肉品(C)小麥(D)大豆
34. 李安導演所執導的《斷背山》，敘述兩個牛仔間不為當時世人所認同的感情。在電影中常見大草原及成群的牛、羊，推論拍攝場景最可能為圖中何地？(A)甲 (B)乙 (C)丙 (D)戊

◎下圖為北美洲氣候類型分布圖，請回答下列問題：(35-40 題)



35. 丁地區因緯度較低，且受海洋水氣與暖流影響，氣候暖溼，請問：影響丁地區氣候類型的洋流是以下哪一個？(A)墨西哥灣流 (B)巴西暖流 (C)阿拉斯加暖流 (D)拉布拉多洋流
36. 戊地區氣候溫和，冬季也較同緯度地區溫暖，請問：戊地區冬季溫暖，是受到下列哪一個洋流影響？(A)巴西暖流 (B)墨西哥灣流 (C)阿拉斯加暖流 (D)拉布拉多洋流
37. 降水季節以夏季為主，冬、夏氣溫變化劇烈，年溫差大，冬季受到來自極地的寒冷氣流影響，常有暴風雪襲擊，是圖中哪一個地區？
(A)甲 (B)乙 (C)丙 (D)丁
38. 承上題，下列四個城市中，冬季受到極地渦流通過北極上空的平流層旋轉，再南移至美國，其中哪一個城市位在寒流直撲而來的路徑上？
(A)洛杉磯 (B)休士頓 (C)底特律 (D)舊金山
39. 小語到北美洲遊學，寫下的日記：『搭乘吉普車在沙漠公路奔馳，夜晚在賭城拉斯維加斯觀看知名水舞秀。』，請問：小語所到之處是在哪一個氣候區？(A)甲 (B)乙 (C)己 (D)庚
40. 承上題，小語還去拜訪在西雅圖的表姊，表姊帶她漫步在終年陰雨的街道，朝聖全球第一家星巴克咖啡。請問：由上文敘述，西雅圖應該是位在哪一個氣候區？(A)乙 (B)丁 (C)己 (D)戊

◎下圖甲～戊是北美洲五個城市的氣候圖，分別代表五種不同的氣候類型。請回答下列問題：(41-45 題)



41. 「甲」城市終年有雨，是受到下列哪一種盛行風向的影響？
(A)東南信風 (B)東北季風 (C)西風 (D)南風
42. 「戊」城市位於沿海地帶，則該城市最常見的天氣災害可能為下列何者？
(A)颶風 (B)寒害 (C)暴風雪 (D)乾旱
43. 下列關於「乙」城市的氣候特色，何者正確？
(A)有暖流經過，讓夏季較為溫暖
(B)終年受西風吹拂
(C)夏天容易受到颶風的災害
(D)冬天容易受到暴風雪侵襲
44. 請問「丙」城市 7 月乾燥少雨的原因？
(A)副熱帶高壓帶壟罩
(B)位於盛行風的背風側
(C)沿岸地區有寒流經過
(D)山脈阻擋水氣
45. 佛羅里達州邁阿密的陽光、沙灘、衝浪……，是熱門的渡假景點。
請問：哪一張最有可能是邁阿密的氣候圖？
(A)甲 (B)丙 (C)丁 (D)戊

試題結束