

一、單選題 (60%)

1. 歐亞兩洲陸路相通，長期有著商業與社會交流，亞洲的瓷器與絲綢料等物受到歐洲貴族的喜愛。然而，歐亞間的交易在十五世紀時困難重重，其原因為何？ (A)羅馬公教譴責商人貪婪無度，下令禁止貿易 (B)鄭和下西洋取代原有貿易路線 (C)義大利商人控制路線壟斷貿易 (D)蒙古西征使商業中斷。
2. 聖誕節交換禮物，每位同學須將抽到禮物的原產地進行介紹，請選出正確敘述： (A)力洪：我的香菸原產地是非洲 (B)勁蕾：我的烤玉米是來自美洲 (C)至祥：我的咖啡是來自美洲 (D)傑倫：我的番薯是來自亞洲
3. 印度是一個文化多元的國度，不但有傳統的婆羅門教、佛教、印度教，也有外來的伊斯蘭教與基督教信仰。下圖是印度最熱門的觀光景點，請選出此古蹟正確敘述？ (A)這是英國東印度公司建造的領事館 (B)這是蒙兀兒帝國皇帝的豪華宮殿 (C)這是印度孔雀王朝的佛塔建築 (D)這是伊斯蘭風格的陵墓。



4. 每逢選舉各候選人最喜歡在政見會裡大聲疾呼：「人民是頭家、人民最大……」，請問提出人民有權、政府有能，人民以契約方式授權政府執政的學者是？ (A)洛克 (B)馬丁路德 (C)孟德斯鳩 (D)盧梭。
5. 中國在明、清時期的主要貨幣為白銀，請問白銀流入中國以及流出中國，分別是哪個國家造成的結果？ (A)葡萄牙、英國 (B)英國、西班牙 (C)荷蘭、英國 (D)西班牙、英國。
6. (6.7.8 為題組)十七世紀競爭的國際貿易竟然出現了兩個東印度公司(下方左圖和右圖)，請問個商業組織幕後的大老闆分別是？ (A)葡萄牙、西班牙 (B)西班牙、荷蘭 (C)荷蘭、英國 (D)英國、法國。




V.S.



7. 承上題圖示，左、右兩個東印度公司分別佔領的地區，分別是現在哪個國家？ (A)印尼、印度

(B)印度、印尼 (C)台灣、菲律賓 (D)台灣、印尼。

8. 承上題圖示，這兩個東印度公司其中之一曾經殖民統治台灣，並且留下重要的古蹟熱蘭遮城，請依題目敘述選出正確組合： (A)左圖、赤崁樓 (B)左圖、安平古堡 (C)右圖、紅毛城 (D)右圖、億載金城。
9. 歐洲殖民者強占美洲原住民的土地，建立種植園的同時，肆意屠殺和奴役原住民，使美洲原住民人數銳減，無法為種植園提供足夠的勞動力，為了解決勞動力不足的問題，歐洲殖民者採取以下何種作法？ (A)鼓勵國人移民殖民地 (B)自非洲買進大量黑奴 (C)採取機械化的生產模式 (D)到各國招攬移民前來殖民地。
10. 澳門在明朝中葉後租借給葡萄牙，此後深受該國影響，建築、文化、食物等各方面(例如大三巴牌坊遺跡)，皆呈現不同於中國傳統的風格與特色。請問澳門被葡萄牙租用的背景為何？ (A)受鄭和下西洋宣傳國威影響，產生前往中國貿易熱潮 (B)阿拉伯人揮兵攻擊東南亞國家，威脅葡萄牙殖民勢力 (C)歐洲人嚮往亞洲傳統文化，刻意建立據點以利學習 (D)歐洲國家陸續前往亞洲貿易，建立根據地並相互競爭。
11. 十八世紀以來，許多哲士相信人類對社會的認知不需透過教會，可以透過自身理性加以認知，啟發人們對自身權利保障的追求，更了日後的政治發展。請問：下列何者為其帶來的影響？ (A)科學革命 (B)宗教改革 (C)美國大革命 (D)美國獨立。
12. 大航海時代，歐洲人勇於向海外探險，其原因起於貿易需求，但還有另一重要動機就是傳教熱忱。請問：當時歐洲人所傳布的宗教是下列何者？ (A)基督教 (B)伊斯蘭教 (C)佛教 (D)婆羅門教。
13. 墨西哥國旗中央是一隻叼著蛇的雄鷹立在仙人掌上(如附圖)，這個國徽是來自於墨西哥古文明的傳說，相傳當地原住民在神祇帶領下到達湖上的島，看見一頭鷹棲息於一顆長滿果實的仙人掌上，而在此地建立帝國。請問：上述的傳說最有可能來自哪個文明？ (A)阿利安文明 (B)阿茲提克文明 (C)印加文明 (D)雅典文明。



14.現代隨著網際網路的發達，許多人習慣在網路上蒐集各種資料，作業報告都要請教GOOGLE大神。然而，在啟蒙時代，許多啟蒙哲士共同將知識作系統性的整理，使人們可以更便利的吸收各式新思想，這應該是何人帶來的貢獻？(A)培根 (B)笛卡兒 (C)伽利略 (D)狄德羅。

15.「巧克力的主要原料是可可豆，馬雅人最早將可可豆加水和香料製成飲用，16世紀初被探險家船隊發現並帶回西班牙，西班牙人將可可豆磨成了粉，並加入了水和糖加熱，這種被稱為巧克力，深受歐洲大眾的歡迎。」請問：文中的探險家應為何人？(A)狄亞士 (B)哥倫布 (C)達伽馬 (D)麥哲倫。

16.所有事情的發生都有理由，我們指出理由時就得務必小心，必須先確定原因才能指出原因，必須先確定結果，才能指出結果……我們必須讓人們時時懷疑，並且願意等待……。下列何者最可能抱持此種態度？(A)航海探險家 (B)人文主義學者 (C)天主教會傳教士 (D)啟蒙哲士。

17.地理老師說道：「這是一個四面環海，面積廣大、環境宜人的地方，擁有很多獨特動、植物資源和礦產的美麗國家，但你們知道嗎？這裡也曾是英國流放國內罪犯的地區……」老師所說的應該是下列何地？(A)澳洲 (B)印度 (C)印尼 (D)澳門。

18.某位科學家提到：「作用力和反作用力分別作用在兩個物體上，它們的大小相等、方向相反、作用在同一直線上，且同時消失、同時存在，性質相同，這便是三大運動定律之一。」提出上述主張的人應該會獲得何種評價？(A)科學革命集大成者 (B)最早提出地心說者 (C)最早提出日心說者 (D)三權分立的提出者。

19.這位學者認為：人從感官獲得的信息不一定正確，外在觀察得來的經驗不一定是可靠的，應該採用更加科學的演繹法，通過論證推論得出一個可靠的結論。請問這位學者的想法是受到下列何人的影響？(A)哥白尼 (B)笛卡兒 (C)培根 (D)伽利略。

20.國會殿堂裡立法委員嚴詞厲色批判政府官員的舞弊缺失，即使言論不當亦受法律保護，即「言論免責權」之存在。請問以下哪位學者特別倡議「言論自由」？(A)孟德斯鳩 (B)伏爾泰 (C)盧梭 (D)洛克。

21.啟蒙運動的興盛與下列何者最具直接關聯？(A)地理大發現 (B)文藝復興 (C)宗教改革 (D)科學革命。


22.民國 102 年苗栗縣政府以都市計畫為由，強行徵收人民土地，並利用屋主北上抗議之際強拆民房，導致屋主最後自殺身亡……「張藥房事

件」至今仍被視為政府濫用公權力的案例，請問就啟蒙思想來論斷此案，政府明顯違反啟蒙學者的哪一項主張？(A)主權在民 (B)三權分立 (C)言論自由 (D)天賦人權。

23.科學革命時期研究工具與方法推陳出新，這位學者曾言：「我思故我在」，強調對於天文物理現象需抱持懷疑的態度，才能使定理定律達到無懈可擊的定論，請問此學者與研究方法下列何者正確？(A)笛卡兒的歸納法 (B)培根的演繹法 (C)笛卡兒的演繹法 (D)培根的歸納法。

24.科學革命學者中牛頓可謂是集大成者，他曾謙卑地說：「站在巨人的肩上可以看得更遠」，請問他所謂的巨人，較可能為下列何組？(A)馬丁路德、達文西 (B)莎士比亞、蘇格拉底 (C)哥白尼、伽利略 (D)宙斯、阿波羅。

25.國家地理雜誌出版《旅遊大歷史》新書上市，介紹如下：1492 年的 12/5，歐洲航海家哥倫布率領的船隊首次在南美洲登陸。歐洲人進入美洲意味著動植物、和疾病都會在新舊世界之間流動。這一連串事物的交流，又稱為「哥倫布大交換」。請問哥倫布大交換影響了哪一個海域兩側的世界？(A)太平洋 (B)大西洋 (C)印度洋 (D)南洋。



26.民國初年展開的新文化運動，標榜著學習西方文化裡的「德先生」與「賽先生」，請問其中的「德先生」和西方下列哪一項發展有關？(A)科學革命 (B)工業革命 (C)啟蒙運動 (D)文藝復興。

27.自從歐洲探險船隊陸續抵達美洲後，中南美洲印地安原住民的人口數量，在短時間內以極快的速度減少，其可能的主要原因為何？(A)美洲原住民多移民到歐洲生活 (B)大量販賣到亞洲礦場當苦工 (C)無法抵抗歐洲人帶來的傳染病 (D)人數較侵略者少導致戰敗被殺。

28.為避免專制政治的出現，孟德斯鳩提出行政、立法、司法三權分立的理想政府體制，至今身為多數民主國家採行的制度，請問此理論應出自於哪一著作？(A)《論法的精神》(B)《社會契約論》(C)《政府論》(D)《國富論》。

29.「他身為一位神父，無意挑戰教會的權威，在經過研究之後，卻不得不承認『地球真的是繞著太陽轉』，因而發表了『太陽中心說』。」

以上敘述為何人的事蹟？ (A)哥白尼 (B)笛卡兒 (C)培根 (D)牛頓。

30. 中國在明、清時期政治社會安定且糧食作物充足，因此“人口明顯激增”，請問這個現象應與哪一史實有關？ (A)歐洲科學革命創造許多新物種，使食物更多元 (B)啟蒙運動興起，使統治者更重視民生經濟 (C)傳教士帶來先進的民主思想，刺激中國皇帝政治改革 (D)地理大發現引進新物。

二、題組 (40%)

- (一) 2021.12.10 尼加拉瓜政府宣布與我斷交，並與中共建交；這是該國二度與我斷交第一次為 1985 年，並於 1990 年復交。對此外交部發布聲明，全面停止雙邊合作及援助計畫，撤離大使館及技術團人員，請就以上新聞快報回答下列問題：



31. 請問尼加拉瓜的原住民是？ (A)阿利安人 (B)毛利人 (C)印度人 (D)印地安人。
32. 請問尼加拉瓜的宗教信仰是？ (A)伊斯蘭教 (B)天主教 (C)基督教 (D)婆羅門教。
33. 大航海時代最早前往該地區殖民的國家是？ (A)葡萄牙 (B)西班牙 (C)荷蘭 (D)英格蘭。
34. 尼加拉瓜曾經是哪一個古文明的主要區域？ (A)馬雅文化 (B)印加文化 (C)阿茲提克文化 (D)希臘文化。
35. 以物產來說，那樣物產最可能是原產於尼加拉瓜？ (A)可可亞 (B)咖啡 (C)小麥 (D)甘蔗。

- (二) 近代英國、法國發展歷程中，民主與科學成就領先群倫，奠定了兩國近代及現代強國基礎。請回答下列問題：

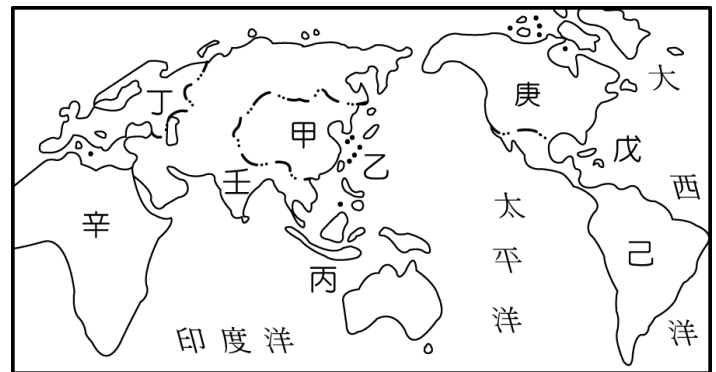
36. 英國皇家學會(Royal Society)是英國資助科學發展的組織，成立於 1660 年，期間造就出科學菁英，請問下列哪組歷史人物皆是英國人？ (A)培根、牛頓 (B)笛卡兒、哥白尼 (C)笛卡兒、牛頓 (D)培根、狄德羅。
37. 法蘭西科學院為法國政府培育科學研究人才之官方學術機構，同時法國也是啟蒙思想重鎮，期間啟蒙哲士人才輩出，請問下列哪組歷史人物皆是法國人？ (A)牛頓、孟德斯鳩 (B)笛卡兒、盧梭 (C)培根、洛克 (D)笛卡兒、洛克。
38. 英法兩國於十九世紀積極向亞洲地區發展，兩

國曾聯手發動對清朝的戰爭，戰爭結果影響台灣的歷史發展，請問是哪件史實？ (A)台灣建省 (B)台灣進行西化現代化 (C)開港通商 (D)政府廢除度台禁令。

39. 英法兩國在東南亞地區積極擴張且各有斬獲，尤其是從清朝手中奪取藩屬國，請問英、法佔領地區分別是？ (A)新加坡、台灣 (B)泰國、朝鮮 (C)馬來西亞、印尼 (D)緬甸、越南。
40. 最早展開尋找新航路的葡萄牙、西班牙，請問當初哪一項商品是最大的誘因？ (A)白銀 (B)咖啡 (C)馬鈴薯 (D)香料。

- (三) 北星國中畢業旅行決定不惜重金，招待全畢業生出國旅行兩個星期，大家開始討論旅行地點，請依照右上方地圖代號回答問題：

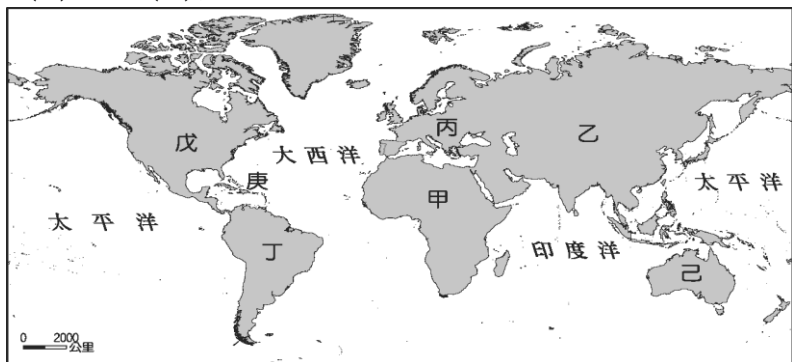
41. 阿明對於神秘的古印加馬丘比丘相當著迷，請問他探險的“目的地”是地圖上哪個代號？ (A)戊 (B)己 (C)庚 (D)丙。
42. 阿章十分嚮往淒美浪漫的泰姬瑪哈陵，請問是在地圖上哪個代號？ (A)甲 (B)丁 (C)辛 (D)壬。
43. 小玲對於VOC叱吒風雲感到興趣，請問VOC總部是地圖上哪個代號？ (A)乙 (B)丙 (C)丁 (D)壬。
44. 阿源對於黑奴貿易感到忿忿不平，請問黑奴貿易的路線應該是？ (A)庚→乙 (B)壬→辛 (C)甲→辛 (D)辛→庚。
45. 小惠最喜歡高檔絲綢以及瓷器，請問她應該安排去哪裡血拚？ (A)甲 (B)乙 (C)丙 (D)丁。



※還有 46~50 題在第四頁，請繼續作答

(四) 西元15~16世紀歐洲人積極進行海外探險活動，不斷以貿易、傳教等手段持續向海外殖民，請依下方地圖回答問題：

46. 哥倫布所發現、認定的「亞洲」，其實是地圖上的哪一區？ (A)甲 (B)乙 (C)己 (D)庚。
47. 曾經是英國海外殖民地，並且淪為流放罪犯的蠻荒之地，請問在地圖哪區？ (A)甲 (B)丁 (C)戊 (D)己。
48. 西班牙人海外殖民活動，摧毀了阿茲提克文明，請問位於地圖上哪一區？ (A)丁 (B)戊 (C)己 (D)庚。



49. 麥哲輪船隊由歐洲向西行進，為了尋找香料群島客死異鄉，請問麥哲倫航海路線是下方地圖哪一路線？ (A)甲 (B)乙 (C)丙 (D)丁。
50. 達伽馬代表葡萄牙的航海勢力已成功抵達印度，請問達伽馬航海路線是下圖哪一路線？ (A)甲 (B)乙 (C)丙 (D)丁。

