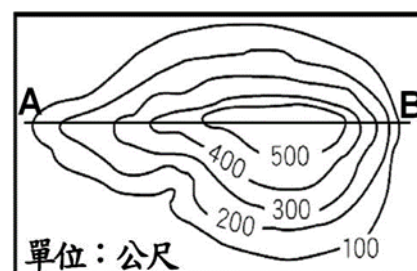
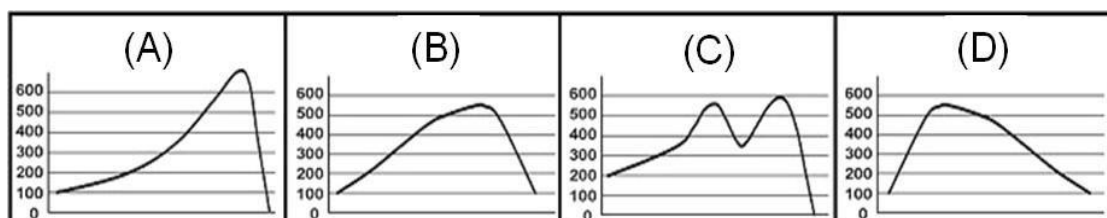


嘉義市立北興國中 110 學年度第一學期第二次段考一年級地理科試題卷

※單選題(每題 2 分，共 50 題)

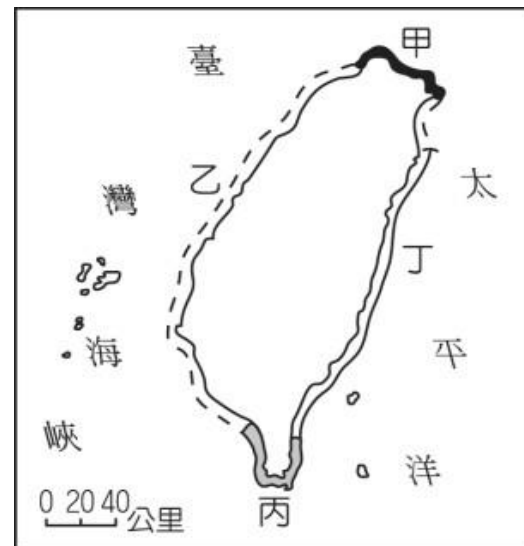
- 臺灣的五大地形中，以哪種地形所占的面積最大？
(A) 山地 (B) 盆地 (C) 平原 (D) 丘陵。
- 內營力與外營力共同營造、刻畫地表景觀，請問下列何者不屬於外營力？
(A) 河流的搬運 (B) 風力的侵蝕 (C) 河流的堆積 (D) 板塊運動。
- 臺灣位於板塊交界帶，在內、外營力相互作用下，地形豐富多樣。近年來，自行車運動盛行，政府以及民間單位規畫了許多自行車步道以及高難度挑戰路線。右圖中，哪段自行車路線的相對高度最大，最具挑戰性？
(A) 甲 (B) 乙 (C) 丙 (D) 丁。
- 臺灣島的脊梁，對東西交通產生極大的阻隔，也是東、西部河川的分水嶺是何者？
(A) 玉山山脈 (B) 雪山山脈 (C) 中央山脈 (D) 阿里山山脈。
- 台灣的登山運動起源甚早，1971 年國內登山專家考量、因應民間日益頻繁的登山活動，便制定了「台灣百岳」一表，表中羅列台灣一百座 3,000 公尺以上最佳的登山山峰，也標示其所在縣市。請問下列哪一縣市不會出現在百岳表當中？
(A) 南投縣 (B) 花蓮縣 (C) 嘉義市 (D) 新竹縣。
- 判斷地形的種類通常需考慮地勢高低及坡度起伏的狀態，然而下列哪一種地形較不需要參考這些要素，只要依其型態即可判斷？
(A) 盆地 (B) 高原 (C) 平原 (D) 山地。
- 宣虎家在一個叫「內海仔」的地方，由此地名可猜想，此種地形像是一種被包圍的海域範圍。依據地名判斷，宣虎家所在的地方曾經是何種地形？(A) 潟湖 (B) 地塹 (C) 岬灣 (D) 峽谷。
- 台灣的丘陵地區做為農地使用時，往往開闢成梯田的景觀，請問下列哪一解釋最不合理？
(A) 梯田的水平線條與等高線相似 (B) 減緩水土流失 (C) 有利蓄水種稻 (D) 方便魚塭開闢。
- 落山風是冬季時台灣南部恆春半島的特色，當東北季風翻過○○山脈下滑時，造成強烈陣風，請問上述的○○山脈應該為何？ (A) 雪山山脈 (B) 中央山脈 (C) 海岸山脈 (D) 玉山山脈。
- 「台 11 線」是臺灣一條聯絡花蓮縣、臺東縣沿海城鎮的省道，俗稱花東海岸公路。如果從花蓮出發，沿台 11 線前往台東，在你的左側和右側，將分別觀賞到那些景觀？
(A) 海岸山脈、太平洋 (B) 太平洋、海岸山脈 (C) 中央山脈、太平洋 (D) 太平洋、中央山脈。
- 洪班長的旅遊日記寫著：「到了這裡下車後，映入眼中的是陡峭的山嶺與峭壁。我覺得呼吸困難和寒冷，使身體感到不舒適。」此時洪班長所到的地點可能是下列哪種地形區？
(A) 山地 (B) 丘陵 (C) 平原 (D) 盆地。
- 造成陽明山國家公園擁有豐富地熱、溫泉的特色，與下列哪項因素最相關？
(A) 四面環海 (B) 地狹人稠 (C) 地質年代久遠 (D) 地處板塊接觸帶。
- 分析臺灣多地震的原因，主要和臺灣島的哪一項位置特性關係最為密切？(A) 東北季風和西南季風的交替位置 (B) 海洋與大陸的交會位置 (C) 北回歸線的通過位置 (D) 菲律賓海板塊和歐亞大陸板塊的接觸位置。
- 地形分層設色圖中，綠色通常用來表示哪一種地形高度？
(A) 平原 (B) 丘陵 (C) 台地 (D) 山地。
- 根據右圖的等高線地形圖，所繪製出來的地形剖面圖可能的形狀，最類似下列哪一張剖面圖？



16. 臺灣目前人口最為密集的地區，主要分布在哪些地形？
 (A)盆地、臺地 (B)平原、盆地 (C)山地、丘陵 (D)平原、臺地。
17. 八卦台地的礫石層紀錄了河川沖積的證據，也同時說明下列哪一種地形為台地的前身地形？
 (A)沙洲島 (B)潟湖 (C)三角洲 (D)沖積扇。
18. 美蘭想要繪製一張臺灣島的地形分層設色圖，他應以下列哪種地圖為底圖，最為適切方便？
 (A)地形剖面圖 (B)等高線地形圖 (C)衛星雲圖 (D)經緯線圖。

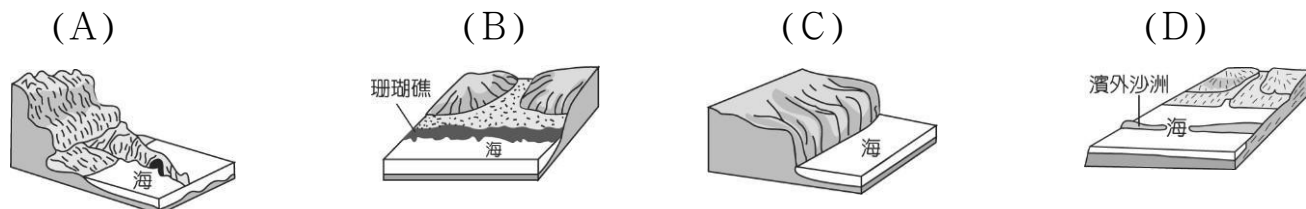
※題組一 海岸通常依據構成物質分成沙岸、岩岸，請問：

19. 「沿岸珊瑚礁廣布，海底熱帶魚類及各式珊瑚群生，因深具觀光、遊憩、生態保育及環境教育價值而成立國家公園。」以上所描述的是圖 1 哪一段海岸？
 (A)甲 (B)乙 (C)丙 (D)丁。
20. 北門井仔腳瓦盤鹽田是臺灣現存歷史最悠久的鹽田，因人工短缺及成本過高，在西元 2000 年時廢曬，後來濱海國家風景區管理處復育鹽場，找回舊鹽工，繼續生產天日鹽，也成為沿海地區的熱門旅遊景點。請問：上文中的沿海地區應該位於圖 1 中何處？
 (A)甲 (B)乙 (C)丙 (D)丁。

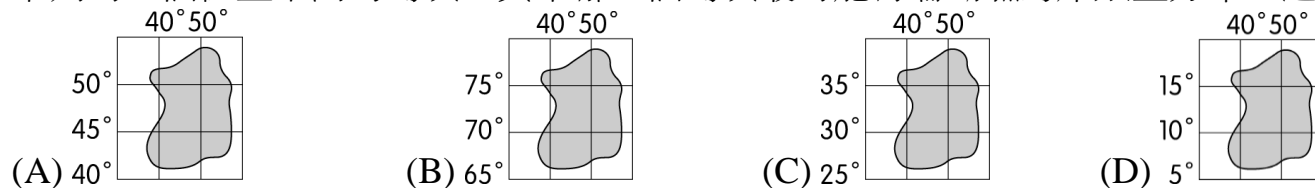


(圖 1)

21. 承上題，此處海岸適合發展鹽業的地理環境為何？
 (A)海水較深 (B)全年有雨 (C)海岸曲折 (D)海岸平原遼闊。
22. 「清水斷崖以接近 90 度的角度緊臨太平洋，公路蜿蜒曲折，一邊是懸崖峭壁，一邊是茫茫大海，形勢險峻，令人膽戰心驚，嘆為觀止。」根據上文判斷，此景應屬於圖 1 中何者？
 (A)甲 (B)乙 (C)丙 (D)丁。
23. 地理老師講解海岸地形與地名由來的相關性，提及到海岸地形中，常會出現三貂角、野柳岬、澳底等地名，清楚說明當地海岸地形的特徵—曲折蜿蜒，請問：此種海岸類型應是下列何種海岸地形？

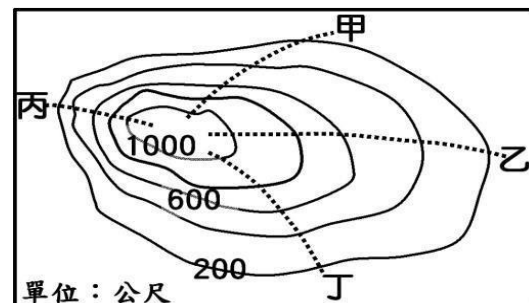


24. 下列為四個位置不同的島嶼，其中哪一個島嶼最可能有珊瑚礁海岸類型分布，適合發展潛水活動？



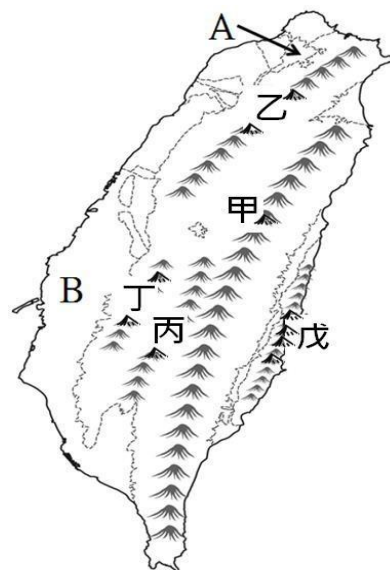
※題組二 等高線地形圖是表示地形時，最常使用的方法之一，請問：

25. 右圖為郊區某山地的等高線地形圖，有甲、乙、丙、丁四條登山路線，請問地勢最為陡峭的是哪一條路線？
 (A)甲 (B)乙 (C)丙 (D)丁。
26. 請問此山地的最高處高度可能為多少公尺？
 (A)1000 (B)1199 (C)1299 (D)1399。
27. 請問右圖中，等高線的高度間距為多少公尺？
 (A)400 (B)100 (C)150 (D)200。



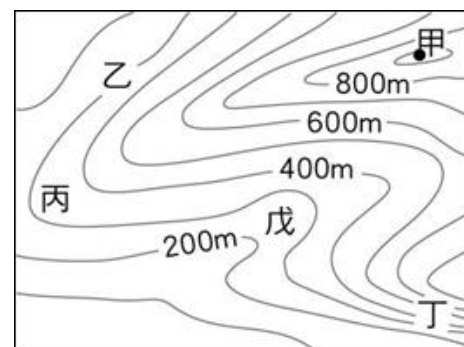
※題組三 右圖為臺灣地形簡圖。請依據右圖回答下列問題：

28. 蔣渭水高速公路通車後，大大的縮短了台北到宜蘭的距離，請問這條公路主要貫穿了圖中哪一座山脈？(A)甲 (B)乙 (C)丙 (D)丁。
29. 圖中 A 地的地形應最接近下列哪一張等高線示意圖？
(A)甲 (B)乙 (C)丙 (D)丁。
30. 分層設色圖是將不同高度範圍的區域著上不同的顏色，請問圖中 B 地形區最有可能塗上什麼顏色？
(A)咖啡色 (B)橘色 (C)黃色 (D)綠色。
31. 暑假小花和家人到台東參加鹿野高台熱氣球的活動，車子奔馳在花東縱谷平原上，此時兩側所看到的山脈最可能為圖中哪兩座山脈？
(A)甲戊 (B)甲乙 (C)乙丁 (D)丁戊。



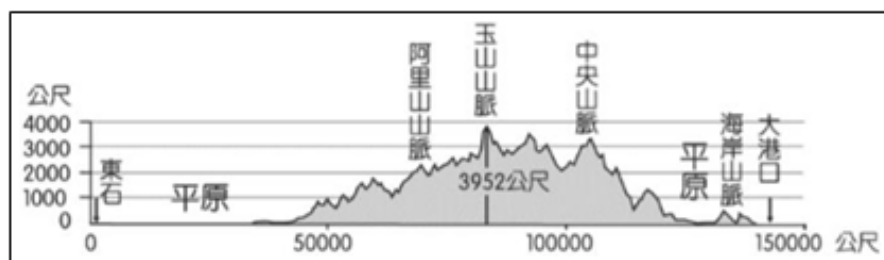
※題組四 右圖為臺灣某一地區的等高線地形圖。請回答下列問題：

32. 請問右圖中甲地高度可能為何？
(A)900m (B)1000m (C)950m (D)850m。
33. 承上題，由右圖判斷，哪點所在的地方可能有河流經過？
(A)乙 (B)丙 (C)丁 (D)戊。
34. 由圖判斷，圖中何處的坡度最陡？(A)乙 (B)丙 (C)丁 (D)戊。
35. 由圖判斷，何處可能為山脊所在？(A)乙 (B)丙 (C)丁 (D)戊。

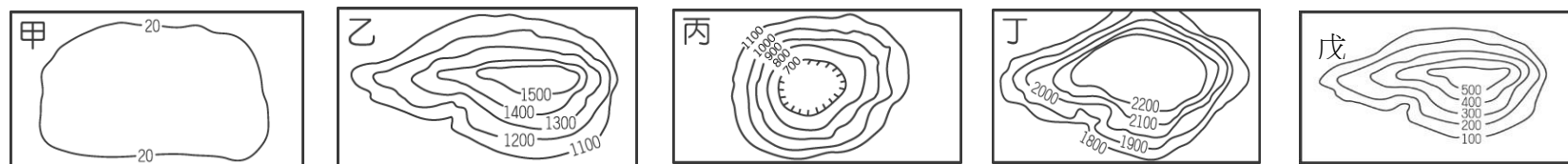


※題組五 右圖為臺灣地形剖面圖之一。請問：

36. 根據此張剖面圖所呈現的資料判斷，其剖面線最有可能與哪一條經緯線重疊？
(A)22°N (B)23.5°N (C)25°N (D)120°E。
37. 圖中的東、西部平原依序應為下列何者？
(A)嘉南平原、花東縱谷平原 (B)蘭陽平原、屏東平原 (C)花東縱谷平原、嘉南平原 (D)屏東平原、蘭陽平原
38. 此張剖面圖的繪製步驟，首先必須在哪一種地圖上畫出剖面線？
(A)分層設色圖 (B)等高線地形圖 (C)航空照片圖 (D)地形立體圖。



※題組六 全世界的地形大致分為山地、高原、丘陵、平原和盆地等五大基本類型。以下為五大地形的等高線地形圖，請問：



39. 臺灣本島缺乏上圖中哪一類地形？(A)乙 (B)丙 (C)丁 (D)戊。
40. 承上題，台灣缺乏該類型地形的主因為何？
(A)四面環海 (B)板塊擠壓 (C)面積太小 (D)氣候濕熱。
41. 哪一類地形地勢最平坦，通常為人口集中的地區？(A)甲 (B)乙 (C)丁 (D)戊。
42. 「滿山遍地的五月雪—油桐花主要生長於中低海拔山區，在苗栗以北一帶的客家庄尤其茂盛。」根據上述，下列哪種地形最可能見到油桐花盛開的景象？(A)甲 (B)乙 (C)丁 (D)戊。
43. 丙地形夏天容易悶熱，主要原因為何？(A)地勢平坦 (B)人口眾多 (C)山地環繞 (D)緯度較低。

※題組七 臺灣四面環海，周邊離島共有 80 多個，涵蓋各種不同類型的島嶼，因此觀光資源相當豐富。右圖為臺灣周邊主要島嶼分布狀況。請根據此圖回答下列問題：

44. 台灣離島中有許多面積很小，如南沙群島，為何周圍國家要爭取這些島嶼的主權？

(A)經濟海域 (B)利於農耕 (C)雨水豐富 (D)景觀優美。

45. 台灣周圍大多數離島，都是火山活動所形成的火山島。請問：這主要與台灣的哪一項地理特徵有關？

(A)位於板塊交界帶 (B)有北回歸線通過 (C)中央山脈縱貫南北 (D)位於颱風行經的路線上。

46. 「2010 年 9 月中國漁船進入釣魚臺海域捕魚，遭日本政府扣押，再度引發釣魚臺主權爭議，而我國政府亦召開記者會，宣示釣魚臺列嶼是我國固有之國土。」上述島嶼是右圖中的何者？

(A)甲 (B)庚 (C)乙 (D)戊。

47. 下列哪一個島嶼上可以看到近代國共戰爭遺跡、中國閩南式的建築，同時該區域在 1995 年設立為國家公園？

(A)甲 (B)庚 (C)乙 (D)戊

48. 圖 2 為島嶼成因示意圖，請問上圖中哪座島嶼的形成原因與圖 2 相同？

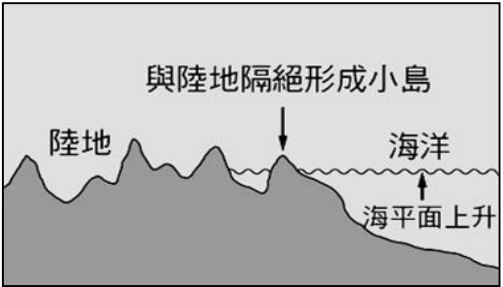
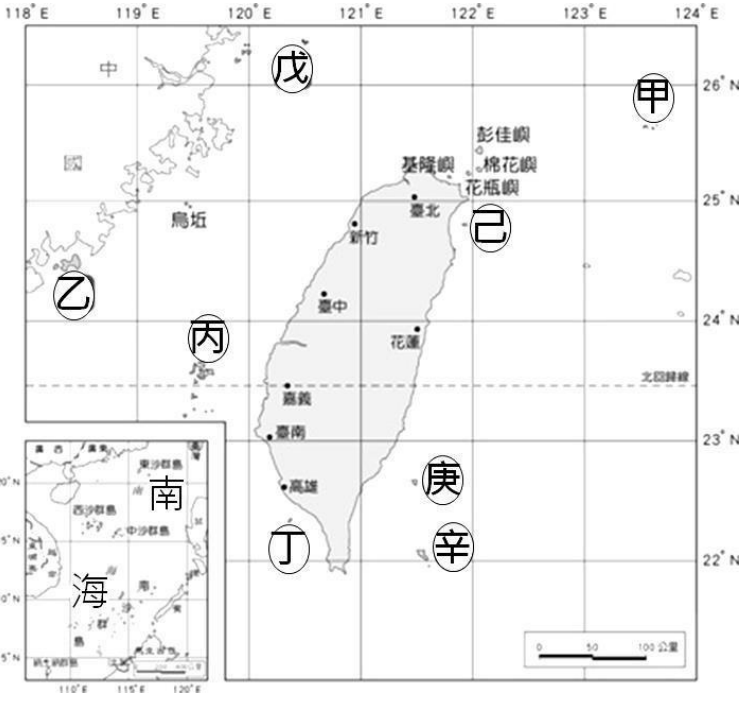
(A)戊 (B)己 (C)丁 (D)丙。

49. 圖 3 為柱狀玄武岩，此景觀會出現在上圖中的哪一地？


(A)甲 (B)丙 (C)庚 (D)乙。

50. 下圖是珊瑚蟲生育條件示意圖。依圖判斷，上圖中哪個離島內最可能有廣大的珊瑚礁地形分布

(A)甲 (B)己 (C)丁 (D)丙。



【圖 2】



【圖 3】



1、海水澄淨清潔的地方



2、水溫一直在 20 度以上的暖海



3、深度在 60 公分以下的淺海